

제 4 교시

사회탐구 영역 (사회·문화)


성명		수험번호					3		
----	--	------	--	--	--	--	---	--	--


1. 밑줄 친 ㉠~㉣과 같은 현상의 일반적인 특징에 대한 설명으로 옳은 것은?


○○대학교 연구팀은 특수 고안한 자기 장치를 이용하여 이른바 ㉠ ‘철새의 자기장 내비게이션’을 증명하는 데 성공하였다. 연구팀은 철새인 ㉡ 개개비의 이동 경로에 자기장 교란 지역을 만들고, 이동 경로에 어떤 변화가 생기는지를 관찰하였다. 그 결과 ㉢ 태양의 위치와 풍향의 변화가 없는 상황에서 개개비는 바뀐 자기장 조건에 따라 경로를 변경하였다. 연구팀은 철새들이 자기장에 따라 반응하며 ㉣ 주변의 자기장 조건을 기준으로 비행한다고 설명하였다.

- ① ㉠은 ㉢과 달리 규범의 지배를 받지 않는 현상이다.
- ② ㉡은 ㉣에 비해 인과 관계가 불분명한 현상이다.
- ③ ㉢은 ㉠과 달리 확률의 원리가 적용되는 현상이다.
- ④ ㉣은 ㉢과 달리 보편성보다 특수성이 강조되는 현상이다.
- ⑤ ㉡, ㉣은 인간의 가치가 개입되어 있다는 점에서 ㉠과 같은 현상과 구별된다.

2. 사회·문화 현상의 연구 방법 A, B에 대한 옳은 설명을 <보기>에서 고른 것은?

 A는 사회·문화 현상의 규칙성을 발견하여 일반화하거나 미래의 결과를 예측하는 데 유용해.

 B는 사회·문화 현상 속에서 인간 행동의 주관적인 의미를 깊이 있게 이해하고자 하는 연구에 적합해.

 맞아. A, B 모두 사회·문화 현상을 과학적으로 연구할 수 있는 방법이야.

<보 기>

ㄱ. A는 B와 달리 경험적 자료를 활용한다.  
 ㄴ. B는 A에 비해 결론의 재생 가능성이 낮다.  
 ㄷ. B는 A와 달리 연구 대상자가 구성해 내는 생활 세계에 초점을 둔다.  
 ㄹ. 일반적으로 A는 귀납적 과정, B는 연역적 과정을 통해 결론을 도출한다.

- ① ㄱ, ㄴ    ② ㄱ, ㄷ    ③ ㄴ, ㄷ    ④ ㄴ, ㄹ    ⑤ ㄷ, ㄹ

3. 사회 조직 (가)~(다)에 대한 설명으로 옳지 않은 것은?

**○○기업 컨설팅 결과 보고서**

○○기업은 그동안 연공서열만을 중시하고, 급변하는 외부 환경에 잘 대응하지 못하는 등 비효율성이 나타나고 있으므로 조직의 운영 원리를 [가]에서 [나] (으)로 변화시켜야 한다. 특히 성과급제와 같은 능력과 업적에 따른 보상 체계를 도입해야 한다.

또한 ○○기업은 구성원들의 친목을 도모하고 사기를 높이기 위해 회사 내 동호회와 같은 [다] 을/를 활성화해야 한다. 이를 통해 직원들은 업무 긴장감과 소외감을 해소하고, 궁극적으로 조직의 효율성을 높이는데 기여할 것으로 기대된다.

- ① (가)는 규약과 절차에 따른 과업 수행을 중시한다.
- ② (나)에서는 비공식적 수단에 의한 통제가 일반적이다.
- ③ (다)는 공식 조직을 배경으로 성립된 자발적 결사체이다.
- ④ (가)는 (나)에 비해 중간 관리층의 역할과 비중이 크다.
- ⑤ (나)는 (가)에 비해 상향식 의사 결정 방식을 강조한다.

4. 밑줄 친 ㉠~㉣에 대한 설명으로 옳은 것은? [3점]

같은 ㉠ 청소년들의 공격 행동과 낚시 활동 사이에 어떤 연관성이 있을지 궁금하여 연구를 시작하였다. ㉡ ○○지역 중학생 691명을 대상으로 하여 ㉢ 낚시 활동 유경험 집단과 무경험 집단으로 분류하여 낚시 경험 유무와 낚시 경력에 따른 공격성의 차이를 조사하였다. ㉣ 신체적·언어적 공격성 측정 검사, 분노 표출 검사를 진행한 결과 낚시 활동 무경험 집단이 유경험 집단보다 그 수치가 더 높게 나타났다. 이를 통해 같은 ㉢ 청소년들의 낚시 활동 경험이 공격 행동 조절에 긍정적 영향을 주는 것으로 결론을 내렸다. 더불어 학교 폭력을 예방하기 위해 ㉣ 낚시 활동 체험을 활용하는 방안을 제안하였다.

- ① ㉠은 독립 변수에 해당한다.
- ② ㉡은 표본 집단, ㉢은 실험 집단에 해당한다.
- ③ ㉣은 종속 변수 측정을 위한 양적 자료를 수집하는 과정이다.
- ④ ㉢에서 가설이 수용되었으므로 연구 결과를 일반화할 수 있다.
- ⑤ ㉣에서는 연구자의 가치가 개입될 수 없다.

5. 사회·문화 현상을 바라보는 (가), (나)의 관점에 대한 설명으로 옳은 것은? [3점]

(가) 과도한 체벌과 같은 가정 폭력은 가족 구성원 간의 유대감 약화로 인해 나타나는 병리적 현상이다. 올바른 부모 역할 습득을 위한 교육 프로그램을 도입하고 가정 폭력에 대해서는 보다 강력하게 법적 제재를 해야 한다.

(나) 각 가정마다 체벌의 의미를 규정하는 방식이나 체벌을 받아들이는 구성원들의 반응은 다양하다. 체벌을 가하는 행위를 어떻게 받아들이느냐에 따라 가정 교육으로 볼 수도 있고, 가정 폭력으로 인식할 수도 있다.

- ① (가)의 관점은 가족 문제 해결을 위해 가족 구성원의 재사회화와 도덕 교육을 강조한다.
- ② (가)의 관점은 가족 문제의 본질이 가족 구성원 개개인이 처한 주관적 상황 정의에 따라 달라진다고 본다.
- ③ (나)의 관점은 가족 간 갈등과 해체를 필연적이고 자연스러운 것으로 간주한다.
- ④ (나)의 관점은 가족 문제 해결을 위해 가족 구성원 간의 고착화된 불평등 관계를 근본적으로 개선해야 한다고 본다.
- ⑤ (가), (나)의 관점은 모두 사회 구조적 차원에서 가족 문제를 바라보고 있다.

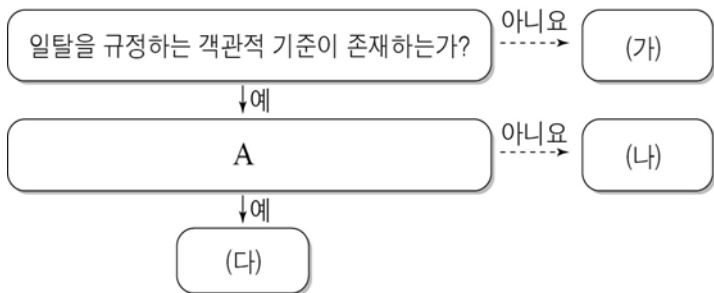
6. 다음 글에 나타난 개인과 사회의 관계를 보는 관점에 부합하는 진술을 <보기>에서 고른 것은?

우리의 삶은 어떤 사건이나 행위로 불규칙하게 배열된 결과가 아니라 정해진 사회의 경향성에 따라 선택된 행동들로 이루어진다. 이러한 사회의 경향성은 우리의 외부에 존재하는 반복적이고 유형화된 틀로서 우리가 할 수 있는 것에 대한 한계를 설정하거나 행동을 강제하기도 한다. 또한, 다른 사람들의 행동 방식을 상당 부분 정확하게 예측할 수 있도록 해준다.

- <보 기> —
- ㄱ. 개인의 성공은 전체 사회의 성공으로 이어진다.
  - ㄴ. 사회는 개인들의 필요에 의해 구성되고 유지된다.
  - ㄷ. 전체를 위한 개인의 희생을 정당화할 우려가 있다.
  - ㄹ. 개인의 행위로 설명되지 않는 사회적 실체가 존재한다.

- ① ㄱ, ㄴ    ② ㄱ, ㄷ    ③ ㄴ, ㄷ    ④ ㄴ, ㄹ    ⑤ ㄷ, ㄹ

7. 일탈 행동 이론 (가)~(다)에 대한 설명으로 옳은 것은? [3점]



- ① (가)는 무규범 상태를 일탈 행동의 원인이라고 본다.
- ② (나)가 아노미 이론이면, A에는 '일탈 행동을 일탈자와의 상호 작용을 통한 학습의 결과로 보는가?'가 들어갈 수 있다.
- ③ (다)가 차별적 교제 이론이면 A에는 '일탈 행동 자체보다 그에 대한 사회적 반응에 주목하는가?'가 들어갈 수 있다.
- ④ A가 '목표와 수단 간의 괴리가 일탈 행동의 원인인가?'라면 (나)는 부정적 낙인이 2차적 일탈을 초래한다고 본다.
- ⑤ A가 '집단 간 이해 관계의 대립이 일탈 행동의 원인인가?'라면 (다)는 (가)와 달리 미시적 관점에서 일탈을 설명한다.

8. 밑줄 친 ㉠~㉣에 대한 옳은 설명을 <보기>에서 고른 것은?

㉠ 장남인 갑은 경영학을 전공하여 아버지의 ㉡ 회사를 이어 받으려 했다. 그러나 ㉢ 대학교에 진학한 후 영화와 연극에 관심을 가지게 되어 ㉣ 진로에 대한 깊은 고민을 하다가 결국 배우의 길을 가기로 마음을 먹었다. 10년이 지난 후 갑은 나라를 대표하는 ㉤ 영화배우가 되었고, 최고 권위의 영화제에서 ㉥ 남우 주연상을 수상하였다.

- <보 기> —
- ㄱ. ㉠은 후천적인 노력으로 획득되는 지위이다.
  - ㄴ. ㉢은 ㉡과 달리 공식적 사회화 기관에 해당한다.
  - ㄷ. ㉢은 두 가지 역할의 충돌로 인해 발생한 갈등 상황이다.
  - ㄹ. ㉤은 ㉤으로서 갑의 역할 수행에 대한 보상이다.

- ① ㄱ, ㄴ    ② ㄱ, ㄷ    ③ ㄴ, ㄷ    ④ ㄴ, ㄹ    ⑤ ㄷ, ㄹ

9. (가), (나)문화에 대한 옳은 설명을 <보기>에서 고른 것은?

(가) 힙스터(Hipster)란, 비주류 문화를 즐기며 자신만의 고유한 영역에 열광하는 젊은이들을 의미한다. 기존 주류 문화에 대한 저항적인 의식을 가진 힙스터는 주류 문화 집단에 의해 자기 과시나 하는 철없는 젊은이들로 인식되기도 한다.  
 (나) 키덜트(Kidult)족은 유년 시절에 즐기던 장난감이나 만화 등에 향수를 느껴 이를 다시 찾는 성인들을 가리킨다. 이들은 동호회 활동 등을 통해 정보를 교류하고 공동으로 상품을 구매하기도 한다. 그래서 최근에는 키덜트족을 겨냥한 다양한 마케팅 전략이 등장하고 있다.

- <보 기> —
- ㄱ. (가)문화는 (나)문화와 달리 반문화적 성격을 띠고 있다.
  - ㄴ. (나)문화는 (가)문화와 달리 해당 집단 구성원들의 소속감을 강화시킨다.
  - ㄷ. (가), (나)문화는 모두 한 사회에서 일부 구성원들에 의해 공유되는 문화에 해당한다.
  - ㄹ. (가), (나)문화는 모두 전체 사회에 문화적 다양성과 역동성을 제공하여 사회 통합에 기여한다.

- ① ㄱ, ㄴ    ② ㄱ, ㄷ    ③ ㄴ, ㄷ    ④ ㄴ, ㄹ    ⑤ ㄷ, ㄹ

10. 표는 갑국의 '중위 소득 대비 최저 생계비'의 변화를 나타낸 것이다. 이에 대한 옳은 분석만을 <보기>에서 있는 대로 고른 것은? (단, 2005년부터 2015년까지 갑국의 최저 생계비는 지속적으로 증가하였다.) [3점]

구 분	2005년	2010년	2015년
최저 생계비 / 중위 소득	1/2	2/5	4/5

\* 절대적 빈곤율: 전체 가구 중 절대적 빈곤 가구(가구 소득이 최저 생계비 미만인 가구)의 비율  
 \*\* 상대적 빈곤율: 전체 가구 중 상대적 빈곤 가구(가구 소득이 중위 소득의 50% 미만인 가구)의 비율  
 \*\*\* 중위 소득: 전체 가구를 소득 순으로 일렬로 배열했을 때 한가운데 위치한 가구의 소득

- <보 기> —
- ㄱ. 2010년에 절대적 빈곤 가구는 모두 상대적 빈곤 가구에 속한다.
  - ㄴ. 2005년부터 2015년까지 절대적 빈곤 가구는 지속적으로 증가하였다.
  - ㄷ. 2005년 대비 2010년에 중위 소득의 50% 증가율은 최저 생계비의 증가율보다 높다.
  - ㄹ. 2015년에는 2010년에 비해 상대적 빈곤율은 감소했고, 절대적 빈곤율은 증가하였다.

- ① ㄱ, ㄷ    ② ㄱ, ㄹ    ③ ㄴ, ㄹ  
 ④ ㄱ, ㄴ, ㄷ    ⑤ ㄴ, ㄷ, ㄹ

11. 밑줄 친 ㉠~㉣을 표의 (가)~(다)와 같이 분류할 때 바르게 연결된 것은? [3점]

갑은 ㉠ 대기업의 부장으로 승진한 뒤 잦은 출장으로 인해 ㉡ 가족과 보내는 시간이 줄어들 정도로 바빠졌지만, 주말마다 ㉢ ○○동 조기 축구회 모임은 빠지지 않으려고 노력하였다. 그러나 오랫동안 활동해 온 ㉣ 시민 단체에는 참석이 어려워져 아쉬움이 크다.

질문	분류	(가)	(나)	(다)
선택 의지로 결합되는가?		예	아니요	예
가입과 탈퇴가 자유로운가?		예	아니요	아니요
공식적 조직 목표와 명시적 규범에 의해 운영되는가?		아니요	아니요	예

- (가) (나) (다) (가) (나) (다)
- ① ㉠ ㉡ ㉢ ㉣      ② ㉠ ㉢ ㉣
- ③ ㉢ ㉠ ㉡      ④ ㉢ ㉠ ㉣
- ⑤ ㉣ ㉢ ㉡ ㉠

12. 밑줄 친 ㉠~㉣에 대한 옳은 설명만을 <보기>에서 있는 대로 고른 것은? [3점]

㉠ 프라이드치킨은 6·25전쟁 이후 미군들에 의해 전해졌다는 것이 일반적인 이야기이다. 미군 부대에서 근무 하던 한국 사람들이 배운 ㉡ 프라이드 치킨 조리법이 알려져 상품화되면서 많은 사람들이 프라이드치킨을 접하게 되었다. 이후 프라이드 치킨뿐만 아니라 우리의 입맛에 맞는 ㉢ 한국식 양념을 첨가한 양념 치킨이 개발되어 사람들의 기호를 충족시키고 있다. 오늘날 국민적 먹거리가 된 ㉣ 치킨은 배달 유통업 및 관련 스마트폰 어플 개발, 관광업 등 산업 전반의 성장에 많은 영향을 끼치고 있다.

<보기>

㉠. ㉠은 강제적 문화 접변의 사례에 해당한다.  
 ㉡. ㉡은 직접 전파를 통해 전해진 물질문화에 해당한다.  
 ㉢. ㉢은 서로 다른 두 문화가 결합하여 새로운 문화를 형성한 사례에 해당한다.  
 ㉣. ㉣은 문화의 각 요소들이 상호 유기적 관련을 맺으면서 전체로서 의미를 갖는다는 속성을 보여준다.

- ① ㉠, ㉡      ② ㉠, ㉢      ③ ㉠, ㉣
- ④ ㉠, ㉢, ㉣      ⑤ ㉠, ㉢, ㉣

13. 자료는 교사가 채점한 형성평가지이다. 이에 대한 옳은 설명을 <보기>에서 고른 것은? (단, A~C는 각각 인쇄 매체, 영상 매체, 뉴미디어 중 하나이다.) [3점]

형성평가

3학년 ○반 ○○○

다음 질문에 해당하는 대중 매체 A, B, C를 쓰시오.

질문	답란
① 가장 먼저 등장한 매체는?	C
② 시청각 정보 제공이 가능한 매체는?	A, B
③ 정보의 재가공이 가장 용이한 매체는?	A

<보기>


㉠. A는 B와 달리 여론 조작의 가능성이 있다.  
 ㉡. B는 C에 비해 정보 전달의 속도가 느리다.  
 ㉢. C는 A에 비해 정보 확산에 있어 시·공간적 제약이 크다.  
 ㉣. A는 B, C에 비해 정보 생산자와 소비자 간 경계가 모호하다.

- ① ㉠, ㉡    ② ㉠, ㉢    ③ ㉠, ㉣    ④ ㉡, ㉢    ⑤ ㉢, ㉣

14. 다음 수업 자료에 대한 설명으로 옳은 것은?

<우리나라의 사회 보장 제도 유형 비교>

특징	유형	(가)	(나)
①		큼	작음
비용 부담		㉠	가입자, 사용자, 국가
종류		㉡	㉢
공통점	금전적 지원 원칙		



- ① (가)보다 (나)가 수혜 대상자의 범위가 좁다.  
 ② (가)는 (나)와 달리 강제 가입의 원칙이 적용된다.  
 ③ ㉠에는 '소득 재분배 효과'가 들어갈 수 있다.  
 ④ ㉡에는 가입자, 사용자가 해당된다.  
 ⑤ ㉢에는 국민 연금, ㉣에는 기초 연금이 들어갈 수 있다.

15. 갑~병이 사용한 자료 수집 방법에 대한 옳은 설명을 <보기>에서 고른 것은? (단, 갑~병은 각각 질문지법, 면접법, 참여 관찰법 중 하나를 사용하였다.)

☆☆교육학회 논문 발표

발표자	논문 제목
갑	북한 이탈 청소년들의 통일 의식에 대한 심층적 이해 (북한 이탈 청소년 6명의 사례를 중심으로)
을	고등학생의 가정 특성과 대학 진학을 간의 인과 모형 (고등학생 1,000명을 대상으로)
병	유아들의 놀이 집단 형성 과정에 대한 문화기술지적 연구

<보기>

㉠. 갑의 방법은 수집된 자료의 통계 처리에 유리하다.  
 ㉡. 병의 방법은 비언어적 자료 수집이 용이하다.  
 ㉢. 을의 방법은 갑에 비해 응답자와 연구자 간 정서적 교감을 증시한다.  
 ㉣. 갑, 병의 방법은 모두 연구자의 주관 개입 가능성이 높다.

- ① ㉠, ㉡    ② ㉠, ㉢    ③ ㉠, ㉣    ④ ㉡, ㉢    ⑤ ㉢, ㉣

16. 다음에 나타난 문화 이해 태도에 대한 설명으로 옳은 것은?

- 단일 민족문화에 대해 자부심이 강한 갑국에서는 이민자에 대한 편견과 차별이 존재한다. 자국 문화를 가장 우수한 문화로 여기는 갑국은 이민자의 의사와 상관없이 자국의 문화를 강요하는 정책을 추진하고 있다.
- 을국 사람들은 충분히 모국어로 대화가 가능함에도 불구하고 A국의 언어를 많이 쓰는 것이 더 지적으로 보인다고 생각하여 이를 과도하게 사용한다. 또한 A국의 문화를 동경하여 그들의 생활양식도 무분별하게 모방하고 있다.

- ① 갑국의 태도는 문화의 다양성 보존에 기여한다.
- ② 갑국의 태도는 자기 문화를 일반화하려는 경향이 강하다.
- ③ 을국의 태도는 자기 문화의 정체성을 유지하는 데 유리하다.
- ④ 갑국의 태도는 을국과 달리 문화를 평가의 대상으로 간주한다.
- ⑤ 을국의 태도는 갑국과 달리 문화 제국주의를 정당화하는 근거가 될 수 있다.

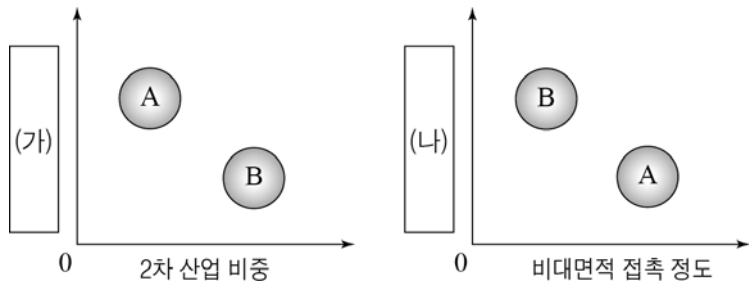
17. 사회 불평등 현상을 바라보는 갑, 을의 관점에 대한 옳은 설명을 <보기>에서 고른 것은?



- <보 기>
- ㄱ. 갑은 균등 분배가 성취동기를 저하시킨다고 본다.
  - ㄴ. 을은 사회 불평등 현상을 불가피한 것으로 본다.
  - ㄷ. 갑은 을에 비해 개인의 귀속적 요인이 사회 불평등에 미치는 영향력을 중시한다.
  - ㄹ. 을은 갑과 달리 사회적 회소가치의 배분 기준이 특정 집단의 합의에 의해 결정된다고 본다.

- ① ㄱ, ㄴ    ② ㄱ, ㄷ    ③ ㄴ, ㄷ    ④ ㄴ, ㄹ    ⑤ ㄷ, ㄹ

18. 그림은 A, B의 특징을 비교한 것이다. 이에 대한 설명으로 옳은 것은? (단, A, B는 각각 산업 사회, 정보 사회 중 하나이다.) [3점]



\* 0에서 멀어질수록 그 정도나 영향력이 큼

- ① A는 B에 비해 가정과 일터의 결합 정도가 높다.
- ② A는 B에 비해 소품종 대량 생산 방식의 비중이 높다.
- ③ B는 A에 비해 직업의 동질성 정도가 낮다.
- ④ (가)에는 '업무 방식의 표준화 정도'가 들어갈 수 있다.
- ⑤ (나)에는 '소비자의 개성화 정도'가 들어갈 수 있다.

19. 근대화를 바라보는 이론 A, B에 대한 설명으로 옳은 것은?

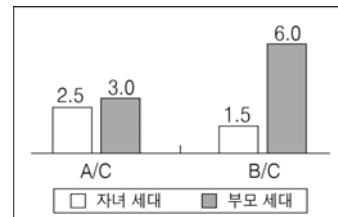
[3점]

서구 사회가 제3세계의 발전 이론으로 제시해 온 A(으)로는 제3세계, 특히 라틴 아메리카 국가들의 발전 문제를 제대로 해결할 수 없다는 인식을 바탕으로 1960년대에 B(이)가 등장하였다. B(은/는) 제3세계 국가가 발전하지 못하는 이유는 국가 내부의 전근대성에 있다는 A의 견해와는 달리 선진국과의 종속 관계, 즉 외부적 요인 때문이라고 본다.

- ① A는 전통적 가치와 근대성은 동시에 성립될 수 있다고 본다.
- ② A는 한 사회의 발전이 다른 사회의 저 발전을 수반한다고 본다.
- ③ B는 근대화 과정이 단선적이고 표준화된 방향으로 진행된다고 본다.
- ④ B는 근대화를 위해 제3세계 스스로의 발전 능력 강화가 필요하다고 본다.
- ⑤ B는 A와 달리 선진국과 제3세계 간의 상호 의존과 협력적 관계 정립이 제3세계의 발전에 기여한다고 본다.

20. (가), (나)에 대한 옳은 분석만을 <보기>에서 있는 대로 고른 것은? [3점]

(가) 부모 세대와 자녀 세대의 상대적 계층비



(나) 부모 세대 계층 대비 자녀 세대의 계층 이동 현황(%)

이동방향 \ 계층	A	B	C
	상승	20	60
하강	20	0	40

\* 모든 부모의 자녀는 1명이다.  
\*\* A, B, C는 각각 상층, 중층, 하층 중 하나에 해당한다.

- <보 기>
- ㄱ. 세대 간 이동으로 다른 계층에서 유입된 비율은 상층과 중층이 같다.
  - ㄴ. 부모 세대 상층에서 자녀 세대 하층으로 세대 간 이동을 한 경우는 없다.
  - ㄷ. 세대 간 상승 이동을 한 사람의 수는 세대 간 하강 이동을 한 사람의 수의 4배 이상이다.
  - ㄹ. 자녀 세대의 계층 중 부모 세대와 계층이 일치하는 비율은 하층에서 가장 높고 상층에서 가장 낮다.

- ① ㄱ, ㄴ    ② ㄱ, ㄹ    ③ ㄴ, ㄷ
- ④ ㄱ, ㄷ, ㄹ    ⑤ ㄴ, ㄷ, ㄹ

\* 확인 사항  
○ 답안지의 해당란에 필요한 내용을 정확히 기입(표기)했는지 확인하십시오.