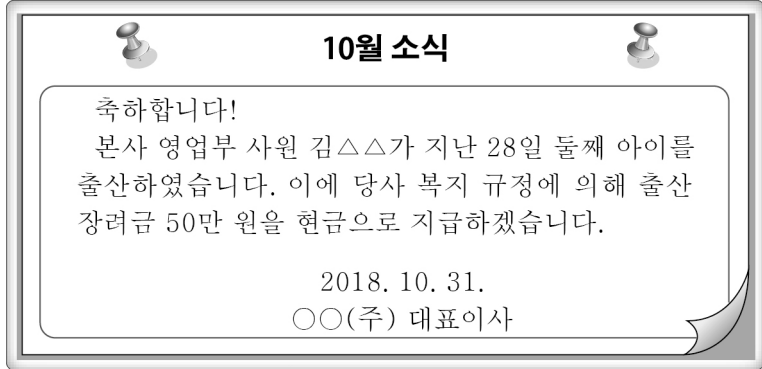
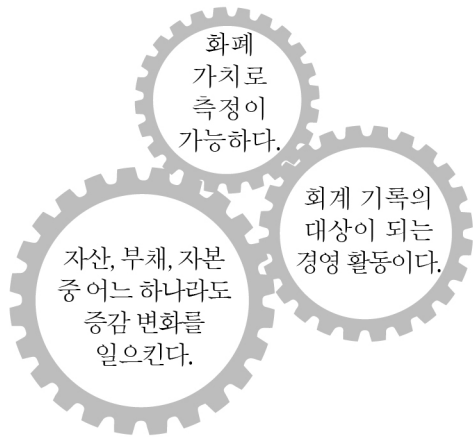


11. 다음 ○○(주)의 사내 게시판에 나타난 거래 내용을 실행하여 분개 하였을 때 차변 계정과목으로 옳은 것은?



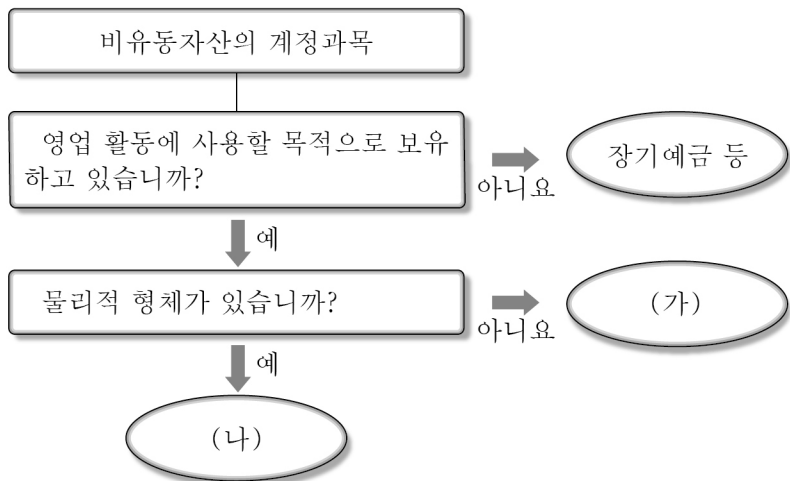
- ① 접대비 ② 광고선전비 ③ 복리후생비
- ④ 세금과공과 ⑤ 여비교통비

12. 다음은 기업의 경영 활동에서 발생한 거래에 대한 분석 내용이다. 이를 모두 충족하는 거래로 옳은 것은?



- ① 현금 ₩100,000을 분실하다.
- ② 상품 ₩200,000을 매입하기로 하고 거래처에 주문하다.
- ③ 소유하고 있는 건물 ₩10,000,000을 근저당으로 설정하다.
- ④ 업무용 창고를 월세 ₩500,000의 조건으로 임차 계약을 하다.
- ⑤ 매월 ₩2,000,000의 급여를 지급하기로 하고 종업원을 채용하다.

13. 다음은 비유동자산에 속하는 계정과목을 분류하는 과정이다. (가), (나)에 들어갈 계정과목으로 적절한 것은? (단, 기타비유동 자산은 고려하지 않는다.) [3점]



- | | |
|---------|-------|
| (가) | (나) |
| ① 비품 | 토지 |
| ② 비품 | 투자부동산 |
| ③ 영업권 | 토지 |
| ④ 영업권 | 장기대여금 |
| ⑤ 투자부동산 | 토지 |

14. 다음은 ○○(주)의 2017년 수정 전 잔액시산표와 [결산 정리 사항] 및 손익계산서 일부이다. (가)의 금액으로 옳은 것은? (단, 수정 전 잔액시산표의 대손충당금 ₩10,000은 외상매출금에 대한 것이고, 당기 중의 대손 관련 거래는 없으며, 제시된 자료 외의 것은 고려하지 않는다.) [3점]

잔액시산표(수정 전)
2017년 12월 31일

○○(주)		(단위: 원)	
차 변	원 면	계 정 과 목	대 변
2,000,000	생 략	외상매출금 대손충당금	10,000

[결산 정리 사항]
12월 31일 결산 시 외상매출금 기말 잔액에 대하여 2%의 대손을 추산하다.

손익계산서
2017년 1월 1일부터 2017년 12월 31일까지

○○(주)		(단위: 원)	
과 목		당 기	
판매비와관리비 대손상각비	(가)	×××	

- ① ₩10,000 ② ₩20,000 ③ ₩30,000
- ④ ₩40,000 ⑤ ₩50,000

15. 다음은 ○○(주)의 [사채 관련 자료]이다. 이를 통해 알 수 있는 내용으로 옳은 것만을 <보기>에서 있는 대로 고른 것은? (단, 회계기간은 매년 1월 1일부터 12월 31일까지이고, 제시된 자료 외의 것은 고려하지 않는다.) [3점]

[사채 관련 자료]

- 발행일: 2017년 1월 1일 • 만기일: 2019년 12월 31일
- 액면금액: ₩1,000,000 • 발행 금액: ₩907,130
- 액면이자율: 연 10%
- 사채에 대한 이자는 매년 12월 31일에 현금으로 지급한다.
- 사채의 상환 방법은 만기 상환이고, 사채발행비는 없다.

< 보 기 >

ㄱ. 사채의 액면이자율이 유효이자율보다 낮다.
 ㄴ. 2017년 결산 시 손익 계정에 대체되는 이자비용은 ₩100,000이다.
 ㄷ. 만기일에 상환해야 할 사채 금액은 ₩907,130이다.

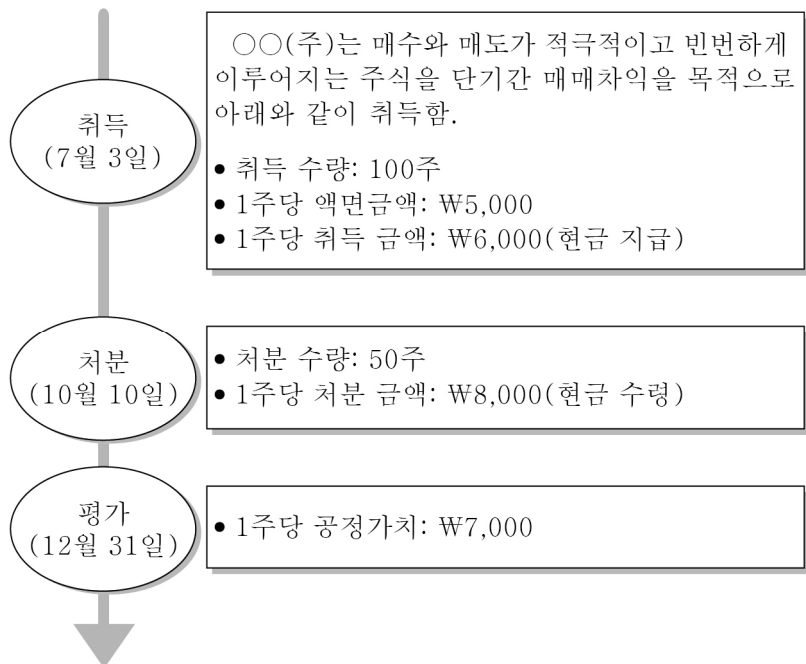
- ① ㄱ ② ㄴ ③ ㄱ, ㄷ
- ④ ㄴ, ㄷ ⑤ ㄱ, ㄴ, ㄷ

16. 다음은 ○○(주)의 회계 처리 오류 사례이다. 이를 정정하지 않을 경우 당기의 재무제표에 미치는 영향으로 옳은 것은? (단, 제시된 자료 외의 것은 고려하지 않는다.) [3점]

당기에 연구 개발을 위해 지출된 금액 ₩4,000,000은 개별적으로 식별이 불가능하고 미래 경제적 효익이 불가능하며 정상적인 지출에 해당하므로 '경상개발비'로 회계 처리하여야 하나, 이를 '개발비'로 잘못 회계 처리하였다.

- ① 유형자산이 ₩4,000,000 과대 계상된다.
- ② 무형자산이 ₩4,000,000 과소 계상된다.
- ③ 매출원가가 ₩4,000,000 과대 계상된다.
- ④ 영업외비용이 ₩4,000,000 과소 계상된다.
- ⑤ 판매비와관리비가 ₩4,000,000 과소 계상된다.

[17~18] 다음은 ○○(주)의 2017년 주식 취득과 처분 및 평가와 관련된 내용이다. 물음에 답하시오. (단, 회계기간은 매년 1월 1일부터 12월 31일까지이고, 제시된 자료 외의 것은 고려하지 않는다.)



17. 위 자료에서 ○○(주)가 취득 시의 거래 내용을 분개할 때 차변 계정과목이 속하는 자산 분류 항목으로 옳은 것은?

- ① 투자자산 ② 유형자산 ③ 무형자산
- ④ 당좌자산 ⑤ 재고자산

18. 위 자료를 모두 회계 처리한 결과가 재무제표 항목에 미치는 영향에 대한 설명으로 옳은 것만을 <보기>에서 있는 대로 고른 것은? [3점]

< 보 기 >

ㄱ. 영업외수익이 ₩250,000 증가한다.
 ㄴ. 당기순이익이 ₩150,000 증가한다.
 ㄷ. 기타포괄손익누계액이 ₩50,000 증가한다.

- ① ㄱ ② ㄴ ③ ㄱ, ㄷ
- ④ ㄴ, ㄷ ⑤ ㄱ, ㄴ, ㄷ

19. 다음은 ○○(주)의 증자와 관련된 이사회 회의록과 이를 실행하여 기입한 분개장 일부이다. 자본잉여금 증감액으로 옳은 것은? (단, 제시된 자료 외의 것은 고려하지 않는다.) [3점]

이사회 회의록

내용

사업 확장에 필요한 자금을 아래와 같이 신주를 발행하여 조달하기로 결의함.
 가. 발행 주식 수: 100주
 나. 액면금액: 1주당 ₩5,000
 다. 발행 금액: 1주당 ₩8,000
 라. 납입금: 전액 당좌예입

분개장

날짜	적요	원면	차변	대변
10월 20일	(×××) 제좌 (×××) (×××) 신주 발행	생략	800,000	500,000 300,000

- ① ₩300,000 감소 ② ₩300,000 증가 ③ ₩500,000 감소
- ④ ₩500,000 증가 ⑤ ₩800,000 증가

20. 다음은 갑 상품만을 취급하고 있는 ○○(주)의 2017년 상품재고장과 [상품 관련 자료]이다. 이를 통해 당기의 매출원가를 계산한 금액으로 옳은 것은? (단, 회계기간은 매년 1월 1일부터 12월 31일까지이고, 제시된 자료 외의 것은 고려하지 않는다.) [3점]

상품재고장
품명: 갑상품

(선입선출법) (단위: 개, 원)

날짜	적요	인수			인도			잔액		
		수량	단가	금액	수량	단가	금액	수량	단가	금액
1월 1일	전월이월	50	2,000	100,000				50	2,000	100,000

[상품 관련 자료]

- 총매입액: ₩1,050,000
- 환출액: ₩50,000
- 기말 상품 장부 재고: 30개(매입 원가 @₩3,000)
- 기말 상품 순실현가능가치: @₩2,500

- ① ₩1,000,000 ② ₩1,010,000 ③ ₩1,015,000
- ④ ₩1,020,000 ⑤ ₩1,025,000

※ 확인 사항

답안지의 해당란에 필요한 내용을 정확히 기입(표기)했는지 확인하시오.