

제 4 교시

사회탐구 영역(동아시아사)

성명

수험번호 3

1. (가)에 들어갈 내용으로 옳은 것은?

단원 마무리 학습

동아시아의 ○○○ 시대

○ 과제 1: 각 지역의 대표적인 토기를 연결해 보자.



○ 과제 2: 이 시대의 생활 모습을 서술해 보자.


(가)

- ① 문자를 사용하였다.
- ② 고인돌을 축조하였다.
- ③ 간석기를 제작하였다.
- ④ 철제 농기구를 만들었다.
- ⑤ 청동 제기로 제사를 지냈다.

2. 다음 소설의 배경이 된 시기의 동아시아 상황으로 옳지 않은 것은? [3점]

이달의 추천 도서

소설 『초한지』



이 소설은 초(楚)의 항우와 한(漢)의 유방이 천하를 차지하기 위해 벌인 쟁투를 그린 작품이다. 한의 유방이 승리하기까지 두 영웅이 만들어가는 치열하고 긴장감 넘치는 이야기가 독자들을 사로잡는다.

- ① 토번이 비단길을 장악하였다.
- ② 베트남에서 남비엣이 성장하였다.
- ③ 일본에서 야요이 시대가 전개되었다.
- ④ 중국 유이민이 고조선으로 이주하였다.
- ⑤ 흉노의 목궤 선우가 세력을 확대하였다.

3. 밑줄 친 '전쟁'에 대한 설명으로 옳은 것은?

쓰시마 도주가 “귀국이 오랑캐와 국교를 맺은 것은 어째서 인가? 또한 소현 세자와 왕자가 선양에 인질로 가 있다는데, 모두 별고 없는가?”라고 물으니, 역관 홍희남이 “우리나라는 문한(文翰)을 숭상하여 싸움을 좋아하지 않는다. 그런데 오랑캐가 전쟁을 일으켜 국도(國都)에 쳐들어와 황급히 도성을 떠나 화친을 맺은 것이다. 세자가 선양에 가 있는 이유는 저들이 항상 우리를 의심하기 때문에 성의를 보여 의심을 풀어주고자 함일 뿐이다.”라고 대답하였다.

- ① 금이 화북을 차지하는 결과를 가져왔다.
- ② 명이 참전하면서 국제전으로 확대되었다.
- ③ 조선에서 북벌론이 제기되는 배경이 되었다.
- ④ 후금과 조선이 형제의 맹약을 맺으면서 종결되었다.
- ⑤ 일본에서 신국 의식이 자리 잡는 데 영향을 주었다.

4. 다음 대화 속 '회의'의 결과로 옳은 것은? [3점]



미국과의 협조적인 외교 노선을 추진하던 일본은 해군 군비를 축소하자는 회의 결정 사항에 동의하였다.

하지만 중국에서는 중국을 둘러싼 열강 간의 이해관계 조정에 불과하다며 반발하였지.

한국의 일부 민족 운동가들은 이 회의에 실망하여, 소련과의 연대에 관심을 갖게 되었어.

- ① 미군이 일본에 주둔하게 되었다.
- ② 중국에서 5·4 운동이 일어났다.
- ③ 산둥반도에 대한 권익이 중국에 반환되었다.
- ④ 한국에서 신탁 통치 반대 운동이 전개되었다.
- ⑤ 일본이 북위 50도 이남의 사할린을 차지하였다.

5. (가), (나) 사이 시기에 동아시아에서 있었던 사실로 옳은 것은?

(가)	(나)
동아시아사신문	동아시아사신문
호류사 창건	도다이사 대불 개안식 거행
쇼토쿠 태자의 발원으로 호류사가 창건되었다. 한반도에서 건너온 여러 기술자들이 금당과 목탑 건축에 참여하였다.	도다이사에 거대한 비로자나불이 안치되었다. 이를 보기 위해 쇼무 태상천황을 비롯한 수많은 사람들이 모여들었다.

- ① 엔닌이 당에 유학하였다.
- ② 법현이 인도를 순례하였다.
- ③ 법흥왕이 불교를 공인하였다.
- ④ 강승희가 불경을 번역하였다.
- ⑤ 현장이 대당서역기를 남겼다.

6. 자료에 나타난 시기의 동아시아 상황으로 옳은 것은? [3점]

사진으로 보는 격동의 한 해, 19△△년



미·일 안전 보장 조약 개정에 반대하는 시위대



3·15 부정 선거에 항의하는 시위대

- ① 한국-유신 체제가 성립하였다.
- ② 중국-대약진 운동이 전개되었다.
- ③ 일본-55년 체제가 붕괴되었다.
- ④ 베트남-베트남 사회주의 공화국이 수립되었다.
- ⑤ 타이완-민주진보당(민진당)이 집권하였다.

7. (가) 왕조에 대한 설명으로 옳은 것은? [3점]

왕통의 군대가 사면초가에 빠지자 명은 수만 대군을 증파하여 그를 구원하려 하였다. 그러나 명의 구원군이 베트남 군대에 패하자 왕통은 화약을 맺고 철군하였다. 이로써 베트남은 항전 10년 만에 명의 지배에서 벗어났다. 그리고 새로운 황제가 즉위하여 **(가)**을/를 세우고 나라 이름을 전처럼 '다이비엣(대월)'이라고 하였다.

- ① 몽골의 침입을 물리쳤다.
- ② 프랑스의 식민 지배를 받았다.
- ③ 토목(보)에서 명군에 승리하였다.
- ④ 참파를 공격하여 남쪽으로 영토를 확장하였다.
- ⑤ 호라즘을 무너뜨리고 동서 교역로를 장악하였다.

8. 밑줄 친 '막부' 시기의 동아시아 문화에 대한 옳은 설명을 <보기>에서 고른 것은?

네덜란드 상관 부속 의관의 업무 보고서

지난해 저는 나가사키의 행정 업무를 총괄하는 관청으로부터 화학, 물리학, 기하학 등을 가르쳐 줄 것을 공식적으로 요청받았습니다. 그런데 올해는 이와 별개로 막부의 관리와 각 번에서 파견한 사람들에게도 개인적으로 의학을 지도해 줄 것을 부탁받았습니다. 이 때문에 통역이 없을 때를 제외하고는 매일 수업을 해야 했습니다.

— < 보 기 > —


ㄱ. 한국-탈춤 공연이 성행하였다.
 ㄴ. 중국-원강 석굴 사원이 세워졌다.
 ㄷ. 일본-우키요에가 유행하였다.
 ㄹ. 베트남-대월사기가 편찬되었다.

- ① ㄱ, ㄴ ② ㄱ, ㄷ ③ ㄴ, ㄷ ④ ㄴ, ㄹ ⑤ ㄷ, ㄹ

9. (가) 제도에 대한 옳은 설명을 <보기>에서 고른 것은?

이 시는 **(가)**을/를 통해 관리가 되는 것이 얼마나 어려웠는지 잘 보여줍니다. 수 대에 시작된 이 제도는 송 대에 이르러 관료를 선발하는 핵심적 기능을 하였죠.

수레에 가득 쌓을 정도의 경서를 읽어
 늙고서 간신히 얻게 된 벼슬아치의 직함이며
 여인네들이 내게 나이가 몇이나고 물으면
 50년 전에 스물세 살이었다고 대답한다네



— < 보 기 > —

ㄱ. 한국-고려 광종 때 쌍기의 건의로 도입되었다.
 ㄴ. 중국-명 대에는 생원에게 응시 자격을 주었다.
 ㄷ. 일본-다이묘를 통제하는 수단으로 이용되었다.
 ㄹ. 베트남-쩨 왕조 때 처음 실시되었다.

- ① ㄱ, ㄴ ② ㄱ, ㄷ ③ ㄴ, ㄷ ④ ㄴ, ㄹ ⑤ ㄷ, ㄹ

[동아시아사] 사회탐구 영역


10. (가) 유학 사상에 대한 설명으로 옳은 것은?

동아시아사 학습실

← → × ◉

에도 막부 시대 일본의 사상가 ▼

하야시 라잔 오규 소라이 **나카에 도주** 모토오리 노리나가



조선에서 정제두와 강화학파가 (가) 연구를 진행하였다면, 일본에서는 나카에 도주가 일본 (가)의 이론적 기틀을 마련하였다. 특히 “신분에는 상하가 없다.”라고 한 그의 주장은 후대 학자들에게 많은 영향을 주었다.

- ① 지행합일과 치양지를 강조하였다.
- ② 오경정의의 편찬으로 집대성되었다.
- ③ 가마쿠라 막부 시대에 일본에 전래되었다.
- ④ 고려 말 신진 사대부의 사상적 기반이 되었다.
- ⑤ 춘추공양전에서 개혁의 이념적 근거를 찾았다.

11. 밑줄 친 ‘개혁’에 대한 설명으로 옳은 것은?

황제는 뤼양으로 천도한 후 왕소를 기용하여 관제를 개편하였다. 그리고 천도할 때 따라온 사람들은 일률적으로 뤼양을 원적(原籍)으로 삼도록 하고, 죽은 뒤에도 북쪽 고향에 묻힐 수 없게 하였다. 또한 한족과의 결혼을 장려하였다. 이러한 개혁에 반발하여 목태, 육예, 탁발사예 등이 옛 수도인 평성에서 반란을 일으켰으나 곧 진압되었다.

- ① 당의 문물을 수용하여 체제를 정비하였다.
- ② 북로남왜로 인한 어려움을 극복하려 하였다.
- ③ 노비 매매를 금지하고 토지를 국유화하였다.
- ④ 재상제를 폐지하고 6부를 황제에 직속시켰다.
- ⑤ 호복 착용과 선비족 언어의 사용을 금지하였다.

12. 자료의 전쟁을 알아보기 위한 탐구 활동으로 가장 적절한 것은? [3점]

조선에 보낼 병력을 실은 수송선 고승호가 텐진을 출발해 아산으로 향하던 중 일본 군함 나니와호와 맞닥뜨렸다. 나니와호는 고승호를 향해 어뢰를 발사하였고, 고승호는 이로 인해 풍도 해역에서 침몰하였다. 그 결과 배에 타고 있던 대부분의 병사들이 목숨을 잃었으며, 이를 계기로 양국 간에 전쟁이 선포되었다.

- ① 난징 대학살의 참상을 살펴본다.
- ② 만주국이 수립된 계기를 파악한다.
- ③ 제1차 국·공 합작의 목적을 조사한다.
- ④ 동학 농민 운동의 전개 과정을 정리한다.
- ⑤ 청·일 수호 조규가 체결된 배경을 찾아본다.

13. (가), (나) 사이 시기에 동아시아에서 있었던 사실로 옳은 것은? [3점]

(가) 왕이 “대대로 내려온 원한을 아직도 씻지 못하였으니 어찌 편안히 있겠는가?”라고 말하고, 군사를 크게 일으켜 발해를 공격하였다. 대인선이 패배하여 항복하니, 결국 발해는 멸망하였다.

(나) 윤관이 아뢰기를 “제가 전에 패한 원인은 적들은 말을 탔고 우리는 보행으로 전투했기 때문입니다. 적의 세력이 강성하니 병졸과 군관을 양성해 후일에 대비해야 합니다.”라고 하였다. 이에 비로소 별무반을 만들었다.

- ① 금이 건국되었다.
- ② 전연의 맹약이 체결되었다.
- ③ 무로마치 막부가 성립되었다.
- ④ 고려에서 무신 정권이 수립되었다.
- ⑤ 베트남에 안남도호부가 설치되었다.

14. 다음 정책이 동아시아에 끼친 영향으로 가장 적절한 것은?

국초에 이미 장사성을 항복시키고 방국진을 멸하였으나, 그중에 도망하여 바다에 들어간 자들이 매번 섬나라의 왜구를 유인하여 들어와 백성을 약탈하였다. 그러므로 홍무 연간에 바다와 인접한 군읍 지역이 자주 왜구의 침략을 받으니, 황제가 관리를 파견하여 요지에 성을 쌓아 방어를 엄격히 하고 사사로이 통상하지 못하게 하였다.


- ① 류큐의 중계 무역이 쇠퇴하였다.
- ② 조선의 국경에서 후시 무역이 이루어졌다.
- ③ 일본이 실패를 발급하여 무역을 통제하였다.
- ④ 중국과 일본 사이에 감함 무역이 전개되었다.
- ⑤ 중국에서 역참제가 시행되어 동서 교류가 활발해졌다.

15. (가)에 들어갈 내용으로 적절한 것은? [3점]

마지막 힌트를 공개하겠습니다.

퀴즈 이 도시는 어디일까요?

청이 공행을 설치하였다.	임칙서가 파견되어 아편을 단속하였다.
베트남 광복회가 결성되었다.	(가)



- ① 쿠빌라이가 수도로 삼았다.
- ② 아주 화친회가 결성되었다.
- ③ 대한민국 임시 정부가 수립되었다.
- ④ 시모노세키 조약으로 일본에 할양되었다.
- ⑤ 장제스의 국민 혁명군이 북벌을 시작하였다.

16. 밑줄 친 '공동 성명'이 끼친 영향으로 적절한 것은? [3점]

닉슨과 저우언라이가 상하이에서 공동 성명을 발표하였다. 미국은 인도차이나 각국의 국민들이 외부의 간섭을 받지 않고 그들의 운명을 결정하도록 허용해야 한다고 밝히고, 미국의 변함없는 주요 목표는 협상을 통한 해결이라고 강조했다. 이러한 방식으로 해결되지 않더라도 궁극적으로는 인도차이나로부터 모든 미군을 철수할 계획이라고 밝혔다. 이에 대해 중화 인민 공화국은 베트남, 라오스, 캄보디아 인민들의 목표 달성을 위한 노력을 지지한다고 밝혔다.

- ○○일보 -

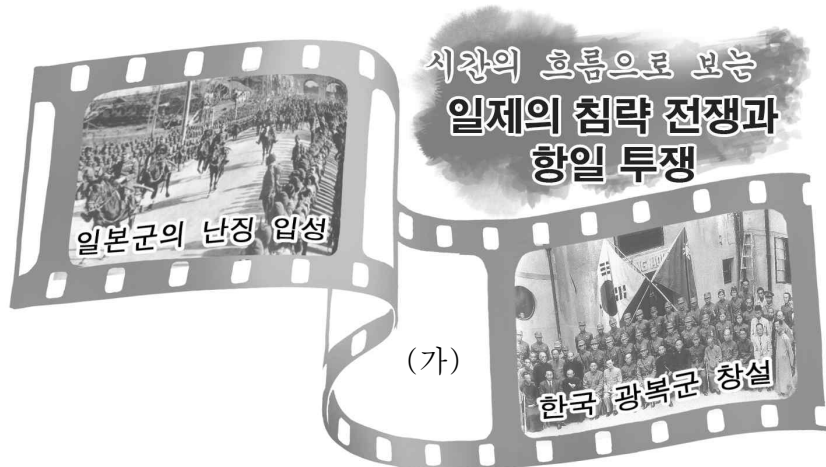
- ① 파리 평화 협정이 체결되었다.
- ② 베트남이 남북으로 분단되었다.
- ③ 한국군의 베트남 파병이 시작되었다.
- ④ 샌프란시스코 강화 회의가 개최되었다.
- ⑤ 중국 국민당 정부가 타이완으로 이동하였다.

17. 밑줄 친 '나'에 대한 설명으로 옳은 것은?

내가 중국에 들어와 기하(幾何)를 다루는 학자들을 만나 보았는데, 기초 원리에 대한 지식이 있는 사람을 거의 보지 못하였다. 또한 훌륭한 학자라 해도 그 원리를 명백하게 추론하여 밝히지 못하였다. 이에 서광계와 함께 『기하원본』을 펴내 당시의 현인군자들에게 그 원리를 보여 줌으로써 그들이 나를 믿어준 뜻에 보답하려고 하였다.

- ① 동방견문록을 남겼다.
- ② 해체신서를 간행하였다.
- ③ 시현력 제작을 주도하였다.
- ④ 원명원 설계에 참여하였다.
- ⑤ 곤여만국전도를 제작하였다.

18. (가)에 들어갈 장면으로 적절한 것은? [3점]



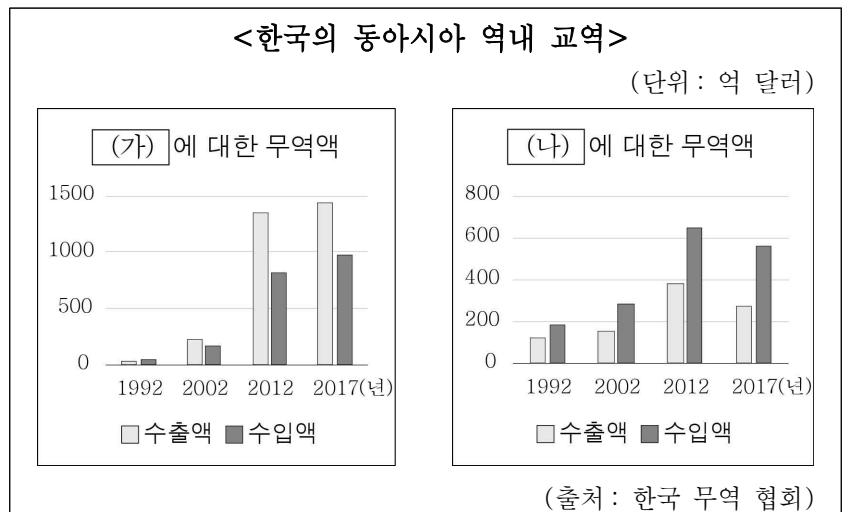
- ① 시안 사건 발생
- ② 조선 의용대 조직
- ③ 베트남 독립 동맹 결성
- ④ 일본의 국제 연맹 탈퇴
- ⑤ 중국 공산당의 대장정 시작

19. 자료의 사절단이 이동하는 동안 볼 수 있는 모습으로 적절한 것은? [3점]



- ① 쇼군과 주종 관계를 맺은 고케닌
- ② 유교 경전을 연구하는 만권당의 학자
- ③ 균전제에 따라 토지를 지급받은 농민
- ④ 지방 행정 업무를 처리하는 다루가치
- ⑤ 관리로 추천할 인물들을 심사하는 중정관

20. (가), (나) 국가에 대한 옳은 설명을 <보기>에서 고른 것은?



[가]은/는 1992년 수교 이후 무역액이 급격히 늘어나 한국의 최대 무역 상대국이 되었다. [나]은/는 한국과의 무역에서 지속적으로 무역 수지 흑자를 기록하고 있다.

- < 보 기 > —
- ㄱ. (가) - 1970년대 후반 개혁·개방 정책을 시작하였다.
 - ㄴ. (가) - 1980년대 후반 도이머이 정책을 추진하였다.
 - ㄷ. (나) - 1990년대 초반 거품 경제가 붕괴되었다.
 - ㄹ. (나) - 1990년대 후반 외환 위기가 발생하였다.

- ① ㄱ, ㄴ ② ㄱ, ㄷ ③ ㄴ, ㄷ ④ ㄴ, ㄹ ⑤ ㄷ, ㄹ

※ 확인 사항
○ 답안지의 해당란에 필요한 내용을 정확히 기입(표기)했는지 확인하십시오.