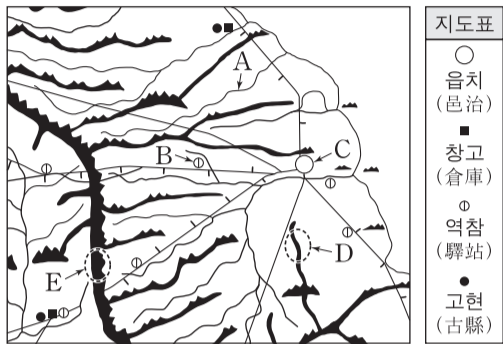


제 4 교시

사회탐구 영역(한국 지리)

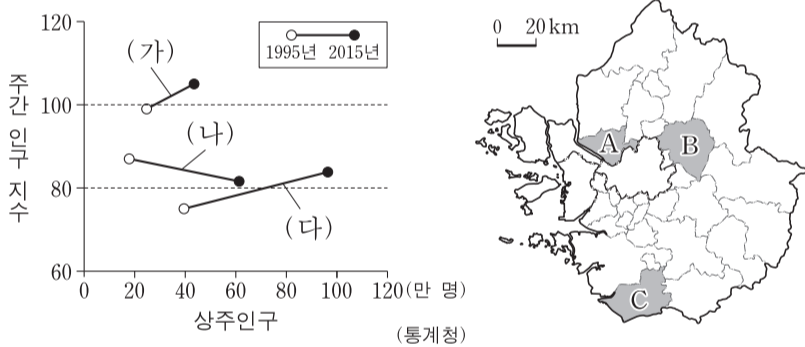
성명 수험 번호

1. 대동여지도의 일부와 지도표를 보고 알 수 있는 내용으로 옳지 않은 것은? [3점]



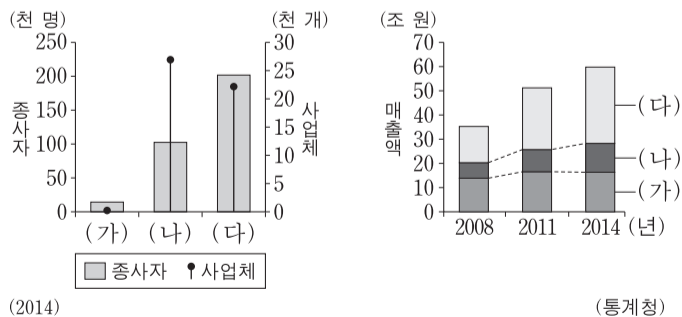
- ① A는 수운 교통로로 이용되는 하천이다.
- ② C는 관아가 있는 행정의 중심지이다.
- ③ C에서 B까지의 거리는 10리 이상이다.
- ④ E는 하천 유역을 나누는 분수계의 일부이다.
- ⑤ E는 D보다 규모가 큰 산지이다.

2. (가)~(다)에 해당하는 지역을 지도의 A~C에서 고른 것은?



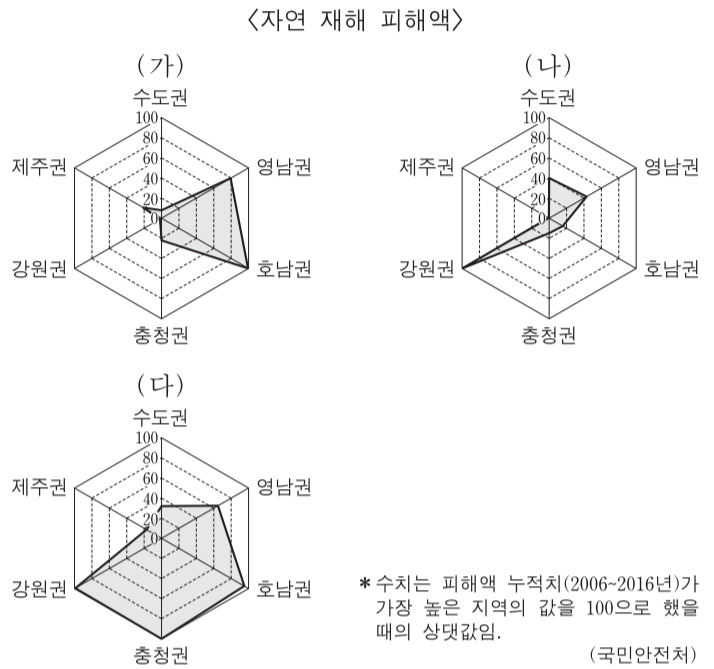
- | | | | | | | | |
|---|-----|-----|-----|---|-----|-----|-----|
| | (가) | (나) | (다) | | (가) | (나) | (다) |
| ① | A | B | C | ② | B | A | C |
| ③ | B | C | A | ④ | C | A | B |
| ⑤ | C | B | A | | | | |

3. 그래프의 (가)~(다) 소매 업체에 대한 설명으로 옳은 것은? (단, (가)~(다)는 무점포 소매업체, 백화점, 편의점 중 하나임.)



- ① (가)는 (나)보다 사업체 간 평균 거리가 멀다.
- ② (가)는 (다)보다 2008년부터 2014년까지 매출액 증가율이 높다.
- ③ (나)는 (가)보다 고가 제품의 판매 비중이 높다.
- ④ (나) 사업체는 (가) 사업체보다 2014년에 전국 대비 특별·광역시에 분포하는 비중이 높다.
- ⑤ (가)~(다) 중 2014년에 종사자당 매출액은 (다)가 가장 많다.

4. (가)~(다) 자연 재해에 대한 옳은 설명만을 <보기>에서 있는 대로 고른 것은? (단, (가)~(다)는 대설, 태풍, 호우 중 하나임.) [3점]

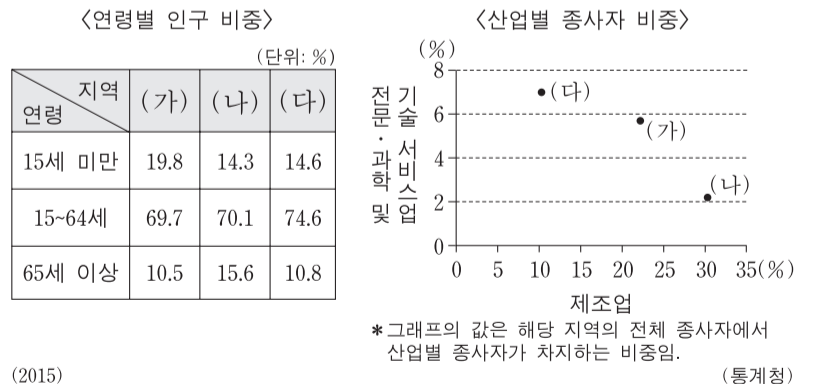


<보기>

ㄱ. (가)는 강풍과 많은 비를 동반하여 풍수해를 유발한다.
 ㄴ. (나)는 장마 전선이 정체되었을 때 주로 발생한다.
 ㄷ. (다)는 겨울철 찬 공기가 바다를 지나면서 형성된 눈구름에 의해 발생하는 경우가 많다.
 ㄹ. 우리나라 연 강수량에서 차지하는 비중은 (다)가 (나)보다 높다.

- ① ㄱ, ㄴ
- ② ㄴ, ㄷ
- ③ ㄷ, ㄹ
- ④ ㄱ, ㄴ, ㄷ
- ⑤ ㄴ, ㄷ, ㄹ

5. 다음 자료에 대한 옳은 설명을 <보기>에서 고른 것은? (단, (가)~(다)는 대전, 세종, 충북·충남 중 하나임.) [3점]



<보기>

ㄱ. (가)는 충북·충남, (나)는 세종이다.
 ㄴ. 대전은 세종보다 유소년 부양비가 낮다.
 ㄷ. 세종은 충북·충남보다 노령화 지수가 낮다.
 ㄹ. 충북·충남은 대전보다 제조업 종사자 비중이 낮다.

- ① ㄱ, ㄴ
- ② ㄱ, ㄷ
- ③ ㄴ, ㄷ
- ④ ㄴ, ㄹ
- ⑤ ㄷ, ㄹ

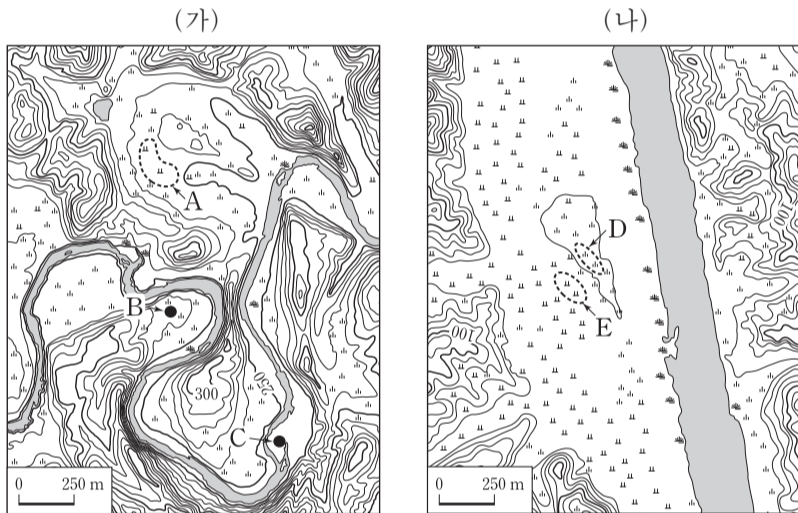
2 사회탐구 영역 (한국 지리)

6. 다음 글의 ㉠~㉥에 대한 설명으로 옳은 것은?

한반도는 중생대에 여러 차례 지각 운동을 겪었다. 중생대 초 송림 변동에 이어 중생대 중엽에는 가장 격렬했던 ㉠대보조산 운동이 일어나 구조선이 만들어졌다. 이 과정에서 마그마의 관입이 일어나 한반도의 ㉡화강암 분포에 영향을 주었다. ㉢관입된 암석과 주변 암석 간의 차별 침식은 특징적인 지형을 만들기도 했다. 중생대 후기에는 ㉣불국사 변동으로 ㉤경상 분지 곳곳에 마그마가 관입되었다.

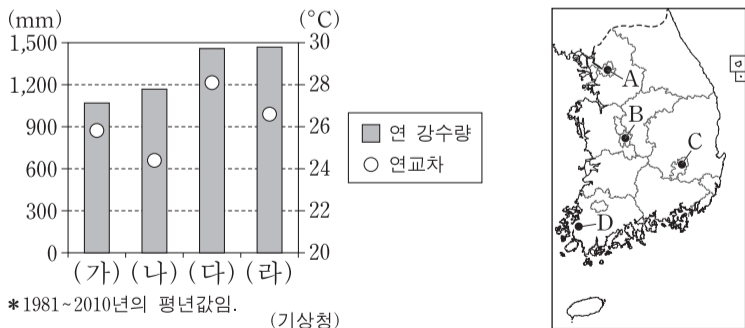
- ① ㉠의 영향으로 남북 방향의 1차 산맥이 형성되었다.
- ② ㉡이 산 정상부를 이루는 경우 주로 흙산으로 나타난다.
- ③ ㉢의 결과로 침식 분지가 형성되었다.
- ④ ㉣은 동고서저 지형 형성의 주요 원인이다.
- ⑤ ㉤에는 갈탄이 광범위하게 매장되어 있다.

7. (가), (나) 지역에 대한 설명으로 옳지 않은 것은? (단, (가), (나)는 동일한 하계망에 속함.) [3점]



- ① 하천의 하방 침식은 (나)보다 (가)에서 활발하다.
- ② A는 과거에 하천의 유로였다.
- ③ B는 C보다 인근 하상과의 고도 차이가 크다.
- ④ C는 E보다 퇴적물의 평균 입자 크기가 크다.
- ⑤ E의 토양은 D의 토양보다 배수가 양호하다.

8. 그래프는 (가)~(라) 지역의 기후 특성을 나타낸 것이다. 이에 해당하는 지역을 지도의 A~D에서 고른 것은? [3점]



- | | (가) | (나) | (다) | (라) |
|---|-----|-----|-----|-----|
| ① | B | A | C | D |
| ② | B | C | D | A |
| ③ | C | B | A | D |
| ④ | C | D | A | B |
| ⑤ | C | D | B | A |

9. 다음 <조건>을 고려하여 ○○시설의 입지를 선정하고자 할 때, 가장 적절한 곳을 후보지 A~E에서 고른 것은?

<조 건>

1. 평가 항목별 점수는 표와 같으며, 각 평가 항목 점수의 합이 가장 큰 곳에 입지함.

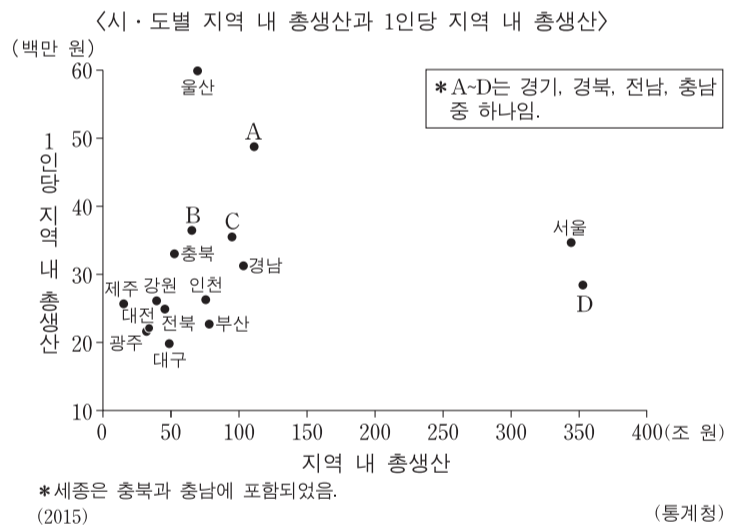
고도(m)	점수	생태 등급	점수
50 미만	1	2등급	1
50 이상~80 미만	2	3등급	2
80 이상	3	4등급	3

2. 후보지에 이웃한 8개 면의 고도가 후보지보다 모두 높으면 입지하지 못함.

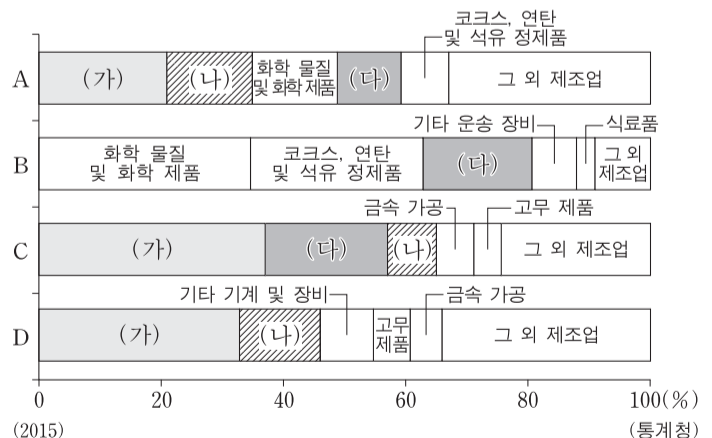
<고도 정보>					<생태 등급 정보>					<입지 후보지>				
40	45	55	50	40	4	4	3	3	3					
40	35	60	55	50	4	3	3	3	3		A		B	
55	65	80	75	70	4	4	3	3	3			C		
60	50	85	90	85	4	4	2	2	2		D		E	
55	60	85	85	80	4	4	2	4	2					

- ① A ② B ③ C ④ D ⑤ E

10. (가)~(다) 제조업의 특성에 대한 설명으로 옳은 것은? (단, (가)~(다)는 자동차 및 트레일러, 전자 부품·컴퓨터·영상·음향 및 통신 장비, 1차 금속 중 하나임.)

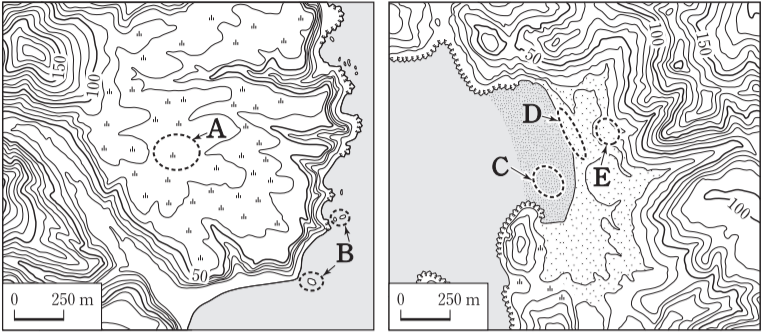


<A~D의 제조업별 출하액 비중>



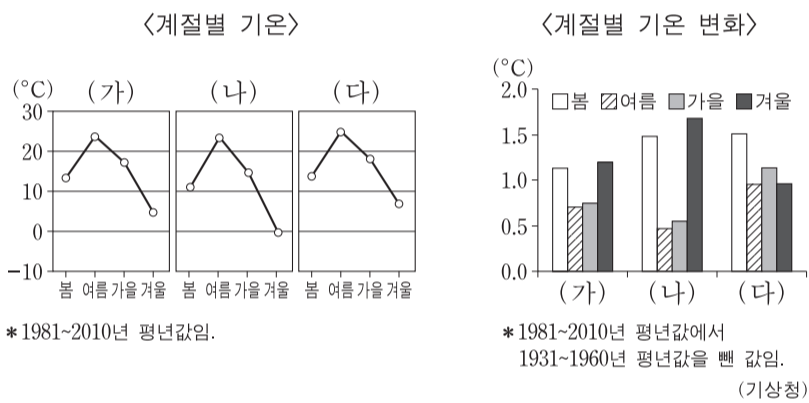
- ① (가)는 계열화된 공정이 필요한 집적 지향형 제조업이다.
- ② (나)는 1970년대 우리나라의 수출 주력 제조업이었다.
- ③ (다)는 운송비에 비해 부가가치가 크며 입지가 자유로운 제조업이다.
- ④ (가)는 (나)보다 최종 제품의 무게가 무겁고 부피가 크다.
- ⑤ (다)에서 생산된 최종 제품은 (나)의 주요 재료로 이용된다.

11. 지도의 A~E에 대한 설명으로 옳지 않은 것은?



- ① A는 과거의 파식대가 융기된 지형이다.
- ② B는 해식애가 후퇴하면서 육지에서 분리된 지형이다.
- ③ C는 주로 조류에 의해 퇴적되는 지형이다.
- ④ D는 주로 파랑과 연안류의 퇴적 작용으로 만들어진 지형이다.
- ⑤ E는 D보다 퇴적물의 평균 입자 크기가 크다.

12. (가)~(다)에 대한 옳은 설명을 <보기>에서 고른 것은? (단, (가)~(다)는 부산, 인천, 제주 중 하나임.)

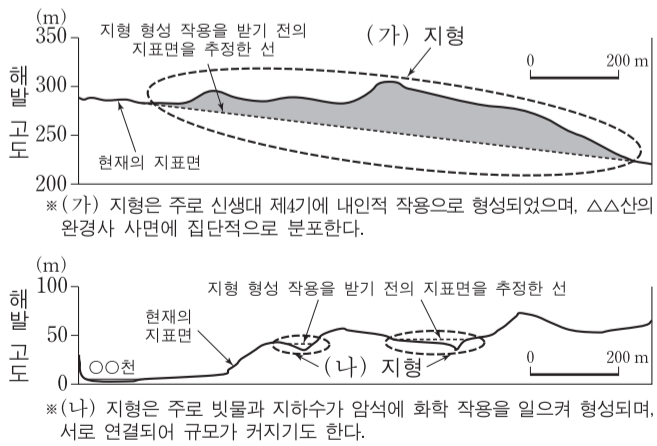


<보기>

ㄱ. (가)는 부산, (나)는 인천이다.
 ㄴ. (나)는 (다)보다 무상 일수가 많다.
 ㄷ. (가)~(다)의 겨울 기온은 위도가 높을수록 더 크게 상승했다.
 ㄹ. 인천은 봄 기온, 제주는 겨울 기온이 가장 크게 상승했다.

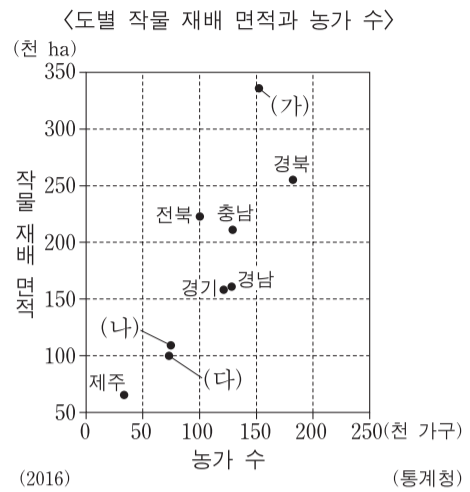
- ① ㄱ, ㄴ ② ㄱ, ㄷ ③ ㄴ, ㄷ ④ ㄴ, ㄹ ⑤ ㄷ, ㄹ

13. (가), (나) 지형이 나타난 지역의 공통적인 특징으로 옳은 것은? [3점]

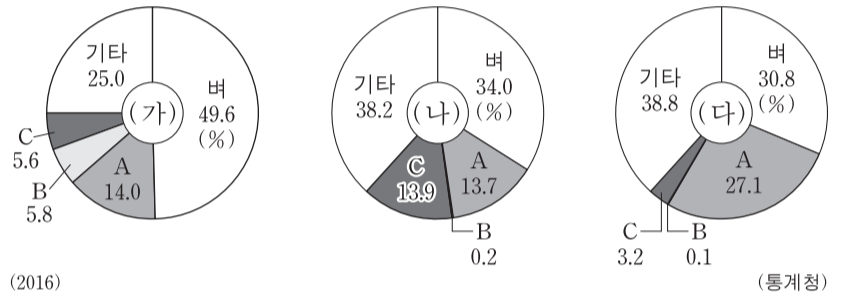


- ① 기반암의 특성으로 인해 건천이 나타난다.
- ② 기반암이 용식되어 형성된 동굴이 나타난다.
- ③ 분화구에 물이 고여 형성된 호수가 나타난다.
- ④ 기반암이 풍화되어 주로 검은 색의 토양이 나타난다.
- ⑤ (가), (나) 지형의 형성은 해발 고도를 높이는 작용을 한다.

14. 다음 자료에 대한 설명으로 옳은 것은? (단, (가)~(다)는 강원, 전남, 충북 중 하나이며, A~C는 과수, 맥류, 채소 중 하나임.) [3점]



<(가)~(다)의 작물 재배 면적 비중>



- ① (가)는 전남, (나)는 강원이다.
- ② 농가당 작물 재배 면적은 (다)가 (가)보다 넓다.
- ③ (가)~(다) 중 채소 재배 면적은 전남이 가장 넓다.
- ④ 도내 과수 재배 면적 비중은 강원이 충북보다 높다.
- ⑤ 도내 맥류 재배 면적 비중은 충북이 전남보다 높다.

15. 다음은 영남 및 호남 지방에 대한 수업 장면이다. 발표 내용이 옳지 않은 학생을 고른 것은? [3점]

A~E의 지역 특성에 대해 발표해 볼까요?

갑: A에서는 국제 탈춤 페스티벌이 개최돼요.

을: B에는 유네스코가 지정한 세계 유산이 있어요.

병: C에서는 전통 한옥 마을이 관광지로 이용되고 있어요.

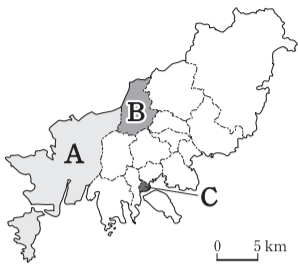
정: D에서는 나비를 주제로 축제가 열려요.

무: E는 지리적 표시제로 등록된 녹차가 유명해요.

- ① 갑 ② 을 ③ 병 ④ 정 ⑤ 무

4 사회탐구 영역 (한국 지리)

16. 다음 자료는 부산광역시에 위치한 A~C 구(區)의 인구나 종사자 현황을 나타낸 것이다. 이에 대한 설명으로 옳은 것은?



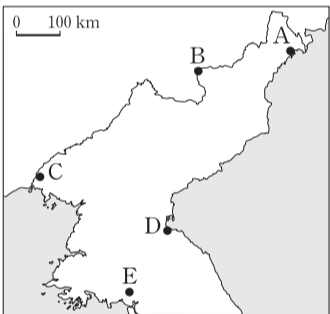
구분	인구		종사자	
	상주인구	통근·통학 순이동	전체 산업	제조업
A	86,505	79,825	114,531	72,339
B	294,147	-69,623	56,412	2,401
C	43,685	41,683	69,241	1,428

(단위: 명)
*통근·통학 순이동=통근·통학 유입 인구-통근·통학 유출 인구 (통계청) (2015)

- ① A는 B보다 인구 밀도가 높다.
- ② C는 A보다 초등학교 수가 많다.
- ③ C는 B보다 주거 기능이 우세하다.
- ④ 주간 인구는 A가 가장 많다.
- ⑤ 생산자 서비스업 종사자 비중은 C가 가장 높다.

17. (가)~(다)에서 설명하는 지역을 지도의 A~E에서 고른 것은?

(가)	(나)	(다)
화산 활동으로 형성된 산지이며, 정상부에는 칼데라호가 있음.	경원선의 종착지로 일제 강점기부터 공업 도시로 성장함.	2002년에 외자 유치 및 교역 확대를 위해 특별행정구로 지정함.



- | | (가) | (나) | (다) |
|---|-----|-----|-----|
| ① | B | A | C |
| ② | B | D | C |
| ③ | B | D | E |
| ④ | C | D | E |
| ⑤ | C | E | A |

18. (가)~(라)에 대한 옳은 설명을 <보기>에서 고른 것은?

<국토종합(개발)계획>

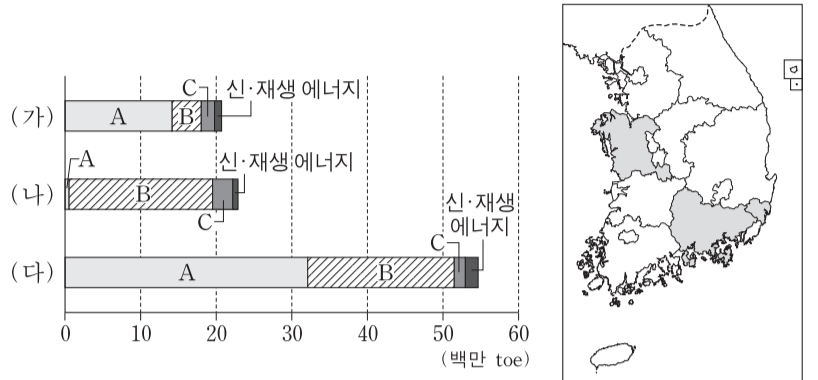
구분	제1차 국토종합개발계획 (1972~1981)	제2차 국토종합개발계획 (1982~1991)	제3차 국토종합개발계획 (1992~1999)	제4차 국토종합계획 (2000~2020)
개발 방식	거점 개발	광역 개발	(가)	
기본 목표	사회 간접 자본 확충	인구의 지방 정착 유도	지방 분산형 국토 골격 형성	균형, 녹색, 개방, 통일 국토
개발 전략	(나)	(다)	(라)	개방형 통합 국토축 형성

<보기>

- ㄱ. (가) - 투자 효과가 큰 지역을 선정하여 집중 투자하는 방식이다.
- ㄴ. (나) - 고속 국도, 항만, 다목적 댐 등을 건설하여 산업 기반을 조성하였다.
- ㄷ. (다) - 지방의 주요 도시와 배후 지역을 포함한 지역 생활권을 설정하였다.
- ㄹ. (라) - 혁신 도시와 기업 도시를 지정 및 육성하였다.

- ① ㄱ, ㄴ ② ㄱ, ㄷ ③ ㄴ, ㄷ ④ ㄴ, ㄹ ⑤ ㄷ, ㄹ

19. 그래프의 (가)~(다)는 지도에 표시된 세 지역의 1차 에너지원별 공급량을 나타낸 것이다. 이에 대한 설명으로 옳지 않은 것은? (단, A~C는 석유, 석탄, 천연가스 중 하나임.) [3점]

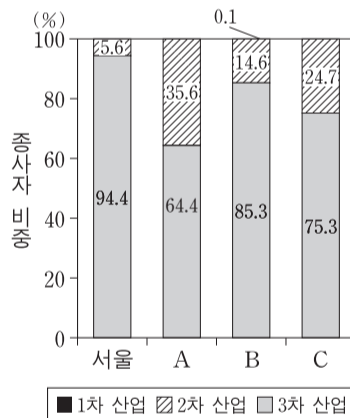


*신·재생 에너지는 수력을 포함함. (에너지경제연구원) (2015)

- ① 경남은 충남보다 1차 에너지원별 공급량에서 석탄이 차지하는 지역 내 비중이 작다.
- ② A는 제철 공업의 주요 연료로 이용된다.
- ③ B는 울산의 1차 에너지원별 공급량에서 가장 큰 비중을 차지한다.
- ④ C는 B보다 가정용으로 이용되는 비중이 크다.
- ⑤ 발전에 이용되는 1차 에너지의 비중은 A>C>B 순이다.

20. 다음 자료에 대한 옳은 설명을 <보기>에서 고른 것은? (단, A~C, (가)~(다)는 광주, 울산, 인천 중 하나임.) [3점]

<서울과 3개 광역시의 산업별 종사자 비중과 인구 이동>



이동자 수 (명)	전입 도시				
	서울	(가)	(나)	(다)	
전출 도시	서울	-	9,216	44,915	5,950
	(가)	10,860	-	2,167	538
	(나)	33,570	1,894	-	1,359
	(다)	6,954	482	1,249	-

(통계청) (2015)

<보기>

- ㄱ. A는 (다), B는 (가)에 해당한다.
- ㄴ. 인천으로 전입한 인구는 광주가 울산보다 많다.
- ㄷ. (가)~(다) 중 서울과 지리적으로 가장 인접한 도시는 (가)이다.
- ㄹ. (가)~(다) 중 인구 규모가 가장 큰 도시는 3차 산업의 비중도 가장 높다.

- ① ㄱ, ㄴ ② ㄱ, ㄷ ③ ㄴ, ㄷ ④ ㄴ, ㄹ ⑤ ㄷ, ㄹ

* 확인 사항

○ 답안지의 해당란에 필요한 내용을 정확히 기입(표기)했는지 확인 하시오.