

제 4 교시


한국사 영역

1. 밑줄 친 '이 시대' 와 관련된 체험 활동으로 가장 적절한 것은?



- ① 고인돌 모형 쌓기
- ② 금관 모형 제작하기
- ③ 빗살무늬 토기 만들기
- ④ 철갑옷 복제품 입어 보기
- ⑤ 세형 동검과 거푸집 짝 맞추기

2. (가)에 들어갈 장면의 제목으로 가장 적절한 것은? [3점]



- ① 대조영, 발해를 건국하다
- ② 미천왕, 낙랑군을 몰아내다
- ③ 진흥왕, 한강 유역을 차지하다
- ④ 김춘추, 나·당 동맹을 성사시키다
- ⑤ 광개토 대왕, 신라를 도와 왜병을 격퇴하다

3. (가) 왕의 업적으로 옳은 것은?



- ① 균역법을 시행하였다.
- ② 과거제를 실시하였다.
- ③ 칠정산을 편찬하였다.
- ④ 정동행성을 폐지하였다.
- ⑤ 수원 화성을 건설하였다.

4. 다음 자료에 나타난 시기의 경제 상황으로 옳은 것은?

문익점이 원나라에 갔다가 목화 씨앗을 가지고 돌아와서 정천익에게 부탁하여 심게 하였다. 처음에는 재배 기술을 알지 못하여 거의 다 말라 죽고 한 그루만 살아남았다. 이후 갖은 노력을 기울인 끝에 문익점이 귀국한 지 3년 만에 재배에 성공할 수 있었다.

- ① 권문세족이 대규모 농장을 경영하였다.
- ② 덕대가 광산 개발 및 운영을 주도하였다.
- ③ 상평통보가 발행되어 시중에 유통되었다.
- ④ 인삼, 담배 등의 상품 작물 재배가 확대되었다.
- ⑤ 인천 등 개항장을 통해 외국과의 무역이 증가하였다.

5. (가)에 들어갈 내용으로 가장 적절한 것은? [3점]



- ① 금속 활자를 사용해 제작되었습니다.
- ② 통일 신라 때 만들어진 인쇄물입니다.
- ③ 의천이 각국의 불교 서적을 수집하여 만들었습니다.
- ④ 조선 왕조의 주요 사건을 날짜별로 기록한 것입니다.
- ⑤ 몽골의 침략을 물리치려는 염원을 담아 만든 것입니다.

6. 다음 지도를 활용한 탐구 주제로 가장 적절한 것은? [3점]



- ① 삼별초의 대몽 항쟁
- ② 장보고의 해상 활동
- ③ 통신사의 대일 외교
- ④ 이종무의 대마도 정벌
- ⑤ 이순신과 수군의 활약상

7. 밑줄 친 '그들'에 대한 설명으로 옳은 것은?

대사헌 채수가 아뢰기를, “지금 전하께서 의관과 역관 중에 그 기술이 훌륭한 자를 발탁하여 문무 관직에 쓰려고 하시는데, 저는 그 이유를 알 수 없습니다. 그들은 모두 보잘것없는 무리로 본래 양반 사족이 아닌데도 외람되게 조정의 은혜를 많이 받아 왔으며, 국가에서 장려함도 이미 지극했습니다.”라고 하였다.

- ① 사출도를 다스렸다.
- ② 공음전을 지급받았다.
- ③ 화백 회의에 참가하였다.
- ④ 신량역천으로 분류되었다.
- ⑤ 잡과 등을 통해 선발되었다.

8. 밑줄 친 '국왕'의 업적으로 옳은 것은?

한국사 인물 카드

- 조선의 제9대 국왕
- 재위 기간: 1469 ~ 1494년
- 주요 업적

국가와 왕실의 의례를 유교 예법에 따라 정리한 『국조오례의』를 간행하고, 집현전을 계승한 홍문관을 두어 경연을 활성화하였다. 또한 서거정 등을 시켜 고조선부터 고려 말까지의 역사를 편년체로 정리한 『동국통감』을 편찬하게 하였다.


『국조오례의』

연산군
중종

- ① 공신들에게 역분전을 지급하였다.
- ② 친위 부대인 장용영을 설치하였다.
- ③ 9주 5소경 체제로 지방 제도를 정비하였다.
- ④ 방납의 폐단을 줄이고자 대동법을 시행하였다.
- ⑤ 김종직 등 사림을 중용하여 훈구 세력을 견제하였다.

9. 밑줄 친 '새로운 양상'을 보여주는 그림으로 가장 적절한 것은? [3점]

양 난 이후 모내기법이 전국적으로 보급되고, 각지의 장시를 연결하는 유통망이 갖추어졌다. 농업 생산력이 증대되고 상공업이 발전하면서 서민의 경제적 지위도 향상되었다. 이러한 변화를 반영하여 이 시기 문화에도 새로운 양상이 나타났다. 문학에서는 한글 소설과 사설시조가 서민의 사랑을 받았고, 회화에서는 서민들을 주인공으로 하여 그들의 일상 생활을 화폭에 담은 그림들이 유행하였다.



10. (가)에 들어갈 사건으로 옳은 것은?

열강의 침략에 맞서다

1. 주제: (가)의 전개 과정

2. 자료

프랑스 군함 여러 척이 다가오니 강화도의 군사들이 어찌할 줄 몰랐다. 이윽고 프랑스 군인들이 갑곶에 내려 진영을 갖추고 쳐들어와 본읍을 차지하고 제멋대로 돌아다녔다. …(중략)… 양현수 부대가 정족산성에 매복하였다가 올라오는 프랑스군을 향해 좌우에서 총을 쏘았다. 적의 지휘관이 총에 맞아 말에서 떨어지고 적병 십여 명이 죽었다. 혼쫓이 난 그들은 급히 본진으로 도망갔다.

- ① 병인양요
- ② 병자호란
- ③ 귀주 대첩
- ④ 기벌포 전투
- ⑤ 처인성 전투

16. 밑줄 친 '이 세력'이 전개한 활동으로 옳은 것은?


전주 화약을 맺은 이후 이 세력이 여러 고을에 집강소를 세우니, 수령은 이름만 있을 뿐이었고 심지어 추방당한 경우도 있었다. 그 지도자 전봉준은 금구 원평에 자리 잡고서 전라우도를 호령하였고, 김개남은 남원성에 머물며 전라좌도를 통솔하였다.

- ① 무신 정권에 저항하였다.
- ② 서경 천도 운동을 펼쳤다.
- ③ 고구려 부흥 운동을 이끌었다.
- ④ 황토현 전투에서 관군을 물리쳤다.
- ⑤ 전주에 도읍을 정하고 후백제를 세웠다.

17. (가) 단체의 설립 목적을 드러낸 주장으로 가장 적절한 것은? [3점]

(가) 취지서

공평은 사회의 근본이요 애정은 인류의 본령이라. ... (중략) ... 이 사회에서 우리 백성의 연혁을 아는가 모르는가. 결코 천대받을 우리가 아니다. 우리도 조선 민족 2천만의 1인이라. 애정으로써 상호 부조하여 생활의 안정을 도모하고 공동의 존영을 기하고자, 이에 본사의 취지를 선명히 표방코자 하노라.



- ① 고을 소작료를 인하하라.
- ② 굴욕적 대일 외교 반대한다.
- ③ 우리가 만든 것 우리가 쓰자.
- ④ 좌우 합작으로 민주 임시 정부 수립하자.
- ⑤ 계급을 타파하고 모욕적 칭호를 폐지하라.

18. 밑줄 친 '이 전쟁' 기간 중에 있었던 일로 옳은 것은?

사진은 거제 포로수용소 모습입니다. 전쟁 중 포로가 된 북한 군인과 중국 군인이 이곳에 수용되었습니다. 북한군의 기습 남침으로 시작된 이 전쟁은 유엔군과 중국군이 참전하면서 국제전으로 확대되었습니다.



- ① 반민특위가 조직되었다.
- ② 5·10 총선거가 실시되었다.
- ③ 인천 상륙 작전이 전개되었다.
- ④ 7·4 남북 공동 성명이 발표되었다.
- ⑤ 모스크바 3국 외상 회의가 개최되었다.

19. (가) 사건이 있었던 시기의 모습으로 가장 적절한 것은? [3점]

수행 평가 보고서

(가) 을/를 겪은 여고생의 기록을 읽고

3학년 ○반 △△△

- 자료 소개
1980년 5월, 당시 19세였던 한 여학생이 전남 도청에서 자원 봉사자로 활동하며 보고 들은 내용을 일기 형식으로 기록한 것임.
- 자료의 주요 내용 요약
 - ○○일: 신군부에서 파견한 공수 부대가 학생과 시민들을 무차별로 구타하였다.

(중략)

- □□일: 시외 전차가 차단된 데 이어 시외 버스 등 교통수단도 마비되었다는 이야기를 들었다.

- ① 4·13 호헌 철폐 집회에 참가한 회사원
- ② 광주 시가지에서 계엄군과 대치하는 시민
- ③ 3·15 부정 선거를 규탄하며 행진하는 교수
- ④ 3선 개헌 반대 시위에서 구호를 외치는 학생
- ⑤ 5·16 군사 정변의 발발 소식을 알리는 아나운서

20. 다음 학습 주제에 대한 탐구 활동으로 가장 적절한 것은? [3점]

학습 주제 : 동해를 지키는 섬, ○○의 역사

이 섬은 신라 지증왕 때 우산국을 복속시킨 이래 줄곧 우리 땅이었어.

일본 측 자료인 태정관 문서에도 이 섬이 일본 영토가 아니라고 명시되어 있지.

그런데 러·일 전쟁 중에 일본이 불법적으로 강탈한 일도 있었어.



- ① 안용복의 활약상을 조사한다.
- ② 운요호 사건의 현장을 답사한다.
- ③ 제물포 조약의 내용을 분석한다.
- ④ 제주 4·3 사건의 전개 과정을 살펴본다.
- ⑤ 제너럴 셔먼호 사건의 발생 원인을 알아본다.

* 확인 사항
○ 답안지의 해당란에 필요한 내용을 정확히 기입(표기)했는지 확인하시오.

2018학년도 대학수학능력시험 6월 모의평가

한국사 영역 정답표

문항 번호	정답	배점	문항 번호	정답	배점	문항 번호	정답	배점	문항 번호	정답	배점
1	㉓	2	6	㉒	3	11	㉕	3	16	㉔	2
2	㉔	3	7	㉕	2	12	㉔	3	17	㉕	3
3	㉒	2	8	㉕	2	13	㉓	2	18	㉓	2
4	㉑	2	9	㉓	3	14	㉔	2	19	㉒	3
5	㉕	3	10	㉑	2	15	㉑	3	20	㉑	3