

제 4 교시

사회탐구 영역(세계 지리)

성명

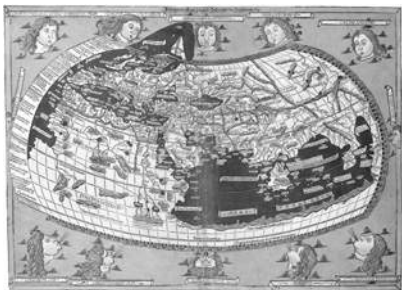
수험 번호

1. (가), (나) 지도에 대한 옳은 설명을 <보기>에서 고른 것은?

(가)



(나)

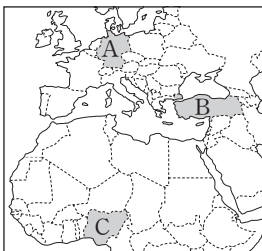
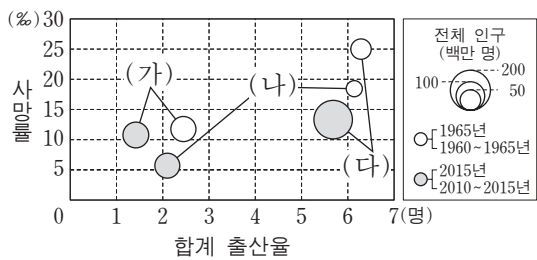


<보기>

- ㄱ. (가)는 경·위선이 직각으로 교차하여 항해용으로 사용되었다.
- ㄴ. (나)는 지구가 구체(球體)라는 인식에 기초하여 제작되었다.
- ㄷ. (가)와 (나)는 지도의 위쪽이 동쪽이다.
- ㄹ. (가)와 (나)에는 모두 지중해가 표현되어 있다.

- ① ㄱ, ㄴ ② ㄱ, ㄷ ③ ㄴ, ㄷ ④ ㄴ, ㄹ ⑤ ㄷ, ㄹ

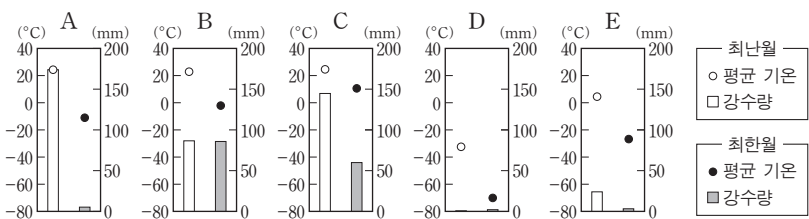
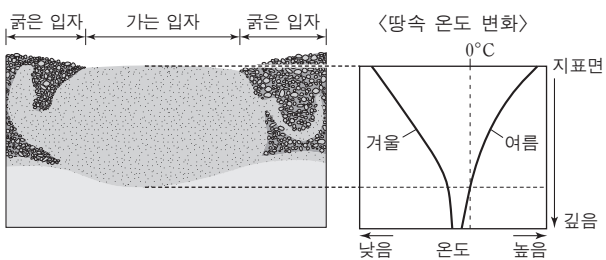
2. 그래프의 (가)~(다)에 해당하는 국가를 지도의 A~C에서 고른 것은? [3점]



* 합계 출산율과 사망률은 원의 중심값임.
 ** 전체 인구는 1965년과 2015년 기준이며, 합계 출산율과 사망률은 1960~1965년과 2010~2015년 기준임.

- (가) (나) (다) (가) (나) (다) (가) (나) (다)
- ① A B C ② A C B ③ B A C
 ④ B C A ⑤ C A B

3. 다음 자료는 어느 지형 단면의 모식도와 땅속 온도 변화에 대한 그래프이다. 이 지형이 나타나는 지역의 기후 그래프를 A~E에서 고른 것은?



- ① A ② B ③ C ④ D ⑤ E

4. 다음 자료는 (가)~(다) 국가의 지리 정보를 정리한 노트의 일부이다. 이에 대한 옳은 설명만을 <보기>에서 있는 대로 고른 것은? [3점]

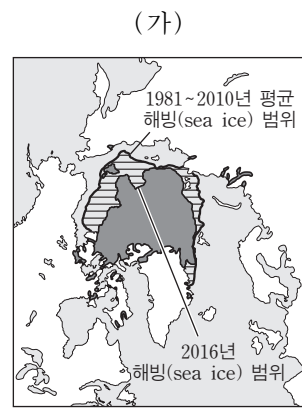
지리 정보	국가	(가)	(나)	(다)		
① 수도의 위치		35° 41' N 139° 46' E	41° 18' S 174° 46' E	14° 34' N 120° 59' E		
인구(천 명)		126,920	4,438	100,998		
② 산업 구조	구분	비중(%)	구분	비중(%)	구분	비중(%)
	1차	2.9	1차	6.1	1차	29.1
	2차	26.2	2차	21.6	2차	16.2
	3차	70.9	3차	72.3	3차	54.7
∴		∴	∴	∴		

<보기>

- ㄱ. ①은 공간 정보에 해당한다.
- ㄴ. ②은 통계 지도로 표현할 때 유선도가 가장 적절하다.
- ㄷ. (가)~(다)는 인도양 연안에 위치한다.
- ㄹ. (가)~(다)에서 연중 낮의 길이 차이가 가장 작은 곳은 (다)이다.

- ① ㄱ, ㄷ ② ㄱ, ㄹ ③ ㄴ, ㄹ
 ④ ㄱ, ㄷ, ㄹ ⑤ ㄴ, ㄷ, ㄹ

5. 다음 자료의 (가), (나) 지역에서 나타나는 A, B 환경 문제에 대한 옳은 설명을 <보기>에서 고른 것은?



■ : 지구 평균 기온이 상승하는 지역
 A : (가) 지역으로 인해 해빙 범위가 감소한 지역

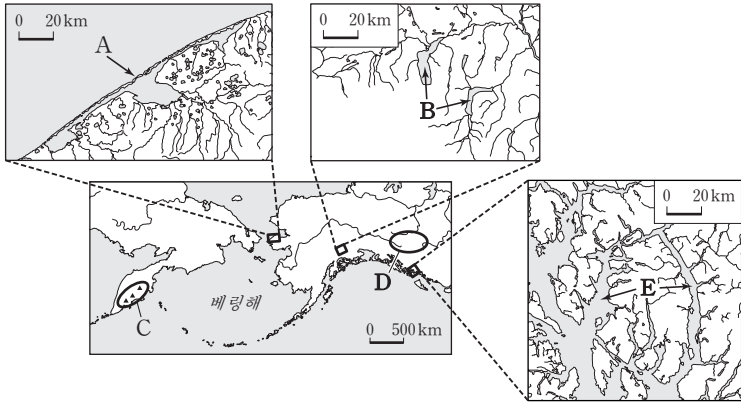
▨ : 산림 면적이 감소하는 지역
 B : (나) 지역이 나타남

<보기>

- ㄱ. A가 지속되면 해수면 상승으로 해안 저지대가 침수될 것이다.
- ㄴ. B로 인해 생물종 다양성이 감소되고 토양 침식이 가속화될 것이다.
- ㄷ. (나) 지역에서 B의 주요 원인은 장기간의 가뭄으로 인한 지하수 고갈이다.
- ㄹ. A의 해결을 위해 교토 의정서를 채택하였고, B의 해결을 위해 바젤 협약을 체결하였다.

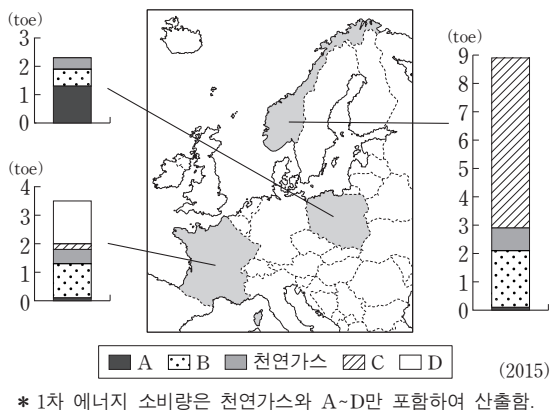
- ① ㄱ, ㄴ ② ㄱ, ㄷ ③ ㄴ, ㄷ ④ ㄴ, ㄹ ⑤ ㄷ, ㄹ

6. 지도에 표시된 A~E에 대한 설명으로 옳지 않은 것은? [3점]



- ① A는 용빙수의 퇴적 작용으로 형성된다.
- ② B는 빙하의 침식 작용에 의해 형성된 호수이다.
- ③ C는 '불의 고리'로 불리는 지대에 위치한다.
- ④ D는 최종 빙기에 빙하로 덮여 있었다.
- ⑤ E는 빙식곡이 침수된 해안이다.

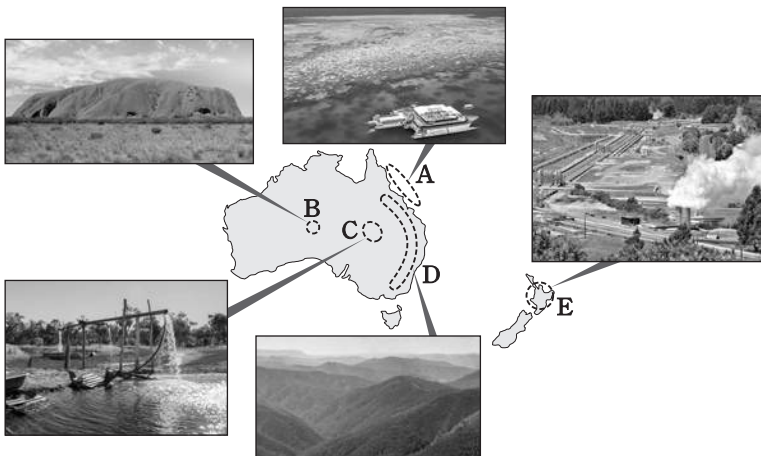
7. 다음 자료는 세 국가의 1인당 1차 에너지원별 소비량을 나타낸 것이다. 이에 대한 설명으로 옳은 것은? (단, A~D는 석유, 석탄, 수력, 원자력 중 하나임.)



* 1차 에너지 소비량은 천연가스와 A~D만 포함하여 산출함.

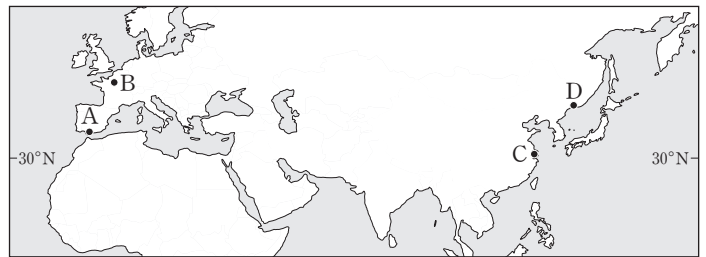
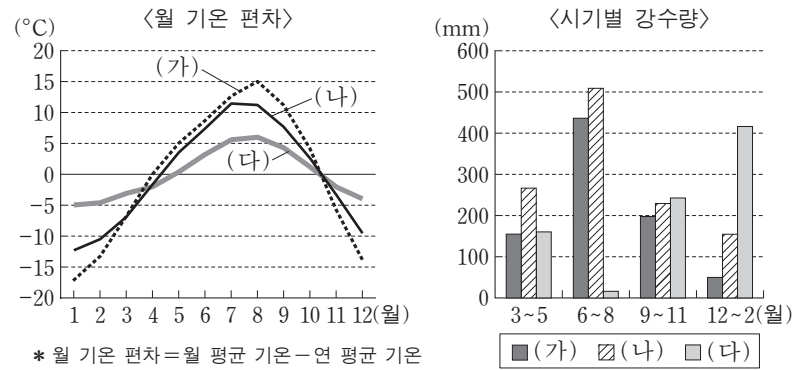
- ① A는 신기 조산대 지역에서 주로 생산된다.
- ② B는 산업 혁명 초기의 주요 에너지 자원이다.
- ③ C는 세계 에너지 소비량에서 차지하는 비중이 가장 크다.
- ④ A는 D보다 상용화된 시기가 이른다.
- ⑤ B는 C보다 발전 시 대기 오염 물질의 배출량이 적다.

8. 그림은 지도에 표시된 A~E 지역의 경관이다. A~E 지역에 대한 설명으로 옳지 않은 것은?



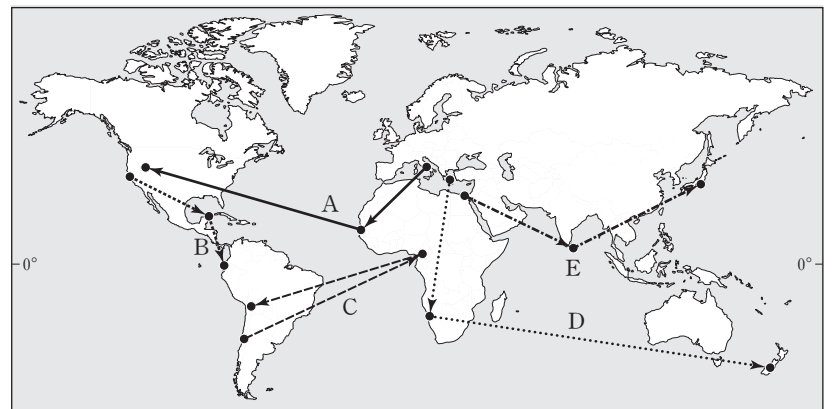
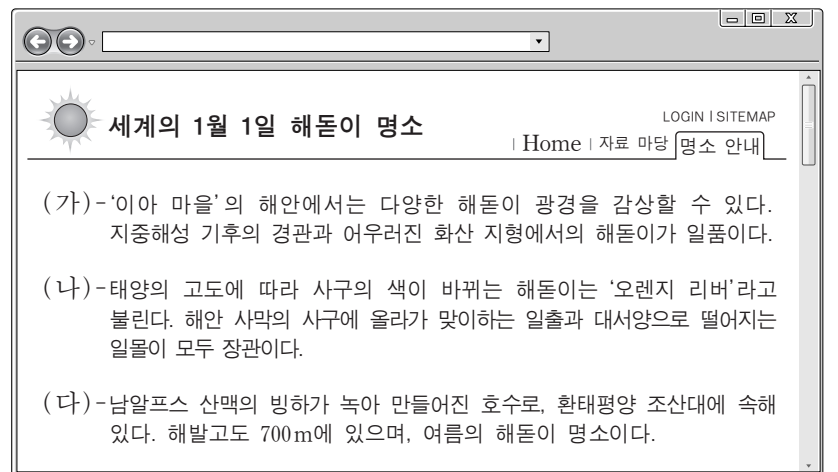
- ① A - 세계적으로 유명한 대규모 산호초 지대가 나타난다.
- ② B - 원주민들이 신성하게 여기는 바위산이 관광 자원으로 이용된다.
- ③ C - 편서풍의 바람받이에 해당하여 다우지이다.
- ④ D - 고생대에 습곡 작용을 받은 산지이다.
- ⑤ E - 지하의 증기나 열을 이용하여 전기를 생산한다.

9. 그래프의 (가)~(다)에 해당하는 지역을 지도의 A~D에서 고른 것은? [3점]



- | | | | | | | | |
|---|-----|-----|-----|---|-----|-----|-----|
| | (가) | (나) | (다) | | (가) | (나) | (다) |
| ① | A | B | C | ② | C | D | A |
| ③ | C | D | B | ④ | D | C | A |
| ⑤ | D | C | B | | | | |

10. 다음 자료는 개인 블로그 화면의 일부이다. (가)~(다)에 해당하는 지점을 순서대로 연결한 것을 지도의 A~E에서 고른 것은? [3점]



- ① A ② B ③ C ④ D ⑤ E

11. 자료에 나타난 (가)~(라) 대륙에 대한 설명으로 옳은 것은? (단, (가)~(라)는 아시아, 아프리카, 앵글로아메리카, 유럽 중 하나임.) [3점]

〈대륙별 인구 증가율〉 (단위: %)

대륙	구분 기간	자연적 인구 증가율		전체 인구 증가율	
		1950~1955년	2010~2015년	1950~1955년	2010~2015년
(가)		1.93	1.07	1.93	1.05
(나)		2.15	2.64	2.10	2.59
(다)		1.49	0.42	1.67	0.75
(라)		1.03	-0.01	0.99	0.10
라틴 아메리카		2.71	1.19	2.69	1.13
오세아니아		1.57	1.05	2.28	1.53

* 러시아는 유럽에 포함됨.

- ① 1950~1955년 유럽은 유출 인구보다 유입 인구가 많다.
- ② 세계에서 인구가 가장 많은 국가는 (나)에 위치한다.
- ③ 2010~2015년 (라)는 사망자보다 출생자가 많다.
- ④ (다)는 (가)보다 국가의 수가 많다.
- ⑤ 2010~2015년 유출 인구보다 유입 인구가 많은 곳은 (다)와 (라)이다.

12. 다음은 '경제 활동의 세계화' 단원에 대한 수행 평가 보고서의 일부이다. (가)에 들어갈 내용으로 가장 적절한 것은?

수행 평가 보고서

○학년 ○반 이름: ◇◇◇

주제: (가) 와/과 관련된 신문 기사 조사하기

조사 내용 I

미국의 치킨 업체 A사는 중국 매장에서 중국인들의 아침 식사인 요우티아오(기름 빵)와 도우장(공즙)을 판매하고 있다. 한편 미국의 피자 업체인 B사는 밥을 메뉴에 추가하여 중국 소비자들의 마음을 얻었다. ... (후략) ...

- □□신문 2017년 ○○월 ○○일 -

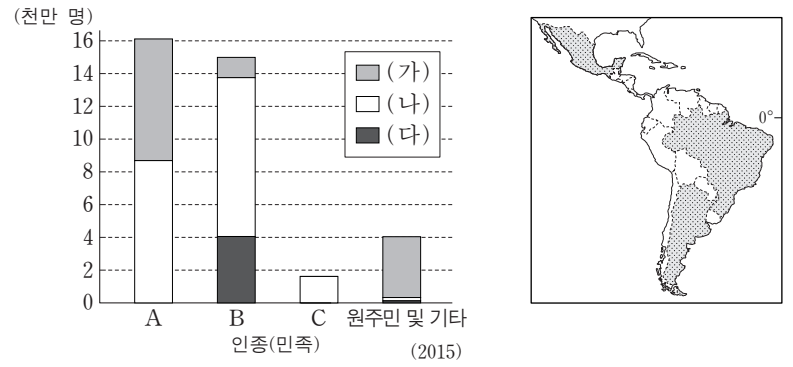
조사 내용 II

서울에 본사를 둔 자동차 업체 C사는 'S' 발음을 좋아하는 인도 소비자들의 기호에 맞추어 차량의 이름을 지었다. 또한 비포장 도로가 많은 도로 사정과 터번을 쓰는 인도인의 편의에 맞추어 차량을 개발했다. ... (후략) ...

- △△일보 2016년 ○○월 ○○일 -

- ① 세계 도시의 성장
- ② 정보 통신 기술의 발달
- ③ 다국적 기업의 현지화 전략
- ④ 첨단 산업의 입지 요인 변화
- ⑤ 생산 시설 이전에 따른 산업 공동화

13. 그래프는 A~C 인종(민족)의 국가별 인구의 합을 나타낸 것이다. 이에 대한 옳은 설명을 <보기>에서 고른 것은? (단, (가)~(다)는 지도에 표시된 국가 중 하나임.) [3점]



— <보기> —

- ㄱ. 유럽계 인구는 아르헨티나가 가장 많다.
- ㄴ. (가)는 에스파냐어를 공용어로 사용한다.
- ㄷ. (나)에서는 매년 리우 카니발이 열린다.
- ㄹ. 브라질은 멕시코보다 국가 전체 인구에서 A의 비중이 높다.

- ① ㄱ, ㄴ ② ㄱ, ㄷ ③ ㄴ, ㄷ ④ ㄴ, ㄹ ⑤ ㄷ, ㄹ

14. 다음 자료의 ㉠~㉣에 대한 설명으로 옳지 않은 것은?

미국 서부 지형 답사 노트

2017년 ○○월 □□일

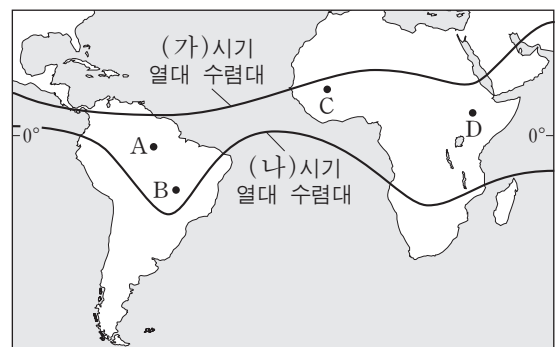
- '죽음의 계곡'으로 불리는 ㉠사막 지역에 발달한 ㉡바하다, ㉢플랴아 지형

2017년 ○○월 △△일

- ㉣건조 기후의 ㉤퇴적암 지역에 발달한 탁자와 탑 모양의 지형

- ① ㉠은 물리적 풍화가 화학적 풍화보다 활발하다.
- ② ㉡은 사구가 연속적으로 발달한 지형이다.
- ③ ㉢에 고인 물은 염분이 많아 식수로 부적합하다.
- ④ ㉣은 증발량이 강수량보다 많다.
- ⑤ ㉤에는 메사와 뷰트가 있다.

15. 지도의 A~D 지역에 대한 설명으로 옳은 것은? (단, (가), (나) 시기는 1월과 7월 중 하나임.) [3점]



- ① (가) 시기에 B는 A보다 대류성 강수 일수가 많다.
- ② (가) 시기에 C는 B보다 정오의 태양 고도가 낮다.
- ③ (나) 시기에 B는 C보다 아열대 고압대의 영향을 많이 받는다.
- ④ B는 (나) 시기보다 (가) 시기에 밤의 길이가 길다.
- ⑤ (가), (나) 시기 모두 D는 A보다 강수량이 많다.

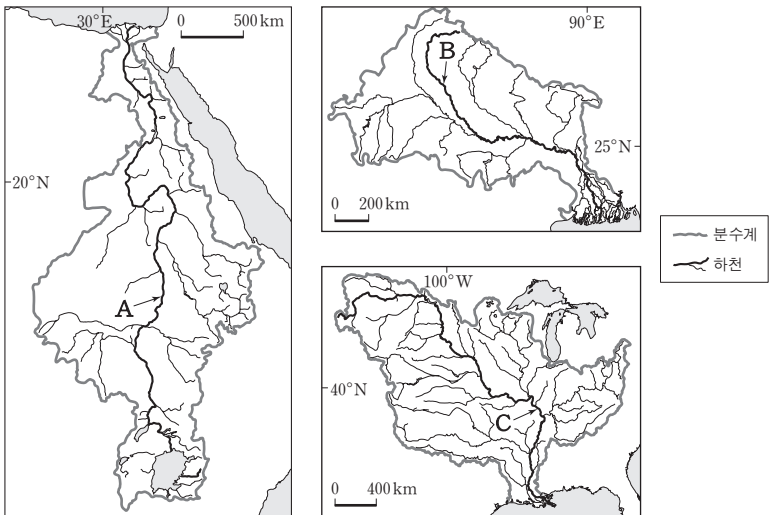
16. 다음 자료는 여행 중인 두 학생이 주고받은 전자 메일의 내용이다. 밑줄 친 ㉠~㉣에 대한 설명으로 옳지 않은 것은? [3점]

안녕? ○○야! 나는 불교의 발상지로 알려진 나라를 여행 중이야. 이 나라 영화에서는 단체로 춤을 추는 군무(群舞)를 자주 볼 수 있어. 그 이유는 ㉠이 나라 사람들 대다수가 믿는 종교에 춤, 음악과 관련된 신들이 많기 때문이야. 또 10개 이상의 공용어를 사용하는 이 나라에서 군무는 소통의 의미를 갖고 있어.

그래! □□야. 나는 오늘 차를 타고 싱가포르와 국경을 접한 이 나라로 넘어왔어. 이 나라는 여러 민족과 종교가 공존해서 다양한 축제가 열려. 그중에는 ㉡소를 신성하게 여기는 종교의 신자들이 모여 신들을 찬양하는 타이푸삼 축제가 있어. 또 ㉢이 나라 사람들이 가장 많이 믿는 종교와 관련된 하리 라야 푸아사 축제도 있어.

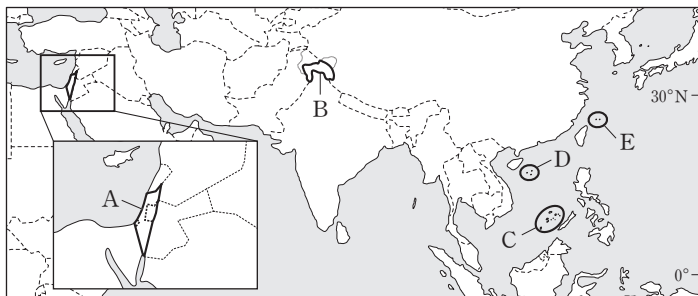
- ① ㉠은 민족 종교에 해당한다.
- ② ㉠에는 성지로 여기는 강가에서 목욕과 기도를 하는 의식이 있다.
- ③ ㉡의 대표적인 종교 경관은 첨탑과 둥근 지붕이 있는 모스크이다.
- ④ ㉢에는 '라마단'이라 불리는 금식 기간이 있다.
- ⑤ ㉠과 ㉡은 동일한 종교이다.

17. 지도의 A~C 하천에 대한 설명으로 옳은 것은? [3점]



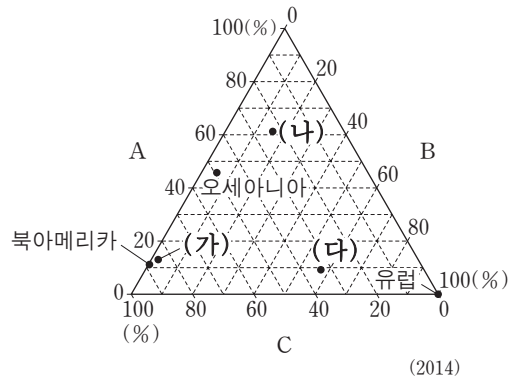
- ① B는 태평양으로 유입한다.
- ② A와 B는 고기 습곡 산지에서 발원한다.
- ③ B와 C는 물 부족에 따른 국가 간 분쟁이 심한 하천이다.
- ④ B와 C의 유역은 세계 4대 문명의 발상지이다.
- ⑤ A~C 모두 하구에 삼각주가 발달한다.

18. 지도의 A~E 지역에서 나타나는 분쟁에 대한 설명으로 옳지 않은 것은?



- ① A에서의 분쟁은 종교 및 영토 문제가 주요 원인이다.
- ② B에서는 분쟁의 주요 요인이 그리스도교와 이슬람교 간의 갈등이다.
- ③ E는 일본이 실효적으로 지배하고 있다.
- ④ C는 D보다 분쟁 당사국의 수가 많다.
- ⑤ C, D, E에서의 분쟁은 모두 중국과 관련되어 있다.

19. 그래프는 대륙별 A~C 작물의 생산량 비중을 나타낸 것이다. 이에 대한 옳은 설명을 <보기>에서 고른 것은? (단, A~C는 차, 카카오, 커피 중 하나임.)

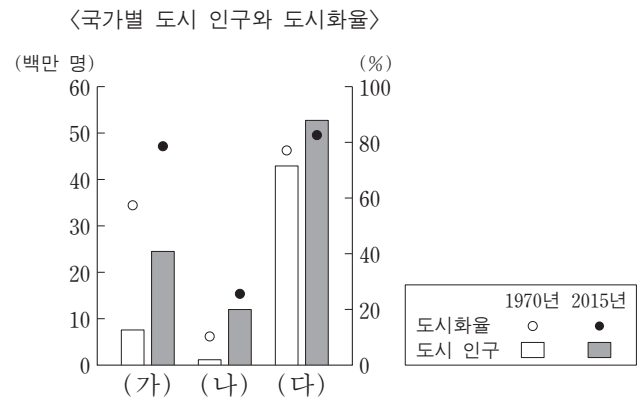


* 그래프의 점들은 각 대륙의 차, 카카오, 커피의 생산량 합을 100%로 한 작물별 비중을 나타낸 것임.
** (가)~(다)는 아시아, 아프리카, 남아메리카 중 하나임.

<보기>
ㄱ. C는 열매 속의 씨를 볶아서 음료를 만드는 데 사용된다.
ㄴ. A의 원산지는 (나)에 위치한다.
ㄷ. B의 최대 생산국은 (다)에 위치한다.
ㄹ. C는 주로 (가)의 온대 기후 지역에서 재배된다.

- ① ㄱ, ㄴ ② ㄱ, ㄷ ③ ㄴ, ㄷ ④ ㄴ, ㄹ ⑤ ㄷ, ㄹ

20. 다음 자료의 (가)~(다) 국가에 대한 옳은 설명만을 <보기>에서 있는 대로 고른 것은? (단, (가)~(다) 국가는 영국, 케냐, 페루 중 하나임.)



<보기>
ㄱ. 1970년 (가)는 촌락 인구가 도시 인구보다 많다.
ㄴ. 2015년 촌락 인구가 가장 많은 국가는 (나)이다.
ㄷ. 1970~2015년 도시 인구 증가율이 가장 높은 국가는 (다)이다.
ㄹ. 2015년 (다)는 (나)보다 1인당 국내 총생산(GDP)이 높다.

- ① ㄱ, ㄹ ② ㄴ, ㄷ ③ ㄴ, ㄹ
- ④ ㄱ, ㄴ, ㄷ ⑤ ㄴ, ㄷ, ㄹ

* 확인 사항
○ 답안지의 해당란에 필요한 내용을 정확히 기입(표기)했는지 확인하십시오.