

제 4 교시

사회탐구 영역 (세계 지리)

성명		수험번호					3		
----	--	------	--	--	--	--	---	--	--

1. 다음 수업 장면에서 옳게 대답한 학생을 고른 것은?

교사: (가), (나) 지도에 대해 학습한 내용을 발표해 봅시다.

(가)

훈일강리역대국도지도

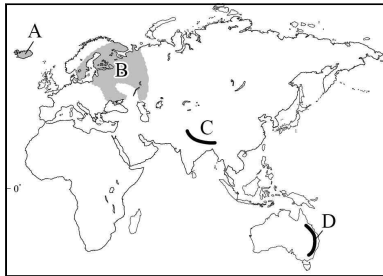
(나)

메르카토르의 세계 지도

갑: (가)는 중화사상이 반영되었습니다.  
 을: (나)는 경·위선이 직각으로 만나 항로가 직선으로 표현됩니다.  
 병: (가)는 (나)보다 그려진 지역의 범위가 넓습니다.  
 정: (가), (나) 모두 지구를 구형(球形)으로 인식하였습니다.

- ① 갑, 을    ② 갑, 병    ③ 을, 병    ④ 을, 정    ⑤ 병, 정

2. 지도의 A ~ D 지형에 대한 설명으로 옳은 것은?



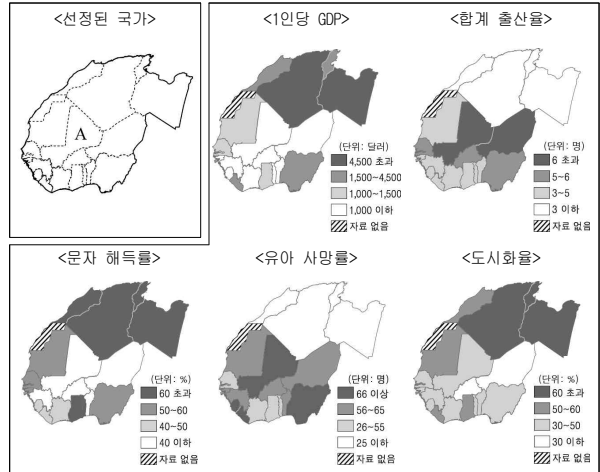
- ① A는 지각판이 충돌하는 경계에 있어 화산과 지진이 잦다.  
 ② B는 오랜 침식을 받아 평탄해진 순상지이다.  
 ③ C에는 석탄, 철광석의 매장량이 풍부하다.  
 ④ D는 판의 경계에 위치하여 해발 고도가 높고 험준하다.  
 ⑤ C는 D에 비해 형성된 시기가 이르다.

3. 다음 자료는 두 종교 경관을 나타낸 것이다. (가), (나) 종교에 대한 설명으로 옳은 것은?



- ① (가)는 돼지고기와 술을 금기시한다.  
 ② (가)의 여성 신도들은 차도르, 히잡 등을 착용한다.  
 ③ (나)는 유럽과 아메리카 지역에서 신자 비중이 가장 높다.  
 ④ (가)의 신자들은 (나)보다 다양한 신을 믿는다.  
 ⑤ (가)는 보편 종교, (나)는 민족 종교에 해당한다.

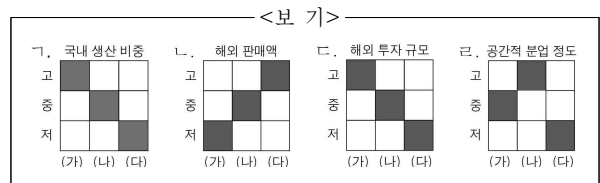
4. 북서부 아프리카 지역을 대상으로 실시한 아동 보건 시설 지원 프로젝트에서 A 국가가 선정되었다. 다음 지리 정보를 고려했을 때 선정 조건에 해당하지 않은 것은? (자료 없음은 선정 국가에서 제외함)



- ① 1인당 GDP 1,000달러 이하인 국가  
 ② 합계 출산율 상위 2개국 이내인 국가  
 ③ 문자 해득률이 가장 낮은 단계의 국가  
 ④ 유아 생존 가능성이 가장 높은 그룹의 국가  
 ⑤ 도시 거주 인구 비율이 전체 인구의 50% 이하인 국가

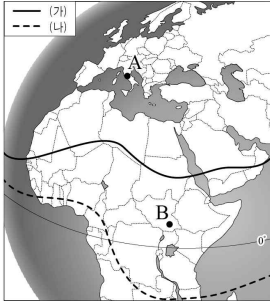
5. 다음 자료는 OO 기업의 성장 과정을 나타낸 것이다. (가)~(다) 단계의 상대적 특성으로 옳은 것을 <보기>에서 고른 것은?

	(가) 단계	(나) 단계	(다) 단계
국 내	• 본사, 연구소 1개 • 생산 공장 2개 • 영업점 및 대리점 개점, 운영	• 본사, 연구소 2개 • 생산 공장 7개 • 국내 동종 기업 인수 합병 • 영업 사업소 확대	• 본사, 연구소 4개 (기술, 디자인, 환경분야) • 생산 공장 16개 • 서비스 센터 및 영업소 확대 운영
국 외	• 판매 법인 2개	• 현지 생산 공장 6개 • 판매 법인 6개 • 지역 총괄 본부 4개	• 연구소 5개국 11개 • 생산 공장 9개국 29개 • 판매 법인 26개국 40개 • 지역 총괄 본부 7개



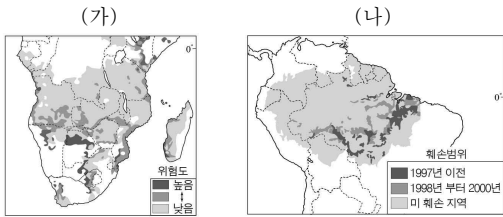
- ① 가, 나    ② 가, 다    ③ 나, 다    ④ 나, 라    ⑤ 다, 라

6. 그림은 (가), (나) 시기의 적도 수렴대 위치를 나타낸 것이다. 이에 대한 설명으로 옳은 것은? (단, (가), (나)는 1월, 7월 중 하나임.) [3점]



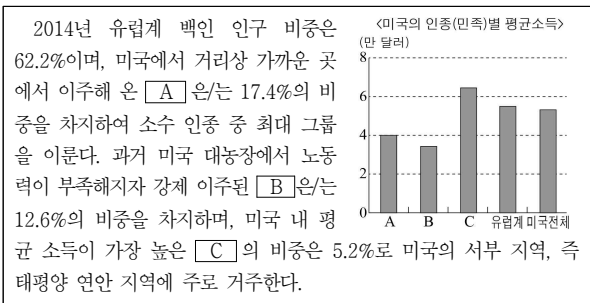
- ① (가)는 1월, (나)는 7월이다.
- ② A는 (가) 시기에 습윤하여 밀 재배에 유리하다.
- ③ A는 (나) 시기에 아열대 고압대의 영향을 받는다.
- ④ B는 (가) 시기에 북동 무역풍의 영향을 받는다.
- ⑤ B는 (나)보다 (가) 시기에 강수량이 많다.

7. 지도 (가), (나)는 두 지역에서 발생하는 환경 문제를 나타낸 것이다. 이에 대한 설명으로 옳지 않은 것은?



- ① (가)의 사례 지역으로 사헬 지대를 들 수 있다.
- ② (나)로 인해 토양의 침식이 심화된다.
- ③ (나)는 (가)보다 생물 종 다양성 감소에 큰 영향을 준다.
- ④ (가)와 (나)는 과도한 목축과 경작지 확대가 공통된 원인이다.
- ⑤ (가)는 제네바 협약, (나)는 람사르 협약을 통해 문제 해결을 모색하고 있다.

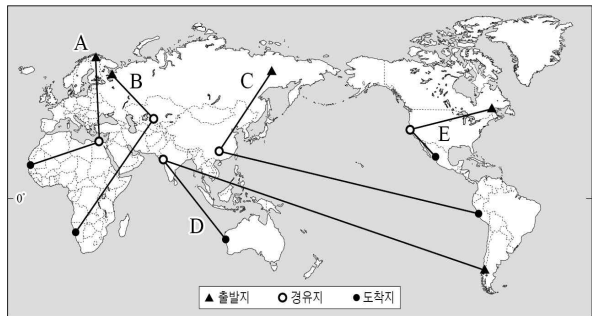
8. 다음 자료는 미국의 인종(민족)별 인구 비중과 평균 소득에 관한 것이다. A~C에 대한 설명으로 옳지 않은 것은? [3점]



- ① A는 멕시코와 접한 서남부 지역을 중심으로 거주한다.
- ② B는 미국의 서부 내륙 지역에 거주하는 비중이 높다.
- ③ C는 19세기에 건설 및 농업 노동자로 유입되기 시작했다.
- ④ A는 B보다 본격적으로 이주해 온 시기가 늦다.
- ⑤ B는 C보다 저임금 단순 직종에 종사하는 인구 비율이 높다.

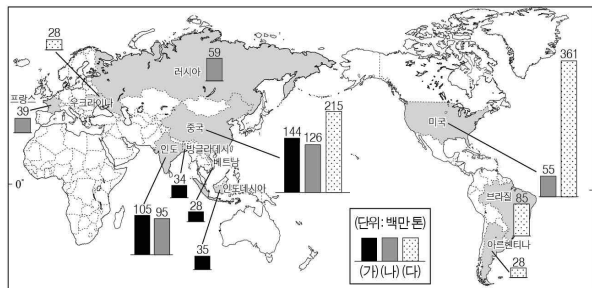
9. 다음 자료는 세 지역을 여행하면서 관찰한 주민의 생활 모습이다. 여행 경로를 지도의 A~E에서 고른 것은? [3점]

출발지: 최한월 평균 기온이 -51.3℃로 인간이 거주하는 지역 중 가장 추운 곳으로 알려져 있지만 여름 기온은 높아 수목이 자라고 감자, 귀리 등을 경작한다.  
 경유지: 기후가 온난 다습하고 배수가 잘 되는 구릉성 산지에 자리 잡은 차 농장에서 매년 2월 말, 1년 농사의 시작을 알리는 초봄 첫 찻잎 따기 의식이 거행된다.  
 도착지: 해안에 한류가 흐르기 때문에 강수량이 매우 적지만 안개가 많이 발생하는 산비탈에 그물을 설치하여 물을 모아 채소 등을 재배한다.



- ① A    ② B    ③ C    ④ D    ⑤ E

10. 지도는 주요 식량 작물의 국가별 생산량을 나타낸 것이다. (가)~(다) 작물에 대한 옳은 설명을 <보기>에서 고른 것은? (단, 세계 3대 식량 작물만 고려함.)



\* 생산량이 많은 상위 5개국만 표시함. (2014년)


<보 기>  
 가. (가)는 내한성과 내건성이 커서 재배 범위가 넓다.  
 나. (나)는 주로 계절풍 지역의 증적 평야에서 재배된다.  
 다. (가)는 (나)보다 단위 면적당 생산량이 많다.  
 리. (다)는 (가)보다 식용 이외의 소비 비중이 높다.

- ① 가, 나    ② 가, 다    ③ 나, 다    ④ 나, 리    ⑤ 다, 리


11. 다음 자료의 (가), (나) 지역에 대한 설명으로 옳지 않은 것은? [3점]

목축이 활발하게 이루어지는 두 지역의 전통 가옥을 소개하겠습니다. [(가)]의 가옥은 여러 개의 장대로 원뿔형 뼈대를 세우고 순록 가죽 여러 장으로 덮는데 이를 춤(chum)이라고 하며, 한편 [(나)]의 가옥은 나무와 펠트(양털)를 주된 재료로 이용하는데 이를 게르(ger)라고 부릅니다.

(가)

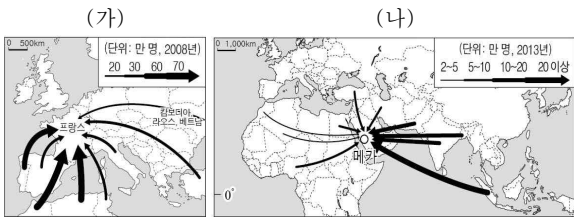


(나)



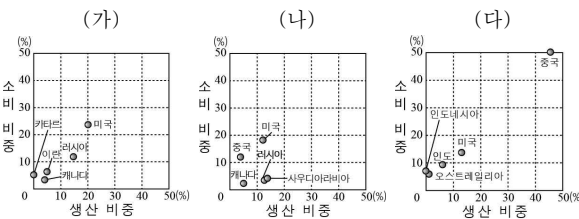
- ① (가)의 원주민들은 가축과 함께 여름에는 북쪽, 겨울에는 남쪽으로 이동한다.
- ② (나)는 연 강수량 500mm 미만인 지역이다.
- ③ (가)는 (나)보다 연평균 기온이 낮다.
- ④ (나)는 (가)보다 7월에 낮의 길이가 짧다.
- ⑤ (가), (나)에서는 상업적으로 대규모 방목을 한다.

12. 지도에 제시된 (가), (나) 인구 이동에 대한 설명으로 옳은 것은? [3점]



- ① (가)는 고급 전문 기술 인력의 이동이다.
- ② (나)는 소득 향상을 위한 경제적 이동이다.
- ③ (가)는 강제적, (나)는 자발적 이동에 해당한다.
- ④ (가)는 (나)보다 유입국에서 종교 간 갈등이 적다.
- ⑤ (가)는 (나)보다 이동 인구의 평균 체류 기간이 길다.

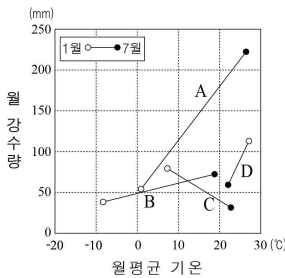
13. 그래프는 화석 에너지 자원별 세계 생산 상위 5개국의 생산과 소비 비중을 나타낸 것이다. (가)~(다)에 대한 설명으로 옳은 것은?



- ① (가)는 냉동 액화 기술의 개발 이후 소비가 급증하였다.
- ② (나)는 제철 공업용, 발전용으로 주로 이용된다.
- ③ (다)는 세계 1차 에너지 소비 구조에서 차지하는 비중이 가장 높다.
- ④ (가)는 (다)보다 연소 시 대기 오염 물질의 배출량이 많다.
- ⑤ (나)는 (다)보다 산업에 본격적으로 이용된 시기가 이르다.

14. 다음은 세 지역의 축제를 소개한 내용이다. (가)~(다) 지역의 기후 특징을 그래프의 A~D에서 고른 것은? [3점]

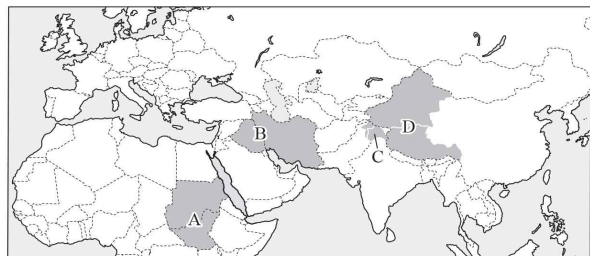
(가) 밤 11시에 해가 지고 새벽 2시에 해가 뜨는 하지가 되면 하얀 밤을 즐기기 위해 열었던 주민들의 소규모 농경 축제가 지금은 세계적인 축제로 성장하였다.  
 (나) 사순절 직전 마음껏 즐기자는 취지에서 시작된 축제로 유럽과 아프리카 등 다양한 이주민들의 문화가 융합되었고 화려한 의상과 삼바 춤으로 유명하다.  
 (다) 로마 황제들이 즐겨 마셨다는 화이트 와인으로 유명한 이곳에서는 매년 10월 포도 축제가 열린다. 포도 수확을 성모 마리아의 은총으로 여겨 감사하는 의미의 축제이다.



- |   | (가) | (나) | (다) |
|---|-----|-----|-----|
| ① | A   | B   | D   |
| ② | B   | C   | A   |
| ③ | B   | D   | C   |
| ④ | C   | B   | A   |
| ⑤ | C   | D   | A   |

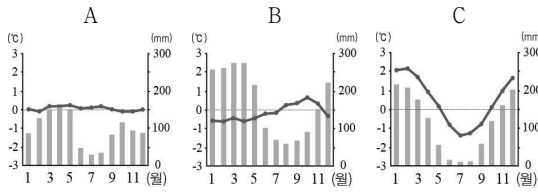
15. 다음 자료의 (가)~(다)에 해당하는 지역을 지도의 A~D에서 고른 것은? [3점]

(가) 주민 대다수가 이슬람교도이나 힌두교 국가에 편입되면서 국가 간 분쟁이 발발하였다. 국제연합(UN)의 중재로 정전 협정이 체결되었지만 갈등은 지속되고 있다.  
 (나) 종교와 인종 문제로 인해 수십 년 간 내전을 벌이다 2011년 분리 독립하여 새 국가가 탄생하였으나, 명확하지 않은 국경선과 석유 개발 이익의 분배 문제로 갈등을 빚고 있다.  
 (다) 천연 가스 및 각종 자원이 풍부한 이 지역은 소수 민족의 자치구로 인정받았으나, 독립을 위한 투쟁이 지속되고 있다.



- |   | (가) | (나) | (다) |
|---|-----|-----|-----|
| ① | A   | B   | C   |
| ② | A   | B   | D   |
| ③ | C   | A   | D   |
| ④ | C   | D   | A   |
| ⑤ | D   | A   | B   |

16. 그래프는 세 지역의 월 기온 편차와 월 강수량을 나타낸 것이다. A~C 지역에 대한 설명으로 옳은 것은? [3점]



\* 월 기온 편차 = 월평균 기온 - 연평균 기온



- ① A는 거의 매일 대류성 강수가 발생한다.
- ② B는 상록 활엽수가 다층의 숲을 이룬다.
- ③ C는 연중 상춘(常春) 기후가 나타난다.
- ④ B는 A보다 해발 고도가 높다.
- ⑤ B, C는 일교차가 연교차보다 작다.

\* 각 지역은 A~C 중 하나임.

17. 다음 자료의 A~C 지형에 대한 설명으로 옳은 것은? (단, A~C는 각각 빙하 지형, 하천 지형 중 하나임.)



A: 하천 주변에 농경지로 이용되고 있는 평야  
B: 주변 평지보다 고도가 높은 지형

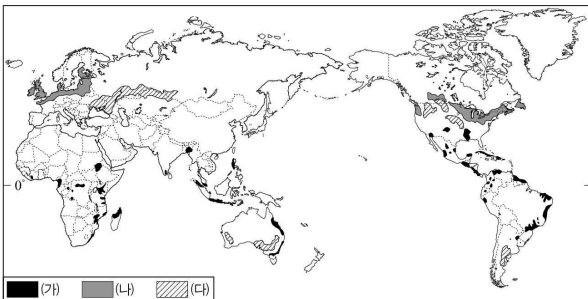
C: 평지 위에 길게 이어져 있는 제방 모양의 지형

<보기>

- ㉠. A는 하천의 범람으로 형성된 퇴적 지형이다.
- ㉡. C는 빙하 밀을 흐르는 용빙수에 의해 형성된 지형이다.
- ㉢. B는 A보다 홍수 시 범람에 의한 침수 위험이 크다.
- ㉣. C는 A보다 퇴적 물질의 평균 입자 크기가 작다.

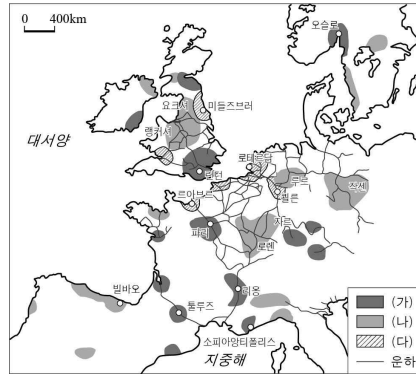
- ① ㉠, ㉡    ② ㉠, ㉢    ③ ㉡, ㉣    ④ ㉡, ㉣    ⑤ ㉢, ㉣

18. 지도에 표시된 (가)~(다) 농업 지역에 대한 설명으로 옳은 것은? (단, (가)~(다)는 낙농업, 상업적 곡물 농업, 플랜테이션 중 하나임.) [3점]



- ① (가)는 젖소를 사육하여 우유, 치즈 등 유제품을 생산한다.
- ② (나)는 대형 농기계를 이용하여 대규모로 곡물을 재배한다.
- ③ (다)는 선진국의 자본과 원주민의 노동력이 결합된 농업이다.
- ④ (나)는 (가)보다 교통이 편리한 대소비자 부근에 발달한다.
- ⑤ (다)는 (가)보다 기호 작물의 재배 비중이 높다.

19. 지도는 유럽의 주요 공업 지역을 나타낸 것이다. (가)~(다) 지역에 대한 설명으로 옳은 것은? [3점]

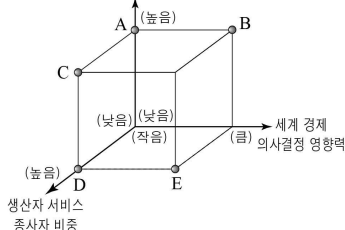


- ① (가)는 풍부한 석탄과 철광석을 바탕으로 공업이 발달했다.
- ② (나)는 자원의 해외 의존도 증가로 공업이 성장하였다.
- ③ (다)는 대도시와 연구소, 대학 등을 중심으로 발달한 첨단 산업 지역이다.
- ④ (가)는 (다)보다 공업 지역 형성 시기가 늦다.
- ⑤ 운하의 발달로 (가)의 주요 생산 시설이 (나)로 이전되었다.

20. 다음 자료의 (가) 도시에 대한 (나) 도시의 상대적 특징으로 옳은 것을 그림의 A~E에서 고른 것은?

- 국제 금융의 중심지인 **(가)** 은/는 유럽의 정보 기술(IT) 산업의 허브이자 세계 도시로 국제 자본의 네트워크를 이끌고 있다. 한편, 오랜 산업 활동을 거치면서 낙후된 건물과 산업 시설에 대해 역사적 의미를 더하고 문화적 가치를 부여하여 새로운 활력을 불어넣는 도시 재생 사업을 추진하고 있다.
- 동아프리카의 관광지로 유명한 **(나)** 은/는 도시 역사는 짧지만 인근 지역의 물류, 경제, 문화의 중심지이다. 하지만 도시 인구의 절반 이상이 기반 시설이 열악한 슬럼에 거주한다. 특히 키베라는 아프리카에서 두 번째로 큰 슬럼으로 100만 명 이상의 주민들이 거주하며 상당수가 하루 1달러 미만으로 생활하고 있다.

비공식 부문 경제 활동 비중



- ① A
- ② B
- ③ C
- ④ D
- ⑤ E

\* 비공식 부문 경제 활동: 국가의 공식적인 통계에 잡히지 않는 경제 활동으로 불법 고용, 노점, 마약 거래 등이 포함된다.

\* 확인 사항  
○ 답안지의 해당란에 필요한 내용을 정확히 기입(표기)했는지 확인하시오.