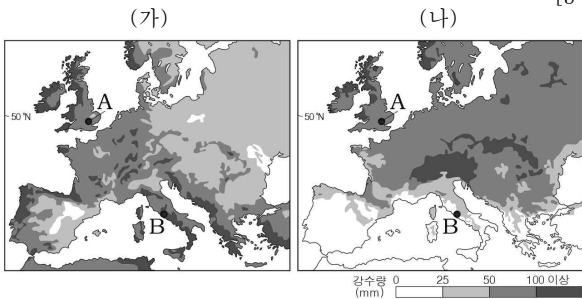
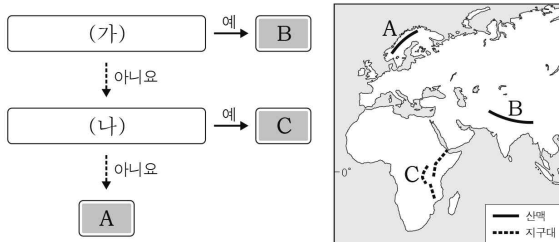


6. 지도는 (가), (나) 시기의 강수 분포를 나타낸 것이다. A, B 지역에 대한 설명으로 옳은 것은? (단, (가), (나) 시기는 1월과 7월 중 하나임.) [3점]



- ① A는 B보다 연평균 기온이 높다.
- ② B는 A보다 여름 강수 집중률이 높다.
- ③ B는 A보다 연중 편서풍의 영향을 크게 받는다.
- ④ (가) 시기 A는 B보다 낮의 길이가 길다.
- ⑤ (나) 시기 B는 A보다 아열대 고압대의 영향을 크게 받는다.

7. 그림은 지도의 A~C 지형을 구분한 것이다. (가), (나)에 들어갈 옳은 질문을 <보기>에서 고른 것은? [3점]



< 보기 >

- ㄱ. 대륙판이 서로 충돌하는 경계에 위치합니까?
- ㄴ. 고생대에 형성되어 오랜 침식을 받았습니까?
- ㄷ. 지열 발전에 유리한 자연적 조건을 갖추고 있습니까?

- | | | | |
|-----|-----|-----|-----|
| (가) | (나) | (가) | (나) |
| ① ㄱ | ㄴ | ② ㄱ | ㄷ |
| ③ ㄴ | ㄱ | ④ ㄴ | ㄷ |
| ⑤ ㄷ | ㄴ | | |

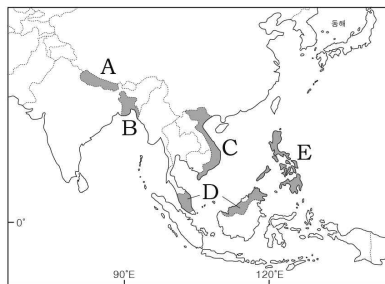
8. 다음은 어느 종교 경관을 표현한 미술 작품이다. 이 종교를 믿는 주민들의 생활양식으로 옳은 것은?



- ① 소를 신성시하여 소고기를 먹지 않는다.
- ② 살생을 금하는 교리에 따라 채식을 선호한다.
- ③ 라마단 기간 동안 해가 떠 있는 시간에 금식한다.
- ④ 개인의 수양 및 해탈을 강조하고 윤회 사상을 믿는다.
- ⑤ 강가에서 목욕과 화장(火葬) 등의 종교 의식을 행한다.

9. 다음 자료는 어느 국가로의 여행 일정 중 일부이다. 이에 해당하는 국가를 지도의 A~E에서 고른 것은? [3점]

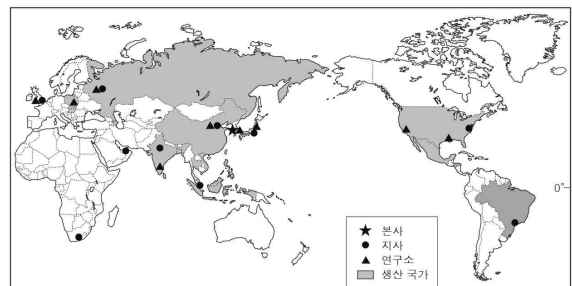
구분	일정
1일 차	인천공항 출발 15:00 (비행 소요 시간 약 4시간 30분) ○○공항 도착 현지 시각 17:30 석식(현지식: 쌀국수와 돼지고기 구이) 후 호텔 체크인
2일 차	유네스코 지정 세계 자연 유산인 '할롱베이' 관광 - 석회 동굴 및 전망대 관광 포함 전통 의상인 '아오자이' 체험 - 아자수 잎과 대나무로 만든 전통 모자 '농라' 제공
5일 차	석가모니와 고승들의 사리탑이 있는 사원 관람 ○○공항 이동 후 출발 현지 시각 12:30 인천공항 도착 19:00



- ① A
- ② B
- ③ C
- ④ D
- ⑤ E

10. 다음은 세계 지리 수업의 일부이다. 교사의 질문에 옳게 대답한 학생만을 있는 대로 고른 것은?


교사: 지도는 전자 제품을 생산·판매하는 어느 기업의 기능별 입지를 나타내고 있습니다. 이를 통해 알 수 있는 내용은 무엇일까요?



- 갑: 제품의 개발·생산·판매 활동에서 국제적 분업이 이루어지고 있어요.
- 을: 경영 전략 수립 및 최종 의사 결정은 한국에서 이루어지고 있어요.
- 병: 지사는 구매력이 높거나 소비 시장이 넓은 국가에 주로 입지하고 있어요.
- 정: 제품을 생산하는 공장은 대부분 고급 인력 확보가 용이한 선진국에 입지하고 있어요.

- ① 갑, 병
- ② 갑, 정
- ③ 을, 정
- ④ 갑, 을, 병
- ⑤ 을, 병, 정

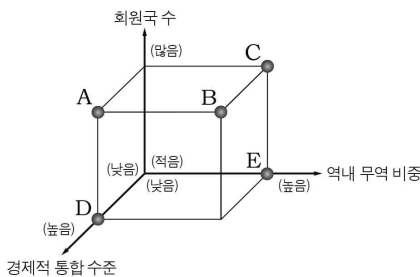
11. 다음 자료는 세 국가의 식량 작물별 생산 비중과 전통 음식을 나타낸 것이다. A~C 작물에 대한 설명으로 옳은 것은? [3점]



- ① A는 아메리카가 원산지이다.
- ② B와 C의 세계 최대 생산국은 모두 중국이다.
- ③ A는 B보다 단위 면적당 생산량이 많다.
- ④ B는 C보다 건조한 기후에 대한 적응력이 높다.
- ⑤ C는 A보다 바이오 에탄올의 원료로 이용되는 비중이 높다.

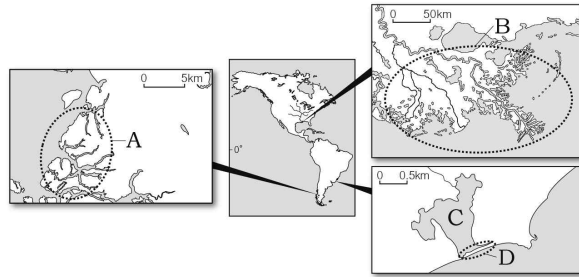
12. 다음 글의 (가)에 대한 (나) 지역 경제 협력체의 상대적 특성을 그림의 A~E에서 고른 것은?

- 미국은 인접 국가들과 (가)을/를 체결하고 상호 간의 관세를 철폐하였다. 그 결과 미국 시장으로 진출하려는 세계 기업들의 투자가 인접국으로 확대된 반면, 미국에서는 일자리 부족 문제가 발생했다. 이로 인해 미국에서는 (가)의 체험상 또는 탈퇴를 주장하는 목소리가 커지고 있다.
- 영국의 (나) 탈퇴를 의미하는 브렉시트(Brexit)가 국민 투표를 통해 결정되었다. 이는 영국으로의 난민 증가와 분담금 부담 문제 등이 배경이 되었다. 브렉시트의 영향으로 (나)에서 사용하는 단일 통화의 가치가 하락하였으며, 다른 회원국들 사이에서도 탈퇴를 주장하는 여론이 일부 형성되고 있다.



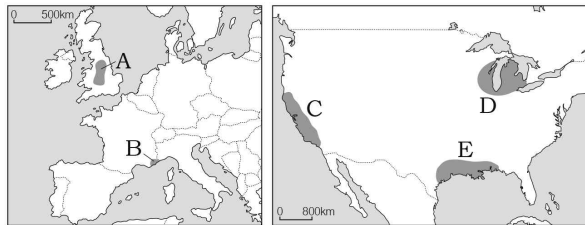
- ① A
- ② B
- ③ C
- ④ D
- ⑤ E

13. 지도의 A~D에 대한 설명으로 옳은 것은? [3점]



- ① A는 하천에 의해 침식된 골짜기가 침수되어 형성된 해안이다.
- ② B는 빙하에 의해 운반된 물질이 퇴적되어 형성되었다.
- ③ C는 현재의 해수면 높이가 유지되면 호수의 면적이 점차 축소된다.
- ④ D는 수심이 깊은 곳에서 잘 형성된다.
- ⑤ B와 D는 퇴적보다 침식 작용이 활발한 곳에서 잘 형성된다.

14. 지도의 A~E 공업 지역에 대한 설명으로 옳지 않은 것은? [3점]



- ① A는 원료 산지를 중심으로 발달하였다.
- ② E는 우주 및 석유 화학 산업이 발달하였다.
- ③ A는 B보다 대기 오염 물질의 배출량이 많다.
- ④ C는 D보다 형성 시기가 늦다.
- ⑤ D는 C보다 지식 집약적인 고부가가치 공업이 발달하였다.

15. 다음은 수행 평가 보고서의 일부이다. 밑줄 친 '(가) 기후 지역'의 자연 환경 특성으로 옳은 것은?

수행 평가 보고서 3학년 ○반 이름 : □□□

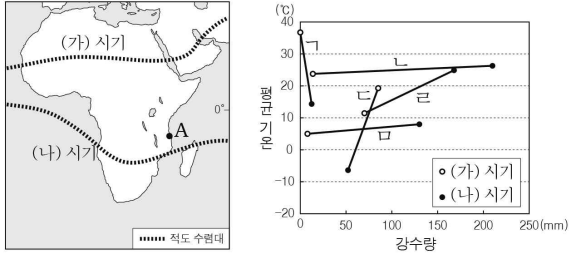
주제 기후 특색이 반영된 세계 각 지역의 전통 의복

조사 내용

여름이 짧고 겨울이 긴 (가) 기후 지역의 주민들은 혹독한 추위를 견디기 위해 순록의 가죽과 털을 이용하여 의복을 만들었다. 또한 야외 활동 중에 강한 눈보라와 하얀 눈에 반사된 햇빛을 막기 위해 눈가리개를 착용하였다.

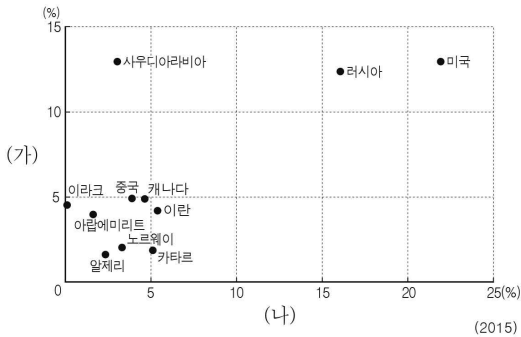
- ① 강수량보다 증발량이 많다.
- ② 상륙 활엽수가 넓게 분포한다.
- ③ 거의 매일 대류성 강수가 나타난다.
- ④ 동결과 융해의 반복으로 형성된 구조토가 나타난다.
- ⑤ 기계적(물리적) 풍화 작용보다 화학적 풍화 작용이 활발하다.

16. 지도는 (가), (나) 시기의 적도 수렴대 위치를 나타낸 것이다. A 지역의 기후 그래프로 옳은 것은? (단, (가), (나) 시기는 1월과 7월 중 하나임.) [3점]



- ① 가 ② 나 ③ 나 ④ 나 ⑤ 나

17. 그래프는 두 화석 에너지의 주요 국가별 생산 비중을 나타낸 것이다. (가), (나) 자원에 대한 설명으로 옳은 것은? [3점]



* 국가별 생산 비중은 전 세계에서 차지하는 생산 비중임.

- ① (가)는 고기 조산대에 주로 매장되어 있다.
 ② (나)는 산업혁명 당시 주요 에너지원이었다.
 ③ (가)는 (나)보다 상용화된 시기가 늦다.
 ④ (가)는 (나)보다 수송용으로 이용되는 비중이 높다.
 ⑤ (나)는 (가)보다 세계 에너지 소비량에서 차지하는 비중이 높다.

18. 다음 자료의 A~D 분쟁 지역에 해당하는 신문 기사가 옳게 연결된 것은? [3점]

- 석유보다 귀한 물 분쟁**: 터키가 하천 상류에 댐을 건설하면서 하류에 위치한 이라크에서 물 부족 문제가 나타났다...
- 중국, 일본 제품 불매 운동**: 센카쿠 열도(다오위다오)를 둘러싼 중국과 일본 간의 영유권 분쟁이 심화되고 있다...
- 파키스탄, 인도 영화 금지령**: 카슈미르 지방에서는 이슬람교의 파키스탄과 힌두교의 인도 간 무력 분쟁이 지속되고 있다...
- 독립을 꿈꾸는 플랑드르**: 네덜란드어를 사용하는 플랑드르 지방과 프랑스어를 사용하는 왈롱 지방의 경제 격차가 심화되었다...

- ① A, B ② A, C ③ B, C ④ B, D ⑤ C, D

19. 다음은 세계 지리 수업 장면이다. 교사의 질문에 옳게 발표한 학생을 고른 것은?

자료는 어떤 환경 문제가 나타난 사례 지역에 대한 것입니다. 이 환경 문제에 대해 설명해 볼까요?

<'차칸노르' 호수의 크기 변화>

1985년 2013년

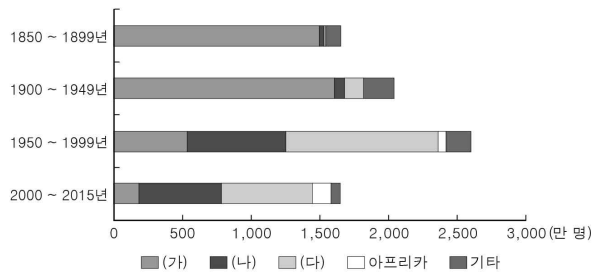
호수의 경계



갑: 인구 증가와 과도한 목축이 주요 원인입니다.
 을: 열대 우림 기후 지역에서 주로 발생하고 있습니다.
 병: 조림 사업은 이러한 환경 문제를 해결할 수 있는 방안 중 하나입니다.
 정: 이 문제를 해결하기 위해 국제 사회는 몬트리올 의정서를 채택하였습니다.

- ① 갑, 을 ② 갑, 병 ③ 을, 병 ④ 을, 정 ⑤ 병, 정

20. 그래프는 미국으로의 시기별 인구 이동 현황을 나타낸 것이다. (가) ~ (다)에 해당하는 지역(대륙)으로 옳은 것은? [3점]



* 인구 이동은 합법적 영주권 취득을 통한 이주에 한함.

- | | (가) | (나) | (다) |
|---|---------|---------|---------|
| ① | 유럽 | 아시아 | 라틴 아메리카 |
| ② | 유럽 | 라틴 아메리카 | 아시아 |
| ③ | 아시아 | 유럽 | 라틴 아메리카 |
| ④ | 아시아 | 라틴 아메리카 | 유럽 |
| ⑤ | 라틴 아메리카 | 아시아 | 유럽 |

※ 확인 사항

답안지의 해당란에 필요한 내용을 정확히 기입(표기)했는지 확인하십시오.