

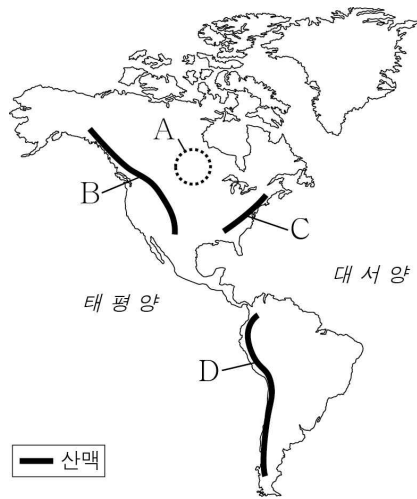
제 4 교시

사회탐구 영역(세계 지리)

성명

수험번호 3

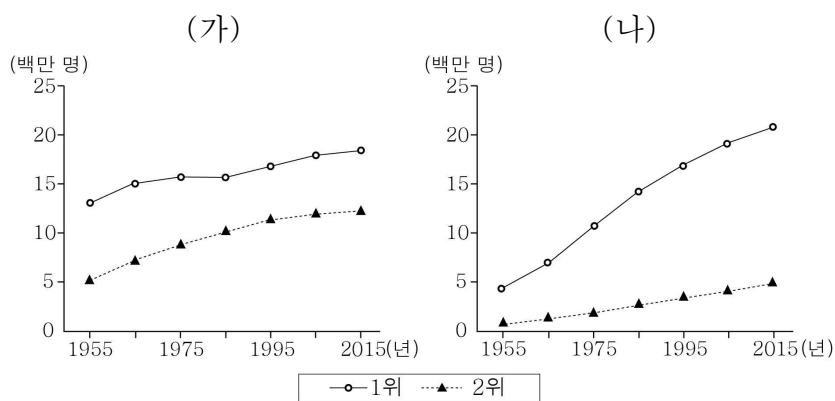
1. 지도의 A~D에 대한 옳은 설명을 <보기>에서 고른 것은?



< 보 기 >
 ㄱ. A는 순상지의 일부이다.
 ㄴ. D는 대륙판과 대륙판의 충돌로 형성되었다.
 ㄷ. B는 C보다 평균 해발 고도가 높다.
 ㄹ. C에는 D보다 화산이 많이 분포한다.

- ① ㄱ, ㄴ ② ㄱ, ㄷ ③ ㄴ, ㄷ
 ④ ㄴ, ㄹ ⑤ ㄷ, ㄹ

2. 그래프는 두 국가의 인구 규모 상위 1위와 2위 도시의 인구 변화를 나타낸 것이다. (가)와 비교한 (나)의 상대적 특징에 대한 옳은 설명만을 <보기>에서 있는 대로 고른 것은? (단, (가), (나)는 미국과 멕시코 중 하나이다.) [3점]



< 보 기 >
 ㄱ. 중주 도시화 현상이 뚜렷하다.
 ㄴ. 도시화의 중착 단계에 진입한 시기가 이른다.
 ㄷ. 1955~2015년 동안의 1위 도시 인구 증가율이 낮다.
 ㄹ. 1위 도시에서 주택 및 기반 시설 부족 문제가 심각하다.

- ① ㄱ, ㄷ ② ㄱ, ㄹ ③ ㄴ, ㄷ
 ④ ㄱ, ㄴ, ㄹ ⑤ ㄴ, ㄷ, ㄹ

3. 다음 글의 ㉠~㉢에 대한 설명으로 옳지 않은 것은?

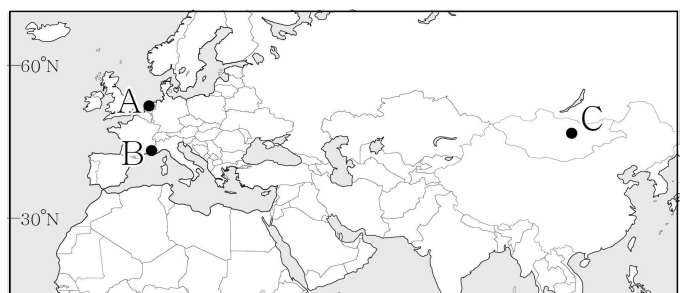
○ 과거 독일의 공업 발달을 이끌었던 ㉠ 에센은 도시 재생 사업을 통해 새롭게 변화하고 있다. 1980년대 이후 ㉡ 철강 회사가 폐쇄되면서 버려졌던 가스탱크는 물을 채워 다 이빙 센터로, 경석장은 실내 스키장으로 이용되고 있다.
 ○ 멕시코 내 미국과의 접경 지역에 위치한 ㉢ 레이노사는 과거 목화 재배가 활발했던 곳이었는 데, 최근 마킬라도라 공업 지대의 주요 산업 도시로 성장하였다. 우리나라의 L사를 비롯한 ㉣수많은 기업이 진출해 있으며, 미국 시장 공략의 전초 기지 역할을 하고 있다.

* 경석장: 석탄 채굴 과정에서 발생한 폐석을 쌓아 놓은 곳임.

- ① ㉠은 도시 재생 사업 이후 3차 산업의 비중이 높아졌다.
 ② ㉡의 원인에는 자원 고갈, 시설 노후화 등이 있다.
 ③ ㉢에는 원료와 중간재를 수입하여 가공한 후 완제품을 수출하는 공업이 발달해 있다.
 ④ ㉣의 주된 목적은 제품 개발을 위한 고급 기술 인력 확보이다.
 ⑤ ㉠은 ㉢보다 공업화가 시작된 시기가 이른다.

4. 다음 자료의 (가)~(다) 지역에 대한 설명으로 옳은 것은? (단, (가)~(다)는 지도의 A~C 중 하나이다.) [3점]

<p>(가)의 ○○축제 주민들이 전통 의상을 입고 과거의 치즈 시장을 재현하고 있습니다.</p>	<p>(나)의 ☆☆축제 주민들이 넓은 초원을 배경으로 말 달리기, 씨름, 활쏘기를 즐기고 있습니다.</p>	<p>(다)의 ◇◇축제 지역 특산물인 레몬과 오렌지로 꾸민 조형물이 전시되고 있습니다.</p>
---	---	--



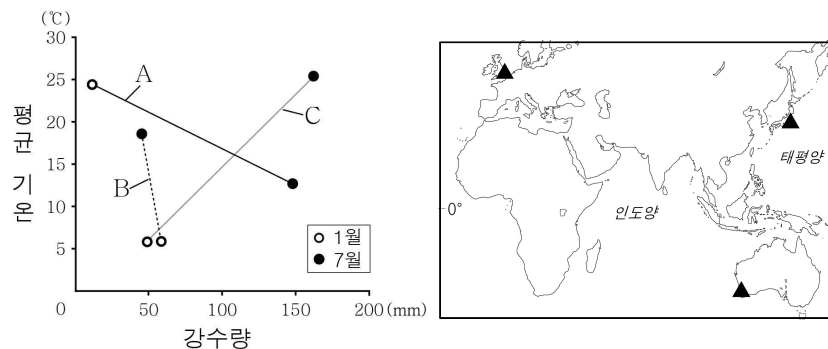
- ① (가)는 (나)보다 최한월 평균 기온이 높다.
 ② (나)는 (다)보다 기온의 연교차가 작다.
 ③ (다)는 (가)보다 여름 강수량이 많다.
 ④ (가)에서는 쌀, (나)에서는 옥수수를 주식으로 한다.
 ⑤ (가)는 A, (나)는 B, (다)는 C에 해당한다.

5. (가)~(다) 지도에 대한 설명으로 옳은 것은?



- ① (가)에는 그리스도의 세계관이 반영되어 있다.
- ② (나)는 나침반을 이용한 항해에 사용되었다.
- ③ (다)에는 아메리카 대륙이 표현되어 있다.
- ④ (가)와 (다)는 지도의 위쪽이 가리키는 방위가 같다.
- ⑤ (가)~(다) 모두 지구 구체설을 토대로 제작되었다.

6. 그래프의 A~C 지역에 대한 설명으로 옳은 것은? (단, A~C는 지도에 표시된 지역 중 하나이다.) [3점]



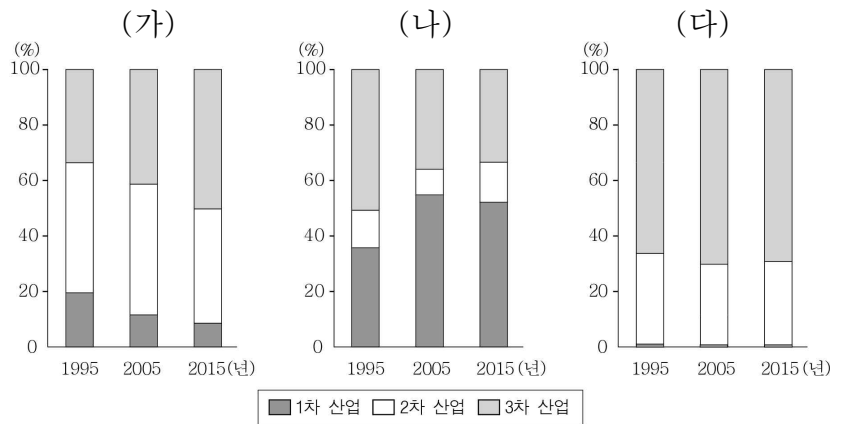
- ① A는 7월에 아열대 고압대의 영향을 주로 받는다.
- ② B는 수목 농업이 활발히 이루어진다.
- ③ A는 B보다 1월의 낮 길이가 길다.
- ④ A는 C보다 최난월 강수량이 많다.
- ⑤ B는 C보다 하천 수위의 계절별 변동 폭이 크다.

7. 다음 자료의 ㉠~㉤ 중 서남아시아 건조 기후 지역의 전통적인 생활 모습으로 적절하지 않은 것은?

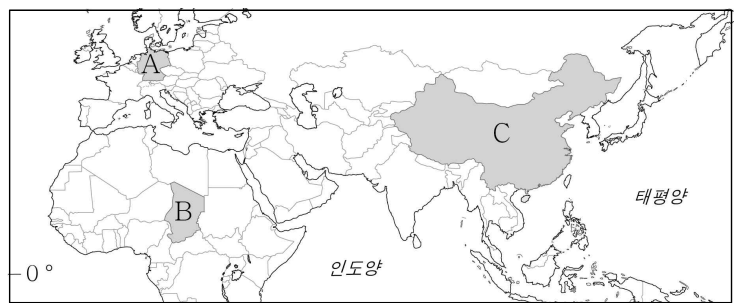


- ① ㉠ ② ㉡ ③ ㉢ ④ ㉣ ⑤ ㉤

8. 그래프와 같은 산업 구조 변화가 나타난 (가)~(다) 국가를 지도의 A~C에서 고른 것은? [3점]



* 산업별 생산액 기준임.



- | | | | | | | | |
|---|-----|-----|-----|---|-----|-----|-----|
| | (가) | (나) | (다) | | (가) | (나) | (다) |
| ① | A | B | C | ② | A | C | B |
| ③ | B | C | A | ④ | C | A | B |
| ⑤ | C | B | A | | | | |

9. 다음 자료는 세계 지리 수업 시간에 필기한 노트의 일부이다. (가) 기후 지역에 대한 옳은 설명을 <보기>에서 고른 것은?

㉠ (가) 기후 지역의 지형 형성 작용과 지형 경관

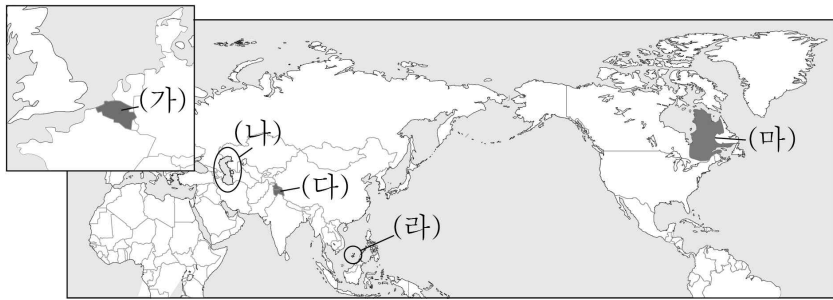
활동층 → 여름철에 활동층이 녹으면서 경사면을 따라 흘러내리는 현상이 나타남.

토양 내 수분의 동결과 융해가 반복되면서 지표면에서 물질의 분급 작용이 일어나 다각형의 지형이 형성됨.

- < 보 기 >
- ㄱ. 강수량보다 증발량이 많다.
 - ㄴ. 토양이 비옥하여 농업 활동에 유리하다.
 - ㄷ. 최난월 평균 기온이 0℃ 이상, 10℃ 미만이다.
 - ㄹ. 건물에서 발생하는 열이 지면으로 전달되는 것을 막기 위한 시설이 나타난다.

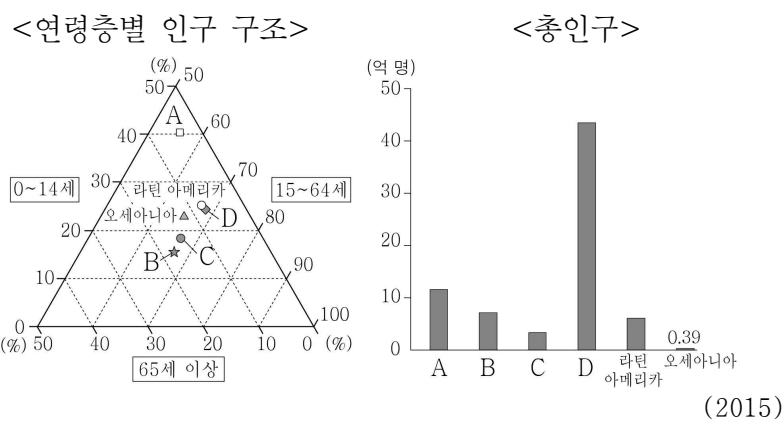
- ① ㄱ, ㄴ ② ㄱ, ㄷ ③ ㄴ, ㄷ
- ④ ㄴ, ㄹ ⑤ ㄷ, ㄹ

16. (가)~(마) 지역의 분쟁 및 갈등에 대한 내용으로 옳은 것은?



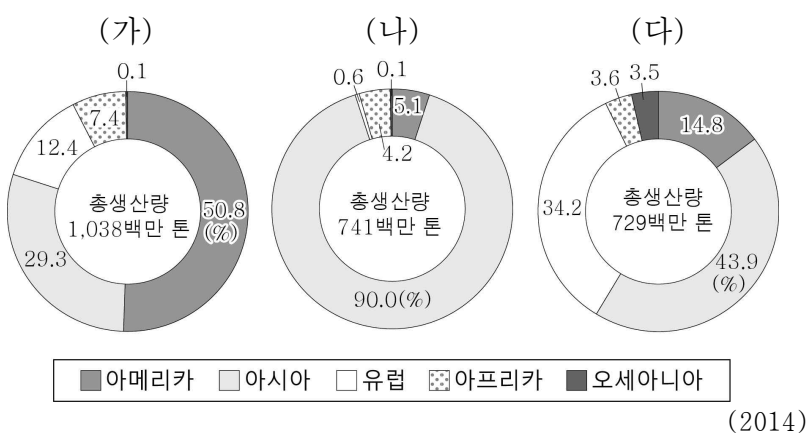
- ① (가) - 영어와 프랑스어를 사용하는 주민 간의 언어 갈등
- ② (나) - 석유와 천연가스 확보를 둘러싼 국가 간의 영역 분쟁
- ③ (다) - 가톨릭교와 개신교 간의 종교 갈등
- ④ (라) - 중국과 일본 간의 영유권을 둘러싼 분쟁
- ⑤ (마) - 국제 하천의 댐 건설을 둘러싼 상·하류 지역 간의 물 분쟁

17. 그래프의 A~D 지역에 대한 설명으로 옳은 것은? (단, A~D는 유럽, 아시아, 아프리카, 앵글로아메리카 중 하나이다.) [3점]



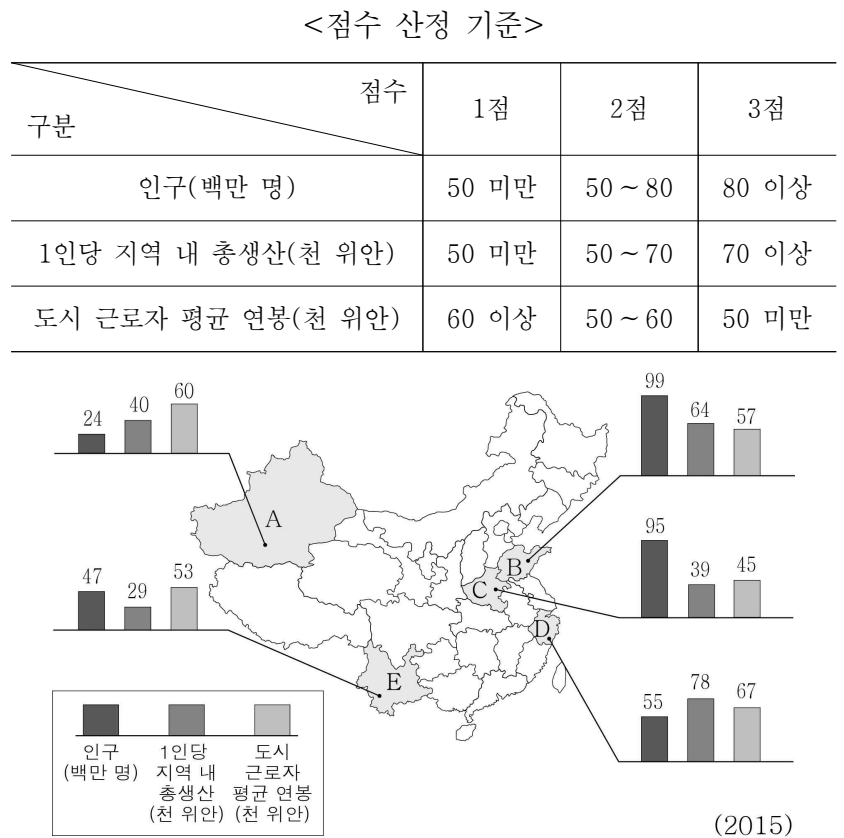
- ① A는 B보다 총 부양비가 낮다.
- ② B는 D보다 노년층 인구가 많다.
- ③ C는 A보다 영아 사망률이 높다.
- ④ D는 C보다 지역 내 국가 간 경제 발전 수준의 차이가 크다.
- ⑤ A에는 출산 장려 정책이, B에는 출산 억제 정책의 필요성이 큰 국가들이 많다.

18. 그래프는 세계 3대 식량 작물의 지역별 생산량 비중을 나타낸 것이다. (가)~(다) 작물에 대한 설명으로 옳은 것은?



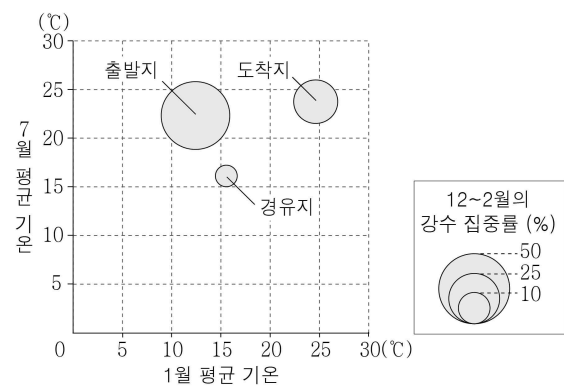
- ① (가)의 원산지는 아시아이다.
- ② (나)는 내한성과 내건성이 커 재배 범위가 넓다.
- ③ (다)는 바이오 에탄올의 원료로 이용되면서 수요가 급증하였다.
- ④ (가)는 (나)보다 가축의 사료로 이용되는 비중이 높다.
- ⑤ (나)는 (다)보다 국제 이동량이 많다.

19. 다음 자료를 토대로 ○○기업이 중국에 생산 공장을 설립하고자 한다. 지도의 A~E 중 가장 적합한 지역을 고른 것은? (단, 합산 점수가 가장 높은 지역을 선정하며, 합산 점수가 같을 때는 도시 근로자 평균 연봉이 적은 지역을 선택한다.)

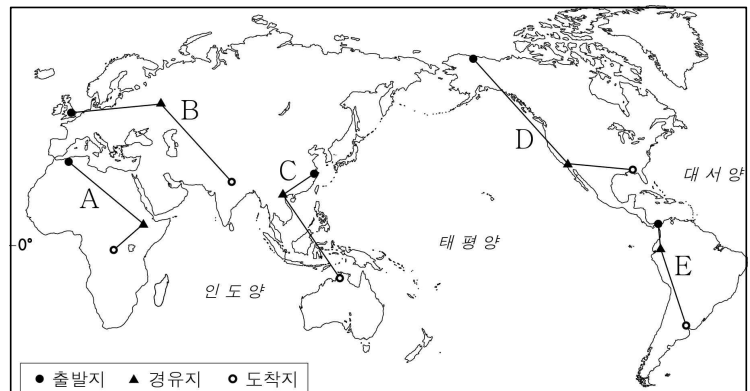


- ① A ② B ③ C ④ D ⑤ E

20. 그래프는 지오의 여행지 중 출발지, 경유지, 도착지의 기후 자료이다. 여행 경로를 지도의 A~E에서 고른 것은? [3점]



* 1월, 7월 평균 기온은 원의 가운데 값임.



- ① A ② B ③ C ④ D ⑤ E

※ 확인 사항
○ 답안지의 해당란에 필요한 내용을 정확히 기입(표기)했는지 확인하십시오.