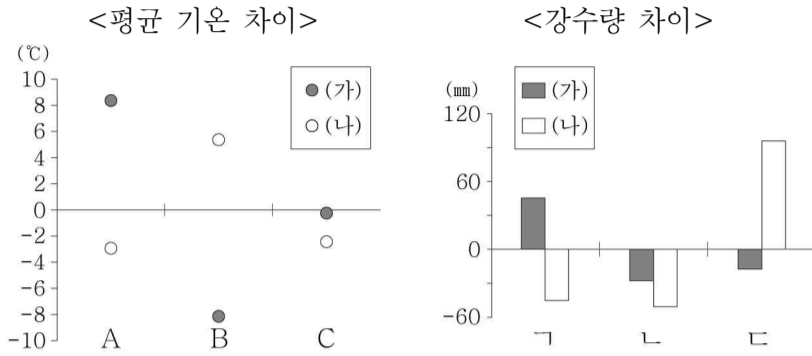
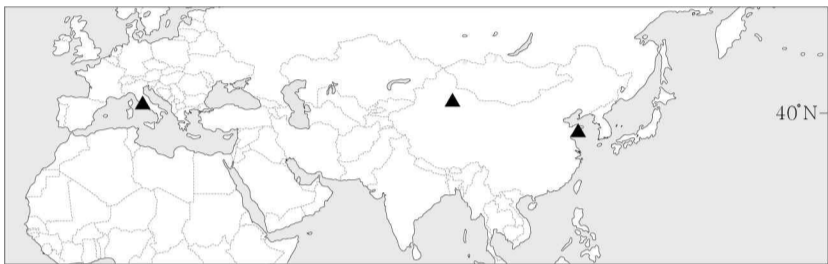


6. 그래프는 지도에 표시된 세 지역의 (가), (나)월의 평균 기온 차이 및 강수량 차이를 나타낸 것이다. A~C 지역을 ㄱ~ㄷ에서 고른 것은? (단, (가), (나)월은 1월, 7월 중 하나임.) [3점]

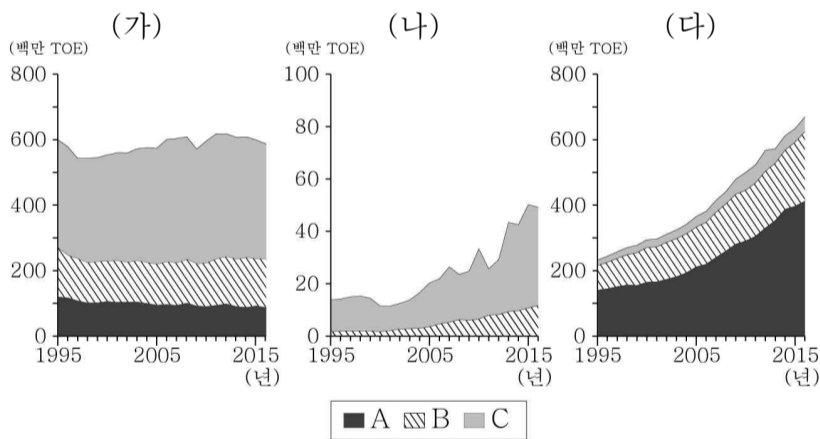


* 평균 기온 차이, 강수량 차이는 해당 지역의 값에서 각 시기 세 지역의 평균값을 뺀 것임.



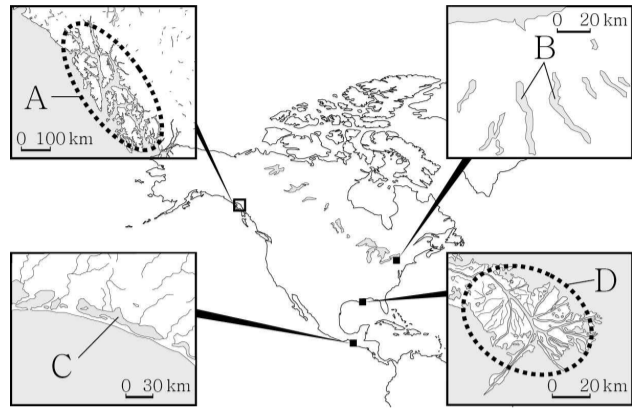
- | | | | | | | | |
|---|----------|----------|----------|---|----------|----------|----------|
| | <u>A</u> | <u>B</u> | <u>C</u> | | <u>A</u> | <u>B</u> | <u>C</u> |
| ① | ㄱ | ㄴ | ㄷ | ② | ㄱ | ㄷ | ㄴ |
| ③ | ㄴ | ㄱ | ㄷ | ④ | ㄴ | ㄷ | ㄱ |
| ⑤ | ㄷ | ㄴ | ㄱ | | | | |

7. 그래프는 지도에 표시된 세 국가의 화석 에너지 소비량 변화를 나타낸 것이다. 이에 대한 설명으로 옳은 것은? [3점]



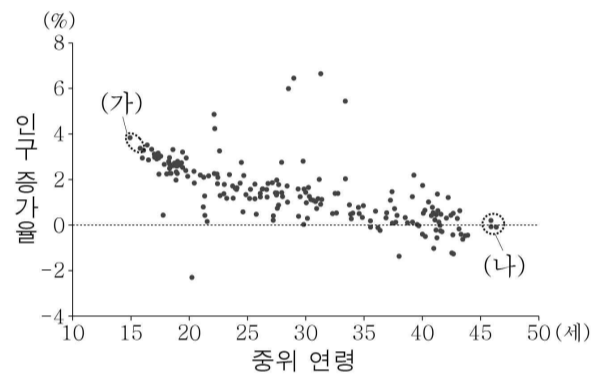
- ① A는 냉동 액화 기술의 발달로 사용량이 급증하였다.
- ② B는 산업 혁명 당시 주요 에너지원이었다.
- ③ B는 C보다 세계 1차 에너지 소비에서 차지하는 비중이 낮다.
- ④ C는 A보다 연소 시 대기 오염 물질 배출량이 적다.
- ⑤ (다)는 (나)보다 1인당 에너지 소비량이 많다.

8. A~D 지형에 대한 설명으로 옳은 것은? [3점]



- ① A는 V자곡이 침수된 리아스 해안이다.
- ② B는 빙하의 후퇴 과정에서 형성되었다.
- ③ D는 조차가 큰 해안에서 주로 발달한다.
- ④ B와 C의 물은 모두 주민들의 식수원으로 활용된다.
- ⑤ C와 D는 파랑의 침식 작용이 활발한 곳(串)에서 발달한다.

9. (가), (나) 국가군에 대한 추론으로 적절한 것은?



* 중위 연령은 2015년, 인구 증가율은 2010~2015년 값임.

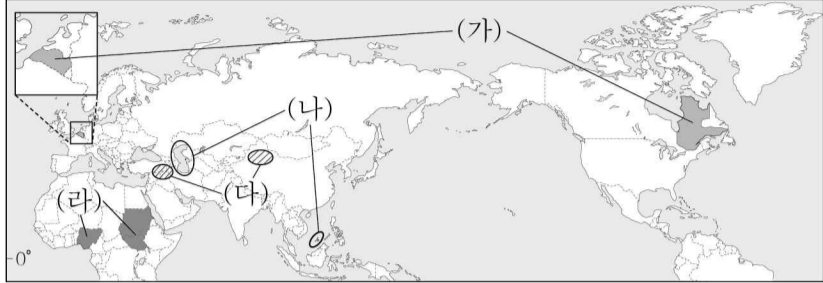
- ① (가)는 출산 장려 정책의 필요성이 클 것이다.
- ② (나)는 피라미드형 인구 구조가 나타날 것이다.
- ③ (가)는 (나)보다 유소년 부양비가 클 것이다.
- ④ (가)는 (나)보다 노령화 지수가 높을 것이다.
- ⑤ (가)는 (나)보다 1인당 국내 총생산(GDP)이 많을 것이다.

10. ㉠~㉣에 대한 설명으로 옳은 것은?

- 잉카 트레일은 잉카 문명이 발달했던 ㉠ △△산맥의 트레킹 코스 중 하나이다. 이 길을 따라 걸으면 비밀의 공중 도시인 마추픽추의 유적을 감상할 수 있다.
- 에베레스트 베이스캠프 코스는 네팔과 중국의 국경을 이루는 ㉡ ○○산맥에 위치해 있는 가장 험준한 트레킹 코스 중 하나이다. 이 길을 따라 걸으면 눈 덮인 산들이 파노라마처럼 펼쳐진 모습을 볼 수 있다.
- 블루마운틴의 내셔널패스는 오스트레일리아 동쪽 해안을 따라 약 3,500 km 뻗어 있는 ㉢ ◇◇산맥에 조성된 트레킹 코스 중 하나이다. 이 길을 따라 걸으면 아름다운 폭포, 천연의 습지, 유칼립투스 숲 등을 만나게 된다.

- ① ㉠은 고생대 조산 운동으로 형성되었다.
- ② ㉡은 대륙판과 해양판이 충돌하는 경계에 위치한다.
- ③ ㉠은 ㉡보다 화산 활동이 활발하다.
- ④ ㉢은 ㉡보다 평균 해발 고도가 높다.
- ⑤ ㉠과 ㉢은 모두 환태평양 조산대에 위치한다.

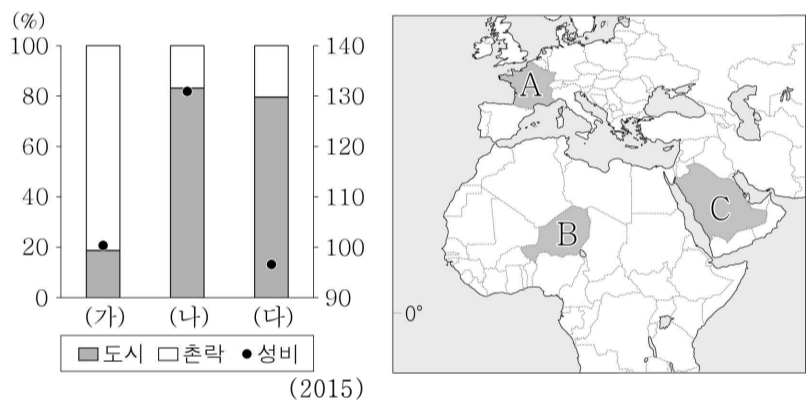
11. (가)~(라) 지역의 탐구 주제로 적절한 것만을 <보기>에서 있는 대로 고른 것은? (단, (가)~(라)는 주요 갈등 요인이 같은 두 지역을 짝지은 것임.) [3점]



< 보 기 >
 가. (가) - 서로 다른 언어 집단 간 갈등
 나. (나) - 자원 확보를 둘러싼 영역 갈등
 다. (다) - 소수 민족의 독립 요구와 관련된 갈등
 라. (라) - 같은 종교 내 서로 다른 종파 간 갈등

- ① 가, 라 ② 나, 다 ③ 가, 나, 다
 ④ 가, 나, 라 ⑤ 나, 다, 라

12. 그래프는 세 국가의 도시와 촌락의 인구 비율과 성비를 나타낸 것이다. (가)~(다) 국가를 지도의 A~C에서 고른 것은?



- | | | | | | | | |
|---|-----|-----|-----|---|-----|-----|-----|
| | (가) | (나) | (다) | | (가) | (나) | (다) |
| ① | A | B | C | ② | A | C | B |
| ③ | B | A | C | ④ | B | C | A |
| ⑤ | C | B | A | | | | |

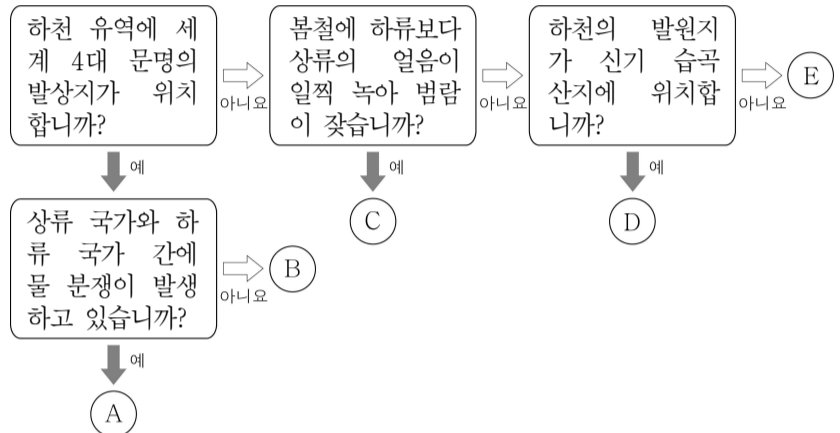
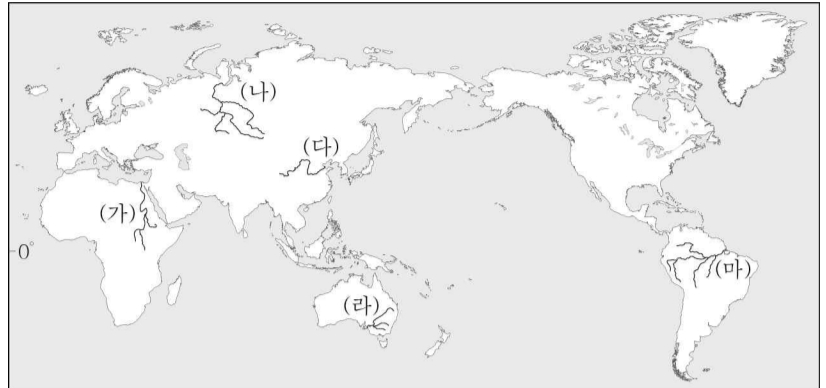
13. (가)~(다) 축제에 대한 옳은 설명을 <보기>에서 고른 것은? (단, (가)~(다)는 각각 방콕, 부홀, 상트페테르부르크 중 한 지역에서 개최됨.)

- (가) - 빨갭게 익은 토마토를 서로에게 던지며 '세계에서 가장 재미있는 전쟁'으로 불리는 축제를 즐긴다.
- (나) - 사람들이 거리로 쏟아져 나와 서로에게 물을 뿌리거나 물총을 쏘며 축제를 즐긴다.
- (다) - 축제 기간에는 하루 20시간 이상 해를 볼 수 있으며 발레, 오페라 등 다양한 문화 행사가 열린다.

< 보 기 >
 가. (가)는 지역의 특산물을 활용하고 있다.
 나. (나)는 크리스티교 종교 의식에서 유래하였다.
 다. (다)는 지역의 위치적 특색을 반영하고 있다.
 라. (가)는 여름, (다)는 겨울에 축제가 개최된다.

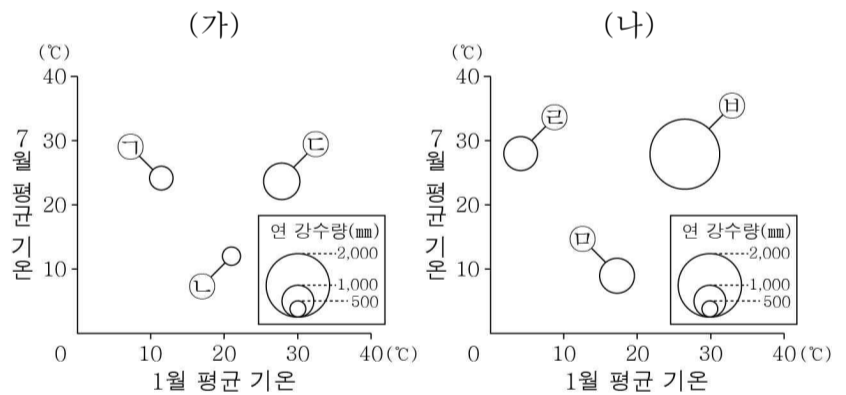
- ① 가, 나 ② 가, 다 ③ 나, 다 ④ 나, 라 ⑤ 다, 라

14. (가)~(마) 하천의 특징을 그림의 A~E에서 찾아 옳게 연결한 것은? [3점]



- ① (가) - B ② (나) - C ③ (다) - E
 ④ (라) - D ⑤ (마) - A

15. 그래프는 지도에 표시된 A, B 이동 경로의 지점별 기후 자료이다. 이에 대한 설명으로 옳은 것은? (단, (가), (나)의 기후 자료는 A, B 이동 경로 중 하나임.) [3점]

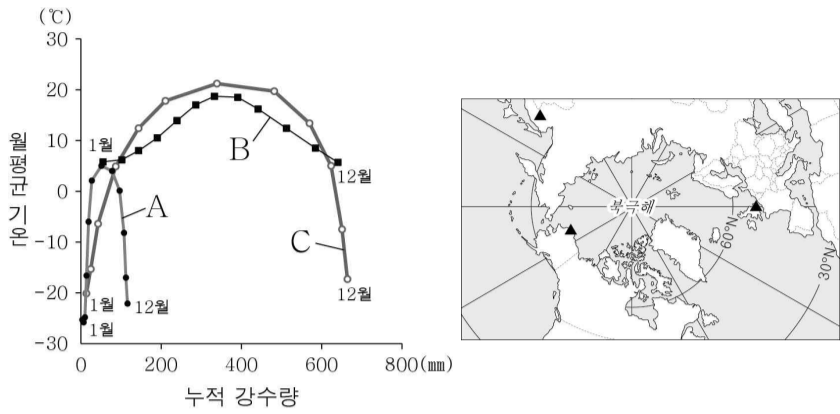


* 1월, 7월 평균 기온은 원의 가운데 값임.



- ① (가)는 B, (나)는 A에 해당한다.
 ② A의 출발지는 ㉠, B의 도착지는 ㉡이다.
 ③ 7월에 ㉠은 곡물 농업이, ㉡은 수목 농업이 행해진다.
 ④ ㉡은 ㉠보다 적도 수렴대의 영향을 받는 기간이 길다.
 ⑤ ㉡은 ㉠보다 1월의 낮 길이가 길다.

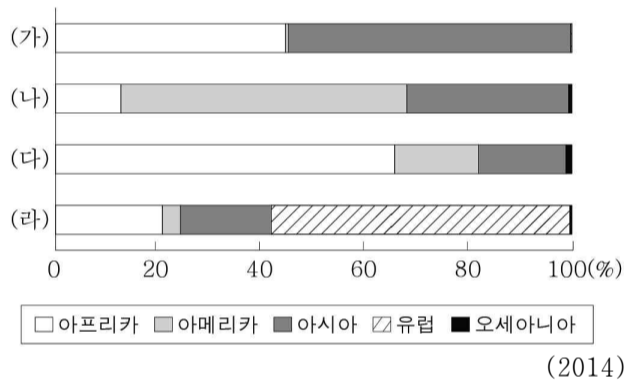
16. 그래프는 지도에 표시된 세 지역의 기후 자료이다. A~C 지역에 대한 설명으로 옳은 것은?



* 누적 강수량은 1월부터 해당 월까지의 강수량을 합한 값임.

- ① A는 여름철에 솔리플렉션 현상이 일어난다.
- ② B는 대륙 동안에 위치한다.
- ③ A는 C보다 연 강수량이 많다.
- ④ B는 C보다 기온의 연교차가 크다.
- ⑤ C는 B보다 여름철 강수 집중률이 낮다.

17. 그래프는 네 작물의 지역(대륙)별 생산량 비중을 나타낸 것이다. (가)~(라) 작물로 옳은 것은? [3점]



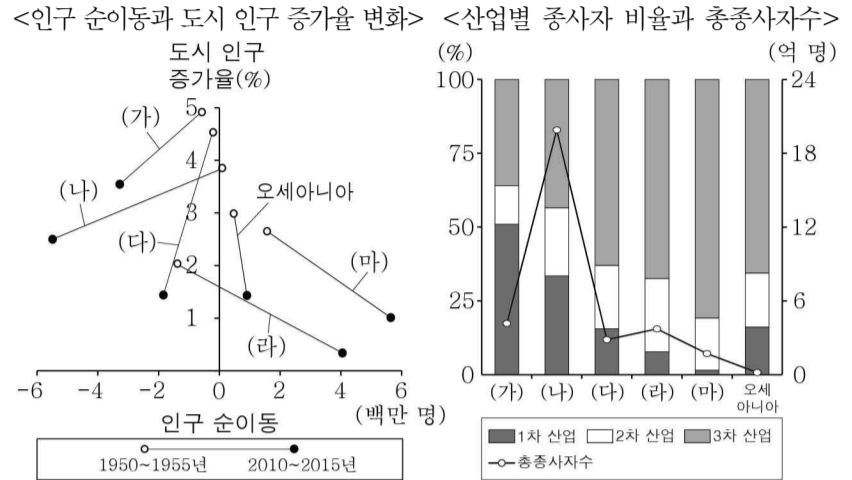
- | | | | | |
|---|------|------|------|------|
| | (가) | (나) | (다) | (라) |
| ① | 커피 | 대추야자 | 카카오 | 올리브 |
| ② | 카카오 | 커피 | 대추야자 | 올리브 |
| ③ | 카카오 | 올리브 | 커피 | 대추야자 |
| ④ | 대추야자 | 커피 | 올리브 | 카카오 |
| ⑤ | 대추야자 | 커피 | 카카오 | 올리브 |

18. ㉠~㉣에 대한 설명으로 옳지 않은 것은?

㉠ 세계화의 진행으로 국경의 의미가 약해지면서 ㉡ 다국적 기업의 활동이 크게 확대되고 있으며, ㉢ 기업의 기능이 세계적 규모에서 공간적으로 분리되는 국제 분업이 더욱 활발해지고 있다. 선진국에서는 제조업의 비중이 감소하고 서비스업의 비중이 증가하는 ㉣ 현상이 나타나고 있다. 또한, 국가 간 교류가 확대되면서 ㉤ 서비스업의 세계화가 진행되고 있다.

- ① ㉠ - 국가 간 상호 의존성이 높아지고 있다.
- ② ㉡ - 여러 국가로 진출하여 생산과 판매 활동을 한다.
- ③ ㉢ - 생산 공장은 주로 선진국의 대도시에 입지한다.
- ④ ㉣ - '탈공업화'가 일어날 수 있다.
- ⑤ ㉤ - 정보·통신 기술의 발달이 영향을 주었다.

19. 그래프는 지역(대륙)별 주요 특징을 비교한 것이다. 이에 대한 설명으로 옳은 것은? (단, 아메리카는 앵글로아메리카와 라틴 아메리카로 구분함.) [3점]

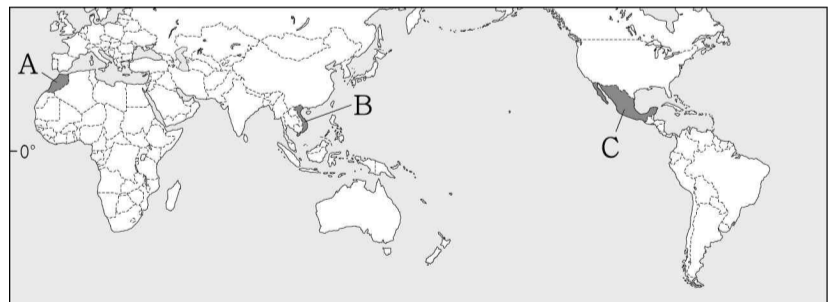


* 인구 순이동은 유입 인구에서 유출 인구를 뺀 값임. (2015)

- ① (가)는 아시아, (마)는 유럽이다.
- ② (다)는 (나)보다 2010~2015년에 도시 인구 증가율이 높다.
- ③ (라)와 (마)는 모두 1950~1955년에 유입 인구가 유출 인구보다 많다.
- ④ 아프리카는 아시아보다 3차 산업 종사자 비율이 높다.
- ⑤ 라틴 아메리카는 앵글로아메리카보다 2차 산업 종사자 수가 많다.

20. 다음 자료는 세 국가의 전통 음식을 소개한 것이다. (가)~(다) 국가를 지도의 A~C에서 고른 것은?

(가) 토르티야는 옥수수를 가루 내어 반죽한 뒤 밀전병처럼 동그랗게 구운 것이다. 구운 토르티야에 채소와 고기를 넣어 만든 타코를 먹는다.
 (나) 타진은 고기, 생선, 채소 등을 넣어 만든 스투로 향신료 등을 곁들여 먹는다. 건조한 기후 지역에서 적은 양의 물로도 조리가 가능한 기구를 이용하여 만든다.
 (다) 찌는 쌀로 만든 국수를 소뼈나 닭 뼈 등으로 우려낸 육수에 넣어 먹는 음식이다. 취향에 따라 숙주나물이나 고수 등을 얹기도 한다.



- | | | | | | | | |
|---|-----|-----|-----|---|-----|-----|-----|
| | (가) | (나) | (다) | | (가) | (나) | (다) |
| ① | A | B | C | ② | A | C | B |
| ③ | B | A | C | ④ | C | A | B |
| ⑤ | C | B | A | | | | |

※ 확인 사항
 ○ 답안지의 해당란에 필요한 내용을 정확히 기입(표기)했는지 확인하십시오.