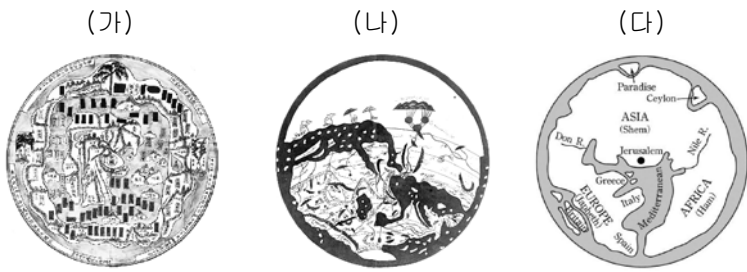


제 4 교시

사회탐구 영역 (세계 지리)

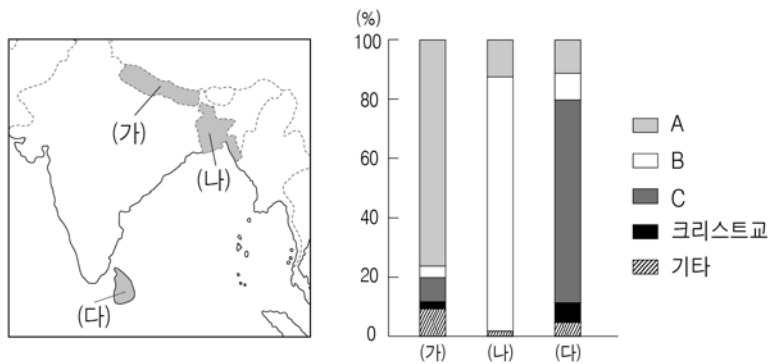
1. (가)~(다) 지도에 대한 옳은 설명을 <보기>에서 고른 것은?



<보 기>
 ㄱ. (가)와 (나)에는 아메리카 대륙이 표현되어 있다.
 ㄴ. (나)와 (다)는 종교의 성지를 지도 중앙에 두었다.
 ㄷ. (나)는 지도의 위쪽이 남쪽, (다)는 위쪽이 동쪽이다.
 ㄹ. (가)~(다)는 모두 지구를 구(球)로 인식하고 표현하였다.

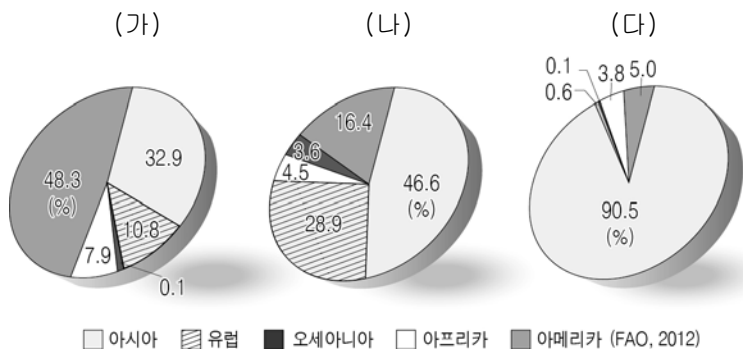
- ① ㄱ, ㄴ ② ㄱ, ㄷ ③ ㄴ, ㄷ ④ ㄴ, ㄹ ⑤ ㄷ, ㄹ

2. 자료는 (가)~(다) 국가의 종교별 인구 비중을 나타낸 것이다. A~C 종교에 대한 설명으로 옳은 것은?



- ① A의 사원에는 다양한 신들의 조각상이 있다.
 ② B의 종교 경관으로는 사리가 봉안된 탑이 있다.
 ③ C의 신도들은 라마단 기간 동안 금식을 한다.
 ④ A와 B는 남부 아시아에서 기원하였다.
 ⑤ B는 민족 종교, C는 보편 종교이다.

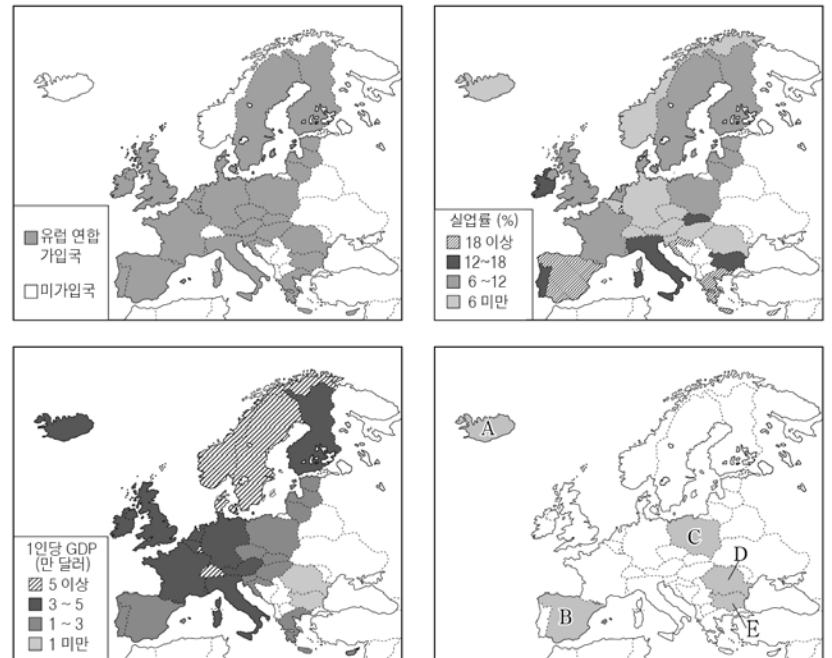
3. 그래프는 주요 식량 작물의 대륙별 생산 비중을 나타낸 것이다. (가)~(다)에 대한 설명으로 옳은 것은? [3점]



- ① (가)의 원산지는 동남아시아이다.
 ② (나)는 주로 사료나 바이오 에너지의 원료로 이용된다.
 ③ (다)는 국제 시장에서 거래량이 가장 많다.
 ④ (나)는 (다)보다 기후 적응력이 커 재배 면적이 넓다.
 ⑤ 단위 면적당 생산량이 가장 많은 작물은 (나)이다.

4. 다음 <조건>을 모두 만족하는 국가에 경제적 지원을 하고자 한다. 최종 후보 국가를 지도의 A~E에서 고른 것은?

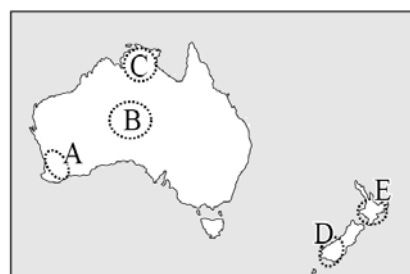
<조 건>
 ○ 유럽 연합 가입 국가
 ○ 실업률이 12% 이상인 국가
 ○ 1인당 GDP가 10,000달러 미만인 국가



- ① A ② B ③ C ④ D ⑤ E

5. (가)~(다)는 여행 프로그램 촬영을 위해 장면을 설정한 것이다. 촬영 장소에 해당하는 지역을 지도의 A~E에서 고른 것은? [3점]

(가)	(나)	(다)
#1 유향 냄새가 풍기는 노천에서 온천욕을 하고, 지열을 이용하여 만든 현지 음식을 먹는다.	#2 원주민이 신성시하는 울룰루 바위의 색이 시간에 따라 변하는 것을 감상한다.	#3 열대 습지를 탐험하며 희귀 동식물을 관찰하고, 사탕수수 농장을 방문한다.

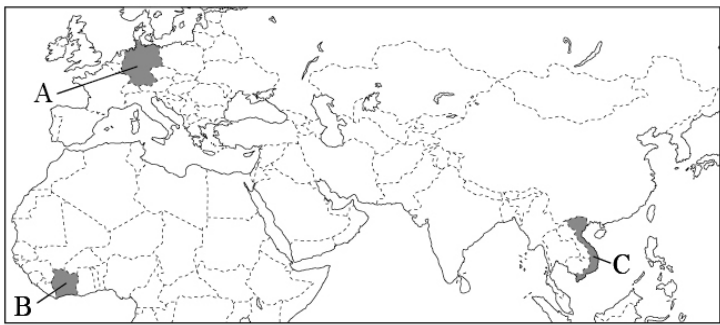


- | | (가) | (나) | (다) |
|---|-----|-----|-----|
| ① | A | B | D |
| ② | C | A | D |
| ③ | D | B | C |
| ④ | E | A | B |
| ⑤ | E | B | C |

6. 표는 (가)~(다) 국가의 수출입 상위 5개 품목을 나타낸 것이다. 이에 해당하는 국가를 지도의 A~C에서 고른 것은? [3점]

국가 순위	(가)		(나)		(다)	
	수출	수입	수출	수입	수출	수입
1	전자 기기	전자 기기	의류	석유 화학	석유 화학	일반 기기
2	일반 기계	원유	원유	일반 기기	카카오	원유
3	자동차	자동차	전자 기기	전자 기기	원유	전자 기기
4	정밀 기기	일반 기계	신발	철강	천연 가스	곡물
5	의약품	의약품	어패류	섬유	조선	어패류

(세계은행 통계, 2012)



- | | | | | | | | |
|---|-----|-----|-----|---|-----|-----|-----|
| | (가) | (나) | (다) | | (가) | (나) | (다) |
| ① | A | B | C | ② | A | C | B |
| ③ | B | A | C | ④ | B | C | A |
| ⑤ | C | A | B | | | | |

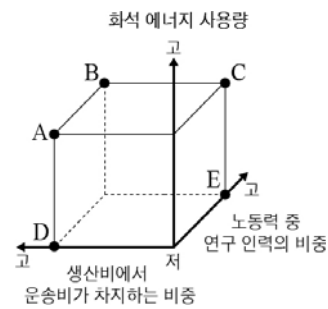
7. 자료의 (가)~(다)에 해당하는 지역을 지도의 A~E에서 고른 것은?

(가) 두 판이 갈라지는 경계로 마그마가 흘러나와 새로운 지각이 형성되는 곳이다. 지진과 화산 활동이 활발하며 지열 발전 비중이 높다.
 (나) 대륙판의 충돌로 바다였던 곳이 융기하여 형성된 지역이다. 이곳의 유목민들은 소금 호수의 소금을 곡물과 교환하고 있다.
 (다) 서로 다른 두 개의 판이 어긋나서 미끄러지는 경계이다. 재난 영화의 배경으로 소개될 만큼 지진이 자주 발생하고 있다.



- | | | | | | | | |
|---|-----|-----|-----|---|-----|-----|-----|
| | (가) | (나) | (다) | | (가) | (나) | (다) |
| ① | A | B | C | ② | A | C | E |
| ③ | B | C | E | ④ | C | D | E |
| ⑤ | D | B | A | | | | |

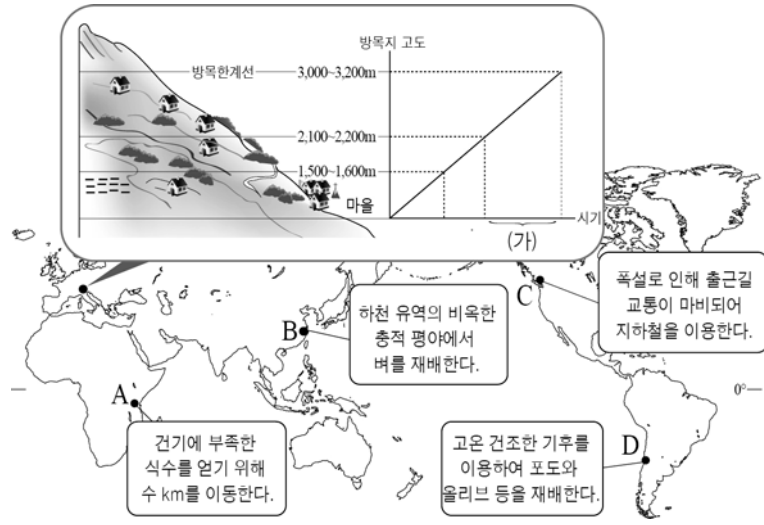
8. 지도는 (가), (나) 공업이 발달한 주요 지역을 나타낸 것이다. (가)와 비교한 (나) 공업의 상대적 특징을 그림의 A~E에서 고른 것은? [3점]



- ① A
- ② B
- ③ C
- ④ D
- ⑤ E

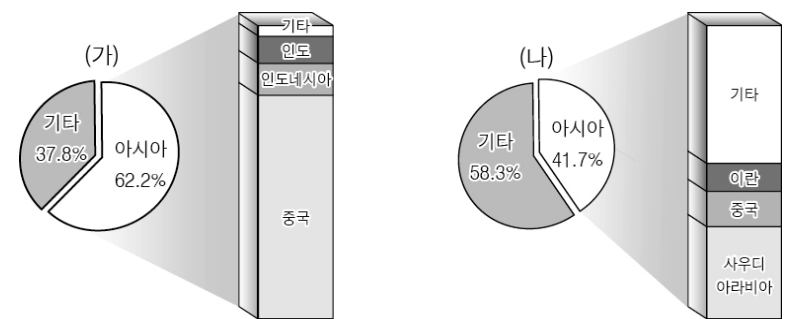
* 고는 많다(높다), 저는 적다(낮다)를 의미함.

9. 자료의 (가) 시기에 지도의 A~D 지역에서 볼 수 있는 주민들의 생활 모습으로 적절한 것은? [3점]



- ① A, B
- ② A, C
- ③ B, C
- ④ B, D
- ⑤ C, D

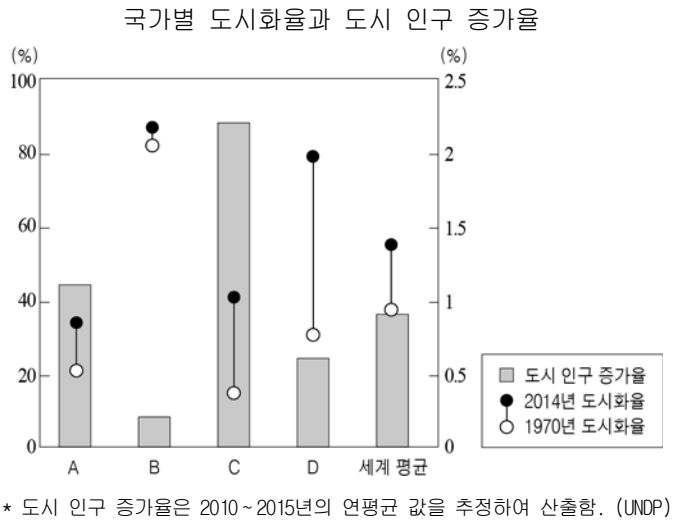
10. 자료는 (가), (나) 화석 에너지의 아시아 생산 비중을 나타낸 것이다. 이에 대한 설명으로 옳은 것은?



(에너지 통계 연보, 2014)

- ① (가)는 냉동 액화 기술의 개발로 소비량이 급증하였다.
- ② (나)는 산업혁명 시기에 증기 기관의 연료로 사용되었다.
- ③ (가)는 (나)보다 편재성이 커서 국제 이동량이 많다.
- ④ (나)는 (가)보다 세계 에너지 소비에서 차지하는 비중이 높다.
- ⑤ (가)는 신생대, (나)는 고생대 지층에 주로 매장되어 있다.

11. 그래프의 A~D 국가에 대한 추론으로 적절한 것을 <보기>에서 고른 것은? [3점]

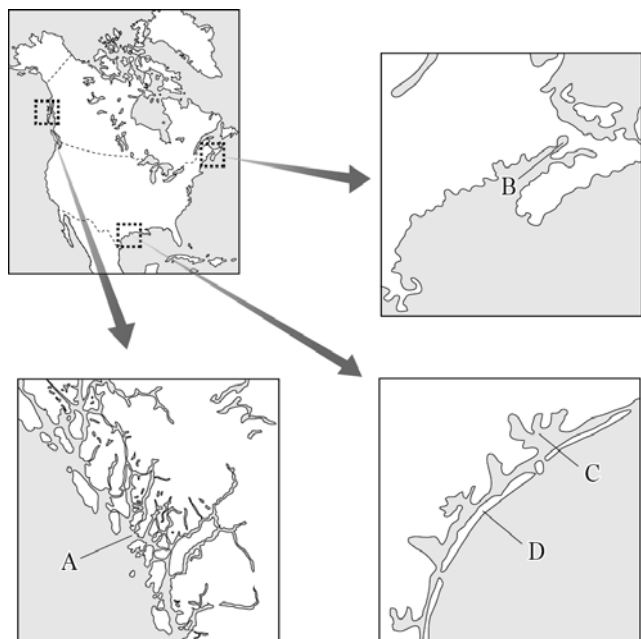


<보 기>

ㄱ. A는 B보다 서비스업 종사자 비중이 높을 것이다.
 ㄴ. B는 C보다 도시 내 기반 시설이 잘 갖추어져 있을 것이다.
 ㄷ. C는 D보다 도시화의 가속화 단계 진입 시기가 늦었을 것이다.
 ㄹ. D는 A보다 2014년에 이촌향도 현상이 더 활발할 것이다.

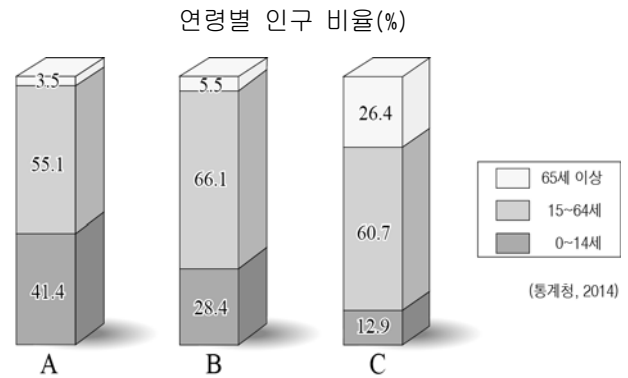
- ① ㄱ, ㄴ ② ㄱ, ㄷ ③ ㄴ, ㄷ ④ ㄴ, ㄹ ⑤ ㄷ, ㄹ

12. 지도의 A~D에 대한 설명으로 옳은 것은? [3점]



- ① A 해안에는 내염성이 강한 맹그로브 숲이 분포한다.
 ② B는 빙식곡이 침수되어 형성된 피오르 해안이다.
 ③ C는 해수면이 안정된 상태가 지속되면 면적이 점차 축소된다.
 ④ D는 산호충의 석회질 유해가 퇴적되어 형성되었다.
 ⑤ A는 B보다 조차가 커 조력 발전에 유리하다.

13. 그래프의 A~C 국가에 대한 옳은 설명을 <보기>에서 고른 것은? [3점]

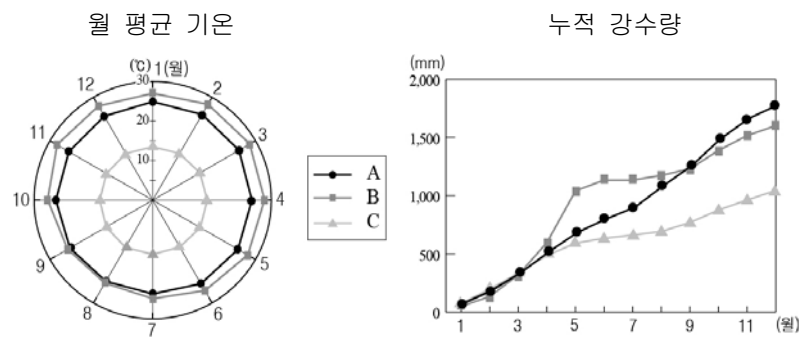


<보 기>

ㄱ. A는 B보다 유소년 부양비가 높다.
 ㄴ. B는 C보다 합계 출산율이 낮다.
 ㄷ. C는 A보다 노령화 지수가 높다.
 ㄹ. 총 부양비가 높은 국가는 A>B>C 순이다.

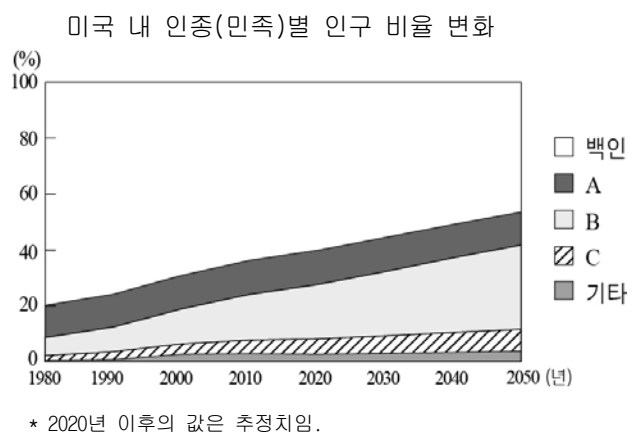
- ① ㄱ, ㄴ ② ㄱ, ㄷ ③ ㄴ, ㄷ ④ ㄴ, ㄹ ⑤ ㄷ, ㄹ

14. 그래프의 A~C 기후에 대한 설명으로 옳지 않은 것은?



- ① A는 적도 수렴대의 영향을 연중 받는다.
 ② B는 건기와 우기가 뚜렷하게 나타난다.
 ③ C는 기온의 연교차가 일교차보다 크다.
 ④ A는 B에 비해 대류성 강수의 빈도가 높다.
 ⑤ B와 C의 기온 차이의 요인은 해발고도이다.

15. 그래프의 A~C 인종(민족)에 대한 옳은 설명을 <보기>에서 고른 것은?




<보 기>

ㄱ. A는 주로 멕시코 접경 지역에 집중하여 분포하고 있다.
 ㄴ. B는 과거 노예 노동력으로 강제 이주되었다.
 ㄷ. C는 19세기 서부 건설 노동자로 유입되기 시작하였다.
 ㄹ. B는 A, C에 비해 가톨릭교를 믿는 비율이 높다.


- ① ㄱ, ㄴ ② ㄱ, ㄷ ③ ㄴ, ㄷ ④ ㄴ, ㄹ ⑤ ㄷ, ㄹ

16. 다음은 유럽의 주요 축제 자료이다. (가), (나) 지역의 기후 특성을 그래프의 A~D에서 고른 것은? [3점]



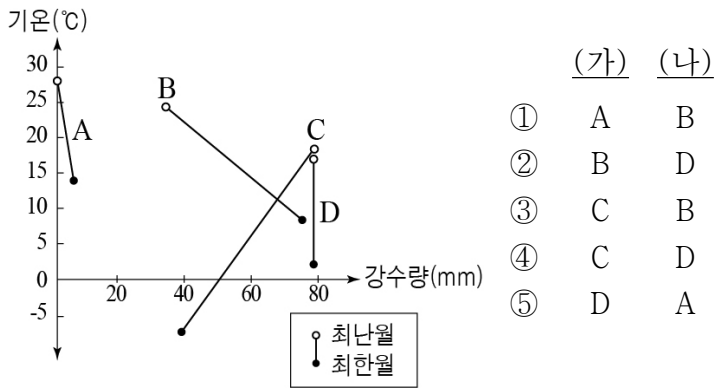
○ 개최 지역: (가) (30°20'E, 59°56'N)
 ○ 개최 시기: 매년 6월 중순 ~ 7월 초
 ○ 축제의 기원: 1년 중 낮이 가장 긴 하지에 열리던 전통 축제에서 기원함.
 ○ 주요 행사: 음악제, 붉은 돛 축제 등

<○○축제>

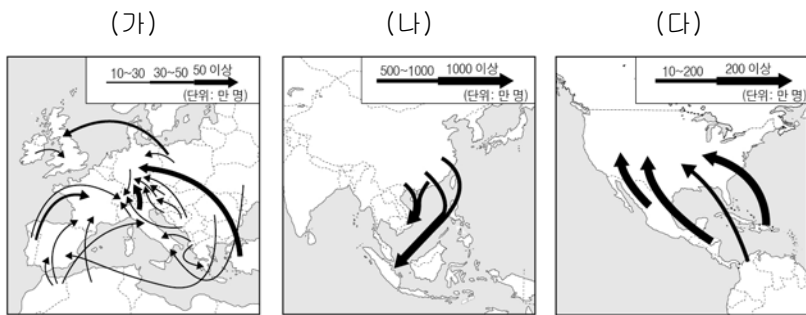


○ 개최 지역: (나) (4°54'E, 52°27'N)
 ○ 개최 시기: 매년 3월 말 ~ 5월 중순
 ○ 축제의 기원: 큐켄호프 성 일대를 정원으로 만들면서부터 시작됨.
 ○ 주요 행사: 튜립 전시회, 퍼레이드 등

<△△축제>



17. (가)~(다) 인구 이동에 대한 옳은 설명을 <보기>에서 고른 것은?

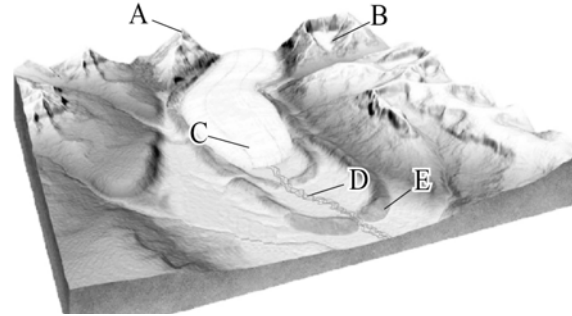


<보 기>

ㄱ. (가)는 유럽계 백인에 의한 강제적 이동이 주를 이룬다.
 ㄴ. (나)로 인한 경제적 격차로 인해 이주민과 원주민의 마찰이 발생하고 있다.
 ㄷ. (다)는 종교 탄압이 유출 지역의 주요 배출 요인으로 작용하였다.
 ㄹ. (가), (나), (다)는 경제적 원인에 의한 인구이동이다.

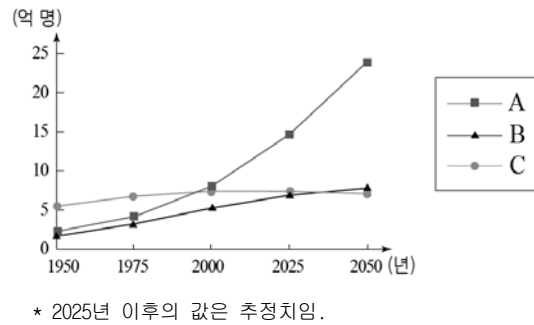
- ① ㄱ, ㄴ ② ㄱ, ㄷ ③ ㄴ, ㄷ ④ ㄴ, ㄹ ⑤ ㄷ, ㄹ

18. 다음은 빙하 지형의 모식도이다. A~E 지형에 대한 설명으로 옳은 것은? [3점]



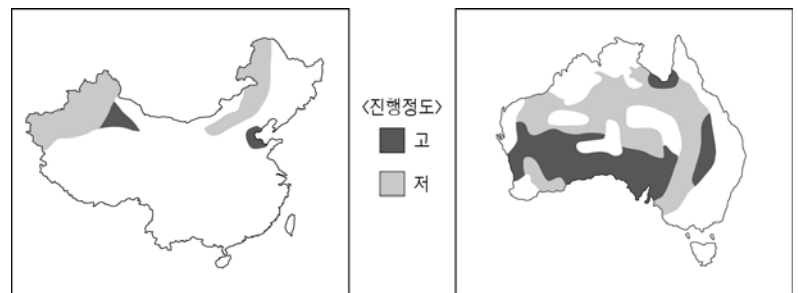
- ① A의 봉우리는 화학적 풍화 작용이 매우 활발하다.
- ② B의 와지는 빙하의 퇴적 작용으로 형성되었다.
- ③ C가 녹으면 V자 형태의 골짜기가 형성된다.
- ④ D 하천은 염도가 높아 생활용수로 이용이 어렵다.
- ⑤ E의 퇴적물은 분급이 불량한 편이다.

19. 그래프는 세 대륙의 시기별 인구 규모 변화를 나타낸 것이다. A~C에 해당하는 대륙으로 옳은 것은?



- | | A | B | C |
|---|--------|--------|--------|
| ① | 아프리카 | 라틴아메리카 | 유럽 |
| ② | 아프리카 | 유럽 | 라틴아메리카 |
| ③ | 라틴아메리카 | 유럽 | 아프리카 |
| ④ | 라틴아메리카 | 아프리카 | 유럽 |
| ⑤ | 유럽 | 아프리카 | 라틴아메리카 |

20. 지도에 나타난 환경 문제에 대한 설명으로 가장 적절한 것은?



- ① 극지방과 고산 지대 빙하 쇠퇴의 주원인이다.
- ② 과도한 방목 및 삼림 벌채 등으로 인해 발생한다.
- ③ 호수의 산성화 및 건물 부식 등의 피해가 발생한다.
- ④ 황산화물과 질소산화물 배출량의 증가로 인해 발생한다.
- ⑤ 국제 사회는 이를 해결하기 위해 몬트리올 의정서를 채택했다.