

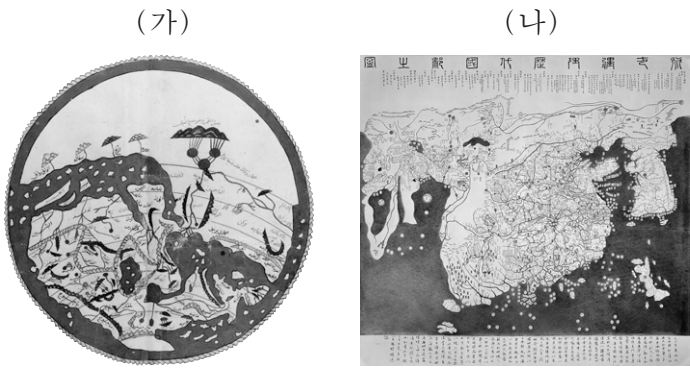
제 4 교시

# 사회탐구 영역(세계 지리)

성명

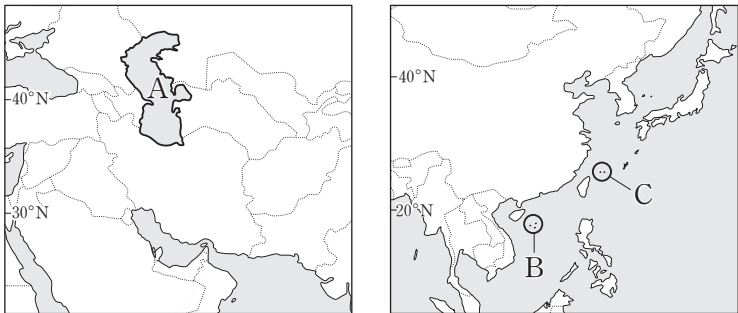
수험 번호

1. (가), (나) 지도에 대한 설명으로 옳은 것은? [3점]



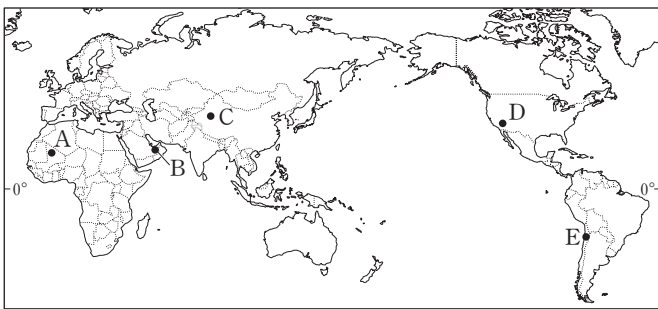
- ① (가)의 중심부에는 아라비아 반도가 위치한다.
- ② (나)는 주로 나침반을 활용한 항해에 이용되었다.
- ③ (가)는 (나)의 영향을 받아 제작되었다.
- ④ (가)와 (나)는 지도의 위쪽이 같은 방위이다.
- ⑤ (가)와 (나)에는 모두 아메리카 대륙이 표현되어 있다.

2. 지도의 A~C에서 나타나는 분쟁에 대한 설명으로 옳은 것은? [3점]



- ① A 분쟁은 카스피 해를 호수로 볼 것인지 바다로 볼 것인지가 쟁점이 되고 있다.
- ② B 분쟁의 주요 원인은 종교 간 갈등이다.
- ③ C 분쟁은 중국과 타이완 간의 관계 악화가 주요 원인이다.
- ④ A, B 모두 국제기구의 조정으로 분쟁이 해소되고 있다.
- ⑤ B, C 모두 중국이 실효적 지배를 하고 있다.

3. 지도의 A~E 지역에 대한 설명으로 옳은 것은?



- ① A - 주변의 높은 산지로 인해 편서풍의 바람 그늘이 되어 건조하다.
- ② B - 한류의 영향으로 상승 기류가 발생하지 않아 건조하다.
- ③ C - 열대성 저기압에 의해 여름철에만 강수가 발생한다.
- ④ D - 강한 산성을 띠는 척박한 토양이 넓게 분포한다.
- ⑤ E - 바람의 퇴적 작용으로 만들어진 바르한을 볼 수 있다.

4. 전자 우편의 내용 중 ㉠~㉣에 대한 옳은 설명을 <보기>에서 고른 것은?

제목	템스 강변에서 누나가
받는 이	*****@email.com

안녕? ○○야!  
 잘 지내고 있니? ...<중략>... 우리나라와 같은 여름이라서 반팔 셔츠만 가지고 왔는데, ㉠ 여기는 우리나라보다 서늘해. 심지어 내가 탄 지하철에는 에어컨조차 없었어. ㉡ 지금 이곳은 우리나라보다 낮이 더 길어. 해가 더 빨리 뜨고 더 늦게 저서 오랫동안 많은 것을 볼 수 있었어. 어제는 그리니치 공원을 다녀왔는데, 왕립 천문대가 있었던 곳이야. ...<중략>... ㉢ 이곳은 안개 낀 날과 흐린 날이 많아. 그래서 잠깐 해가 난 사이에도 공원의 잔디밭에서 많은 사람들이 일광욕을 즐겨. 내일이면 ㉣ 이 나라를 떠나 해서 터널을 통해 프랑스로 갈 거야. 거기서 또 매일 보낼게.  
 누나가

<보기>

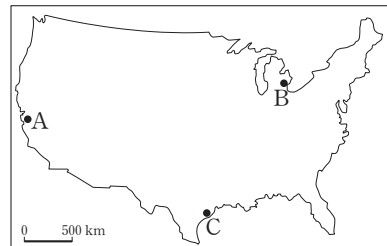
- ㄱ. ㉠ - 대륙에서 불어오는 계절풍이 주요 요인이다.
- ㄴ. ㉡ - 우리나라보다 고위도에 위치하기 때문이다.
- ㄷ. ㉢ - 아열대 고압대의 영향을 받기 때문이다.
- ㄹ. ㉣ - 경도의 기준이 되는 본초 자오선이 지난다.

- ① ㄱ, ㄴ    ② ㄱ, ㄷ    ③ ㄴ, ㄷ    ④ ㄴ, ㄹ    ⑤ ㄷ, ㄹ

5. 다음 글의 (가), (나) 지역을 지도의 A~C에서 고른 것은? [3점]

○ 편리한 수운 및 육상 교통을 바탕으로 공업이 발달하였던 **(가)** 은/는 20세기 초 ○○사의 공장 설립 이후, 자동차 공업이 빠르게 성장하면서, 자동차 생산 도시로서의 위상도 높아졌다. 하지만, 1970년대부터 일본 자동차의 시장 점유율이 높아지고, 이후 자동차 시장의 여건이 변하면서 지역 경제가 악화되었다. 결국, 최대 인구가 약 200만 명에 달했던 이 도시는 급격한 인구 유출 현상을 겪게 되었다.

○ **(나)** 은/는 1950년대에 △△ 연구 단지가 조성된 이후, 실리콘을 소재로 한 반도체 생산 기업들이 들어서면서, 현재의 명칭으로 불리게 되었다. 이곳은 기업 유치를 위한 주 정부의 세제 혜택 제공과 인근 대학으로부터 전문 인력을 쉽게 확보할 수 있는 여건 등의 입지 조건을 바탕으로, 세계 유수의 첨단 산업체들이 모인 첨단 기술 연구 지역으로 성장할 수 있었다.



- |   |     |     |     |     |     |     |   |   |
|---|-----|-----|-----|-----|-----|-----|---|---|
|   | (가) | (나) | (가) | (나) | (가) | (나) |   |   |
| ① | A   | B   | ②   | A   | C   | ③   | B | A |
| ④ | B   | C   | ⑤   | C   | A   |     |   |   |

6. 다음은 세계 지리 수업 장면의 일부이다. 교사의 질문에 적절하게 대답한 학생을 고른 것은?

(가) 방법을 통해 (나) 자료를 얻을 수 있습니다. 이와 같은 유형의 자료를 통해 어떤 지리 정보를 파악할 수 있을까요?

〈허리케인 통과 전·후 미시시피 강 하구의 (나)〉

가: 동부 아시아의 항사 이동 경로입니다.

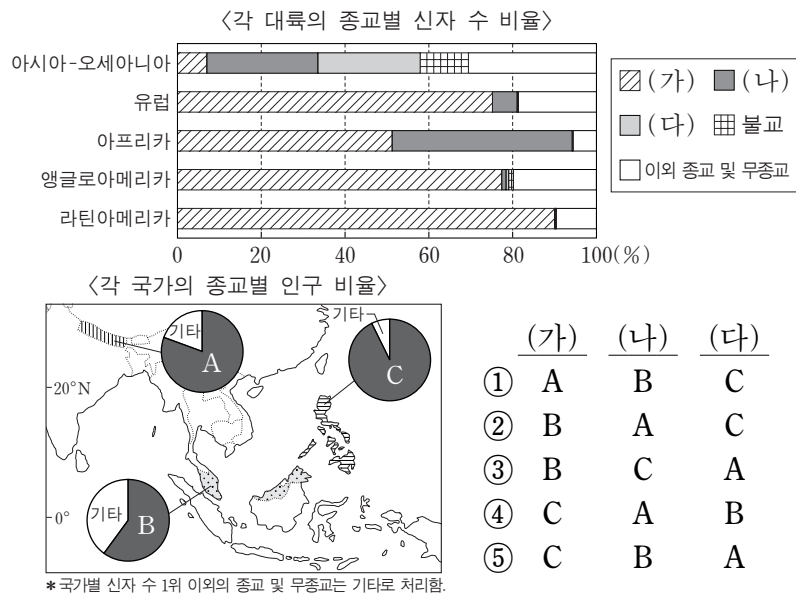
을: 유럽 대도시의 도로망과 녹지 분포입니다.

병: 북부 아프리카의 취업률과 교육 수준입니다.

정: 북아메리카에 본사를 두고 있는 다국적 기업의 상담 서비스 만족도입니다.

- ① 갑, 을    ② 갑, 병    ③ 을, 병    ④ 을, 정    ⑤ 병, 정

7. 그래프의 (가)~(다) 종교를 지도의 A~C에서 고른 것은? [3점]



8. 지도의 (가)~(라) 지역을 여행하면서 체험할 수 있는 활동으로 적절한 것을 <보기>에서 고른 것은?

여행 지역: 오스트레일리아, 뉴질랜드 일대

여행 기간: 2015년 7월 15일 ~ 8월 20일

〈보기〉

ㄱ. (가) - 오랜 역사를 가진 농장에서 포도 수확을 체험한다.

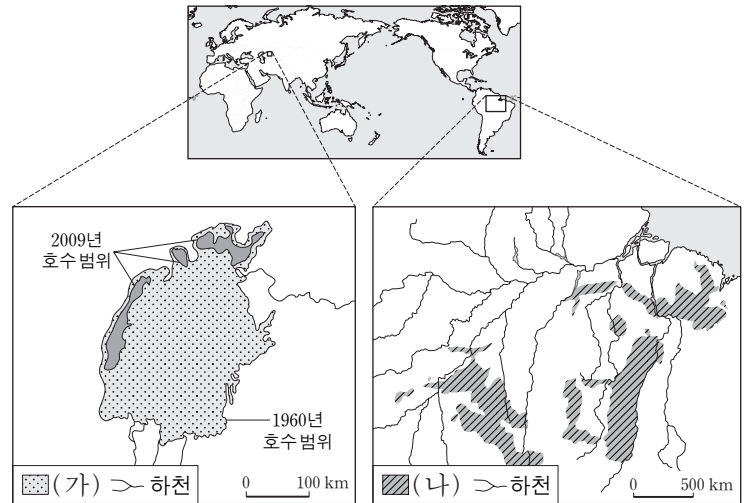
ㄴ. (나) - 원주민 문화를 체험할 수 있는 관광 프로그램에 참여한다.

ㄷ. (다) - 세계적인 산호초 생태계가 나타나는 지역에서 다양한 환경 보전 활동에 참여한다.

ㄹ. (라) - 유람선에서 빙하 지형과 만년설로 덮여 있는 산봉우리를 관찰한다.

- ① ㄱ, ㄴ    ② ㄱ, ㄷ    ③ ㄴ, ㄷ    ④ ㄴ, ㄹ    ⑤ ㄷ, ㄹ

9. 지도의 (가), (나) 지역에서 나타난 환경 문제에 관한 옳은 설명만을 <보기>에서 있는 대로 고른 것은?



〈보기〉

ㄱ. (가)의 환경 문제 해결을 위해 런던 협약이 체결되었다.

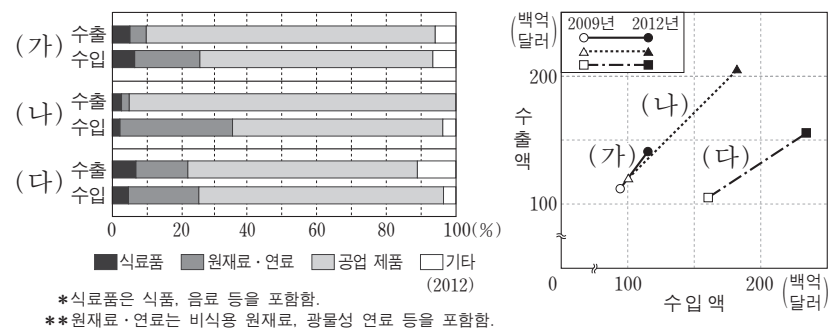
ㄴ. (가)의 환경 문제는 주변 지역의 관개 농업 확대가 주요 발생 원인이다.

ㄷ. (나)의 환경 문제는 오존층 파괴가 주요 발생 원인이다.

ㄹ. (나)에서는 동·식물의 서식지 파괴로 생물 종 다양성이 감소하였다.

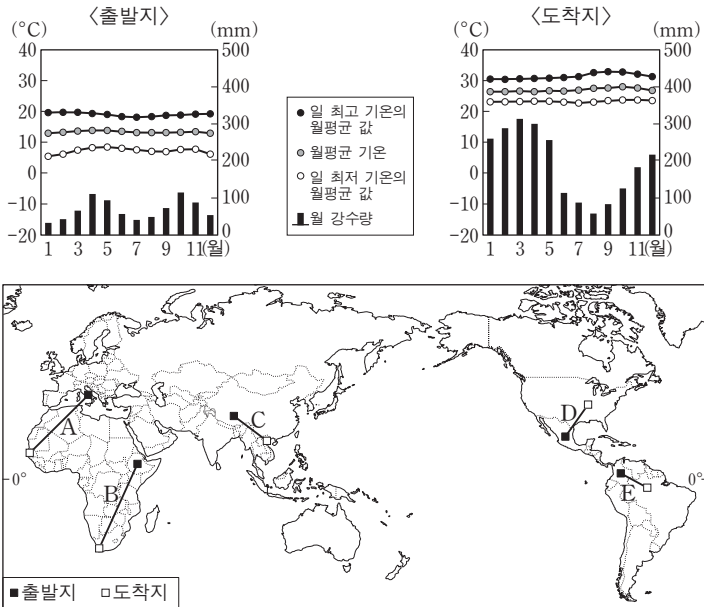
- ① ㄱ, ㄷ    ② ㄴ, ㄹ    ③ ㄱ, ㄴ, ㄷ  
④ ㄱ, ㄴ, ㄹ    ⑤ ㄴ, ㄷ, ㄹ

10. 다음 자료는 세계 3대 무역 규모 국가의 무역 구조를 나타낸 것이다. (가)~(다) 국가를 지도의 A~C에서 고른 것은? [3점]



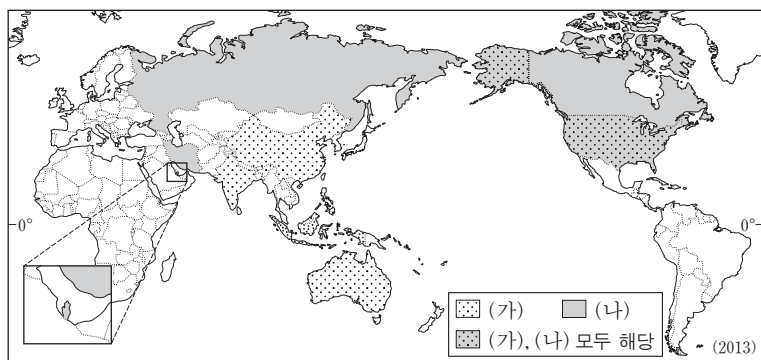
- |   | (가) | (나) | (다) | (가) | (나) | (다) |   |
|---|-----|-----|-----|-----|-----|-----|---|
| ① | A   | B   | C   | ②   | A   | C   | B |
| ③ | B   | A   | C   | ④   | C   | A   | B |
| ⑤ | C   | B   | A   |     |     |     |   |

11. 그래프는 ○○ 학생의 여행지 중 출발지와 도착지의 기후를 나타낸 것이다. 출발지와 도착지를 바르게 연결한 선을 지도의 A~E에서 고른 것은? [3점]



- ① A    ② B    ③ C    ④ D    ⑤ E

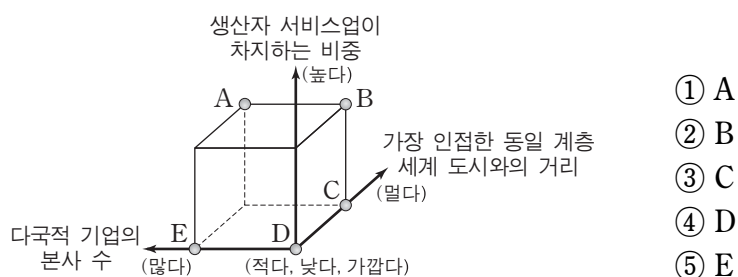
12. 지도는 (가), (나) 화석 에너지 자원의 생산량 상위 5개국을 나타낸 것이다. (가), (나) 자원에 대한 설명으로 옳은 것은? [3점]



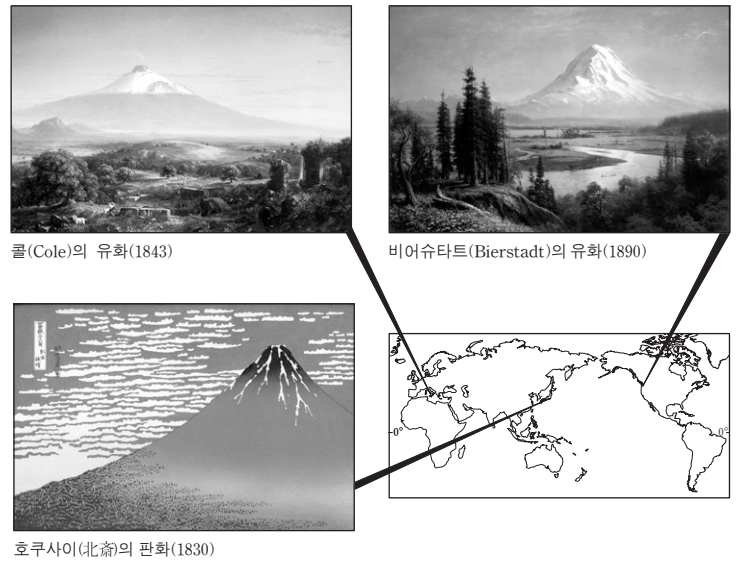
- ① (가)는 세계 에너지 소비 구조에서 가장 큰 비중을 차지하고 있다.  
 ② (가)는 액화 기술 발달과 수송관 건설로 국제 이동량이 증가하였다.  
 ③ (나)는 고기 조산대에 주로 매장되어 분포 지역이 넓다.  
 ④ (가)는 (나)보다 상용화된 시기가 이른다.  
 ⑤ (나)는 (가)보다 연소 시 대기 오염 물질 배출량이 많다.

13. 다음 글에서 (가)와 비교한 (나)의 상대적 특징을 그림의 A~E에서 고른 것은? (단, (가), (나)의 특징은 각 도시 계층의 평균을 기준으로 함.)

세계 도시 체계는 세계 경제의 중심지들이 기능적으로 연계된 체계를 의미한다. 세계 도시는 규모와 기능 및 영향력에 따라 (가) 최상위 세계 도시, 상위 세계 도시, (나) 하위 세계 도시 등 몇 개의 계층으로 구분된다. 최상위 계층에 속하는 도시로는 뉴욕, 런던, 도쿄 등이 있다. 반면, 이들 도시에 비해 상대적으로 영향력이 작은 도시들은 이보다 낮은 계층들로 분류된다.



14. 그림 속의 산이 위치하고 있는 지역들의 공통점으로 옳은 것을 <보기>에서 고른 것은?

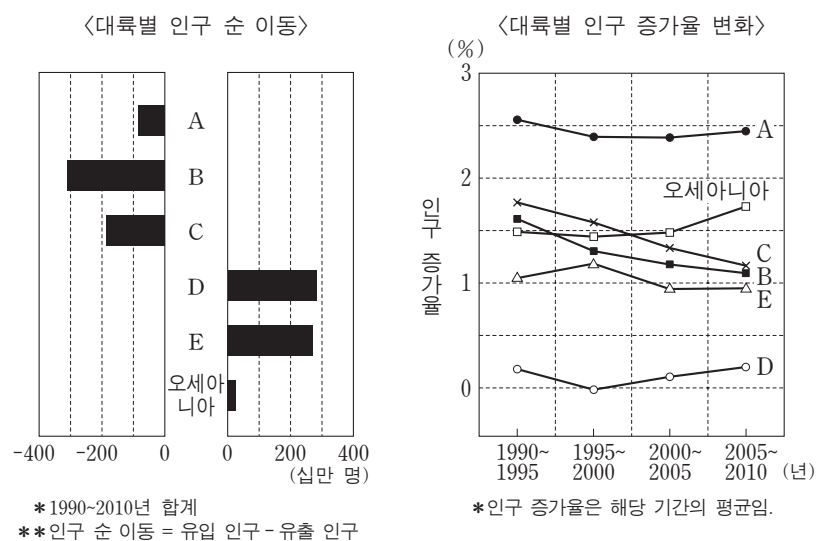


<보기>

- ㄱ. 지각 판의 경계부에 위치하고 있다.  
 ㄴ. 석탄 매장량이 많은 주요 탄전 지대가 분포한다.  
 ㄷ. 신기 조산대에 위치하고 있어 지진이 자주 발생한다.  
 ㄹ. 빙력토 평원에 줄지어 나타난 활화산들을 볼 수 있다.

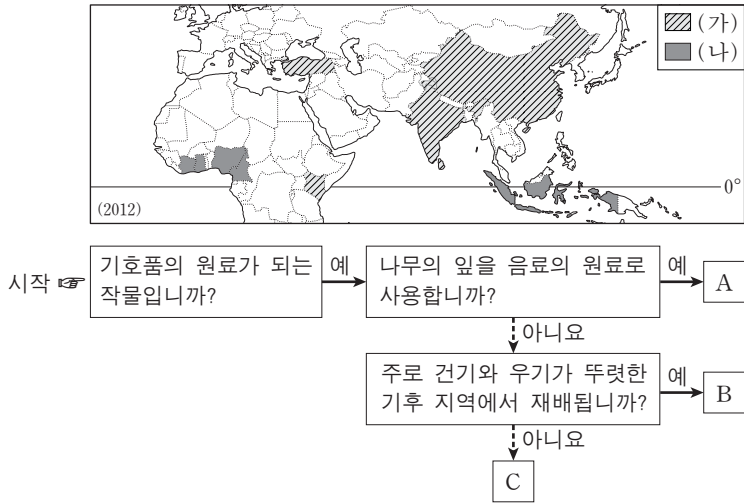
- ① ㄱ, ㄴ    ② ㄱ, ㄷ    ③ ㄴ, ㄷ    ④ ㄴ, ㄹ    ⑤ ㄷ, ㄹ

15. 그래프의 A~E 대륙에 대한 설명으로 옳은 것은? (단, 아메리카는 앵글로아메리카와 라틴아메리카로 구분됨.)



- ① A 대륙은 전 세계 대륙 면적의 약 1/4을 차지하며, 세계에서 인구 규모가 가장 큰 국가가 있다.  
 ② B 대륙에는 국제 연합 본부를 비롯한 많은 국제기구가 위치해 있으며, 영어를 사용하는 사람들의 비율이 높게 나타난다.  
 ③ C 대륙은 세계 최대 규모의 사막이 있으며, 최근까지도 기아 문제 및 종족 분쟁으로 어려움을 겪고 있는 여러 국가가 있다.  
 ④ D 대륙에는 세계에서 가장 먼저 산업화된 국가가 있으며, 경제 블록을 결성하여 단일 통화를 사용하는 국가들이 있다.  
 ⑤ E 대륙은 다른 대륙에서 유입된 종교의 영향으로 출산율이 높으며, 에스파냐어나 포르투갈어가 주요 공용어이다.

16. 지도는 (가), (나) 작물의 생산량 상위 5개국을 나타낸 것이다. (가), (나) 작물의 특징을 그림의 A~C에서 고른 것은?



- (가) (나) (가) (나) (가) (나)  
 ① A B ② A C ③ B A  
 ④ B C ⑤ C A

17. 다음 자료의 (가)~(다)에 해당하는 도시를 A~C에서 고른 것은? [3점]

여행 블로그

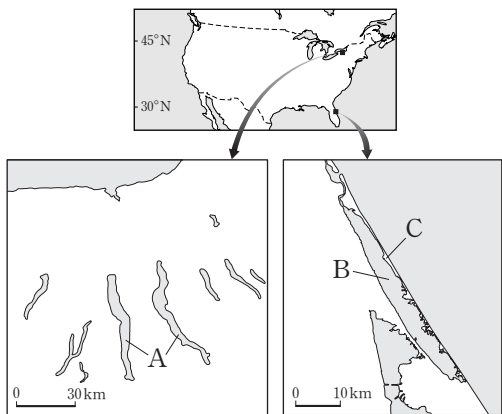
\*8월 □□일 투우와 플라멩코 춤으로 유명한 나라의 마지막 여행지로, 세계적인 토마토 축제가 열리는 (가)을/를 선택했다. 이곳에서 빨간 토마토를 던지면서 놀 때의 느낌은 상상할 수 없을 만큼 짜릿했다.

\*9월 ☆☆☆일 곤돌라로 유명한 물의 도시 (나)의 마르코 폴로 공항에 도착했다. 세계 3대 영화제 중 하나가 개최되고 있는 중이라서 공항은 사람들로 가득했다. 영화에서만 보던 세계적인 배우들의 모습을 직접 볼 수 있다는 생각에 가슴이 뛰었다.

\*10월 ▽▽일 한때 동서로 분단되었던 나라의 도시 (다)에 도착했다. 중심 광장에는 축제를 위한 대형 천막들이 곳곳에 있었고, 모든 천막은 맥주를 즐기는 사람들로 넘쳐났다.

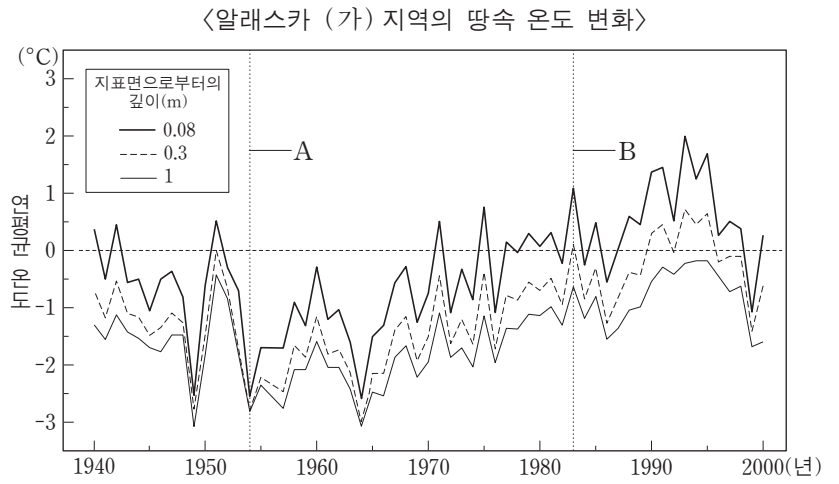
- (가) (나) (다) (가) (나) (다)  
 ① A B C ② A C B  
 ③ B A C ④ C A B  
 ⑤ C B A

18. 지도의 A~C에 대한 설명으로 옳은 것은? [3점]



- ① A 호수에는 빙하가 녹은 물이 계속 유입되고 있다.  
 ② B 호수의 물은 주로 식수와 농업용수로 이용된다.  
 ③ C 지형의 주요 구성 물질은 자갈이다.  
 ④ A 호수는 B 호수보다 평균 수심이 깊다.  
 ⑤ B 호수와 C 지형은 퇴적 작용보다 침식 작용이 우세한 해안에서 형성되었다.

19. 그래프를 바탕으로 (가) 지역에 대해 추론한 내용으로 적절한 것을 <보기>에서 고른 것은? (단, 지진 및 화산 활동은 고려하지 않음.)

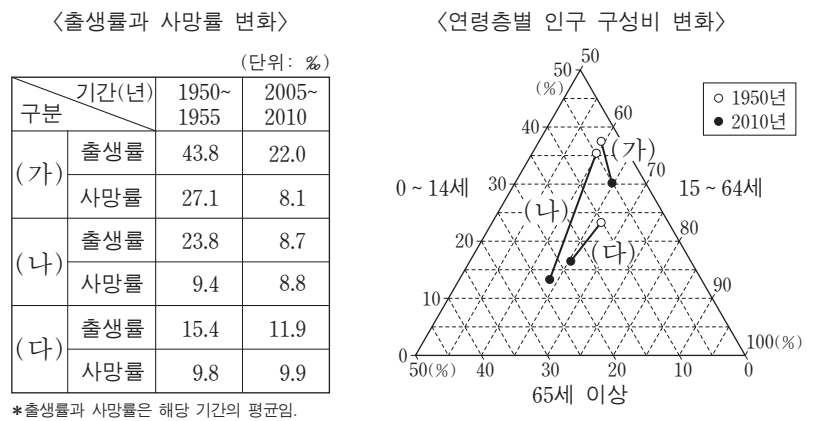


<보기>

ㄱ. 기온의 일교차보다 기온의 연교차가 클 것이다.  
 ㄴ. A 시점에 비해 B 시점의 활동층이 더 두꺼웠을 것이다.  
 ㄷ. 1940년대와 1970년대에는 활동층이 나타나지 않았을 것이다.  
 ㄹ. 1960년대에 비해 1990년대가 지표의 안정성이 더 컸을 것이다.

- ① ㄱ, ㄴ ② ㄱ, ㄷ ③ ㄴ, ㄷ ④ ㄴ, ㄹ ⑤ ㄷ, ㄹ

20. 다음 자료는 (가)~(다) 국가의 인구 변화를 나타낸 것이다. 이에 대한 옳은 설명을 <보기>에서 고른 것은? [3점]



<보기>

ㄱ. 1950년 생산 연령층 인구 비중이 가장 높은 국가는 (가)이다.  
 ㄴ. 1950~1955년에 인구의 자연 증가율은 (가) 국가에서 가장 높게 나타난다.  
 ㄷ. 2010년 노년 인구 부양비가 가장 높은 국가는 (나)이다.  
 ㄹ. (다) 국가는 2010년에 피라미드형 인구 구조가 나타난다.

- ① ㄱ, ㄴ ② ㄱ, ㄷ ③ ㄴ, ㄷ ④ ㄴ, ㄹ ⑤ ㄷ, ㄹ

\* 확인 사항  
 ○ 답안지의 해당란에 필요한 내용을 정확히 기입(표기)했는지 확인하십시오.