

제 4 교시

사회탐구 영역(세계 지리)

성명 수험번호 3

1. 다음 자료의 ㉠과 관련된 내용으로 옳은 것은?

클래식 음악 속 지리 세상 2015년 3월 호

나폴리를 사랑한 음악가 지오반니는 이탈리아 사람들의 정서를 담은 노래를 만들었다. 그의 대표곡인 '오 나의 태양(O sole mio)'은 지중해 연안에 위치한 아름다운 ㉠ 나폴리의 자연환경과 사랑하는 사람을 찬양하는 내용이 담겨있다.

<'오 나의 태양(O sole mio)' 중에서>

- ① 여름철에 낮이 길어 백야 현상이 나타난다.
- ② 아열대 고압대의 영향으로 여름이 건조하다.
- ③ 연중 강한 일사로 인해 대류성 강수가 발생한다.
- ④ 해발 고도가 높아 항상 봄과 같은 날씨가 나타난다.
- ⑤ 대륙과 해양의 비열 차로 인한 계절풍의 영향이 크다.

2. 다음 자료의 ㉠~㉣에 대한 옳은 설명을 <보기>에서 고른 것은? [3점]

[수행 평가 보고서]

3학년 ○반 이름: △△△

주제: 자원 개발에 따른 환경 문제

1. 사례 지역: ㉠ 북위 49~60°, 서경 110~120°에 위치한 캐나다 앨버타 주
2. 지역 특징: 광활한 ㉡ 삼림 지대에 수많은 야생 동물들이 살고 있으며, 세계적인 오일샌드* 개발지로 알려져 있음.
3. 환경 문제: 오일샌드 생산 과정에서 ㉢ 이산화 탄소를 비롯한 다양한 오염 물질이 배출되고, ㉣ 삼림 훼손이 광범위하게 이루어지고 있음.

* 오일샌드: 원유를 함유한 모래, 점토 등을 의미함.

< 보 기 >

- ㄱ. ㉠은 속성 정보에 해당한다.
- ㄴ. ㉡에는 침엽수림이 주로 분포한다.
- ㄷ. ㉢은 몬트리올 의정서를 통해 감축 방안이 마련되었다.
- ㄹ. ㉣은 원격 탐사를 통해 주기적으로 파악할 수 있다.

- ① ㄱ, ㄴ ② ㄱ, ㄷ ③ ㄴ, ㄷ ④ ㄴ, ㄹ ⑤ ㄷ, ㄹ

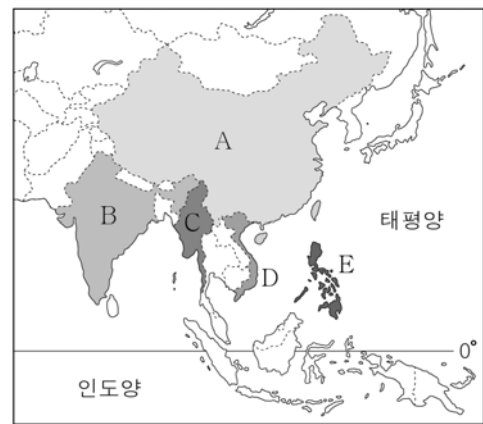
3. 다음 자료의 (가)에 해당하는 국가를 지도의 A~E에서 고른 것은? [3점]

(가) 검색

통합검색 | 이미지 | 동영상 | 뉴스 | 블로그 | 카페 | 어학사전 | 더보기

우리나라의 15번째 자유 무역 협정(FTA) 동반자가 된 (가)는...
○○신문 2014. 12. 10.

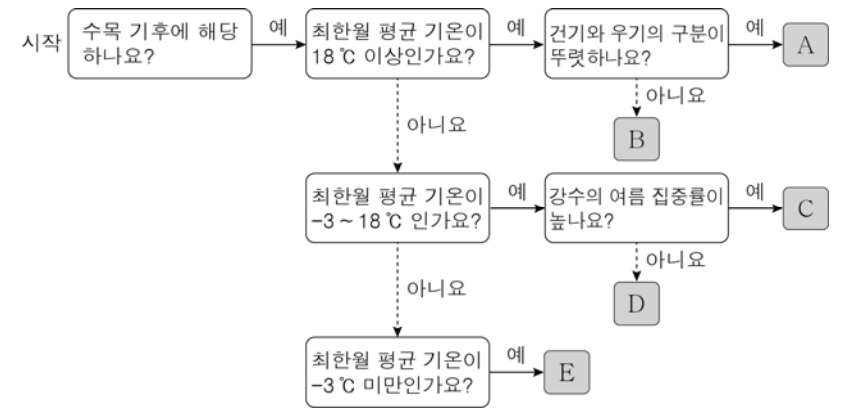
(가)는 동남아시아 국가 연합(ASEAN) 회원국으로서 핵심적 역할을 담당하고 있으며...
↳ (가)는 인구 9천만 명의 탄탄한 내수 시장, 한국 기업 진출...
↳ (가)는 2011년 기준 커피·쌀 수출 세계 2위...
↳ (가)의 주변 해역에 대규모 원유가 매장되어 있어...



- ① A
- ② B
- ③ C
- ④ D
- ⑤ E

4. (가) 기후를 그림의 A~E에서 고른 것은?

연중 적도 수렴대의 영향을 받는 (가) 기후 지역은 다양한 상록 활엽수들이 경쟁과 조화 속에서 여러 층을 이루며 자라고 있다. 높이 자랄 수 있는 나무는 다른 나무보다 햇빛을 많이 받으려고 계속 자라서 상층부를 형성하고, 그 아래 키 작은 나무나 풀들은 그늘에 가려 성장에 제약을 받기도 한다. 한편 덩굴 식물은 키 큰 나무를 이용하여 높은 곳으로 올라가 햇빛을 받으려고 한다.



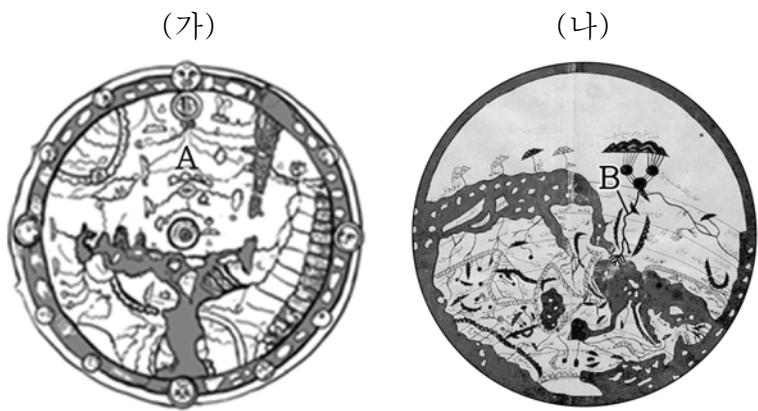
- ① A ② B ③ C ④ D ⑤ E

5. 다음 자료의 (가)에 들어갈 내용으로 가장 적절한 것은?

교사: 지도의 A, B 지역에는 공통적으로 (가) 이/가 나타나고 있습니다.

- ① 언어 차이에 따른 갈등
- ② 댐 건설을 둘러싼 물 분쟁
- ③ 이슬람교와 그리스도교의 대립
- ④ 석유 자원 소유권을 둘러싼 갈등
- ⑤ 종족을 무시한 국경 획정에 따른 갈등

6. 지도에 대한 옳은 설명을 <보기>에서 고른 것은? [3점]

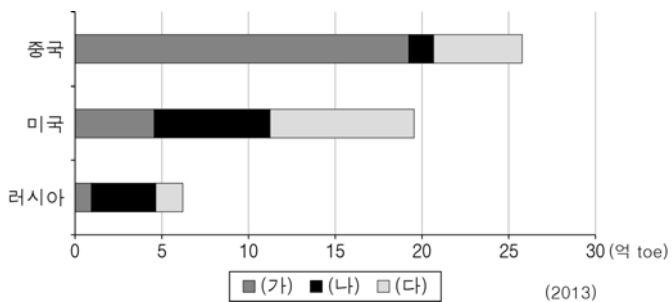


< 보 기 >

ㄱ. (가)는 지도 투영법을 바탕으로 제작되었다.
 ㄴ. (나)는 이슬람교의 세계관이 반영되어 있다.
 ㄷ. A는 아메리카 대륙을 표현한 것이다.
 ㄹ. B 하천은 남에서 북으로 흐른다.

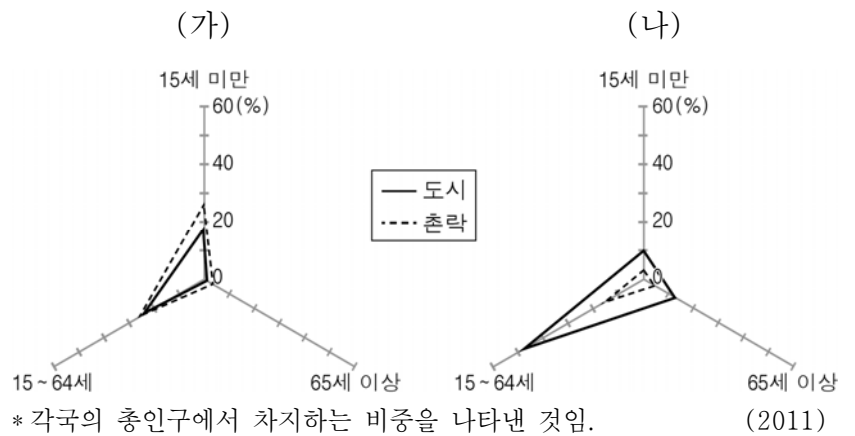
- ① ㄱ, ㄴ ② ㄱ, ㄷ ③ ㄴ, ㄷ ④ ㄴ, ㄹ ⑤ ㄷ, ㄹ

7. 그래프는 세 국가의 주요 화석 에너지별 소비량을 나타낸 것이다. (가)~(다) 에너지에 대한 설명으로 옳은 것은? [3점]



- ① (가)는 주로 신생대 제3기층의 배사 구조에 매장되어 있다.
- ② (나)는 세계 1차 에너지 소비 구조에서 차지하는 비중이 가장 높다.
- ③ (다)는 냉동 액화 기술의 개발 이후 소비가 급증하였다.
- ④ (가)는 (나)보다 연소 시 대기 오염 물질 배출량이 많다.
- ⑤ (나)는 (다)보다 산업에 본격적으로 이용된 시기가 이른다.

8. 그래프는 두 국가의 도시와 촌락의 연령층별 인구 비중을 나타낸 것이다. (가), (나) 국가에 대한 옳은 설명을 <보기>에서 고른 것은? [3점]



< 보 기 >

ㄱ. (가)는 도시화의 종착 단계에 해당한다.
 ㄴ. (나)는 도시 인구보다 촌락 인구가 많다.
 ㄷ. (가)는 (나)보다 유소년 인구 부양비가 높다.
 ㄹ. (나)는 (가)보다 노년층 인구 비중이 높다.

- ① ㄱ, ㄴ ② ㄱ, ㄷ ③ ㄴ, ㄷ ④ ㄴ, ㄹ ⑤ ㄷ, ㄹ

9. 다음 자료의 (가)~(다)에 들어갈 지역을 지도의 A~C에서 고른 것은?

< 다큐멘터리 '유럽을 가다' 제작 계획안 >

촬영 지역	주제	촬영 내용
(가)	세계 도시	템즈 강변에 증권 거래소, 다국적 기업 본사 등이 집중되어 있는 국제 금융 및 업무 중심지의 모습
(나)	산업 변화	과거 유럽 중화학 공업의 핵심지였으나 공업 쇠퇴로 폐쇄된 산업 시설이 문화 공간으로 변모한 모습
(다)	지역 축제	거리에서 붉은 토마토를 던지며 축제를 즐기는 사람들의 모습

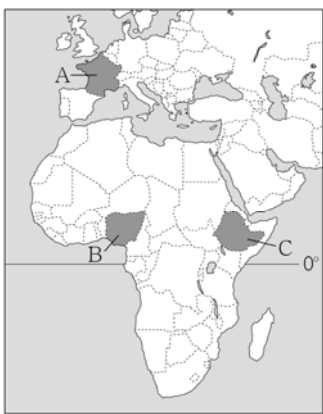


- (가) (나) (다)
- ① A B C
 - ② A C B
 - ③ B A C
 - ④ B C A
 - ⑤ C A B

10. 표는 세 국가의 품목별 수출액을 나타낸 것이다. (가)~(다) 국가를 지도의 A~C에서 고른 것은?

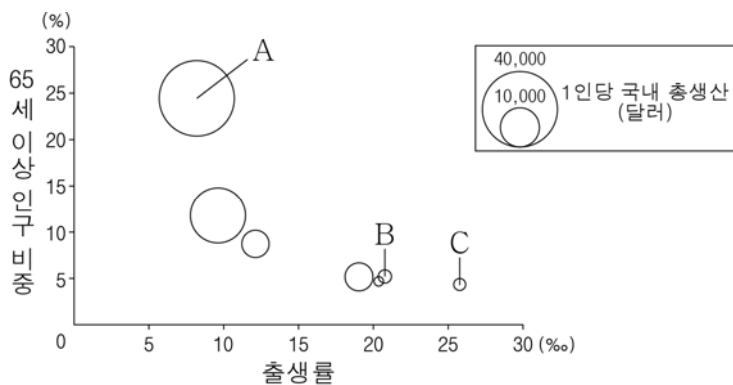
(가)		(나)		(다)	
품목	수출액	품목	수출액	품목	수출액
커피	89	석유	9,906	우주·항공	4,728
참깨	46	석유 제품	1,228	의약품	2,728
채소류	25	천연 고무	1,007	자동차	2,018
콩	20	가스류	897	자동차 부품	1,642
금	17	카카오	303	석유 제품	1,613
전체 품목	289	전체 품목	14,315	전체 품목	55,658

* 수출액이 많은 상위 5개 품목만 제시함. (단위: 천만 달러, 2012)



- | | (가) | (나) | (다) |
|---|-----|-----|-----|
| ① | A | B | C |
| ② | B | A | C |
| ③ | B | C | A |
| ④ | C | A | B |
| ⑤ | C | B | A |

11. 그래프에 제시된 A~C 국가에 대한 추론으로 옳은 것은?



* 출생률과 65세 이상 인구 비중은 원 중심점의 값임. (2012)

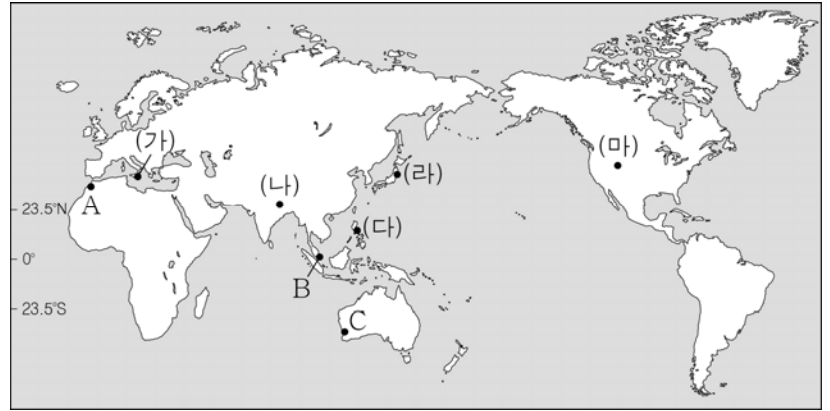
- ① A는 피라미드형 인구 구조가 나타날 것이다.
- ② B는 인구 변천 단계 모형의 저위 정체기에 해당할 것이다.
- ③ C는 적극적인 출산 장려 정책이 필요할 것이다.
- ④ B는 A보다 평균 수명이 길 것이다.
- ⑤ C는 A보다 유아 사망률이 높을 것이다.

12. 다음 글의 ㉠~㉣에 대한 설명으로 옳지 않은 것은? [3점]

사막에서는 바람의 작용으로 다양한 지형이 형성된다. ㉠ 버섯 바위, 삼릉석, ㉡ 사막 포도는 바람의 침식 작용으로 형성되며, ㉢ 바르한과 같은 사구는 바람의 퇴적 작용으로 형성된다. 또한 사막에서는 비가 짧은 시간에 집중적으로 쏟아져 독특한 지형이 발달하는데, ㉣ 와디와 ㉤ 플라야가 대표적이다.

- ① ㉠은 윗부분보다 아랫부분이 집중적으로 침식된다.
- ② ㉡은 ㉢에 비해 구성 물질의 평균 입자 크기가 크다.
- ③ ㉢은 바람을 받는 쪽은 완경사를 이루고 그 반대쪽은 급경사를 이룬다.
- ④ ㉣은 평소에 교통로로 이용된다.
- ⑤ ㉤에 고인 물은 대부분 농업용수나 식수로 이용된다.

[13~14] 지도를 보고 물음에 답하시오.

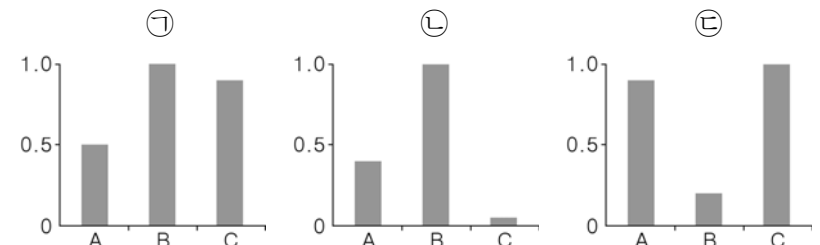


13. 지도의 (가)~(마)는 신기 조산대 지역을 나타낸 것이다. 이 지역 주민들의 생활 모습으로 적절하지 않은 것은?

- ① (가) - 비옥한 화산재 토양에서 농사를 짓는다.
- ② (나) - 활화산의 분화구에서 유황을 채취한다.
- ③ (다) - 지하의 뜨거운 열을 이용하여 전력을 생산한다.
- ④ (라) - 지진 해일에 대비하여 해안에 제방을 높게 건설한다.
- ⑤ (마) - 간헐천과 온천을 이용한 관광 산업에 종사한다.

14. 그래프는 A~C 지역의 상대적인 기후 특징을 나타낸 것이다.

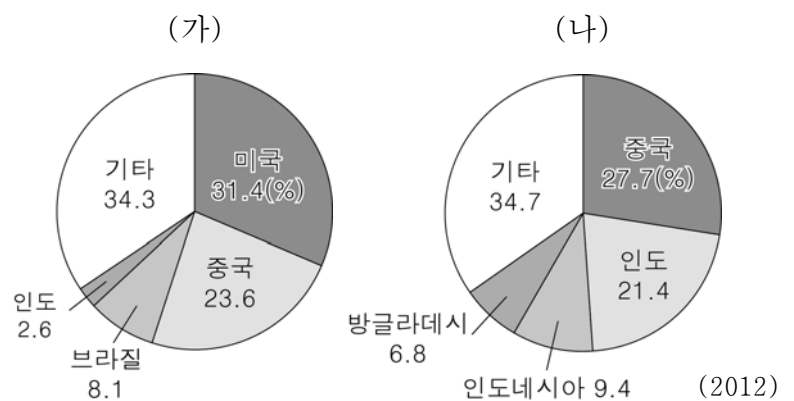
㉠~㉣에 해당하는 항목으로 옳은 것은? [3점]



* 그래프는 최대 지역의 값을 1로 하였을 때의 상대값을 나타낸 것임.

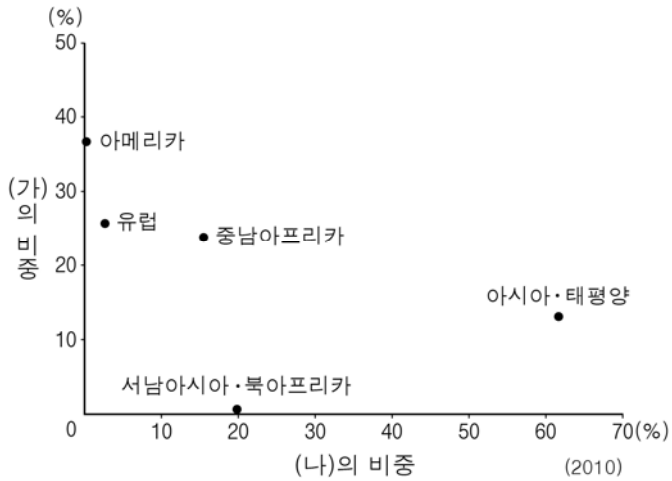
- | ㉠ | ㉡ | ㉢ |
|------------|----------|----------|
| ① 1월 강수량 | 1월 평균 기온 | 기온의 연교차 |
| ② 1월 강수량 | 기온의 연교차 | 1월 평균 기온 |
| ③ 1월 평균 기온 | 1월 강수량 | 기온의 연교차 |
| ④ 1월 평균 기온 | 기온의 연교차 | 1월 강수량 |
| ⑤ 기온의 연교차 | 1월 강수량 | 1월 평균 기온 |

15. 그래프는 두 식량 작물의 국가별 생산량 비중을 나타낸 것이다. (가), (나) 작물에 대한 설명으로 옳은 것은?



- ① (가)는 서남아시아가 원산지이다.
- ② (가)는 대부분 아시아 계절풍 기후 지역에서 재배된다.
- ③ (나)의 최대 수출 국가는 중국이다.
- ④ (나)는 바이오 에탄올의 원료로 이용되면서 수요가 급증하였다.
- ⑤ (가)는 (나)보다 가축의 사료로 이용되는 비중이 높다.

16. 그래프는 두 종교의 지역별 신자 수 비중을 나타낸 것이다. (가), (나) 종교에 대한 설명으로 옳은 것은?



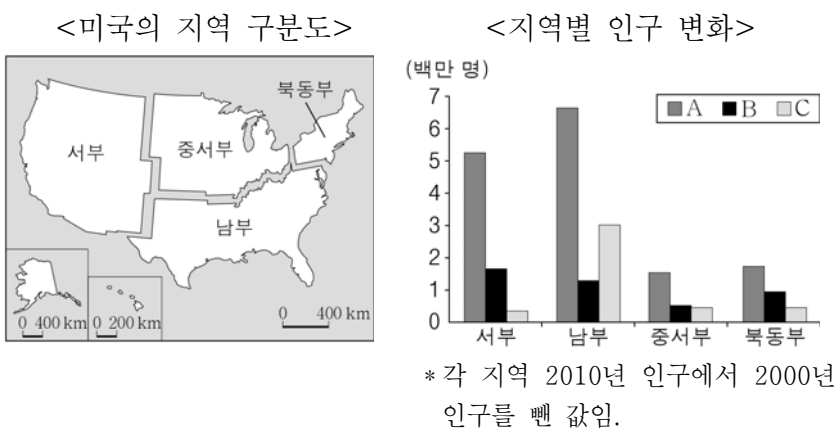
- ① (가)는 돼지고기와 술을 금기시한다.
- ② (나)의 대표적인 종교 경관은 불상과 불탑이다.
- ③ (나)는 (가)보다 세계 신자 수가 많다.
- ④ (가), (나)의 발상지는 서남아시아에 위치한다.
- ⑤ (가)는 보편 종교, (나)는 민족 종교에 해당한다.

17. 다음 자료는 남아메리카 여행 계획을 기록한 것이다. ㉠~㉤의 내용 중 적절하지 않은 것은? [3점]

- ㉠ 끝없이 펼쳐진 커피 농장을 견학하고 신선한 커피를 마셔 봐야지.
- ㉡ 태양을 숭배한 잉카인들의 신비한 유적들을 볼 수 있을 거야.
- ㉢ 건기에 풀을 찾아 대규모로 이동하는 동물들의 모습은 장관일 거야.
- ㉣ 해안을 따라 펼쳐진 사막에서 맞는 아침은 어떤 느낌일까.
- ㉤ 유람선을 타고 아름답고 웅장한 피오르를 감상해야지.

- ① ㉠ ② ㉡ ③ ㉢ ④ ㉣ ⑤ ㉤

18. 다음 자료는 최근 10년간 A~C 인종(민족)의 인구 변화를 나타낸 것이다. 이에 대한 설명으로 옳은 것은? (단, 아시아계, 아프리카계, 히스패닉만 고려함.)



- ① A는 가정에서 주로 에스파냐어를 사용한다.
- ② B의 선조들은 아프리카에서 노예로 강제 이주되었다.
- ③ C는 19세기에 건설 및 농업 노동자로 유입되기 시작하였다.
- ④ B는 A보다 가톨릭교 신자의 비중이 높다.
- ⑤ B는 C보다 미국의 총인구에서 차지하는 비중이 높다.

19. 다음 자료의 (가)에 들어갈 가장 적절한 지형을 그림의 A~E에서 고른 것은? [3점]

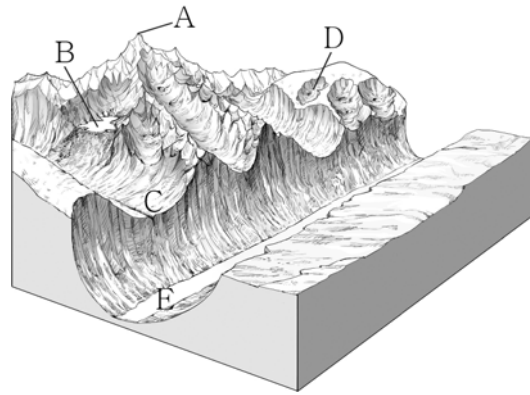
※ 다음 설명에 해당하는 용어의 글자를 퍼즐 판에서 지운 후, 남은 글자를 모두 사용한 빙하 지형의 명칭은? (가)

설명 1: 용빙수에 의해 퇴적된 제방 모양의 지형
 설명 2: 빙하에 의해 운반된 모래와 자갈 등의 퇴적물
 설명 3: 산 정상부에서 빙하에 의해 오목하게 패인 지형

<퍼즐 판>

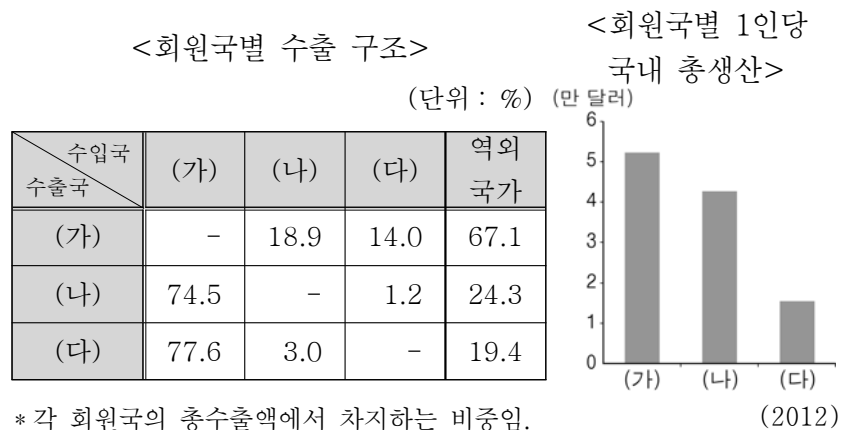
모	스	현	커	곡
곡	권	에	레	인

<빙하 침식 지형 모식도>



- ① A
- ② B
- ③ C
- ④ D
- ⑤ E

20. 다음 자료는 북아메리카 자유 무역 협정(NAFTA)에 관한 것이다. (가)~(다) 국가에 대한 옳은 설명을 <보기>에서 고른 것은? [3점]



* 각 회원국의 총수출액에서 차지하는 비중임.

< 보 기 >

- ㄱ. (가)는 회원국 중 역내 수출 비중이 가장 높다.
- ㄴ. (가)는 (나)보다 세계 총무역액에서 차지하는 비중이 높다.
- ㄷ. (다)는 (가)와의 국경 지대에 마킬라도라를 형성하고 있다.
- ㄹ. (가)는 (나)로의 수출액보다 (다)로의 수출액이 많다.

- ① ㄱ, ㄴ ② ㄱ, ㄷ ③ ㄴ, ㄷ ④ ㄴ, ㄹ ⑤ ㄷ, ㄹ

※ 확인 사항

- 답안지의 해당란에 필요한 내용을 정확히 기입(표기)했는지 확인하십시오.