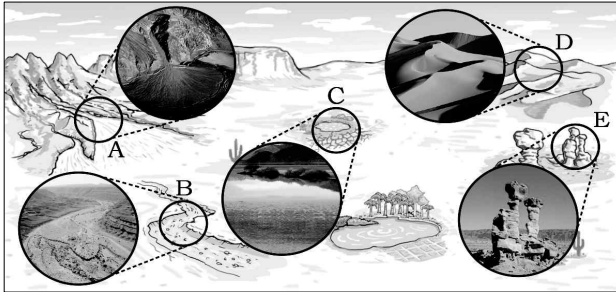
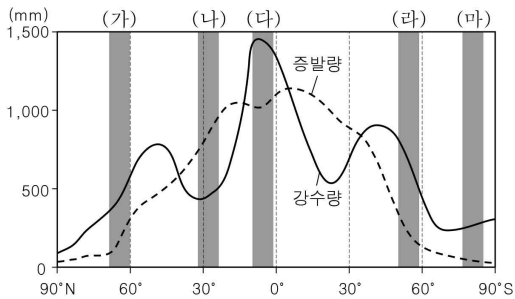


[5~6] 다음은 어떤 기후 지역에 분포하는 지형들을 나타낸 것이다. 물음에 답하시오.



5. A~E 지형에 대한 설명으로 옳지 않은 것은? [3점]
- ① A는 경사가 완만한 고기습곡산지 주변에서 주로 발달한다.
 - ② B는 비가 올 때에만 물이 일시적으로 흐르는 하천이다.
 - ③ C는 분지 내부에 만들어지고 염분이 함유되어 있다.
 - ④ D는 바람의 방향에 따라 모양이 쉽게 바뀔 수 있다.
 - ⑤ E는 바위가 바람에 날려온 모래에 깎여 형성되었다.

6. 그래프는 위도별 연 강수량과 증발량을 나타낸 것이다. A~E 지형이 주로 분포하는 위도대를 (가)~(마)에서 고른 것은?



- ① (가) ② (나) ③ (다) ④ (라) ⑤ (마)

7. 다음은 어떤 대중가요와 관련된 신문기사의 일부이다. ㉠~㉥을 통해 알 수 있는 세계화의 특징으로 옳지 않은 것은? [3점]

한국의 대중가요가 세계를 정복하다!

가수 □□씨의 뮤직비디오가 ㉠ 인터넷 동영상 공유사이트에 공개된 지 6개월여 만에 조회수가 10억 건을 넘어섰다. ㉡ 가까운 아시아부터 아프리카 지역에 이르기까지 전 세계 220여 개국의 사람들이 시청한 것으로 나타났다. 게다가 보는 것에 그치지 않고 여러 국가의 청소년, 정치인, 연예인 등 각계각층의 사람들은 플래시 몹*을 하고 ㉢ 자신들의 생각을 담은 각종 패러디 영상을 제작하여 동영상 공유사이트나 블로그에 올리기도 하였다.

-2012. 00. 00. △△신문-

*플래시 몹(Flash Mob): 네티즌들이 이메일이나 휴대전화로 특정 시간과 장소를 정한 뒤 모여서 약속된 행동을 하고 흩어지는 행위

- ① ㉠ - 정보 통신 기술의 발달이 세계화를 촉진시킨다.
- ② ㉡ - 과거에 비해 문화가 다른 지역으로 확산되는 속도가 빠르다.
- ③ ㉢ - 지역 문화의 고유성은 약화되고 지역 간 동질성은 강화된다.
- ④ ㉣ - 정보의 이동 속도에서 공간적 거리의 중요성이 커지고 있다.
- ⑤ ㉤ - 전파된 문화는 각 지역의 문화와 어우러져 변화하게 된다.

8. 자료는 학생이 A, B 종교에 대해 조사한 내용이다. 이에 대한 옳은 설명을 <보기>에서 고른 것은? [3점]

구분	A	B
신도 비중*	약 16%	약 34%
종교와 관련된 생활 모습	 강물에 몸을 담그고 자신의 목은 죄를 씻어 내는 신도들	 사순절(四旬節)에 앞서 '카니발'을 즐기는 사람들

*신도 비중: 세계 총 인구 중 해당 종교를 믿는 인구 비중임(2009년).

< 보 기 >

ㄱ. A는 보편 종교에 해당한다.
 ㄴ. A는 카스트 제도와 깊게 연관되어 있다.
 ㄷ. B는 종교 교리에 따라 돼지고기를 금기시한다.
 ㄹ. B는 서남아시아에서 발생하여 유럽과 아메리카로 확산되었다.

- ① ㄱ, ㄴ ② ㄱ, ㄷ ③ ㄴ, ㄷ
- ④ ㄴ, ㄹ ⑤ ㄷ, ㄹ

9. 그림은 인터넷을 통해 어떤 국가의 지리 정보를 검색한 결과이다. 이에 해당하는 국가를 지도의 A~E에서 고른 것은?

국기:

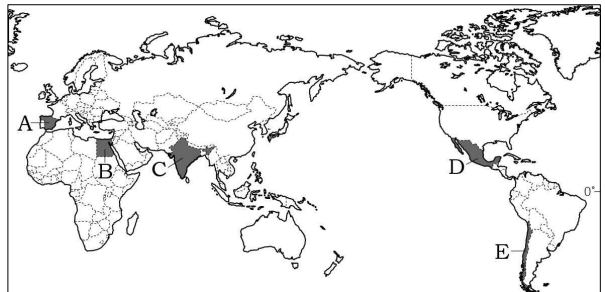
수도 - 산티아고

현재 시간: 오전 07:30

지리정보 여행 문화 경제

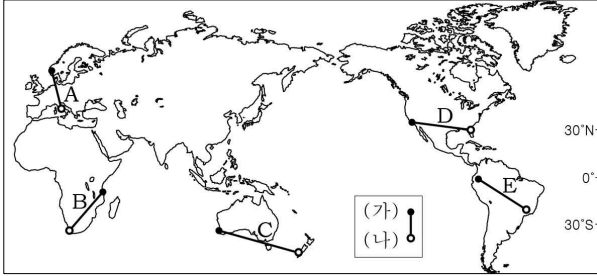
- 언어 - 에스파냐어
- 면적 - 756,102km²
- 인구 - 약 1,707만 명
- 기후 - 아열대, 건조, 온대 등 다양한 기후가 나타남
- 종교 - 가톨릭교 89%, 개신교 11%

2013-04-10 오후 08:30



- ① A ② B ③ C ④ D ⑤ E

10. 지도의 A~E는 기후 특성이 다른 두 지점을 각각 연결한 것이다. <조건>을 모두 만족하는 것을 A~E에서 고른 것은? [3점]



< 조건 >
 ○ 연 평균 기온: (나) > (가) ○ 하계 강수 집중률: (가) > (나)

- ① A ② B ③ C ④ D ⑤ E

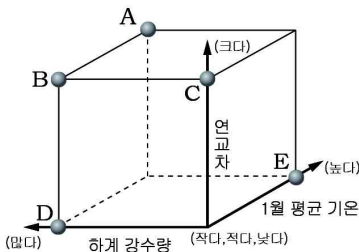
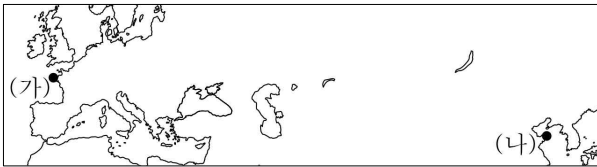
11. 지도의 A~C 축제에 대한 옳은 설명을 <보기>에서 고른 것은?



< 보기 >
 가. A는 다양한 인종의 문화가 결합되어 있다.
 나. B는 낮보다 긴 밤을 즐기는 축제이다.
 다. C는 산지의 지형과 기후를 활용한 것이다.
 라. B와 C는 서로 다른 계절에 개최된다.

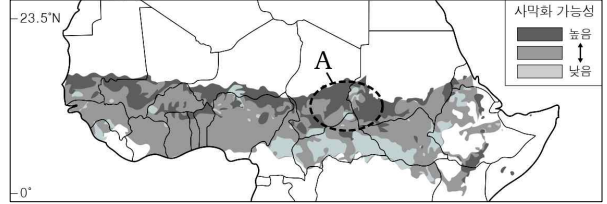
- ① 가, 나 ② 가, 다 ③ 나, 다
 ④ 나, 라 ⑤ 다, 라

12. 지도의 (가) 지역과 비교한 (나) 지역의 상대적 특징을 그래프의 A~E에서 고른 것은? [3점]




- ① A
 ② B
 ③ C
 ④ D
 ⑤ E

13. 지도는 아프리카 일부 지역의 사막화 가능성을 나타낸 것이다. 이러한 현상으로 인해 A 지역에 나타날 변화로 적절하지 않은 것은?



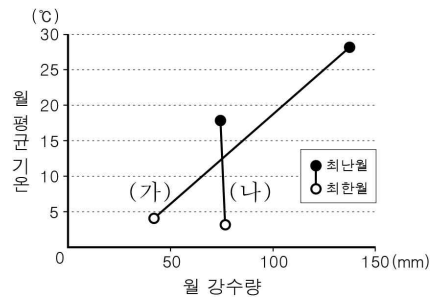
- ① 식생의 감소로 일교차가 작아질 것이다.
 ② 경지 감소로 식량 생산량이 줄어들 것이다.
 ③ 기근과 물 부족 문제가 더욱 심각해질 것이다.
 ④ 토양이 유실되거나 염분의 농도가 높아질 것이다.
 ⑤ 물을 찾아 다른 지역으로 떠나는 난민이 증가할 것이다.

14. (가), (나) 지도의 공통된 특징으로 옳은 것은?



- ① 지도의 위쪽이 북쪽이다.
 ② 아메리카 대륙이 표현되어 있다.
 ③ 항해에 도움을 주기 위해 제작되었다.
 ④ 과학적 측량법을 이용하여 만들어졌다.
 ⑤ 세계의 인식에 종교적 가치관이 반영되어 있다.

15. 그래프의 (가), (나) 기후에 해당하는 지역의 주민 생활에 대한 옳은 설명을 <보기>에서 고른 것은? [3점]



< 보기 >
 가. (가)의 전통 가옥은 흙으로 지으며 벽이 두껍고 창은 작다.
 나. (나)에서는 맑은 날이면 일광욕하는 사람들을 흔히 볼 수 있다.
 다. (가)는 (나)보다 목초가 잘 자라 낙농업에 유리하다.
 라. (가)는 (나)보다 홍수, 가뭄 등에 의한 피해를 많이 입는다.

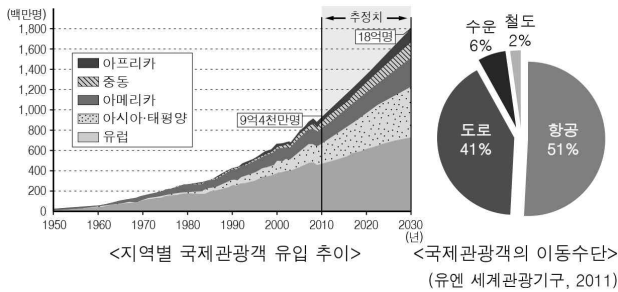
- ① 가, 나 ② 가, 다 ③ 나, 다
 ④ 나, 라 ⑤ 다, 라

16. 다음은 A~D 지역의 주민 생활에 대해 학생들이 나눈 대화이다. 대화 내용이 옳은 학생을 고른 것은? [3점]



- ① 갑, 을 ② 갑, 병 ③ 을, 병
- ④ 을, 정 ⑤ 병, 정

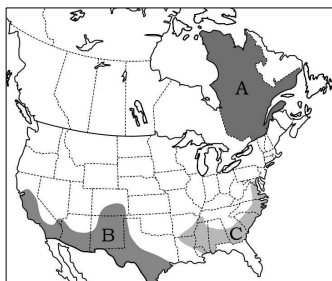
17. 자료는 국제 관광에 관한 것이다. 이를 통해 예상할 수 있는 변화로 적절하지 않은 것은?



- ① 의식주 문화의 세계화가 촉진될 것이다.
- ② 항공 교통의 중요성이 더욱 커질 것이다.
- ③ 국가 간 교류 증대로 국경의 의미가 강화될 것이다.
- ④ 대부분 지역에서 관광을 통한 수입이 증가할 것이다.
- ⑤ 다른 지역의 문화와 역사를 이해하는 폭이 넓어질 것이다.

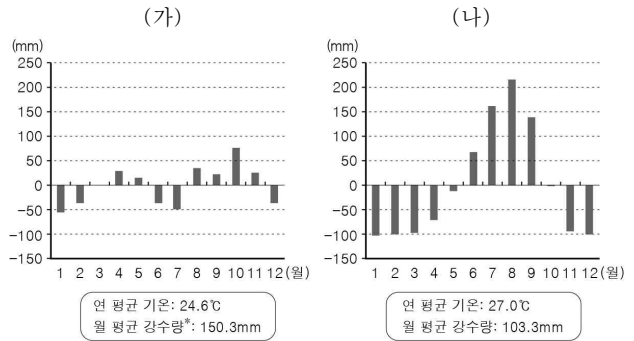
18. 다음은 영어로 아메리카의 두 문화 지역에 대한 설명이다. (가), (나) 지역을 지도의 A~C에서 고른 것은?

(가) 에스파냐어를 사용하는 국가에서 온 이민자가 영어로 아메리카에서 가장 많이 분포한다.
 (나) 프랑스어를 공용어로 사용하며 주민들은 프랑스 문화를 고수하고 있다.



- | | | |
|---|-----|-----|
| | (가) | (나) |
| ① | A | B |
| ② | A | C |
| ③ | B | A |
| ④ | B | C |
| ⑤ | C | A |

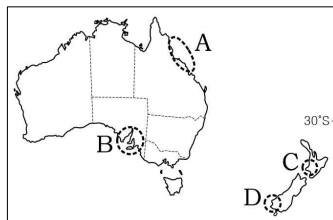
19. 그래프는 (가), (나) 지역의 강수 편차를 나타낸 것이다. 두 지역의 기후 특성에 대한 설명으로 옳은 것은? (단, 강수 편차=월 강수량-월 평균 강수량임.) [3점]



*월 평균 강수량=연강수량÷12

- ① (가)는 건기와 우기의 구별이 뚜렷하다.
- ② (가)는 거의 매일 대류성 강수가 나타난다.
- ③ (가)는 여름철에 계절풍의 영향을 받는다.
- ④ (나)는 연교차가 일교차보다 크다.
- ⑤ (나)는 연중 편서풍의 영향을 받는다.

20. 그림은 학생이 오세아니아 지역을 여행하면서 친구에게 보낸 휴대폰 메시지도. 학생의 여행 장소를 지도의 A~D에서 고른 것은?



- | | | |
|---|--------|--------|
| | 1월 10일 | 1월 14일 |
| ① | A | B |
| ② | A | C |
| ③ | A | D |
| ④ | B | C |
| ⑤ | B | D |

※ 확인사항

문제지와 답안지의 해당란을 정확히 기입(표기)했는지 확인하십시오.