

제 4 교시

# 사회탐구 영역(사회·문화)

성명  수험 번호

1. 밑줄 친 ㉠, ㉡과 같은 현상의 일반적 특징을 구분하기 위해 A, B에 들어갈 수 있는 질문으로 옳은 것은?

㉠ 감기에 걸렸을 때 감기약을 먹으면 7일 만에 낫고, 그렇지 않으면 일주일 만에 낫는다는 말이 있다. 이는 우리 몸에 ㉡ 병을 치유할 수 있는 자생력이 내재되어 있음을 의미하는 말이다. 사회에도 우리 몸과 같이 비정상적인 상태를 바로잡아 정상적인 상태로 회복시켜 주는 장치가 내재되어 있다.

질문 \ 답변	예	아니오
A	㉠	㉡
B	㉡	㉠

- ① A: 당위 법칙이 적용되는가?
- ② A: 존재 법칙이 적용되는가?
- ③ A: 동일 조건하에서 동일 현상이 발생하는가?
- ④ B: 가치 판단이 가능한가?
- ⑤ B: 확률의 원리가 적용되는가?

2. (가), (나)에 나타난 사회·문화 현상을 바라보는 관점에 대한 설명으로 옳은 것은?

(가) 사람들은 흔히 붉은색에 '열정' 혹은 '위험'의 의미를 부여한다. 영화제 레드카펫의 붉은색을 보면서 사람들은 화려한 축제의 열정적 분위기를 떠올리지 붉은색 카펫이 깔려 있다고 이것을 위험한 길이라 생각하지 않는다. 반면 신호등의 붉은색을 보면서 사람들은 이것을 위험에 대한 경고로 이해하지 열정의 색으로 생각하지 않는다.  
(나) 신호등의 붉은색은 '위험하니 멈추라'는 의미의 사회적 약속이다. 이렇게 운전자와 보행자가 모두 신호등 각각의 색깔이 상징하는 규칙 체계를 준수함으로써 사고 없이 안전하게 거리를 다닐 수 있다. 물론 신호를 위반해 위험을 초래하는 사람도 있지만 이런 일은 일시적으로 벌어지는 비정상적 상황일 뿐이다.

- ① (가)의 관점은 사회 각 부분 간의 균형과 통합을 강조한다.
- ② (나)의 관점은 사회가 본질적으로 변동을 지향한다고 본다.
- ③ (가)의 관점은 (나)의 관점과 달리 사회 구성원의 상황 정의를 중시한다.
- ④ (나)의 관점은 (가)의 관점과 달리 사회 구성원의 능동성을 중시한다.
- ⑤ (가), (나)의 관점은 모두 사회의 각 부분이 상호 유기적 관계를 맺고 있다고 본다.

3. 밑줄 친 ㉠~㉣에 대한 설명으로 옳은 것은? [3점]

㉠ 아이돌 그룹의 멤버가 되기를 꿈꾸어 왔던 갑은 신인 아이돌 그룹 ㉡ ☆☆☆의 팬클럽을 결성하여 회장으로 활동하였다. 학교 친구들과 ㉢ 댄스 모임을 만들어 꾸준히 연습하던 갑은 방송사의 음악 경연 프로그램에 참가하였지만 ㉣ 예선 탈락의 아픔을 맛보았다. 이에 좌절하지 않고 더욱 분발한 갑은 마침내 ㉤ △△ 기획사에서 개최한 ㉥ 공개 오디션에 합격하였고, 솔로 가수로 데뷔하여 큰 인기를 얻었다. 최근 갑은 무의탁 노인을 대상으로 봉사하는 ㉦ ◇◇ 단체의 홍보 대사로 위촉되어 공연을 하는 등 재능 기부로 나눔을 실천하는 데 앞장서고 있다.

- ① ㉠은 갑의 준거 집단이자 내집단이다.
- ② ㉡은 자발적 결사체이자 이익 사회이다.
- ③ ㉣은 전인격적 인간관계를 바탕으로 한다.
- ④ ㉢과 ㉤은 모두 2차 집단이자 공식 조직이다.
- ⑤ ㉥과 ㉦은 각각 갑의 역할에 대한 제재와 보상이다.

4. 다음 연구에 대한 설명으로 옳은 것은? (단, (가)~(마)는 연구 과정을 순서 없이 나열한 것이다.) [3점]

• 연구 주제 설정: ㉠ 청소년이 스마트폰 게임 중독에 빠지는 원인으로 가족 환경에 주목하고 그 관련성을 파악하기로 하였다.  
(가) 스마트폰 게임 중독은 게임 빈도와 시간으로, 부모와 자녀의 유대 정도는 부모-자녀 간 말다툼 빈도 및 부모와의 동일시 정도로 측정하기로 하였다. 연구 대상자는 300명으로, ㉡ ○○ 지역 5개 고등학교 1학년 남녀 학생 중에서 무작위로 선정되었다.  
(나) 스마트폰 게임 빈도 및 시간은 부모-자녀 간 말다툼 빈도와는 정(+)의 관계, 부모와의 동일시 정도와는 부(-)의 관계에 있음을 확인하였다.  
(다) ㉢ 부모와 자녀 간 유대가 약할수록 자녀의 스마트폰 게임 중독 정도가 높을 것으로 추정하였다.  
(라) 2017년 8월, 연구 대상자와의 대면 접촉을 통해 구조화된 질문지로 자료를 수집하였다.  
(마) ㉣ 게임 중독 치료 경험이 있는 청소년들을 심층 면접한 선행 연구 자료를 검토하였다. ㉤ 이 선행 연구 자료에서 가족의 특성, 가족 내 갈등 경험 및 가족 구성원 간 친밀성 정도와 스마트폰 게임 중독 사이에 높은 연관성이 있음을 확인하였다.  
• 결론 도출: ㉥ 이 연구를 통해 부모와의 유대가 약한 청소년일수록 스마트폰 게임 중독에 빠질 가능성이 높아진다는 사실을 확인하였다.

- ① ㉠은 모집단, ㉡은 표본 집단이다.
- ② ㉢을 측정하기 위한 조작적 정의는 (마)에서 이루어졌다.
- ③ ㉣과 같은 자료 수집 방법은 연구 대상자와 연구자 간 친밀성이 중시된다.
- ④ ㉤과 같은 연구 방법은 ㉥과 같은 연구 방법에 비해 한정된 수의 변인에 집중하여 가설을 검증하기 용이하다.
- ⑤ 이 연구 과정은 (가)-(다)-(마)-(라)-(나) 순서로 진행되는 것이 적절하다.

5. 다음 글에서 공통적으로 부각되는 문화의 속성에 대한 옳은 진술을 <보기>에서 고른 것은?

○ 미국 남서부에 거주하는 주니 족은 절제의 미덕을 중시한다. 이들은 남에게 해를 끼치지 않기 위해 어릴 때부터 집단의 행동 규범을 따라야 하고 개인적인 권위나 카리스마를 내세울 수 없다. 아이들은 일상생활 속에서 원한, 억눌림, 야심, 야망 등이 없이 자라난다. 어른이 되어도 그들은 권력을 쥐고 무언가 해 보겠다는 식의 권력 의지가 없다.  
○ 베네수엘라와 브라질의 국경 부근에 사는 야노마모 족에게 근본적이고 중요한 관심사는 "누가 진짜 인간인가?"라는 것이다. 그들은 스스로를 '진짜로 문명화된' 유일한 존재라고 생각하며, 외부인들을 '야만적' 존재로 간주한다. 선조들로부터 구전되어 오는 그들의 기원 신화에 따르면, 최초로 창조된 사람은 야노마모 족이며 그 외의 다른 사람들은 모두 열등한 존재이다.

—<보기>—  
 가. 문화는 타고나는 것이 아니라 습득되는 것이다.  
 나. 문화는 정적인 상태로 머물지 않고 발전하거나 퇴보한다.  
 다. 문화는 사회 구성원 간 원활한 상호 작용의 토대가 된다.  
 리. 문화는 새로운 문화 요소가 추가되어 점점 더 풍부해진다.

- ① 가, 나    ② 가, 다    ③ 나, 다    ④ 나, 리    ⑤ 다, 리

6. (가), (나)에 나타난 사회 변동의 방향을 바라보는 관점에 대한 설명으로 옳은 것은? [3점]

(가) 인류 문명은 감각적 문화, 관념적 문화, 이상주의적 문화의 세 가지 문화 체계가 번갈아 출현한다. 감각적 문화는 물질주의와 향락주의가 강조되는데, 로마 제국이나 오늘날의 서구 문명이 그 예이다. 관념적 문화는 정신적이고 비물질적인 존재를 지향하는 유형인데, 기독교가 지배하던 중세 유럽 문명이 그 사례이다. 이상주의적 문화는 이들 두 가지 문화가 한데 모여 균형을 유지하면서 공존하는 유형으로, 르네상스 시기의 유럽 문명이 이에 해당한다.

(나) 인류 문명은 신학적, 형이상학적, 실증적 단계를 거쳐 발전하며 각 단계마다 상이한 시대정신을 갖는다. 신학적 단계에서는 초자연적 힘이나 초월적 존재에 의존하여 지적 기준과 사회 구조가 형성된다. 형이상학적 단계에서는 이성에 기초한 추상적이고 논리적인 사고가 지배한다. 실증적 단계에서는 경험적 관찰과 합리성을 토대로 과학이 발전하고 산업화가 진행된다. 모든 문명은 완전성을 지향하는 시대정신을 향해 동일한 변동 과정을 밟는다.

- ① (가)의 관점은 사회의 안정과 조화를 유지하기 위해 사회 각 부분들이 조정되는 과정을 사회 변동으로 본다.
- ② (나)의 관점은 사회 변동이 항상 발전을 의미하지는 않는다고 본다.
- ③ (나)의 관점은(가)의 관점과 달리 서구 사회가 진보된 사회임을 전제한다.
- ④ (가)의 관점은 급격한 사회 변동을, (나)의 관점은 점진적 사회 변동을 설명하기에 용이하다.
- ⑤ (가), (나)의 관점은 모두 사회가 이전보다 복잡하고 분화되는 양상으로 변동한다고 본다.

7. 일탈 행동을 바라보는 (가)~(다)의 이론적 관점에 대한 설명으로 옳은 것은? [3점]

사회 계층과 범죄율 간에 부(-)의 관계가 나타난다는 주장에 대해 다음과 같은 견해들이 제시되고 있다.

(가) 부를 획득하기 위한 합법적 수단은 계층에 따라 차등 분포되어 있다. 하위 계층은 상위 계층에 비해 문화적 목표와 합법적 수단 간 불일치로 인한 긴장의 정도가 더 커서 일탈 행동을 할 가능성이 높다.

(나) 일탈자로 규정되는 과정에서 규범 위반 여부보다 더 중요한 변인은 개인의 사회적 위치에 따른 차별적 반응이다. 즉, 하위 계층에 보다 엄격한 규범이 적용되고, 이들이 일탈자로서의 정체성을 형성하면서 일탈 경력이 강화된다.

(다) 일탈 행동이 하위 계층의 부적응에서 기인하거나 사회의 차별적 반응의 결과라는 주장에는 문제가 있다. 일탈 행동은 반사회적 행동 성향을 지닌 타인들과 지속적으로 대면 접촉한 결과이다. 일탈에 동조하는 가치, 태도, 행위에 노출된 결과, 일탈을 위한 동기 부여와 기술 습득이 이루어진다.

- ① (가)의 관점은 불평등한 사회 구조와 계급 간 갈등을 일탈 행동의 근본 원인이라고 본다.
- ② (나)의 관점은 일탈 행동이 비행 집단과의 교류로 인한 잘못된 사회화에서 비롯된 것이라고 본다.
- ③ (다)의 관점은 사회의 지배적인 규범이 약화되거나 해체될 때 일탈 행동이 증가한다고 본다.
- ④ (나)의 관점은(가)의 관점과 달리 일탈 행동의 원인을 거시적 관점에서 바라본다.
- ⑤ (다)의 관점은(가)의 관점과 달리 일탈 행동을 타인과의 상호 작용의 산물로 본다.

8. 다음 글에 나타난 개인과 사회의 관계를 보는 관점과 부합하는 진술을 <보기>에서 고른 것은?

인간은 결코 혼자서는 행복하고 안녕한 삶을 누릴 수 없는 존재이기에 집단의 일원으로 살아간다. 그런데 개인은 집단에 소속된 순간부터 자신의 행복과 안녕보다 집단의 존속과 유지를 위해 살아야 한다는 압력을 받게 된다. 각 개인의 자유 의지는 집단 규범이 허용한 범위 안에서만 발현된다. 자유 의지 발현에 대한 집단 규범의 허용 범위가 바뀌는 경우는 집단이 불안정한 상태로 접어들거나 집단 내 구조적 모순이 발생할 때이다.

— <보기> —

ㄱ. 개인의 의식과 행위는 사회에 의해 규정된다.  
 ㄴ. 사회의 특성은 개인적 행동이 반영된 결과이다.  
 ㄷ. 사회의 구속력이 개인의 자유 의지보다 우위에 있다.  
 ㄹ. 집단 행동은 개인이 갖고 있는 자유 의지의 총합으로 표출된다.


- ① ㄱ, ㄴ    ② ㄱ, ㄷ    ③ ㄴ, ㄷ    ④ ㄴ, ㄹ    ⑤ ㄷ, ㄹ


9. 밑줄 친 ㉠~㉣에 대한 설명으로 옳은 것은?


많은 사람들이 햄버거는 미국에서 시작되었다고 생각한다. 하지만 일설에 따르면, 햄버거는 아시아의 기마 민족인 ㉠타타르 족으로부터 유래되어 14세기경 오늘날의 독일 지역을 거쳐, 이후 ㉡미국으로 건너가 대중화된 것이라고 한다. 타타르 족은 ㉢말안장 밑에 고기 조각을 넣고 말을 달리면 말안장의 충격으로 고기가 부드럽게 다져진다는 사실을 알게 되었다. 그들은 그렇게 해서 연해진 고기에 각종 양념을 쳐서 먹곤 했다. 이후 미국에서 ㉣빵 사이에 다진 고기를 넣는 요리법이 더해지면서 ㉤타타르 족의 음식과는 다른 형태를 띤 지금의 햄버거가 탄생하여 여러 나라에 보급되었다. 우리나라에는 해방 후 들어온 ㉥미군에 의해 햄버거가 전래했다. 이후 햄버거를 즐겨 먹는 한국인이 늘어나면서 빵 대신 밥을 이용한 ㉦라이스 버거와 같은 새로운 메뉴가 개발되기도 하였다.

- ① ㉠은 직접 전파, ㉣은 간접 전파의 사례이다.
- ② ㉡은 강제적 문화 접변의 사례이다.
- ③ ㉢은 ㉣과 달리 자극 전파의 사례이다.
- ④ ㉤은 문화 동화의 사례이다.
- ⑤ ㉦은 문화 융합의 사례이다.

10. 갑~병의 문화 이해 태도에 대한 옳은 설명을 <보기>에서 고른 것은? [3점]

**갑**  외국에 여행을 갔을 때 그 나라 사람들이 음식을 손으로 집어 먹는 모습을 보고 깜짝 놀랐어. 우리처럼 도구를 사용하여 음식을 먹는 것이 더 문명화된 모습이 아닐까?

**을**  예전에 한국에 처음 방문했을 때 여러 사람이 둘러앉아 자기 입에 넣었던 숟가락으로 찌개를 함께 떠먹는 모습을 보고 무척 당혹스러웠어. 음식은 당연히 각자 개인 그릇에 덜어 먹어야 하는 것 아니야?

**병**  식사 자리에서 대화를 즐기는 나라가 있는 반면, 조용히 식사에만 집중하는 나라도 있잖아. 이렇듯 식사 문화는 나라마다 고유한 특성을 가지고 있어. 이방인이 자기 시선으로 다른 나라의 식사 문화에 대해 우열을 따지는 것은 옳지 않아.

— <보기> —

ㄱ. 갑의 태도는 자국의 문화 정체성을 약화시킬 우려가 있다.  
 ㄴ. 을의 태도는 문화를 평가가 아닌 이해의 대상으로 본다.  
 ㄷ. 병의 태도는 문화를 사회적 상황과 연결시켜 파악한다.  
 ㄹ. 갑과 을의 태도는 병의 태도와 달리 문화의 다양성을 저해할 수 있다.

- ① ㄱ, ㄴ    ② ㄱ, ㄷ    ③ ㄴ, ㄷ    ④ ㄴ, ㄹ    ⑤ ㄷ, ㄹ

11. 우리나라 사회 보장 제도 A~C의 일반적 특징에 대한 설명으로 옳은 것은? (단, A~C는 각각 공공 부조, 사회 보험, 사회 서비스 중 하나이다.) [3점]

68세인 갑, 을, 병은 각각 자신에게 맞는 사회 보장 제도에 대한 정보를 관련 기관 홈페이지에서 찾아보았다.

- 갑이 찾은 제도는 A의 하나로서, 일상생활을 혼자서 수행하기 어려운 사람 등을 지원하여 건강 증진 및 생활 안정을 도모한다. 재원은 가입자가 납부하는 보험료, 국가와 지방 자치 단체 부담금으로 조달한다.
- 을이 찾은 제도는 B의 하나로서, 생활이 어려운 사람에게 안정적인 소득 기반을 제공하여 생활 안정을 지원한다. 소득 인정액이 보건복지부 장관이 매년 결정·고시하는 선정 기준액 이하인 65세 이상의 자에 한하여 차등 지급한다.
- 병이 찾은 제도는 C의 하나로서, 식사, 세면, 옷 갈아입기, 구강 관리, 화장실 이용, 외출, 목욕 등의 신변 활동을 지원한다. 또한 취사, 생활 필수품 구매, 청소, 세탁 등 일상생활을 지원한다.

- ① A는 대상자의 수혜 정도에 따른 비용 부담을 원칙으로 한다.
- ② B는 사후 처방적 성격이 강하다.
- ③ C는 강제 가입을 원칙으로 한다.
- ④ B는 A, C와 달리 소득 재분배 효과가 있다.
- ⑤ B, C는 A보다 수혜 대상자의 범위가 넓다.

12. <자료 1>의 밑줄 친 ㉠~㉣을 <자료 2>의 (가)~(다)로 옳게 분류한 것은? [3점]

<자료 1>  
A국에서 ㉠대학을 다니던 갑은 난민 신청 절차를 거쳐 B국으로 입국하였다. B국에서 갑은 경제 및 의료 지원 프로그램을 운영하는 ㉡ '○○ 난민 지원 센터'로부터 정착을 위한 서비스를 제공받고 있다. ㉢ 신문에서 A국과 관련된 기사를 볼 때마다 갑은 고향에 두고 온 ㉣ 가족이 떠올라 잠을 이루지 못한다. 하지만 갑은 낯선 B국에 정착하기 위하여 노력하고 있다.

<자료 2>

질문	사회화 기관	(가)	(나)	(다)
사회화를 목적으로 설립되었는가?		예	아니요	아니요
기초적 수준의 사회화를 담당하는가?		아니요	아니요	예

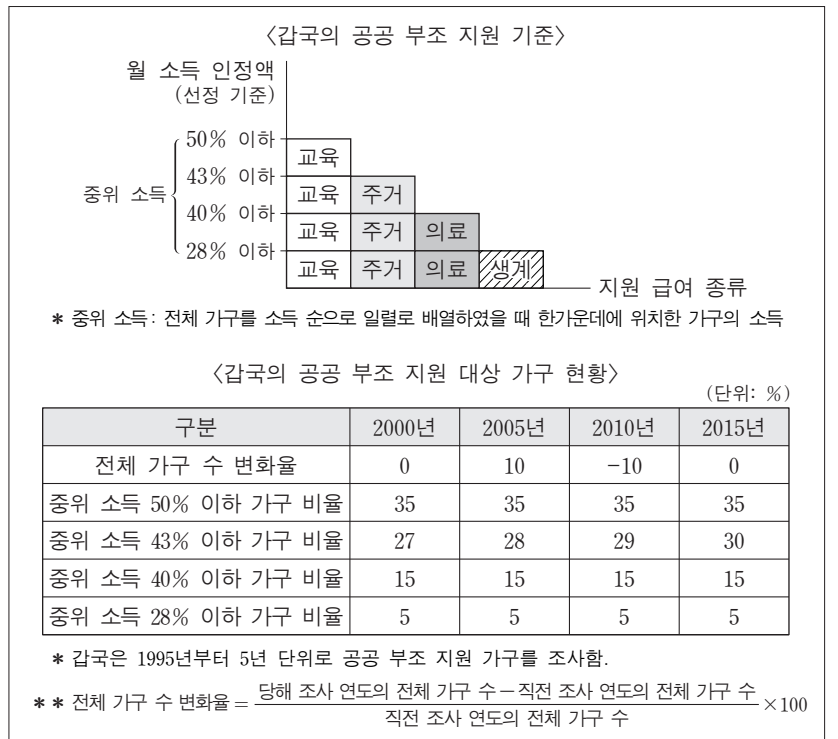
- |   |      |      |      |
|---|------|------|------|
|   | (가)  | (나)  | (다)  |
| ① | ㉠    | ㉡    | ㉢, ㉣ |
| ② | ㉠    | ㉡, ㉢ | ㉣    |
| ③ | ㉡    | ㉢    | ㉠, ㉣ |
| ④ | ㉢    | ㉡, ㉣ | ㉠    |
| ⑤ | ㉠, ㉡ | ㉢    | ㉣    |

13. 표는 대중 매체 A~C의 일반적인 특징을 구분한 것이다. 이에 대한 설명으로 옳은 것은? (단, A~C는 각각 음성 매체, 영상 매체, 뉴미디어 중 하나이다.)

구분	정보 생산자와 정보 소비자 간의 경계가 뚜렷한가?	시청각 정보를 제공하는가?	(가)
A	아니요	예	예
B	예	예	아니요
C	예	아니요	아니요

- ① A는 C보다 정보 확산의 시·공간적 제약이 크다.
- ② B는 C보다 청각 정보에 대한 의존도가 높다.
- ③ C는 A와 달리 양방향 정보 전달이 가능하다.
- ④ 대중 매체는 C, A, B 순으로 등장하였다.
- ⑤ (가)에는 '정보 수용자에 의한 정보 수정 및 재가공이 용이한가?'가 들어갈 수 있다.

14. 다음 자료에 대한 옳은 분석만을 <보기>에서 있는 대로 고른 것은? [3점]

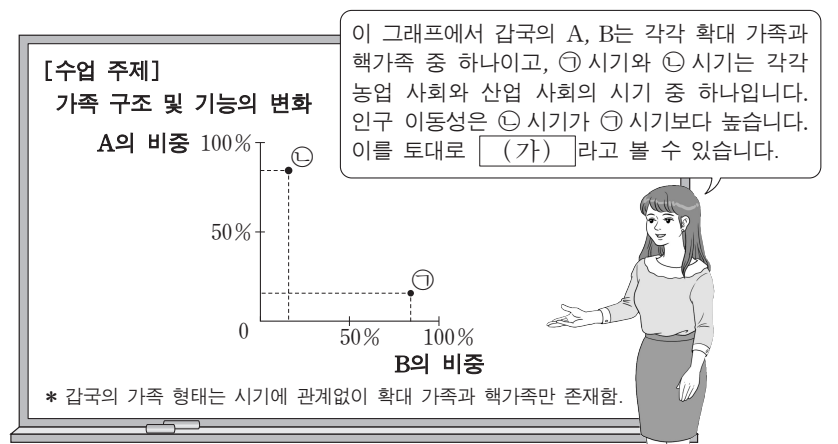


<보기>

- ㄱ. 전체 가구 중 교육 급여 한 가지만 지원받는 가구 비율은 2010년과 2015년이 같다.
- ㄴ. 교육, 주거 급여 두 가지만 지원받는 가구 수는 2000년이 2015년보다 적다.
- ㄷ. 전체 가구 중 교육, 주거, 의료, 생계 급여 모두를 지원받는 가구 비율은 2000년이 2010년보다 낮다.
- ㄹ. 2005년 교육, 주거, 의료 급여 세 가지만 지원받는 가구 수는 2015년 교육, 주거, 의료, 생계 급여 모두를 지원받는 가구 수의 2배 이상이다.

- ① ㄱ, ㄷ
- ② ㄴ, ㄷ
- ③ ㄴ, ㄹ
- ④ ㄱ, ㄴ, ㄹ
- ⑤ ㄱ, ㄷ, ㄹ

15. 다음 자료의 (가)에 들어갈 수 있는 옳은 진술을 <보기>에서 고른 것은?



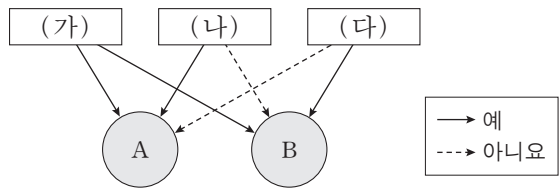
<보기>

- ㄱ. A는 B에 비해 구성원 간 수평적 의사 결정 구조가 일반적이다.
- ㄴ. ㉠ 시기보다 ㉡ 시기가 가족의 노인 부양 기능이 약하다.
- ㄷ. ㉠ 시기보다 ㉡ 시기가 가족의 종교적 의례 기능이 강하다.
- ㄹ. ㉡ 시기보다 ㉠ 시기가 가족 단위의 경제적 생산 기능이 약하다.

- ① ㄱ, ㄴ
- ② ㄱ, ㄷ
- ③ ㄴ, ㄷ
- ④ ㄴ, ㄹ
- ⑤ ㄷ, ㄹ

16. 그림은 질문 (가)~(다)에 따라 사회 불평등 현상을 설명하는 이론 A, B를 구분한 것이다. 이에 대한 옳은 설명을 <보기>에서 고른 것은? (단, A, B는 각각 계급 이론, 계층 이론 중 하나이다.)

[3점]



<보기>

- ㄱ. (가)에는 '사회 불평등 현상의 원인으로 경제적 요인을 고려하는가?'가 들어갈 수 있다.
- ㄴ. A가 계층 이론이라면, (나)에는 '사회 불평등 현상을 불연속적인 위계화로 파악하는가?'가 들어갈 수 있다.
- ㄷ. A가 계급 이론이라면, (다)에는 '사회 불평등 현상의 발생 원인을 다원론적 관점으로 보는가?'가 들어갈 수 있다.
- ㄹ. B가 계층 이론이라면, (나)에는 '지위 불일치 현상을 설명하기에 적합한가?'가 들어갈 수 있다.

- ① ㄱ, ㄴ    ② ㄱ, ㄷ    ③ ㄴ, ㄷ    ④ ㄴ, ㄹ    ⑤ ㄷ, ㄹ

17. A~C 문화에 대한 옳은 설명을 <보기>에서 고른 것은? (단, A~C 문화는 각각 전체 문화, 하위문화, 반문화 중 하나이다.)

[3점]

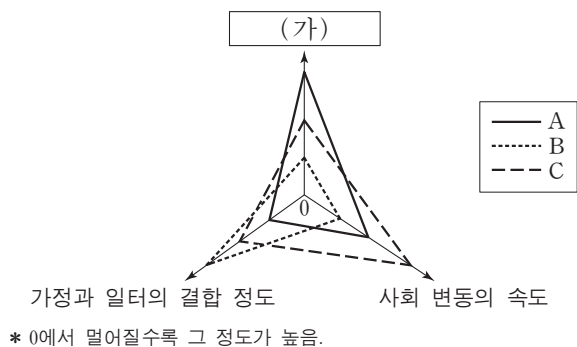
중세 말기 유럽에서는 새롭게 부를 축적한 부르주아지가 등장하였다. 이들의 문화는 당시 엄격한 신분제에 기초한 봉건제적 문화와는 차별화된 성격을 띠고 있어 처음에는 A 문화였다. 그러나 부르주아지가 근대 시민 혁명을 통해 구체제를 전복하려 나선 시기에, 이들의 문화는 B 문화로서의 성격을 보였다. 그리고 마침내 구체제가 무너지고 새로운 근대 사회가 도래한 이후 이들의 문화는 점차 봉건제적 문화를 대체하며 C 문화로 성장하였다.

<보기>

- ㄱ. A 문화는 C 문화와 대립하여 사회 안정을 저해한다.
- ㄴ. C 문화는 사회 변동에 따라 A 문화가 되기도 한다.
- ㄷ. 한 사회에서 B 문화는 C 문화와 공존이 불가능하다.
- ㄹ. 한 사회에서 C 문화는 A 문화의 총합으로 설명할 수 없다.

- ① ㄱ, ㄴ    ② ㄱ, ㄷ    ③ ㄴ, ㄷ    ④ ㄴ, ㄹ    ⑤ ㄷ, ㄹ

18. A~C의 일반적 특징에 대한 설명으로 옳은 것은? (단, A~C는 각각 농업 사회, 산업 사회, 정보 사회 중 하나이다.)



- ① A는 B보다 구성원 간 익명성 정도가 높다.
- ② A는 C보다 다품종 소량 생산의 비중이 크다.
- ③ B는 C보다 지식 산업을 통한 부가 가치 창출이 유리하다.
- ④ C는 B보다 직업의 동질성이 강하다.
- ⑤ (가)에는 '비대면 접촉의 정도'가 들어갈 수 있다.

19. 다음 연구에 대한 옳은 설명만을 <보기>에서 있는 대로 고른 것은?

연구자 갑은 주변에 방관자들이 있으면, 곤경에 처한 사람이 낮은 사람으로부터 도움을 받을 가능성이 줄어든다는 '방관자 효과'를 검증하기 위한 연구에 착수하였다. 우선 갑은 접이식 커튼을 쳐, 보이지는 않지만 소리를 들을 수 있는 공간을 만들었다. 그리고 그곳에서 연구 대상자들에게 의자에 오르다 떨어져 도움을 청하는 노인의 녹음된 비명을 듣게 하였다. 연구 대상자들은 두 집단으로 구분되었는데, 한 연구 조건에서는 ㉠ 연구 대상자만 있게 했고, 다른 연구 조건에서는 의도적으로 노인의 비명에 반응하지 않도록 연구자와 공모한 방관자들을 ㉡ 연구 대상자와 함께 있게 했다. ㉢ 방관자들의 존재 여부에 따른 반응을 비교한 결과, '나 홀로 조건'에서는 연구 대상자의 70%가 도움을 주려 한 반면, '방관자 조건'에서는 20%만이 도움을 주려 하였다.

<보기>

- ㄱ. ㉠은 실험 집단, ㉡은 통제 집단에 해당한다.
- ㄴ. ㉢은 독립 변인에 해당한다.
- ㄷ. 실제성이 높은 현장 자료를 얻기 용이한 자료 수집 방법을 사용하였다.
- ㄹ. 연구자가 설정한 상황을 바탕으로 연구 대상자를 관찰하는 자료 수집 방법을 사용하였다.

- ① ㄱ, ㄷ    ② ㄴ, ㄷ    ③ ㄴ, ㄹ  
 ④ ㄱ, ㄴ, ㄹ    ⑤ ㄱ, ㄷ, ㄹ

20. 다음 자료는 갑국의 세대 간 계층 이동 현황을 나타낸 것이다. 이에 대한 분석으로 옳은 것은?

<세대별 계층 간 상대적 비율>

구분	부모 세대	자녀 세대
상층+하층 전체 계층	$\frac{1}{2}$	$\frac{4}{5}$
상층 중층+하층	$\frac{1}{4}$	$\frac{1}{3}$

<자녀 세대 계층 대비 부모와 자녀 계층 일치율의 상대적 비율>

상층	중층	하층
$\frac{1}{5}$	$\frac{1}{2}$	$\frac{4}{11}$

\* 모든 부모의 자녀는 1명이고, 갑국의 계층은 상층, 중층, 하층으로만 구분함.  
 \*\* 상층 부모를 둔 하층 자녀 인구와 하층 부모를 둔 중층 자녀 인구의 비는 2:1임.

- ① 세대 간 계층 일치 비율이 세대 간 계층 이동 비율보다 크다.
- ② 부모 세대 계층 대비 부모와 자녀의 계층 일치 비율은 중층이 상층보다 크다.
- ③ 부모 세대 계층 대비 부모와 자녀의 계층 불일치 비율은 하층이 상층보다 크다.
- ④ 부모 세대 하층에서 자녀 세대 상층으로 이동한 인구와 자녀 세대 중층으로 이동한 인구는 같다.
- ⑤ 갑국에서 부모 세대의 계층 구조는 다이아몬드형이고, 자녀 세대의 계층 구조는 피라미드형이다.

\* 확인 사항

○ 답안지의 해당란에 필요한 내용을 정확히 기입(표기)했는지 확인 하시오.