

제 4 교시

사회탐구 영역(사회·문화)

성명

수험번호 3

1

1. 밑줄 친 ㉠~㉣과 같은 현상의 일반적인 특징에 대한 설명으로 옳은 것은?

미세 먼지는 주로 ㉠ 자동차, 발전소 등에서 화석 연료를 사용할 때 발생한다. 미세 먼지는 코와 기도를 통해 폐에 도달할 수 있으며, 그 중 ㉡ 크기가 작은 것은 폐포를 통과해서 혈액에 유입되기도 한다. ㉢ 미세 먼지는 호흡기 및 심혈관계 질환을 유발할 수 있는데, 미세 먼지로 인한 피해는 상대적으로 면역력이 약한 아이와 노인에게서 더 크게 나타난다. 이러한 피해를 줄이기 위해 우리나라에서는 ㉣ 대기 중의 미세 먼지 농도를 예측하여 발표하고 있다.

- ① ㉠과 같은 현상은 ㉡과 같은 현상과 달리 불가치적이다.
- ② ㉠과 같은 현상은 ㉢과 같은 현상과 달리 인과 관계가 분명하다.
- ③ ㉢과 같은 현상은 ㉣과 같은 현상과 달리 존재 범칙의 지배를 받는다.
- ④ ㉠, ㉡과 같은 현상은 ㉢, ㉣과 같은 현상과 달리 확률의 원리가 적용된다.
- ⑤ ㉡, ㉢과 같은 현상은 ㉠, ㉣과 같은 현상과 달리 경험적 자료에 의해 연구할 수 있다.

2. 사회 불평등 현상을 바라보는 갑, 을의 관점에 대한 옳은 설명을 <보기>에서 고른 것은? [3점]

갑: 공사장에서 한 명은 전문 기술이 필요한 장비를 조종하고 다른 한 명은 앞쪽에서 깃발로 안내를 한다고 가정해 봅시다. 이 경우 같은 시간을 일했다고 해서 두 사람의 보수가 동일한 것은 옳지 않습니다. 보수가 같다면 누가 어려운 장비 조종 기술을 배우려 하겠습니까?  
 을: 장비를 조종하는 것도 중요하지만, 깃발로 안내하는 역할도 중요합니다. 안내를 잘못하면 심각한 안전사고가 발생할 수도 있기 때문입니다. 따라서 일의 중요도에 대한 현재의 평가 기준은 타당하지 않으며, 이를 옹호하는 것은 기득권층의 자기 합리화일 뿐입니다.

< 보 기 >

- ㄱ. 갑은 사회적 희소가치의 배분에 대해 사회 구성원들 간에 합의된 기준이 있다고 본다.
- ㄴ. 을은 사회 불평등이 사회가 최적으로 기능하기 위해 필요하다고 본다.
- ㄷ. 갑은 을과 달리 차등적 보상이 개인의 성취동기를 자극한다고 본다.
- ㄹ. 을은 갑과 달리 사회 불평등이 사회의 기능 분화에 따른 합리적 결과라고 본다.

- ① ㄱ, ㄴ    ② ㄱ, ㄷ    ③ ㄴ, ㄷ    ④ ㄴ, ㄹ    ⑤ ㄷ, ㄹ

3. 다음 글에 나타난 일탈 이론에 대한 설명으로 옳은 것은?

갑국에서는 물질적으로 풍요로운 삶이 좋은 삶이며, 구매 행위는 삶의 가치를 높이는 행위이다. 그래서 갑국 국민들 모두 부를 추구하지만, 부를 얻을 수 있는 제도적 기회가 모두에게 충분히 주어지는 것은 아니다. 이러한 기회의 결핍 상태가 일탈 행동의 발생 가능성을 높인다.

- ① 차별적인 제재가 일탈 행동의 원인이라고 본다.
- ② 일탈자가 되어 가는 내면적 과정에 초점을 둔다.
- ③ 일탈 행동을 규정하는 객관적 기준이 없다고 본다.
- ④ 목표와 수단의 괴리에서 일탈 행동의 원인을 찾는다.
- ⑤ 일탈 행동은 특정 집단과의 교류를 통해 학습된다고 본다.

4. 자료 수집 방법 A~C의 일반적인 특징에 대한 설명으로 옳은 것은? (단, A~C는 각각 면접법, 문헌 연구법, 질문지법 중 하나이다.) [3점]

연구 주제	상담 사례에 나타난 시대별 청소년의 고민 유형 변화	교도소 출소자가 사회 적응 과정에서 겪는 어려움	직장인의 직무 적합성이 직무 만족도에 미치는 영향
자료 수집 과정	A를 활용하여 시대별 청소년들의 고민 유형을 파악하고자 청소년 기관의 상담 사례집을 조사함.	B를 활용하여 교도소 출소자들이 사회에서 겪었던 어려움을 파악하고자 비구조화된 질문으로 면담을 함.	C를 활용하여 직무 적합성과 직무 만족도를 측정하고자 미리 제작한 문항에 직장인들이 직접 응답하게 함.

- ① A는 C와 달리 1차 자료를 수집하는 데 사용된다.
- ② B는 C에 비해 변수 간의 관계를 파악하는 데 유리하다.
- ③ A는 B, C에 비해 시·공간적 제약을 적게 받는다.
- ④ B는 A, C에 비해 자료 수집 상황에 대한 통제 수준이 높다.
- ⑤ C는 A, B와 달리 언어적 상호 작용이 필수적이다.

5. 밑줄 친 ㉠~㉣에 대한 설명으로 옳은 것은?

㉠ 스마트폰 사용이 보편화되면서 스마트폰에 열중한 채 걷는 모습이 좀비 같다고 하여 이름 붙여진 ㉡ ‘스몸비족’이 늘어나고 있다. 스몸비족은 보행 중 스마트폰에 열중한 나머지 다른 사람과 부딪치거나 교통사고를 유발하여 ㉢ 사회 문제가 되고 있다. 이로 인해 ㉣ 보행 중 스마트폰 사용에 대한 규제와 같은 ㉤ 대책의 필요성이 제기되고 있다.

- ① ㉠은 발견으로 인한 문화 변동에 해당한다.
- ② ㉡의 문화는 지배 문화에 대항하는 하위문화에 해당한다.
- ③ ㉢은 물질문화와 비물질문화 간의 부조화에서 비롯된 현상이다.
- ④ ㉣은 비물질문화 요소를 통해 물질문화의 변동을 이끌어 내려는 조치이다.
- ⑤ ㉤은 세대 간 문화 차이로 인한 갈등의 해소를 목표로 한다.

6. 사회 변동의 방향을 바라보는 갑, 을의 관점에 대한 옳은 설명을 <보기>에서 고른 것은?

사회 변동은 사회 구조가 단순하고 미분화된 사회에서 복잡하고 분화된 사회로 변화해 나가는 과정입니다.



갑

사회 변동은 사회의 문명이 생성, 성장, 쇠퇴, 소멸하는 일련의 단계를 주기적으로 반복하는 과정입니다.



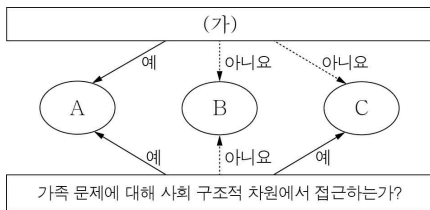
을

< 보기 >

- ㄱ. 갑의 관점은 현대 사회가 전통 사회보다 우월하다고 본다.
- ㄴ. 을의 관점은 대립과 갈등을 사회 변동의 원동력으로 본다.
- ㄷ. 갑의 관점은 을의 관점과 달리 서구 중심적 사고라는 비판을 받을 수 있다.
- ㄹ. 을의 관점은 갑의 관점과 달리 사회 변동을 미시적 관점에서 보고 있다.

- ① ㄱ, ㄴ    ② ㄱ, ㄷ    ③ ㄴ, ㄷ    ④ ㄴ, ㄹ    ⑤ ㄷ, ㄹ

7. 그림은 가족 문제를 바라보는 관점 A ~ C를 분류한 것이다. 이에 대한 설명으로 옳은 것은? (단, A ~ C는 각각 기능론, 갈등론, 상징적 상호 작용론 중 하나이다.) [3점]



- ① B는 A, C와 달리 가족 문제의 해결을 위해 가족 구성원 간의 상호 의존적인 역할 수행을 강조한다.
- ② A가 갈등론이라면, (가)에는 '가족 문제를 사회 병리적 현상으로 보는가?'가 적절하다.
- ③ C가 기능론이라면, (가)에는 '가족 구성원 간의 갈등을 필연적인 현상으로 이해하는가?'가 적절하다.
- ④ (가)가 '가족 구성원 간의 불평등한 권력 관계를 가족 문제의 원인이라고 보는가?'라면, A는 가족 문제가 가족 구성원 간의 상호 작용 양상에 따라 각기 다르게 나타난다고 본다.
- ⑤ (가)가 '가족 문제의 원인을 가족 구성원 간의 유대 약화로 보는가?'라면, C는 사회적으로 합의된 가족 규범과 가치에 대한 교육을 가족 문제의 해결 방안으로 본다.

8. 밑줄 친 ㉠ ~ ㉣에 대한 설명으로 옳지 않은 것은? [3점]

장발장은 ㉠ 조카를 위해 ㉡ 빵을 훔친 죄로 ㉢ 교도소에 들어갔다. 그는 출소한 이후 사람들로부터 냉대를 받는다. 신부의 도움으로 갱생의 길을 걷던 그는 불미스런 일에 휘말려 ㉣ 그를 체포했던 자베르 경감에게 다시 쫓기는 신세가 되고 만다. 신분을 숨긴 채 살면서 사업에 성공하고, 작은 도시의 ㉤ 시장까지 지내게 된다. 시장으로서 ㉥ 사람들에게 존경을 받던 그는 다른 사람이 자기 대신 누명을 쓰게 되자 죄책감에 ㉦ 고민하다 결국 자신이 장발장임을 밝힌다.

- ① ㉡은 2차적 사회화 기관이다.
- ② ㉢은 역할 갈등에 해당한다.
- ③ ㉣은 ㉠과 달리 성취 지위이다.
- ④ ㉤은 ㉤으로서의 역할 행동에 대한 보상이다.
- ⑤ ㉥, ㉦ 모두 장발장의 역할 행동에 해당한다.

9. 다음 연구에 대한 옳은 설명을 <보기>에서 고른 것은? [3점]

갑은 ○○고등학교 1학년 학생들 중 ㉠ 자발적으로 연구 참여에 동의한 학생 16명을 모집하여, 이를 8명씩 두 개의 집단으로 분류하였다. 먼저 두 집단의 문제 해결 능력을 파악하기 위해 ㉡ 원인 분석 능력 지수, 대안 개발 능력 지수 등을 측정하는 검사를 실시하였다. 이후 A 집단에는 소논문 쓰기 프로그램을 실시하였고, B 집단에는 아무런 처치를 하지 않았다. A 집단에 대한 소논문 쓰기 프로그램이 끝난 후, 같은 검사를 다시 실시한 결과 B 집단에 비해 A 집단의 점수가 유의미하게 높게 나타나 ㉢ 가설이 수용되었다.

< 보기 >

- ㄱ. A 집단은 실험 집단, B 집단은 통제 집단이다.
- ㄴ. ㉠은 독립 변수 외의 변수를 통제하기 위한 작업이다.
- ㄷ. ㉡은 종속 변수를 조작적으로 정의한 것이다.
- ㄹ. ㉢은 '고등학교의 문제 해결 능력이 우수할수록 소논문 쓰기 프로그램 점수가 높을 것이다.'이다.

- ① ㄱ, ㄴ    ② ㄱ, ㄷ    ③ ㄴ, ㄷ    ④ ㄴ, ㄹ    ⑤ ㄷ, ㄹ

10. 개인과 사회의 관계를 바라보는 다음 글의 관점에 부합하는 진술을 <보기>에서 고른 것은?

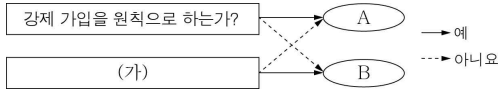
숲 속 나무들의 특성은 숲의 공간적 특성에 따라 결정된다. 즉 각각의 나무들이 어디에서 어떤 모양으로 자랄 것인가는 숲의 지형, 토양 등에 좌우된다. 이와 마찬가지로 개인도 사회적 공간의 문화적 특성에 따라 삶의 모습이 달라진다.

< 보기 >

- ㄱ. 개인의 속성이 사회의 속성을 결정한다.
- ㄴ. 사회는 개인의 삶을 규제하고 구속한다.
- ㄷ. 사회 규범은 개인들이 옳다고 믿기에 존재한다.
- ㄹ. 개인은 사회와의 관련 속에서만 존재 의미를 지닌다.

- ① ㄱ, ㄴ    ② ㄱ, ㄷ    ③ ㄴ, ㄷ    ④ ㄴ, ㄹ    ⑤ ㄷ, ㄹ

11. 그림은 우리나라 사회 보장 제도 A, B를 분류한 것이다. 이에 대한 옳은 설명을 <보기>에서 고른 것은? (단, A, B는 각각 공공 부조, 사회 보험 중 하나이다.)



< 보 기 >  
 가. A는 B와 달리 상호 부조의 원리를 바탕으로 한다.  
 나. B는 A에 비해 소득을 재분배하는 효과가 더 크다.  
 다. A, B 모두 비금전적 지원을 원칙으로 한다.  
 리. (가)에는 '국민 연금이 해당되는가?'가 들어갈 수 있다.

- ① 가, 나    ② 가, 다    ③ 나, 다    ④ 나, 리    ⑤ 다, 리

12. 다음은 문화 이해 태도 A~C를 설명하기 위해 교사가 제시한 자료이다. A~C에 대한 설명으로 옳은 것은? [3점]

구분	필자의 문화 이해 태도가 드러난 자료
A	갑국의 암소 숭배 문화를 미개하게 보는 것은 옳지 않다. 그 문화도 갑국 사람들이 주어진 환경에 적응하면서 만들어낸 나름의 의미를 지닌 생활 방식이기 때문이다.
B	일부 우리나라 사람들은 시대에 뒤떨어진 전통문화를 고수하려는 경향이 있다. 이는 을국의 선진 문화를 받아들일 수 있는 기회를 차단하므로 바람직하지 않다.
C	우리나라 사람들은 밥그릇을 밥상에 놓고 조용히 식사를 한다. 그런데 병국 사람들은 밥그릇을 들고 심지어 소리까지 내며 교양 없게 식사를 한다.

- ① A는 B에 비해 타문화 수용에 적극적이다.  
 ② B는 A에 비해 타문화의 정체성 보존에 유리하다.  
 ③ B는 C와 달리 국수주의를 초래할 우려가 있다.  
 ④ C는 A와 달리 문화 다양성 유지에 기여한다.  
 ⑤ B, C는 A와 달리 문화 간 우열이 존재한다고 본다.

13. 다음 사례에 나타난 연구 윤리상의 문제점에 대한 적절한 진술만을 <보기>에서 있는 대로 고른 것은?

시민 단체의 의뢰를 받아 다문화 가정 학생의 학교생활에 대한 연구에 착수한 갑은 해당 학생의 담임 교사에게만 허락을 구한 후 학생과 면담을 하였다. 면담 과정에서 갑은 신뢰 형성을 위해 학생의 이야기에 공감하는 태도를 유지하였다. 연구가 끝난 후 해당 학교가 다문화 교육 계획의 수립을 위해 자료를 요청하자 갑은 면담 내용을 학교에 건네주었다.

< 보 기 >  
 가. 연구 대상자로부터 특정한 응답을 유도하였다.  
 나. 연구 대상자의 자발적인 동의를 구하지 않았다.  
 다. 연구 대상자의 사생활이 노출될 위험을 초래하였다.  
 리. 연구 이외의 목적에 사용되도록 자료를 제공하였다.

- ① 가, 다    ② 가, 리    ③ 나, 다  
 ④ 가, 나, 리    ⑤ 나, 다, 리

14. 다음 두 사례에서 공통적으로 부각되는 문화의 속성에 대한 옳은 진술만을 <보기>에서 있는 대로 고른 것은? [3점]

○ 열대 지방의 어느 부족은 덥고 습한 기후 탓에 몸의 일부만 가리는 옷을 입는다. 그들은 드러난 상체에 문신을 즐겨 하는데, 문신의 형태는 신분을 나타내는 수단이 된다.  
 ○ 유럽에서 한때 후추는 부유층의 전유물이었다. 그러나 항해술이 발달하여 후추가 아시아로부터 대량으로 유입되면서, 후추를 사용한 새로운 조리법이 개발되었고 후추는 유럽인들 대다수가 즐겨 사용하는 향신료가 되었다.

< 보 기 >  
 가. 문화를 구성하는 요소들은 유기적으로 연관된다.  
 나. 문화는 고정된 것이 아니라 지속적으로 변화한다.  
 다. 문화는 구성원 간의 사고와 행동에 동질성을 갖게 한다.  
 리. 문화는 세대를 거치며 보다 풍부한 요소를 갖추게 된다.

- ① 가, 다    ② 가, 리    ③ 나, 리  
 ④ 가, 나, 다    ⑤ 나, 다, 리

15. 다음 수행 평가 과제를 적절하게 수행한 학생의 답안으로 옳은 것은? [3점]

※ 다음은 갑국 자녀 세대의 계층 구성 및 세대 간 이동 비율을 그림으로 나타내기 위해 필요한 조건이다. 이 조건을 모두 충족하는 그림을 답안지에 그려 보시오.

- 1) 자녀 세대의 계층 구조는 다이아몬드형 계층 구조이다.
- 2) 자녀 세대 중 부모의 계층을 세습한 자녀의 비율은 50% 미만이다.
- 3) 자녀 세대에서 세대 간 상승 이동보다 하강 이동이 더 많이 발생하였다.
- 4) 부모의 계층을 세습한 자녀의 비율은 자녀 세대의 계층 중에서 하층이 가장 높다.

<답안지>

갑국 자녀 세대의 계층 구성 및 세대 간 이동 비율

A	B	C

- 부모에 비해 계층이 높은 자녀  
 ○ 부모의 계층을 세습한 자녀  
 ● 부모에 비해 계층이 낮은 자녀  
 (단, 동그라미 1개는 각각 자녀 세대 인구의 5%에 해당함.)

\* A~C는 자녀 세대의 계층으로서 각각 상층, 중층, 하층 중 하나임.  
 \*\* A는 ○가, C는 ●가 들어갈 수 없는 계층임.

- ① 

A	B	C
○ ●●	○○○○○ ○○○○○ ●●●●●	○○○ ○○○

    ② 

A	B	C
○○○ ●●	○○○○○ ○○○○○ ●●●●●	○○○ ○
- ③ 

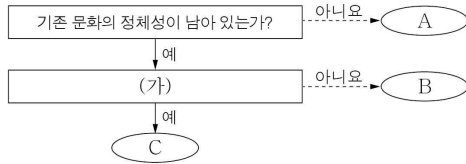
A	B	C
○○○ ●●	○○○○○ ○○○○○ ●●●●●	○○○ ○○○

    ④ 

A	B	C
○○○ ●●	○○○○○ ○○○○○ ●●●●●	○○○ ○○○
- ⑤ 

A	B	C
○○○○○ ●●●●●	○○○ ○○○ ●●	○○○○○ ○○○

16. 그림은 문화 접변의 결과를 A~C로 분류한 것이다. 이에 대한 설명으로 옳은 것은? (단, A~C는 각각 문화 공존, 문화 동화, 문화 융합 중 하나이다.) [3점]



- ① ○○국에서 고유 언어와 외래 언어를 공용어로 사용하는 것은 A의 사례이다.
- ② C가 문화 공존이라면, 다른 나라에서 새로 들어온 종교가 기존의 종교를 대체한 것은 B의 사례이다.
- ③ A는 B, C와 달리 내재적 요인에 의한 문화 변동에 해당한다.
- ④ B가 문화 융합이라면, (가)에는 '서로 다른 문화 요소가 결합하여 새로운 문화가 형성되었는가?'가 적절하다.
- ⑤ (가)에 '외래문화 요소가 변형되지 않은 상태로 정착되었는가?'가 들어가면, C는 문화 공존이다.

17. 사회 계층화 현상을 설명하는 이론 A, B에 대한 옳은 설명을 <보기>에서 고른 것은?

A는 불평등 현상 분석에 유용한 틀을 제공하였으나 생산 관계에만 집중하여 사회를 지나치게 단순화시켜 이해했다는 비판을 받았다. 이러한 비판에 근거하여 B는 A와 달리 불평등 구조를 다원적 차원에서 서열화된 것으로 파악하였다.

< 보 기 >

- ㄱ. A는 지위 불일치 현상을 설명하는 데 적합하다.
- ㄴ. B는 정치적 불평등이 경제적 불평등에 종속된다고 본다.
- ㄷ. A는 B와 달리 사회 불평등 구조를 이분법적으로 파악한다.
- ㄹ. A, B 모두 경제적 요소를 사회 불평등의 요인으로 본다.

- ① ㄱ, ㄴ    ② ㄱ, ㄷ    ③ ㄴ, ㄷ    ④ ㄴ, ㄹ    ⑤ ㄷ, ㄹ

18. 대중 매체 A~C의 일반적인 특징에 대한 질문에 모두 옳게 응답한 학생은? (단, A~C는 각각 서적, TV, 인터넷 중 하나이다.)

- A는 B, C보다 정보 전달의 양방향성이 높다.
- C는 B와 달리 시청각 정보를 제공한다.

질문	갑	을	병	정	무
A가 B보다 정보 확산의 시·공간적 제약이 큰가?	×	×	○	○	×
B가 A보다 문맹자의 정보 접근성이 높은가?	×	×	×	○	○
C가 B보다 정보 전달의 속도가 빠르나?	○	○	×	×	×
A, B 모두 정보의 비동시적 소비가 가능한가?	○	×	○	×	×

(○: 예, ×: 아니요)

- ① 갑    ② 을    ③ 병    ④ 정    ⑤ 무

19. 다음은 고등학생 갑의 봉사 활동 내용이다. 밑줄 친 ㉠~㉢에 대한 설명으로 옳은 것은?

- ㉠ 가족과 함께 장애인 시설에서 도우미 활동을 함.
- ㉡ 학교 학생회가 주관한 사랑의 김장 담그기 행사에 참가함.
- ㉢ 지역 국악 동호회 회원들과 병원에서 위문 공연을 함.
- ㉣ 시민 단체 회원으로서 기아 퇴치 후원금을 모금함.

- ① ㉠은 구성원들의 선택 의지에 따라 형성된 집단이다.
- ② ㉡은 갑의 준거 집단이다.
- ③ ㉢은 ㉣과 달리 공익을 추구하는 이익 사회이다.
- ④ ㉣은 ㉠과 달리 과업 지향적인 사회 집단이다.
- ⑤ ㉡, ㉢은 ㉣과 달리 비공식 조직이다.

20. 학생 갑~무의 분석에 대한 평가로 옳은 것은? [3점]

<A국 빈곤 인구 구성의 변화>

(단위: %)

구분	20대 미만	20대	30대	40대	50대	60대 이상	계
2014년	10	11	15	14	20	㉠ 30	100
2015년	8	8	12	10	22	㉡ 40	100

\* 2014년에 비해 2015년의 A국 전체 인구는 증가하였고, 2014년과 2015년의 빈곤율은 일치함.

\*\* 빈곤율(%) = (전체 빈곤 인구 / 전체 인구) × 100

<학생들의 분석>

- 갑: 2014년보다 2015년의 전체 빈곤 인구가 더 많습니다.
- 을: 50대 인구 중 빈곤 인구의 비율은 2014년에 비해 2015년이 더 큼니다.
- 병: 50대 빈곤 인구는 40대 빈곤 인구와 달리 2014년보다 2015년에 더 많습니다.
- 정: 2014년과 달리 2015년에는 50대 이상인 빈곤 인구가 전체 빈곤 인구의 과반수를 차지하였습니다.
- 무: ㉠에 해당하는 사람들이 모두 ㉡에 포함되어 있다면, 2015년 전체 빈곤 인구 중 ㉠에 해당하지 않는 60대 이상 빈곤 인구의 비율은 10%입니다.

- ① 빈곤율 수치가 주어지지 않아 전체 빈곤 인구를 알 수 없으므로 갑의 분석은 타당하지 않다.
- ② 전체 인구가 증가하였고 전체 빈곤 인구 중 50대의 빈곤 인구의 비율도 증가하였으므로 을의 분석은 타당하다.
- ③ 40대와 50대 빈곤 인구 모두 어느 해가 더 많은지 알 수 없으므로 병의 분석은 타당하지 않다.
- ④ 전체 빈곤 인구 중 50대 이상 빈곤 인구의 비율은 두 해 모두 50% 이상이므로 정은 분석은 타당하지 않다.
- ⑤ ㉠에 해당하는 빈곤 인구는 2015년 전체 빈곤 인구의 30%보다 작은 비율을 차지하므로 무의 분석은 타당하지 않다.

**※ 확인 사항**

- **답안지의 해당란에 필요한 내용을 정확히 기입(표기)했는지 확인하십시오.**