

제 4 교시

사회탐구 영역(사회·문화)

성명  수험 번호

1. 밑줄 친 ㉠~㉣과 같은 현상의 일반적인 특징에 대한 설명으로 옳은 것은?

엘니뇨 현상이 계속되면서 지구 온도와 ㉠농작물 생산에 영향을 미치고 있다. ㉡이상 기후 현상으로 동남아 지역은 예년에 비해 더위가 심했고, 남미에는 폭우가 내려 세계 식량 가격이 올랐다. 아프리카의 한 지역에서는 ㉢홍수로 인한 급격한 수위 상승으로 수천 채의 가옥이 파손된 반면, 또 다른 지역에서는 혹독한 가뭄으로 인해 수백만 명이 ㉣식량 원조를 애타게 기다리는 상황이다.

- ① ㉠과 같은 현상은 ㉡과 같은 현상과 달리 가치 함축적이다.
- ② ㉢과 같은 현상은 ㉣과 같은 현상과 달리 확률성의 원리가 적용된다.
- ③ ㉢과 같은 현상은 ㉣과 같은 현상과 달리 개연성의 원리가 적용된다.
- ④ ㉣과 같은 현상은 ㉠과 같은 현상과 달리 당위 법칙을 따른다.
- ⑤ ㉠, ㉢과 같은 현상은 ㉡과 같은 현상에 비해 보편성이 강하다.

2. 밑줄 친 ㉠~㉣에 대한 설명으로 옳은 것은? [3점]

최근 아나운서 출신 갑이 언론의 주목을 받고 있다. 갑은 어린 시절부터 꿈꾸어 왔던 아나운서가 되기 위해 ㉠○○방송사에 입사한 후 다양한 프로그램에서 중형무진으로 활동하였다. 이후 갑은 ㉡더 큰 무대로 진출할 것인지, 안정된 직장을 선택할 것인지 고민하다가 ○○방송사를 그만두며 프리랜서를 선언하고 ㉢연기자가 되었다. 이후 비교적 짧은 기간에 여러 편의 드라마에 출연하는 등 ㉣대중의 인기를 얻었으나, 해외에서 어려운 아이들을 돕는 프로그램에 참여한 것을 계기로 △△국의 빈민 지역으로 이주하여 현재 ㉤자원봉사자로 활동하고 있다.

- ① ㉠은 갑의 내집단이자 준거집단이다.
- ② ㉡은 갑이 겪었던 역할 갈등이다.
- ③ ㉢이 되기 위해 갑은 ㉠에서 재사회화를 경험하였다.
- ④ ㉣은 ㉢으로서의 갑의 역할에 대한 보상이다.
- ⑤ ㉤은 갑의 성취 지위이다.

3. 사회 조직의 유형 A~C에 대한 설명으로 옳은 것은?

○ A, B는 각각 과업 달성을 위한 조직이며, 조직의 효율성을 제고하기 위한 운영 원리가 적용된다.  
 ○ A에서는 의사 결정의 권한이 분산되어 있으며, 외부 환경 변화에 대한 유연한 대처와 신속한 의사 결정이 가능하다. B에서는 조직 내 지위가 경력에 따라 서열화되어 있으며, 규약과 절차에 따른 구성원들의 업무 수행을 강조한다.  
 ○ A 또는 B의 구성원들이 조직 내에서 친밀한 인간관계에 바탕을 두고 자발적으로 결성한 것이 C이다.

- ① 기업의 노동조합은 C에 해당한다.
- ② A, B는 공식적 제재를 통해 구성원을 통제한다.
- ③ B는 A에 비해 상향식 의사 결정 방식을 강조한다.
- ④ A, C는 B와 달리 구성원들의 가입과 탈퇴가 자유롭다.
- ⑤ C에서는 A, B와 달리 구성원 간 수단적 만남과 간접적 접촉이 이루어진다.

4. (가)~(다)의 일반적인 특징에 대한 설명으로 옳은 것은? (단, (가)~(다)는 각각 면접법, 질문지법, 참여 관찰법 중 하나이다.)

자료 수집 방법	사례
(가)	청소년 일탈을 연구하기 위해 가족 간 대화 빈도와 일탈 행동을 측정할 수 있는 설문 문항을 개발하여 전국의 중·고등학생 2,000명을 대상으로 조사를 실시하였다.
(나)	초등학생의 음악 활동과 사회성 간의 관계를 연구하기 위해 초등학생 20명과 심층 인터뷰를 하여 오케스트라 활동이 친구 관계에 미치는 영향을 탐구하였다.
(다)	실외 놀이를 통해 나타나는 유아들의 특징을 살펴보고자 4개월간 ○○어린이집에 머물며 유아들의 행동과 대화 내용, 놀이 상황 등 전반적인 상황을 모두 기록하였다.

- ① (가)는 (나)보다 질적 자료 수집에 용이하다.
- ② (나)와 달리 (다)는 연구자의 주관적 가치가 개입될 우려가 있다.
- ③ (다)와 달리(가)는 인위적으로 통제된 상황에서 변수의 효과를 관찰한다.
- ④ (가)에 비해 (나), (다)는 연구 대상에 대해 심층적으로 파악하기 용이하다.
- ⑤ (나)와 달리 (가), (다)는 자료 수집 과정에서 언어를 매개로 한 상호 작용이 필수적이다.

5. (가), (나)에 나타난 사회·문화 현상을 바라보는 관점에 대한 설명으로 옳지 않은 것은? [3점]

(가) 교칙은 학생들에게 지위에 맞는 역할이 무엇인지 강조하고, 보상이나 제재를 가하는 기준으로서의 기능을 수행한다. 교칙은 학교 구성원들이 지켜야 하는 규범으로, 구성원들에게 공통의 정체성을 갖도록 하여 학교라는 작은 사회의 통합을 증진하는 역할을 한다.  
 (나) 교사는 생활 지도 과정에서 나타나는 학생의 반응을 통해 자신의 지도 방식에 대해 평가하고 교사로서 자기 정체성과 행동을 재구성한다. 따라서 생활 지도는 교사와 학생 간의 상호 작용과 그 상황에 대한 의미 부여를 통해 구성되는 개별적 경험으로 이해되어야 한다.

- ① (가)의 관점은 사회가 스스로 균형을 유지하려는 속성을 지닌다고 본다.
- ② (나)의 관점은 개인이 상황에 부여한 의미에 기초하여 사회적 상황에 반응한다고 본다.
- ③ (가)의 관점은 사회가 유기체와 유사한 특성을 지니고 있음을, (나)의 관점은 인간이 의미를 추구하는 존재임을 가정한다.
- ④ (가)의 관점과 달리 (나)의 관점은 사회가 구성 요소 간의 상호 의존적 관계 형성을 통해 질서와 안정을 이룬다고 본다.
- ⑤ (나)의 관점과 달리 (가)의 관점은 사회 구조에 대한 분석을 통해 사회 현상을 이해하고자 한다.

6. A, B 사회의 일반적인 특징에 대한 설명으로 옳은 것은? (단, A, B 사회는 각각 산업 사회와 정보 사회 중 하나이다.) [3점]

A 사회	B 사회
직장인 갑은 출근하지 않고 집에서 컴퓨터로 회사의 업무를 본다. 인터넷을 통해 직장 동료 및 협력 업체와 협의 하며, 팀장 또는 CEO에게 직접 보고를 하는 등 다양한 업무를 처리한다.	직장인 을은 매일 아침 9시부터 오후 6시까지 자동차 제조 공장에서 일을 한다. 출근 후 업무 지시를 받아 하루 종일 컨베이어 벨트에 실려 오는 자동차에 타이어를 장착하는 일을 수행한다.

- ① A 사회는 B 사회에 비해 먼대면 접촉의 비중이 더 높다.
- ② A 사회는 B 사회에 비해 부가 가치의 원천으로 자본과 노동을 지식보다 중시한다.
- ③ B 사회는 A 사회에 비해 관료제 조직의 비중이 더 높다.
- ④ B 사회는 A 사회에 비해 다품종 소량 생산 방식이 확대된다.
- ⑤ A, B 사회 모두에서는 가상공간의 등장으로 인해 소비자과 생산자 간의 공간적 제약이 극복된다.

7. (가), (나)에 나타난 개인과 사회의 관계를 바라보는 관점에 대한 설명으로 옳은 것은?

(가) 대학의 강의는 참여하는 구성원 개인의 특성에 따라 결정된다. 강의의 질은 교수의 능력에 따라 결정되며, 강의에 대한 평가도 학생들의 개인적 반응에 근거하여 이루어진다.

(나) 대학의 강의에는 교수와 학생 간에 권력 구조가 존재하며, 교수가 학생들의 학업 정도에 따라 성적을 부여하는 평가 시스템이 존재한다. 또한 강의실에는 수업 시간 준수와 같이 교수와 학생이 따라야 하는 행동 규칙이 작용한다.

- ① (가)는 사회가 개인으로 환원하여 설명할 수 없는 고유한 성격을 지닌다고 본다.
- ② (나)는 개인의 이익이 곧 사회 전체의 이익이라고 본다.
- ③ (가)는 (나)와 달리 개인에 대한 사회 구조의 영향력을 중시한다.
- ④ (가)는 (나)와 달리 개인은 집단 전체와의 관련 속에서만 존재 의미를 지닌다고 본다.
- ⑤ (나)는 (가)와 달리 개인의 자율성보다 사회 규범의 구속성을 중시한다.

8. 다음 두 사례에서 공통적으로 부각되는 문화의 속성에 대한 옳은 설명을 <보기>에서 고른 것은? [3점]

- ○○지역에서는 추운 기후로 인해 집안에 머무르는 시간이 길며, 목재가 풍부하여 연료 공급이 용이하다. 이로 인하여 이 지역 사람들은 오랫동안 천천히 약한 불로 끓이는 스투와 같은 음식을 즐겨 먹는다.
- 내륙의 분지 지형에 위치한 △△지방에서는 여름에 기온이 매우 높아 음식 부패 방지를 위해 향신료가 많이 들어간 조리법이 사용되고 있으며, 향신료의 원료가 되는 작물의 재배 및 유통이 활성화되어 있다.

—<보기>—

- ㄱ. 문화는 상징을 통해 다음 세대로 전달·계승된다.
- ㄴ. 문화는 고정된 것이 아니라 지속적으로 변화한다.
- ㄷ. 문화는 부분들이 모여 전체로서 하나의 체계를 이룬다.
- ㄹ. 문화는 특정 상황에서 상대방의 행동 방식을 예측하게 한다.

- ① ㄱ, ㄴ    ② ㄱ, ㄷ    ③ ㄴ, ㄷ    ④ ㄴ, ㄹ    ⑤ ㄷ, ㄹ

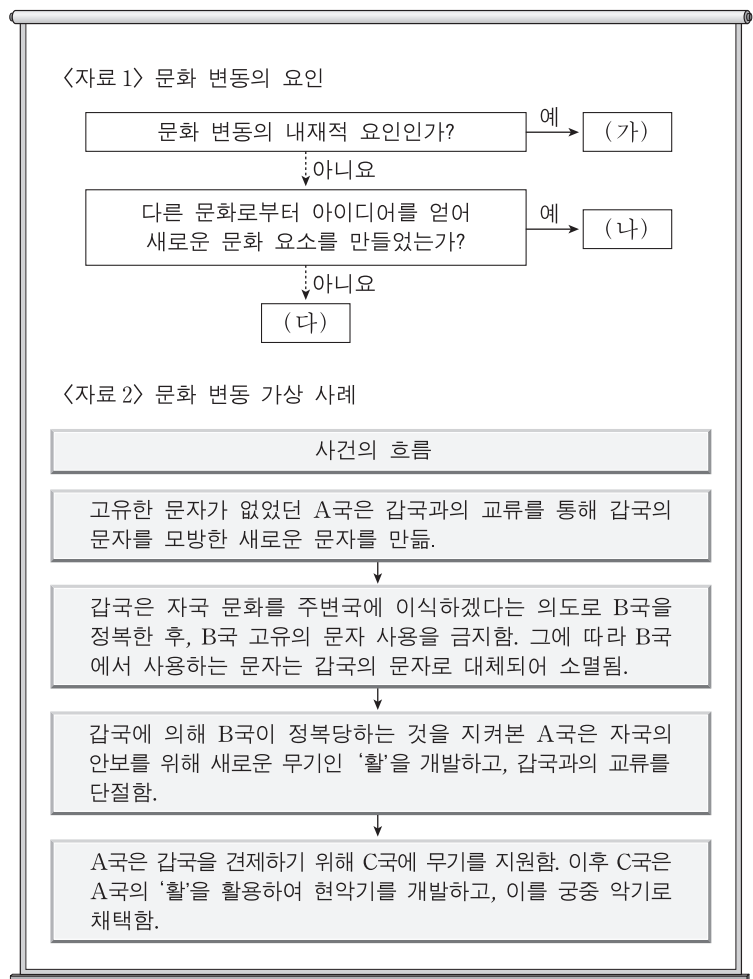
9. 밑줄 친 ㉠~㉤에 대한 설명으로 옳은 것은?

갑은 자동차가 스스로 운전하는 자율 주행차의 설계와 관련된 두 가지 주제를 연구하기 위해, 자발적으로 참여한 1,000명을 500명씩 ㉠A, B 두 집단으로 나누어 ㉡온라인 설문 조사를 실시하였다. 먼저 자율 주행차의 설계 기준에 대한 ㉢사람들의 인식이 상황에 따라서 어떻게 달라지는지 알아보고자 하였다. 이를 위해 A 집단을 대상으로 차량과 보행자의 충돌 상황에서 탑승자와 보행자가 1:1인 경우와 1:100인 경우로 나누어 ㉣1차 조사를 하였다. ㉤보행자보다 탑승자가 보호되어야 한다고 생각하는가에 대해, 전자의 경우 '예'라는 응답이 75%였지만, 후자의 경우에는 20%로 낮아졌다. 다음으로 그러한 설계에 대한 인식이 구매로 연결될지를 알아보기 위해 B 집단을 대상으로 ㉡2차 조사를 실시하였다. 피해를 입는 보행자의 수를 최소화하도록 설계해야 한다는 데에는 70%가 동의했지만, 이런 차를 구매하겠다는 응답은 30%에 불과했다. 이를 통해 갑은 ㉢사람들의 인식과 선택 간의 불일치가 있다는 것을 발견하였고, 이 결과가 ㉣자율 주행차의 보급 시기를 늦추는 데 영향을 미칠 수 있을 것이라고 해석하였다.

- ① ㉠에서 A 집단은 실험 집단, B 집단은 통제 집단이다.
- ② ㉡은 사전 조사, ㉢은 사후 조사이다.
- ③ ㉣은 ㉤을 조작적으로 정의한 것이다.
- ④ ㉤은 모집단에 대해 일반화할 수 있다.
- ⑤ ㉤은 ㉠에서 연역적으로 도출되었다.

10. 다음 자료에 대한 분석으로 옳은 것은? (단, <자료 1>의 (가)~(다)는 각각 발명, 직접 전파, 자극 전파 중 하나이다.)

[3점]



- ① A국에서는 (다)에 의한 문화 융합이 나타났다.
- ② B국에서는 (다)에 의한 문화 동화가 나타났다.
- ③ C국에서는 강제적 문화 접변의 결과로 (나)에 의한 문화 변동이 나타났다.
- ④ C국에서는 A국과 달리 (가)에 의한 문화 변동이 나타났다.
- ⑤ A, C국에서는 (나)로 인한 문화 공존이 나타났다.

11. 표는 일탈 이론 A~C를 질문에 따라 구분한 것이다. 이에 대한 옳은 설명만을 <보기>에서 있는 대로 고른 것은? (단, A~C는 각각 낙인 이론, 아노미 이론, 차별 교제 이론 중 하나이다.) [3점]

이론 \ 질문	(가)	(나)	(다)
A	예	아니오	아니오
B	아니오	아니오	예
C	아니오	예	아니오

— <보기> —

- ㄱ. A가 아노미 이론, B가 차별 교제 이론이라면, “타인들과의 상호 작용이 일탈 발생 과정에 미치는 영향을 중시하는가?”는 (다)에 적절하다.
- ㄴ. B가 낙인 이론, C가 아노미 이론이라면, “일탈자와의 접촉 차단을 일탈에 대한 대책으로 보는가?”는 (가)에 적절하다.
- ㄷ. (가)가 “사회 규범의 통제력 회복을 일탈에 대한 대책으로 보는가?”라면, “일탈의 원인으로 구조적인 요인을 강조하는가?”는 (나)에 적절하다.
- ㄹ. (가)가 “일탈 행동에 대한 부정적 반응을 일탈의 원인으로 보는가?”이고, (다)가 “문화적 목표에 도달할 기회 제공을 일탈에 대한 대책으로 보는가?”라면, C는 차별 교제 이론이다.

- ① ㄱ, ㄷ                      ② ㄴ, ㄷ                      ③ ㄴ, ㄹ
- ④ ㄱ, ㄴ, ㄹ                ⑤ ㄱ, ㄷ, ㄹ

12. A~C 문화의 일반적인 특징에 대한 설명으로 옳은 것은?

한 사회 구성원들이 전반적으로 공유하는 문화를 A 문화라 한다. 반면 사회의 일부 구성원들만 공유하여 다른 구성원들과 구분되는 생활양식을 B 문화라고 한다. B 문화는 이를 공유하는 구성원들의 정체성을 알려 주는 문화로서 그들에게 중요한 삶의 양식이 된다. B 문화 중에는 그 사회의 지배 문화에 저항하거나 대립하는 문화가 있는데, 이를 C 문화라 한다.

- ① A 문화는 B 문화의 총합으로 설명할 수 없다.
- ② B 문화에는 A 문화의 문화 요소가 존재하지 않는다.
- ③ B 문화와 달리 C 문화는 집단 간 갈등을 초래하여 사회 통합을 저해할 수 있다.
- ④ 사회가 다원화될수록 C 문화는 A 문화로 수렴되는 경향을 보인다.
- ⑤ C 문화와 달리 B 문화는 사회 변화에 따라 A 문화가 되기도 한다.

13. 다음은 사회 제도에 관한 글이다. (가)에 들어갈 내용으로 가장 적절한 것은? [3점]

수렵 사회와 농경 사회의 다양한 문화 연구들을 보면 수렵 사회에서는 핵가족이 보편적이지만, 농경 사회에서는 핵가족보다 확대 가족이 많다는 점을 알 수 있다. 따라서 식량 공급 방식과 같은 경제 제도가 가족의 형태를 결정하며, 사회 조직의 분화 정도가 클수록 확대 가족이 보편화된다고 볼 수 있다. 그런데 산업 사회에서는 다시 핵가족이 늘어나고 있다. 이는 가족 단위 노동력의 수요가 점점 줄어들고 개인의 능력이 중요시되며, 사회 이동과 인구 이동률이 높아진 결과에서 기인한다. 그리고 가족은 개인이 노동 시장에 참여할 수 있도록 노동에 대한 가치와 태도에 대해 교육함으로써 산업화에 이바지한다. 따라서 사회 제도는 (가)

- ① 사회 구성원의 사고와 행동을 통제한다.
- ② 사회 구성원의 욕구 충족을 위한 수단으로 형성된다.
- ③ 사회 구성원 간의 행동에 대한 예측 가능성을 높인다.
- ④ 한 번 형성되면 쉽게 바뀌지 않고 안정적으로 유지된다.
- ⑤ 유기적으로 관련을 맺으면서 상호 의존적으로 기능을 수행한다.

14. 갑과 을이 가진 문화 이해의 관점에 대한 옳은 설명을 <보기>에서 고른 것은?

- 갑은 경제적 측면에 치우친 주택에 대한 연구 경향을 비판하며, 주택의 문화적 의미에 대해 연구하였다. 그 결과 갑은 주택이 경제적 의미뿐만 아니라 사회적 성향, 자연 조건, 자원의 영향과 밀접하게 관련되어 있다는 사실을 규명하였다.
- 을은 남태평양의 여러 섬에서 나타나는 선물 문화를 연구한 결과, 선물의 형태가 각 지역의 특성에 따라 다양하지만 선물을 주고받는 것은 어느 사회에서나 사회를 유지하는데 중요한 기능을 한다는 결론을 내렸다.

— <보기> —


- ㄱ. 갑의 관점은 문화가 부분이 아닌 전체로서의 의미를 갖는다고 본다.
- ㄴ. 을의 관점은 여러 문화를 비교하면서 공유되는 보편성을 파악한다.
- ㄷ. 갑의 관점은 을의 관점과 달리 자문화를 객관적으로 파악해야 한다고 본다.
- ㄹ. 을의 관점은 갑의 관점과 달리 모든 문화는 고유한 가치를 지닌다고 본다.

- ① ㄱ, ㄴ                      ② ㄱ, ㄷ                      ③ ㄴ, ㄷ                      ④ ㄴ, ㄹ                      ⑤ ㄷ, ㄹ

15. 근대화를 바라보는 갑, 을의 관점에 대한 설명으로 옳은 것은? [3점]

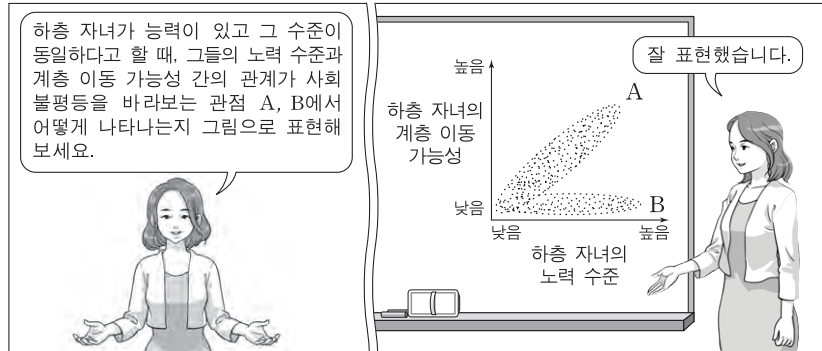
제3세계의 근대화는 선진화된 사회로부터 발전된 기술과 제도, 가치 등을 받아들여 그들과 같은 방식으로 변화하고자 노력해야 가능한 거야.

제3세계가 근대화되지 못하는 이유는 자신이 생산한 경제적 잉여를 서구 선진국에 착취당했기 때문이야. 이를 근본적으로 개선하지 않으면 저개발국의 발전은 쉽지 않아.



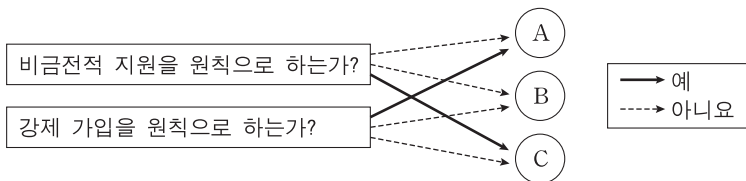
- ① 갑의 관점은 을의 관점과 달리 특정 국가의 지속적인 저발전 상태를 설명하기에 적합하다.
- ② 갑의 관점은 을의 관점과 달리 제3세계가 선진국에 경제적으로 종속될 때 경제 발전 정도가 낮다고 본다.
- ③ 을의 관점은 갑의 관점과 달리 사회 발전을 숙명론적인 시각으로 바라본다.
- ④ 을의 관점은 갑의 관점과 달리 제3세계 발전의 원동력으로 국가 내부의 자생력을 중시한다.
- ⑤ 갑, 을의 관점은 모두 국제 사회를 국가 간 협업의 관계로 설명한다.

16. 사회 불평등을 바라보는 관점 A, B에 대한 설명으로 옳은 것은? [3점]



- ① A는 희소가치가 개인의 사회적 기여도와 무관하게 분배된다고 본다.
- ② A는 희소가치의 분배 수준이 균등해질수록 사회적 효율성이 낮아진다고 본다.
- ③ B는 개인의 성취동기와 희소가치의 차등 분배 수준 사이에 정(+)의 관계가 있다고 본다.
- ④ B는 희소가치의 차등 분배 수준과 사회 갈등 정도 사이에 부(-)의 관계가 있다고 본다.
- ⑤ A는 부모의 계층과 자녀의 사회적 성공 가능성 사이에 정(+)의 관계가 있다고 보고, B는 무관하다고 본다.

17. 그림의 A~C는 우리나라 사회 보장 제도이다. 이에 대한 분석으로 옳은 것은? (단, A~C는 각각 공공 부조, 사회 보험, 사회 서비스 중 하나이다.) [3점]



- ① '수혜 대상자에 대한 자립과 자활 보장을 목적으로 한다.'는 특징은 A에는 나타나고, B에는 나타나지 않는다.
- ② '수혜 정도와 상관없이 능력에 따라 비용을 부담한다.'는 특징은 A와 B에 공통으로 나타난다.
- ③ '국가와 지방 자치 단체가 비용을 전액 부담하는 것을 원칙으로 한다.'는 특징은 B에는 나타나고, A에는 나타나지 않는다.
- ④ '사전 예방적 성격이 강하다.'는 특징은 B와 C에 공통으로 나타난다.
- ⑤ '상호 부조의 성격이 강하다.'는 특징은 C에는 나타나고, A와 B에는 나타나지 않는다.

18. 대중 매체 A~C에 대한 옳은 설명만을 <보기>에서 있는 대로 고른 것은?

- ☐ A~C는 각각 누리 소통망(SNS), 서적, TV 중 하나이다.
- ☐ 정보 전달의 양방향성 측면에서 보면 C가 A, B보다 높은 편이다.
- ☐ 문명자의 정보 접근성 측면에서 보면 B가 A보다 높은 편이다.

— <보기> —

ㄱ. A는 B보다 생동감 있는 정보 전달이 용이하다.  
 ㄴ. B는 C보다 정보의 복제와 재가공의 용이성이 낮다.  
 ㄷ. C는 B보다 정보의 생산자와 소비자 간의 경계가 모호하다.  
 ㄹ. A, B와 달리 C는 수용자별 정보 획득의 동시성이 나타난다.

- ① ㄱ, ㄴ                      ② ㄱ, ㄹ                      ③ ㄴ, ㄷ
- ④ ㄱ, ㄷ, ㄹ                ⑤ ㄴ, ㄷ, ㄹ

19. 다음 글을 통해 도출할 수 있는 옳은 내용만을 <보기>에서 있는 대로 고른 것은?

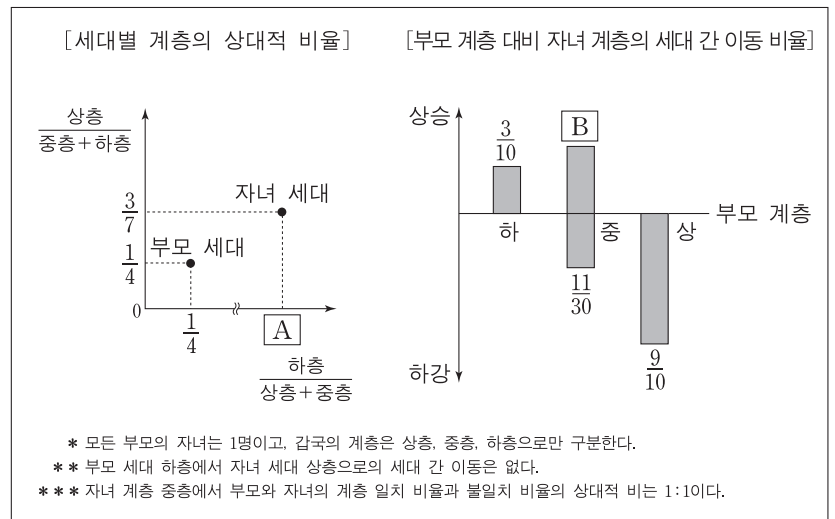
'유리 천장'은 여성이 조직에서 상위 직급으로 승진할 때 겪는 '눈에 보이지 않는 장벽'을 의미한다. 유리 천장의 유형으로 여성의 업무 능력에 대한 근거 없는 의심, 비공식 자리에서의 의도적 배제 등을 들 수 있다. 한편 같은 직급이더라도 승진에 유리한 핵심 업무가 있을 수 있는데, 여성이 핵심 업무로부터 수평적으로 분리되는 현상을 '유리벽'으로 표현한다.

— <보기> —

ㄱ. 직장 내 양성 평등 문화의 확산은 유리 천장 현상을 완화하는 데 기여한다.  
 ㄴ. 여성에 대한 사회적 차별은 남성과 여성의 개인적 능력 차이에서 기인한다.  
 ㄷ. 유리벽 현상은 조직 내에서 특정 성에 대한 차별이 구조적으로 나타나는 현상이다.  
 ㄹ. 유리 천장과 유리벽 현상이 제거되면 사회적 자원의 배분 과정에서 기회의 공정성이 제고될 것이다.

- ① ㄱ, ㄷ                      ② ㄴ, ㄷ                      ③ ㄴ, ㄹ
- ④ ㄱ, ㄴ, ㄹ                ⑤ ㄱ, ㄷ, ㄹ

20. 다음 자료는 갑국의 세대 간 계층 이동 현황을 나타낸 것이다. 이에 대한 분석으로 옳은 것은?



- ① 부모 세대보다 자녀 세대에서 사회 통합의 필요성이 낮아졌다.
- ② 자녀 세대 계층 대비 부모와 자녀의 계층 일치 비율은 하층이 가장 높다.
- ③ 부모 세대 계층 대비 자녀와 부모의 계층 불일치 비율은 상층보다 하층이 높다.
- ④ 부모 세대 상층과 하층의 합 대비 부모 세대 중층의 상대적 비율은 A보다 크다.
- ⑤ 부모 세대 상층 대비 부모 상층에서 자녀 하층으로의 세대 간 이동 비율은 B보다 작다.

\* 확인 사항  
 ○ 답안지의 해당란에 필요한 내용을 정확히 기입(표기)했는지 확인하십시오.