

제 4 교시

사회탐구 영역(사회·문화)

성명 수험 번호

1. 밑줄 친 ㉠~㉣과 같은 현상의 일반적인 특징으로 옳은 것은?

- 조류 인플루엔자가 전국적으로 확산되는 조짐을 보이는 가운데, 처음 ㉠ 조류 인플루엔자가 발생했던 ○○ 지역 농가는 오가는 이 없는 쓸쓸한 설 명절을 보내고 있다. 이곳 주민들은 반가운 손님을 부른다는 ㉡ 까치 소리에도 불안해 하면서 정초를 맞이하고 있다.
- 중국의 급속한 산업화로 인해 ㉢ 화석 연료 사용이 늘어나면서 미세 먼지가 한반도로 유입되는 날이 잦아졌다. ㉣ 미세 먼지는 사람의 폐까지 깊숙이 침투해 호흡기 질환을 유발하고 면역력을 약화시키기 때문에, 특히 외출 시에는 각별한 주의가 요구된다.

- ① ㉠과 같은 현상은 ㉡과 같은 현상에 비해 특수성이 강하다.
- ② ㉠과 같은 현상은 ㉢과 같은 현상과 달리 인과 법칙을 따른다.
- ③ ㉡과 같은 현상은 ㉣과 같은 현상과 달리 가치 함축적이다.
- ④ ㉡과 같은 현상은 ㉢과 같은 현상에 비해 예측이 용이하다.
- ⑤ ㉣과 같은 현상은 ㉠과 같은 현상과 달리 당위 법칙을 따른다.

2. 다음은 어느 모둠이 제출한 과제的一部分이다. 밑줄 친 ㉠~㉣에 대한 설명으로 가장 적절한 것은?

한국의 음식 문화와 김치

◇◇ 모둠

김치를 빼놓고는 한국의 ㉠ 음식 문화를 논할 수 없다. ㉡ 우리나라 사람은 밥을 먹을 때면 자연스럽게 김치를 찾는다. 또한 식당에서 라면을 주문할 때도 당연히 ㉢ 빨간 김치가 반찬으로 나올 것이라고 기대한다. 이는 ㉣ 어릴 때부터 우리 입맛이 김치에 익숙해졌기 때문이다. 그런데 우리 민족이 처음부터 지금과 같은 김치를 먹었던 것은 아니다. 문헌에 따르면 본래 우리의 김치는 고춧가루가 들어가지 않은 백김치였다. 임진왜란을 거치면서 고추가 전래되고 ㉤ 김치를 담그는 데 고춧가루가 양념으로 들어가면서 지금과 같은 김치를 먹게 되었다. ... (후략) ...

- ① ㉠에서의 문화는 '하위 문화'에서의 문화와 달리 좁은 의미로 사용되었다.
- ② ㉡은 시간의 흐름에 따라 문화의 형태나 의미가 변화함을 보여 준다.
- ③ ㉢은 사회 구성원이 지닌 태도나 신념의 옳고 그름을 판단하는데 사용되는 문화 요소에 해당한다.
- ④ ㉣은 문화가 사회화 과정을 통해 후천적으로 습득됨을 보여 준다.
- ⑤ ㉤은 서로 다른 문화 요소가 한 사회에 공존하는 사례에 해당한다.

3. 사회 계층화 현상을 설명하는 개념 (가), (나)에 대한 진술로 가장 적절한 것은?

(가)	(나)
경제적, 정치적, 사회적 요인을 종합하여 사회 계층을 상층, 중층, 하층으로 구분	생산 수단의 소유 여부를 기준으로 사회 계층을 지배층과 피지배층으로 구분

- ① (가)는 내부 구성원 간의 강한 귀속 의식을 설명하기에 용이하다.
- ② (나)는 자유로운 사회 이동을 설명하기에 용이하다.
- ③ (가)는 (나)와 달리 계층화 현상을 연속적으로 서열화되어 있는 상태라고 전제한다.
- ④ (나)는 (가)와 달리 위계를 구분하는 기준이 다차원적이다.
- ⑤ (가), (나) 모두 계층화 현상이 필수 불가결하다고 전제한다.

4. 밑줄 친 ㉠~㉣에 대한 설명으로 옳은 것은? [3점]

㉠ ○○ 전자 사보 200회 특집 - 화제의 인물, 갑을 만나다!

㉡ 평사원 출신으로 최연소 대표 이사까지 오른 갑이 본사 이달의 인물로 선정되었다. 취업사에서 갑은 "㉢ 사내 모바일 기술 혁신팀 팀장으로서 팀원들과 함께 하던 시절이 가장 기억에 남는다."라고 말했다. 갑의 팀이 개발한 획기적인 스마트폰 운영 체제 덕분에 본사는 시장 점유율 세계 1위인 ㉣ □□ 기업을 바짝 추격하여 제2의 도약을 맞게 되었다. ... (중략) ... 갑은 그동안 ㉤ △△ 봉사 단체를 통해 꾸준히 결식 아동을 도와 왔다는 사실이 알려지면서, 진정한 리더의 본보기라는 평가를 받고 있다.

- ① ㉠은 갑의 내집단이자 1차적 사회화 기관이다.
- ② ㉡은 갑의 수직 이동이자 구조적 이동이다.
- ③ ㉢은 공동의 목표에 기반을 둔 비공식 조직이다.
- ④ ㉣은 비공식적 사회화 기관이자 갑의 외집단이다.
- ⑤ ㉤은 결합 자체를 목적으로 하는 자발적 결사체이다.

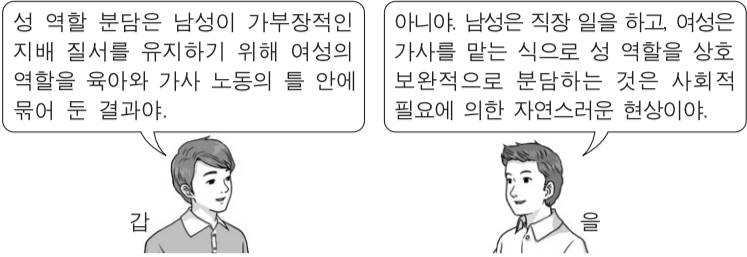
5. 표는 자료 수집 방법 A~D의 일반적인 특징을 구분한 것이다. 이에 대한 설명으로 옳은 것은? (단, A~D는 각각 질문지법, 면접법, 참여 관찰법, 실험법 중 하나이다.) [3점]

구분 기준 \ 자료 수집 방법	A	B	C	D
주로 양적 자료를 수집하는 데 사용되니까?	×	○	×	○
조사 대상자와 언어를 매개로 상호 작용하는 것이 필수적입니까?	○	×	×	○

* ○: 예, ×: 아니오

- ① A는 B에 비해 조사 대상자의 깊이 있는 답변을 유도하기에 용이하다.
- ② B는 C에 비해 조사 대상자에 대한 감정 이입적 이해를 증시한다.
- ③ C는 D와 달리 표본의 대표성 확보가 중요하다.
- ④ D는 A와 달리 조사 대상자의 동의 확보 문제로부터 자유롭다.
- ⑤ B, D는 A, C와 달리 새로운 사실의 발견에 유리하다.

6. 다음 대화에서 사회·문화 현상을 바라보는 갑, 을의 관점에 대한 설명으로 옳은 것은?



- ① 갑의 관점은 사회 규범이 지배 집단의 합의를 통해 형성된다고 본다.
- ② 을의 관점은 사회적 상호 작용을 통한 의미 부여를 중시한다.
- ③ 갑의 관점은 을의 관점과 달리 사회가 스스로 균형을 유지하려는 속성을 지닌다고 본다.
- ④ 을의 관점은 갑의 관점과 달리 사회화가 현재의 불평등한 구조를 정당화하는 수단이라고 본다.
- ⑤ 갑, 을의 관점은 모두 개인의 행위에 미치는 사회 구조의 영향을 간과한다.

7. 다음은 한 연구 보고서의 일부이다. 밑줄 친 ㉠~㉣에 대한 옳은 설명만을 <보기>에서 있는 대로 고른 것은? [3점]

○○시는 갑에게 가로등 개선이 ㉠ 시민의 삶의 질에 미치는 효과에 대해 조사해 달라고 요청하였다. 이에 갑은 가로등 개선, 범죄 발생, 밤 시간대의 이동성 간의 관계에 대한 연구를 수행하였다. 먼저 갑은 가로등 개선 사업 ㉡ 시범 실시 지역 중 두 곳을 선정하였다. 이 두 지역을 대상으로 조명 개선 전후의 ㉢ 가로등 밝기, 주변 지역의 물리적 조건, ㉣ 보행자 수를 체계적으로 조사하였다. 또한 조명 개선 전후의 범죄 발생률을 파악하기 위해 ㉤ 정부의 공식 통계 자료를 확인하였다.

— <보기> —

- ㉠. 갑의 연구에서 ㉠은 모집단, ㉡은 표본 집단이다.
- ㉢. ㉢ 중에서 한 곳은 실험 집단, 다른 한 곳은 통제 집단이다.
- ㉣. ㉣은 독립 변수를 조작적으로 정의한 것이다.
- ㉤. ㉤은 갑의 연구에서 활용된 2차 자료이다.

- ① ㉠, ㉢ ② ㉠, ㉣ ③ ㉣, ㉤
- ④ ㉠, ㉢, ㉤ ⑤ ㉢, ㉣, ㉤

8. 다음은 고등학생 갑이 쓴 자기소개서의 일부이다. 밑줄 친 ㉠~㉣에 대한 설명으로 옳지 않은 것은?

저의 가장 큰 장점은 리더십과 공정함입니다. 저는 2학년 때 학급회장과 ㉠ 학생회 체육부장을 겸하게 되었습니다. 1학기 말에 ㉡ 교내 반별 합창 대회와 교내 체육 대회의 일정이 겹쳐 ㉢ 학급을 이끌어야 하는 책임과 학교 체육 대회를 진행해야 하는 책임 사이에서 고민하게 되었습니다. …(중략)… 이러한 체계적 계획과 역할 분담 등을 통해 저는 학급과 학생회의 일을 모두 성공적으로 이끌었습니다. 또한 ㉣ 체육 대회 운영진으로서 공정하게 대회를 운영한 점을 인정받아 ㉤ 공로상을 수상하게 되었습니다. 앞으로 저는 이러한 경험을 살려 ㉥ 체육교육과에서 제가 꿈꾸는 국제 심판이 되는 데 필요한 자질과 능력을 함양하고 싶습니다.

- ① ㉠은 과업 중심으로 결합된 공식 조직이다.
- ② ㉡에서는 협동적 상호 작용과 경쟁적 상호 작용이 모두 나타난다.
- ③ ㉢은 갑의 서로 다른 성취 지위에 따른 역할 갈등이다.
- ④ ㉣은 갑의 ㉡로서의 역할에 대한 보상이다.
- ⑤ ㉥은 갑이 예기 사회화를 기대하는 기관이다.

9. 일탈 이론 (가)~(다)에 부합하는 연구 결과로 적절하지 않은 것은? [3점]

(가) 일탈은 특정 행위에 대한 사회적 반응에 의해 규정되며, 그러한 사회적 반응의 결과 행위자가 일탈자로서의 정체성을 형성할 때 지속적인 일탈로 이어진다.
 (나) 준법적 태도를 보이던 사람도 일탈자들과 오랫동안 빈번하게 교류하면서 법과 규범을 경시하는 태도를 학습할 경우 일탈에 가담할 가능성이 높아진다.
 (다) 공유된 사회적 목표에 도달하기 위한 제도화된 수단이 제한되어 있을 때에 야기되는 갈등과 긴장으로 인해 일탈이 나타난다.

- ① (가) - 지속적인 상담 과정을 통해 자아상이 새롭게 바뀐 상습 범죄자의 경우 범죄를 중단하는 경향을 보였다.
- ② (가) - 비행 청소년이 영화 속 갱단을 준거 집단으로 삼아 그들의 가치를 내면화할 경우 일탈 행위가 강화되었다.
- ③ (나) - 다수의 초범 청소년을 조사해 보니 법 위반에 앞서 비행 친구들과 밀접한 접촉이 있었던 것으로 밝혀졌다.
- ④ (다) - 경기 침체가 장기화되면서 일자리가 감소할 경우 실업자들의 생계형 범죄가 증가하는 것으로 나타났다.
- ⑤ (다) - 경제적 곤란을 겪는 청소년들에게 생활비 지원 정책을 시행한 결과 해당 청소년들의 일탈 행위가 감소하였다.

10. 다음 자료에 대한 옳은 분석만을 <보기>에서 있는 대로 고른 것은? [3점]

표는 갑국의 절대적 빈곤 가구 비율과 상대적 빈곤 가구 비율의 변화를 나타낸 것이다. 2010년에 최저 생계비는 중위 소득의 50% 미만이었으며, 2000년에서 2010년 사이에 최저 생계비는 지속적으로 증가하였다. (단, A, B는 각각 절대적 빈곤 가구와 상대적 빈곤 가구 중 하나이며, 갑국에서 모든 가구의 구성원 수는 동일하다.)

(단위: %)

구분	2000년	2005년	2010년
A	5	7	10
B	9	7	5

* 절대적 빈곤 가구: 소득이 절대적 빈곤선(최저 생계비) 미만인 가구
 ** 상대적 빈곤 가구: 소득이 상대적 빈곤선(중위 소득의 50%) 미만인 가구
 *** 중위 소득: 전체 가구를 소득 순으로 나열했을 때 한가운데 위치한 가구의 소득

— <보기> —

- ㉠. 2000년에 상대적 빈곤 가구는 모두 절대적 빈곤 가구에 속한다.
- ㉢. 2010년에 전체 가구 소득 중 A의 소득 점유 비중은 10% 미만이다.
- ㉣. 2000년 대비 2005년에 중위 소득 증가율이 최저 생계비 증가율보다 더 크다.
- ㉤. 2005년에 상대적 빈곤선은 절대적 빈곤선과 일치하며, 2010년에 상대적 빈곤선은 절대적 빈곤선의 2배이다.

- ① ㉠, ㉢ ② ㉢, ㉤ ③ ㉣, ㉤
- ④ ㉠, ㉢, ㉣ ⑤ ㉠, ㉣, ㉤

11. 다음 대화에서 근대화를 바라보는 갑, 을의 관점에 대한 설명으로 옳은 것은?

낙후된 상태에 있는 국가들도 선진국의 문명을 받아들여 그들의 성장 경로를 따라가면 발전할 수 있어.



갑

그렇지 않아. 후진국이 선진국에게 착취당하는 구조에서는 선진국과 교류를 하더라도 발전을 기대할 수 없어.



을

- ① 갑의 관점은 사회 변동을 보는 순환론적 관점에 기초한다.
- ② 을의 관점은 국제 사회를 국가 간 지배-종속 관계로 설명한다.
- ③ 을의 관점은 저발전의 원인을 중심부와 주변부의 단절에서 찾는다.
- ④ 갑의 관점은 을의 관점과 달리 발전의 원동력으로 국가 내부의 자생력을 중시한다.
- ⑤ 을의 관점은 갑의 관점과 달리 단선적이고 표준화된 발전 경로를 중시한다.

12. 사회·문화 현상의 연구 방법 (가), (나)의 일반적인 특징에 대한 설명으로 옳은 것은?

연구 주제	1920년대 여성의 사회적 지위 변화	
연구 방법	(가)	(나)
연구 설계 개요	1920년대 여성의 근대 학교 진학률과 취업률, 직업 분포를 조사하여, 당시 여성의 교육 수준과 사회적 지위 변화 사이의 상관 관계를 분석하고자 함.	1920년대 소설의 이면에 담긴 신여성에 대한 인식과 신여성의 자아 정체감을 해석하여, 당시 여성의 사회적 지위 변화의 의미를 심층적으로 이해하고자 함.

- ① (가)는 직관적 통찰을 통해 사회·문화 현상을 해석한다.
- ② (나)는 주로 연역적 과정을 통해 결론을 도출한다.
- ③ (가)는 (나)에 비해 경험적 자료의 분석을 통한 일반화가 용이하다.
- ④ (나)는 (가)와 달리 연구 대상에 대해 연구자의 주관적 개입이 개입되는 것을 통제한다.
- ⑤ (가)는 방법론적 이원론, (나)는 방법론적 일원론에 기초한다.

13. 표는 우리나라의 사회 보장 제도 A, B의 일반적인 특징을 비교한 것이다. (가)~(라)에 들어갈 적절한 질문만을 <보기>에서 있는 대로 고른 것은? [3점]

	A	B
구분	국민의 질병·부상에 대한 예방·진단·치료·재활과 출산·사망 및 건강 증진에 대하여 보험 급여를 실시하는 제도	소득 인정액이 일정 수준 이하인 가구의 최저 생활을 보장하기 위해 일정한 절차를 거쳐 급여를 실시하는 제도
(가)	예	예
(나)	예	아니요
(다)	아니요	예
(라)	아니요	아니요

— <보기> —

- ㄱ. (가) - 소득 재분배 효과가 있는가?
- ㄴ. (나) - 대상자의 강제 가입을 원칙으로 하는가?
- ㄷ. (다) - 대상자가 수혜 정도에 따라 비용을 부담하는가?
- ㄹ. (라) - 수혜 대상자 선정 과정에서 소득이 고려되는가?

- ① ㄱ, ㄴ ② ㄴ, ㄷ ③ ㄷ, ㄹ
- ④ ㄱ, ㄴ, ㄹ ⑤ ㄱ, ㄷ, ㄹ

14. (가), (나)에 나타난 문화 이해의 관점에 대한 옳은 설명을 <보기>에서 고른 것은?

- (가) 세계 각지에 존재하는 매장(埋葬), 화장(火葬), 수목장(樹木葬), 조장(鳥葬) 등 다양한 유형의 장례 문화를 조사하여 공통점과 차이점을 연구하였다.
- (나) 고산 지대에 사는 ○○족의 장례 문화가 그들의 종교, 경제, 가족 제도 등 다른 문화 요소들과 어떻게 연관되어 있는지 연구하였다.

— <보기> —

- ㄱ. (가)의 관점은 자문화의 특징을 타문화와 비교하여 파악하는 데 유용하다.
- ㄴ. (나)의 관점은 문화가 부분이 아닌 전체로서의 의미를 갖는 생활양식임을 중시한다.
- ㄷ. (가)의 관점은 (나)의 관점과 달리 사회적 맥락을 고려하여 문화를 이해하는 데 기여한다.
- ㄹ. (나)의 관점은 (가)의 관점과 달리 문화의 보편성을 찾는 것에 초점을 둔다.

- ① ㄱ, ㄴ ② ㄱ, ㄷ ③ ㄴ, ㄷ ④ ㄴ, ㄹ ⑤ ㄷ, ㄹ

15. (가), (나)에 나타난 교육을 바라보는 관점에 대한 옳은 설명을 <보기>에서 고른 것은? [3점]

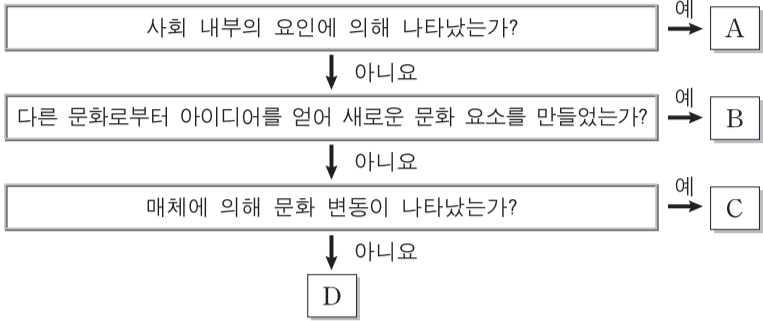
- (가) 개인의 능력과 노력보다 부모의 사회·경제적 배경이 학업 성취에 더 큰 영향을 끼친다. 부모의 물질적 지원이 부족한 하층의 학생은 교육을 받더라도 높은 수준의 학업 성취에 도달하기가 상대적으로 힘들고, 따라서 사회적으로 성공할 가능성도 낮다.
- (나) 부모의 사회·경제적 배경보다는 개인의 능력과 노력이 학업 성취에 끼치는 영향력이 더 크다. 개인의 능력과 노력이 뛰어난 학생일수록 교육을 통해 높은 학업 성취에 도달할 수 있고, 그에 따라 사회적으로 성공할 가능성도 커진다.

— <보기> —

- ㄱ. (가)의 관점은 교육을 전체 구성원의 동의에 기초한 지배적 가치의 전파 수단으로 간주한다.
- ㄴ. (나)의 관점은 학교 교육 내용에 계층 간 유불리가 존재함을 강조한다.
- ㄷ. (가)의 관점은 (나)의 관점과 달리 교육을 개인의 사회 이동 수단보다는 계층적 지위의 고착화 수단으로 본다.
- ㄹ. (나)의 관점은 (가)의 관점과 달리 교육의 인재 선발 기능이 사회적 효율성을 높이는 데 기여한다고 본다.

- ① ㄱ, ㄴ ② ㄱ, ㄷ ③ ㄴ, ㄷ ④ ㄴ, ㄹ ⑤ ㄷ, ㄹ

16. 그림은 문화 변동 요인 A~D를 분류한 것이다. 이에 대한 설명으로 옳은 것은? (단, A~D는 각각 발명, 직접 전파, 간접 전파, 자극 전파 중 하나이다.) [3점]



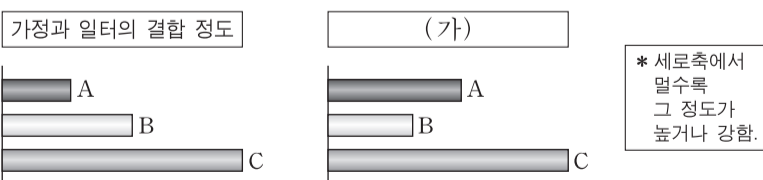
- ① 다른 나라 기성 종교의 교리와 체계를 응용하여 신흥 종교를 창시한 사례는 A에 해당한다.
- ② 한류 드라마의 인기로 한국어를 배우려는 외국인이 늘어난 사례는 B에 해당한다.
- ③ 독일에서 구텐베르크가 인쇄 기술을 만들어 자국 내 지식 보급에 기여한 사례는 C에 해당한다.
- ④ 서아시아 지역에서 종교 의식에 사용되던 커피가 유럽에 전해져 일반인의 기호품으로 대중화된 사례는 D에 해당한다.
- ⑤ 미국에서 배구가 처음 고안된 사례는 A, 미국인 선교사가 한국 청년들에게 처음 배구를 지도한 사례는 C에 해당한다.

17. 다음에 나타난 개인과 사회의 관계를 바라보는 관점에 대한 옳은 진술을 <보기>에서 고른 것은?

생산 요소로서 육체적 노동력이 중시되던 농업 사회에서는 노동력의 재생산을 위한 조혼과 다산이 사회 구성원들에게 자연스러운 삶의 방식으로 받아들여졌다. 그러나 전문화되고 숙련된 노동이 중시되는 현대 사회는 사회 구성원들에게 오랜 기간의 교육과 훈련을 요구하며, 그 결과 사회 전체적으로 초혼 연령이 높아지고 출산율은 낮아지게 되었다. 이처럼 개인의 선택처럼 보이는 초혼 시기와 출산 계획조차도 당대의 산업 구조로부터 자유로운 것은 아니다.

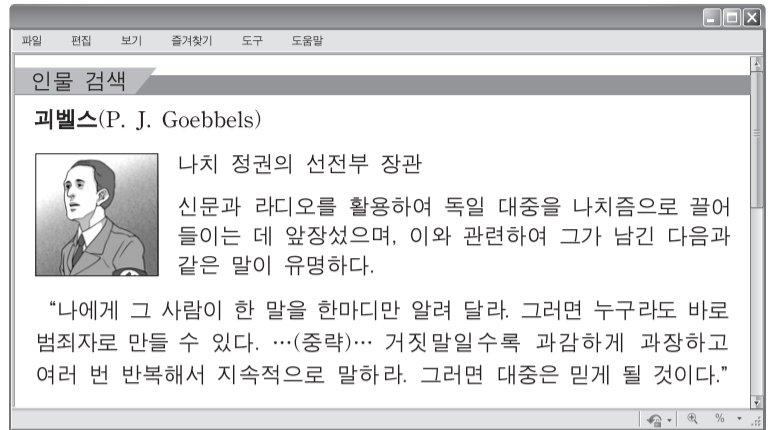
- <보기>—
- ㄱ. 개인은 사회 속에서만 존재 의미를 갖는다고 본다.
 - ㄴ. 사회는 개인으로 환원하여 설명될 수 있다고 본다.
 - ㄷ. 사회는 개인의 외부에서 독자적으로 작동한다고 본다.
 - ㄹ. 개인의 능동성이 사회 규범의 구속성보다 우선한다고 본다.

- ① ㄱ, ㄴ ② ㄱ, ㄷ ③ ㄴ, ㄷ ④ ㄴ, ㄹ ⑤ ㄷ, ㄹ
18. 그림은 A~C의 특징을 비교한 것이다. 이에 대한 설명으로 옳은 것은? (단, A~C는 각각 농업 사회, 산업 사회, 정보 사회 중 하나이다.) [3점]



- ① A는 B에 비해 의사 결정의 분권화 정도가 높다.
- ② B는 A에 비해 지식 산업의 부가 가치 총량이 크다.
- ③ B는 A, C에 비해 소품종 대량 생산의 비중이 높다.
- ④ C는 A, B에 비해 구성원 간 익명성이 높다.
- ⑤ (가)에는 '쌍방향 미디어의 비중'이 적절하다.

19. 그림의 내용에서 도출할 수 있는 대중 매체의 문제점으로 옳은 진술만을 <보기>에서 있는 대로 고른 것은?



- <보기>—
- ㄱ. 정보의 조작을 통해 여론을 왜곡할 수 있다.
 - ㄴ. 특정 집단의 이익을 옹호하기 위한 도구로 활용될 수 있다.
 - ㄷ. 이윤을 추구하는 자본의 영향을 받아 상업주의에 빠질 수 있다.
 - ㄹ. 일방적 정보 전달로 대중을 수동적인 존재로 전락시킬 수 있다.

- ① ㄱ, ㄷ ② ㄴ, ㄹ ③ ㄷ, ㄹ
- ④ ㄱ, ㄴ, ㄷ ⑤ ㄱ, ㄴ, ㄹ

20. 다음 자료에 대한 분석으로 옳은 것은? [3점]

표는 갑국의 1980년 대비 2010년 세대 내 이동 현황을 나타낸 것이다. A~C는 각각 상층, 중층, 하층 중 하나이며, 2010년의 계층 구성비는 A : B : C = 2 : 1 : 1이다.

<1980년 대비 2010년의 세대 내 이동 유형별 비율> (단위: %)

1980년의 계층	A			B			C			계
	상승	하강	동일	상승	하강	동일	상승	하강	동일	
비율	5	5	20	20	0	20	0	20	10	100

- ① 2010년의 중층 중 세대 내 수직 이동을 경험한 비율은 해당 계층의 50% 미만이다.
- ② 1980년보다 2010년의 계층 구조가 더 개방적이며 사회 통합에 유리하다.
- ③ 1980년 계층 대비 2010년에 각 계층별로 계층적 지위가 유지된 비율은 중층과 하층이 동일하다.
- ④ 상층에서 중층으로 세대 내 이동한 인구가 하층에서 중층으로 세대 내 이동한 인구보다 많다.
- ⑤ 상층에서 하층으로의 세대 내 이동과 하층에서 상층으로의 세대 내 이동은 나타나지 않았다.

* 확인 사항
○ 답안지의 해당란에 필요한 내용을 정확히 기입(표기)했는지 확인 하시오.