

제 4 교시

# 사회탐구 영역(동아시아사)


성명  수험 번호

1. (가)에 들어갈 유물로 적절한 것은?

동아시아 유물 카드

(가)

- 제작 시기: ○○○ 시대
- 발굴 지역: 일본 열도
- 용도: 음식 보관, 제기
- 특징: 표면에 새끼줄 무늬가 있음.



2. 밑줄 친 '그'에 대한 설명으로 옳은 것을 <보기>에서 고른 것은?

예수회 선교사인 그는 중국에 들어가 크리스티교를 전파하고자 노력하였다. 또한 황제의 허가를 받아 베이징에서 여생을 보내면서 다양한 서양 학문을 중국에 전하였다. 특히 그가 저술한 교리 문답서인 『천주실의』는 이수광 등에 의해 조선에도 알려졌다.

- <보기> —
- ㄱ. 세계 지도인 곤여만국전도를 제작하였다.
  - ㄴ. 서양 의학서를 번역한 해체신서를 간행하였다.
  - ㄷ. 서광계와 함께 서양의 기하학 서적을 번역하였다.
  - ㄹ. 소현 세자에게 다양한 서양 학문과 문물을 전하였다.

- ① ㄱ, ㄴ    ② ㄱ, ㄷ    ③ ㄴ, ㄷ    ④ ㄴ, ㄹ    ⑤ ㄷ, ㄹ

3. 다음 대화의 주제로 가장 적절한 것은? [3점]



- ① 금의 한족 지배
- ② 원의 남인 통치
- ③ 청의 팔기 편성
- ④ 흉노의 동호 복속
- ⑤ 북위의 한화 정책

4. (가) 제도에 대한 설명으로 옳은 것은?

동아시아 각국에서 시행된 (가)은/는 일정한 시험을 거쳐 관리를 등용하는 제도로 송 대부터 3단계의 형식을 취하였다. 예를 들어 송 대에는 지방에서 해시를 시행하였고, 이 시험을 통과한 이들을 대상으로 수도에서 예부가 성시를 실시하였다. 그리고 황제가 최종 시험인 전시를 주관하였다.

- ① 고려에서 쌍기의 건의로 도입되었다.
- ② 한에서 동중서의 제안으로 채택되었다.
- ③ 원에서 천호·백호 단위로 시행되었다.
- ④ 명에서 이갑을 단위로 실시되었다.
- ⑤ 일본에서 다이묘를 통제하기 위해 격년으로 시행되었다.

5. (가) 사상에 대한 설명으로 옳지 않은 것은? [3점]

푸젠 성 출신인 그는 19세에 진사시에 합격하여 관직에 진출하였다. 그는 『사서집주』를 저술하였고, 여조겸과 함께 『근사록』을 편찬하였다. 또한 육구연을 만나 토론하는 등 학자들과 학문 교류에 힘썼다. 그는 이기론에 입각하여 당시의 새로운 학문 경향을 (가) (으)로 집대성하였다.

- ① 다이카 개신에 영향을 주었다.
- ② 대의명분론과 화이론을 중시하였다.
- ③ 가마쿠라 막부 시대에 일본으로 전래되었다.
- ④ 고려 말 신진 사대부의 사상적 기반이 되었다.
- ⑤ 조선에서 서원과 향약을 통해 널리 보급되었다.

6. (가) 인물이 활동한 시기의 동아시아 상황으로 옳은 것은?

대군이 압록강을 건너 위화도에 머무르니 도망가는 아군이 끊이지 않았다. 일찍이 홍건적과 왜구를 토벌해 혁혁한 공을 세운 우군도통사 (가)이/가 여러 장수들에게 “내가 글을 올려 군사를 돌이킬 것을 청하였으나, 왕도 살피지 아니하고 최영도 들어주지 않았다. 이제 우리가 군사를 돌이켜야 하지 않겠는가?”라고 말하니, 여러 장수들도 이에 동의하였으므로 군대를 되돌렸다.

- ① 한국 - 무신 정권이 수도를 강화도로 옮겼다.
- ② 중국 - 정강의 변이 발생하였다.
- ③ 중국 - 탕구트 족이 서하를 건국하였다.
- ④ 일본 - 아시카가 요시미쓰가 남북조를 통일하였다.
- ⑤ 베트남 - 응오 왕조가 수립되었다.

7. 다음 가상 편지에서 (가) 국가의 통치 제도에 대한 설명으로 옳은 것은? [3점]

△△△께

최근 교역을 위해 (가)에 다녀왔습니다. 이 나라에 들어가면서 물품을 검사받고, 수도의 주작대로 동쪽에 있는 좌경의 동사에서 물품을 거래하였습니다. 거래를 끝내고 머물던 중 몇 년 전에 계율을 전하러 온 승려 감진을 도다이 사에서 만났습니다. 귀국할 때에도 이 나라의 법령에 따라 물품을 검사받았습니다. 그 절차의 자세한 내용은 만나 뵈고 말씀드리겠습니다.

○○○ 올림

- ① 문하성이 정책을 심의하였다.
- ② 신기관이 제사를 담당하였다.
- ③ 복면관이 유목민 통치 업무를 맡았다.
- ④ 좌현왕과 우현왕이 각각의 영지를 다스렸다.
- ⑤ 행성(행중서성)이 설치되고 다루가치가 파견되었다.

8. (가), (나) 사이 시기의 동아시아 정세로 옳지 않은 것은? [3점]

(가) 왜군의 일부가 식량과 말을 신고 자기 나라로 돌아가기 시작하였다. 이때 경상좌병사로부터 왜군의 철수는 관백(關白)이 사망한 뒤 권력을 잡은 도쿠가와 이에야스가 우리나라에 파견된 왜장들을 소환하였기 때문이라는 보고가 올라왔다.

(나) 오랑캐가 국경을 넘어 쳐들어와 명과의 왕래를 끊고 자신과 서로 형제가 되기를 하늘에 맹세하면 군대를 철수하겠다고 회유하였다. 강화도로 피신한 국왕은 사정이 너무 급박해 이를 받아들여 화친의 맹약을 맺었다.

- ① 후금이 건국되었다.
- ② 인조반정이 일어났다.
- ③ 에도 막부가 수립되었다.
- ④ 사쓰마 번이 류큐를 침공하였다.
- ⑤ 오삼계 등이 삼번의 난을 일으켰다.

9. (가) 국가에 대한 설명으로 옳은 것은?

○○신문 20△△년 △△월 △△일

### 초원 유목민의 모습이 새겨진 유물 출토




◎ 초원 유목민의 확대 그림

중국 대명궁 주변의 무덤에서 초원 유목민의 모습을 새긴 유물이 출토되었다. 이 유물에는 머리카락을 훑날리며 사냥하는 인물이 새겨져 있는데, 유연에 이어 몽골 초원에서 흥기한 (가) 사람이라고 한다. (가)은/는 동서로 분열된 뒤에도 당 고조가 스스로 신하라고 칭할 정도로 세력을 떨쳤지만 이후 그 일부가 당 태종에게 복속되었다. 이 유물의 공개로 초원 유목민과 유목 제국에 대한 연구가 더욱 활성화될 것으로 기대된다.

- ① 금에게 세폐를 바쳤다.
- ② 북주로부터 조공을 받았다.
- ③ 후진으로부터 연운 16주를 할양받았다.
- ④ 토번의 송첸캄포에게 문성 공주를 시집보냈다.
- ⑤ 수에게 해 뜨는 곳의 천자라고 자칭한 국서를 보냈다.

10. (가) 인물이 활동한 시기의 동아시아 상황으로 옳은 것은? [3점]



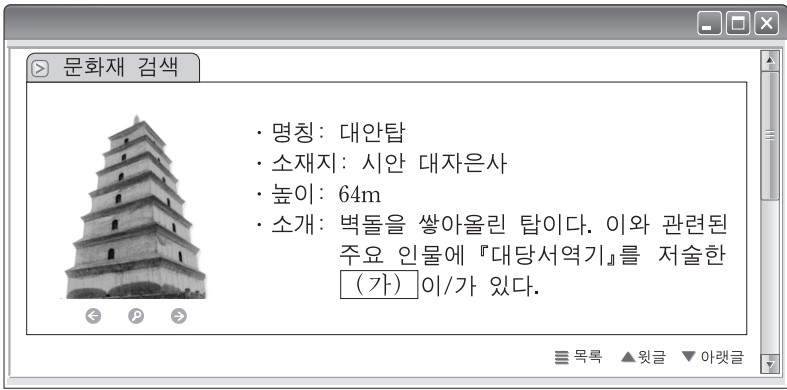
전국 시대의 분열을 통일한 (가)이/가 자신의 업적을 과시하려고 만든 각석의 내용입니다.

도량형과 문자를 통일하였다. (중략) 황제의 공덕은 오제보다 뛰어나다.

<남야대 각석>

- ① 한국 - 고구려의 일부 세력이 남하하여 백제를 세웠다.
- ② 중국 - 혈연 중심의 봉건제가 성립되었다.
- ③ 중국 - 흉노 침입을 막기 위해 만리장성이 축조되었다.
- ④ 일본 - 야마타이국을 중심으로 연맹체가 형성되었다.
- ⑤ 베트남 - 안남도호부가 설치되었다.

11. (가) 승려에 대한 설명으로 옳은 것은?



- ① 인도에서 불경을 가져왔다.
- ② 쇼토쿠 태자의 스승이 되었다.
- ③ 남인도 출신으로 선종을 창시하였다.
- ④ 적산 법화원에 머물며 신라인의 도움을 받았다.
- ⑤ 당에서 신라로 귀국한 뒤 화엄 사상을 전파하였다.

12. 다음 주장이 발표된 이후의 동아시아 상황으로 옳은 것을 <보기>에서 고른 것은? [3점]

그동안 정부의 정책은 평화 공존이었다. 그러나 이번에 발생한 루거우차오 사건의 경과를 보면 평화는 쉽게 얻어질 수 없다고 생각된다. 만주가 함락된 지 이미 6년, 루거우차오가 점령당한다면 베이징은 제2의 선양이 될 것이다. 전 민족의 힘을 모아 항전하여 마지막 승리를 구할 수밖에 없다. ... (중략) ... 중국의 주권과 영토를 침범하는 제안은 어떤 것이든 일체 받아들이지 않겠다.

- 장제스, 「루산 담화」 -

— <보기> —

ㄱ. 조선 혁명군이 중국 의용군과 함께 연합 작전을 펼쳤다.  
 ㄴ. 국민당 정부의 지원을 받아 조선 의용대가 창설되었다.  
 ㄷ. 제2차 국·공 합작이 성립되어 항일 투쟁이 격화되었다.  
 ㄹ. 한·중·일 무정부주의자들이 항일 구국 연맹을 결성하였다.

- ① ㄱ, ㄴ    ② ㄱ, ㄷ    ③ ㄴ, ㄷ    ④ ㄴ, ㄹ    ⑤ ㄷ, ㄹ

13. 밑줄 친 '증서'가 발급된 시기의 동아시아 경제 상황으로 옳은 것은? [3점]

이것은 나가사키에 들어오는 중국 상선의 숫자를 줄이기 위해 막부가 발행한 증서이다. 그 첫머리에 통역관의 이름을 적었고, 뒷부분에 수령자인 중국 선주(船主)의 이름을 적었다. 막부는 이를 소지하지 않은 중국 선박의 입항을 금지하여 은 유출을 억제하고자 하였다.

- ① 한국 - 의주의 만상이 대외 무역에 종사하였다.
- ② 한국 - 삼포 왜란으로 일본과의 교역을 제한하였다.
- ③ 중국 - 감합을 발급하여 조공국과 무역하였다.
- ④ 일본 - 유력 농민층인 묘슈가 장원을 관리하였다.
- ⑤ 일본 - 중국 동전을 대량으로 수입해 화폐로 사용하였다.

14. (가) 왕조 시기의 동아시아에서 볼 수 있는 모습으로 적절한 것을 <보기>에서 고른 것은?



— <보기> —

ㄱ. 개경에서 궁궐을 둘러보는 중국 사신  
 ㄴ. 에도에서 가부키를 관람하는 무사  
 ㄷ. 취안저우에서 향료를 파는 아라비아 상인  
 ㄹ. 베이징에서 서적을 구입하는 연행사 일행

- ① ㄱ, ㄴ    ② ㄱ, ㄷ    ③ ㄴ, ㄷ    ④ ㄴ, ㄹ    ⑤ ㄷ, ㄹ

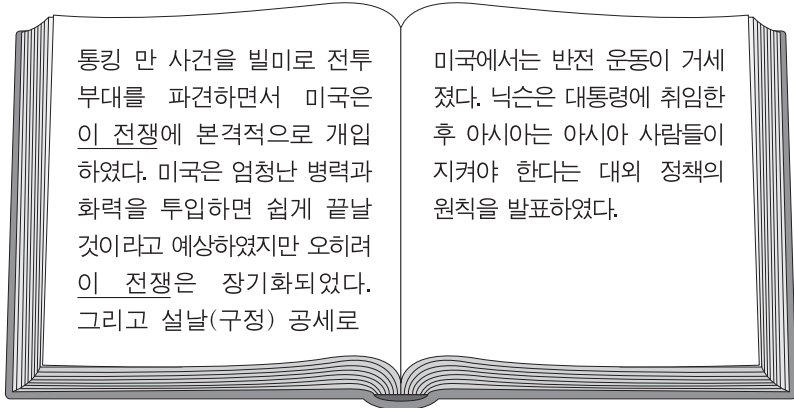
15. (가), (나) 사이의 시기에 있었던 사실로 옳은 것은? [3점]

(가) 베트남을 보호국으로 만든 프랑스와 이를 인정하지 않는 청 사이에 긴장이 고조되었다. 결국 프랑스가 청의 푸젠 함대를 기습 공격하였고, 이에 대응하여 청 역시 선전 포고를 하였다. 양국은 타이완 등에서 치열한 전투를 벌였다. 전쟁의 결과 청은 프랑스와 베트남이 체결한 조약을 승인하였다.

(나) 동학 농민 운동이 일어나자 청과 일본은 조선에 파병하였다. 일본은 경복궁을 점령하고 풍도 앞바다에서 청을 공격하였다. 이후 라오둥 반도와 산둥 반도 일부를 점령당한 청은 조선이 자주 독립국임을 확인하는 조약을 일본과 체결하였다.

- ① 조선이 텐진에 영선사를 파견하였다.
- ② 청이 일본과 수호 조규를 체결하였다.
- ③ 일본이 대일본 제국 헌법을 제정하였다.
- ④ 판보이쩌우가 베트남 광복회를 조직하였다.
- ⑤ 이와쿠라 사절단이 서구 문물을 시찰하였다.

16. 밑줄 친 '이 전쟁' 이후 동아시아에서 있었던 사실로 옳은 것은? [3점]



- ① 일본이 난징 대학살을 일으켰다.
- ② 베트남 독립 동맹이 결성되었다.
- ③ 중국에서 국민 혁명군의 북벌이 시작되었다.
- ④ 타이완의 국민당 정부가 계엄령을 해제하였다.
- ⑤ 대한민국 임시 정부가 한국광복군을 창설하였다.

17. (가) 막부 시기의 동아시아 문화에 대한 설명으로 옳지 않은 것은?

우리 통신사 일행은 일본 각지의 물산이 모여들어 '천하의 부엌'이라 일컫는 오사카에 이르렀다. 이곳에는 2백여 개가 넘는 다리와 3백여 개의 사원이 있었고, 조년이라 불리는 상인과 공인의 가옥 또한 헤아릴 수 없이 많았다. ... (중략) ... 우리는 교토를 지나 사람들이 동도(東都)라 부르는 도시에 도착하여 (가)의 쇼군에게 국서를 전달하였다.

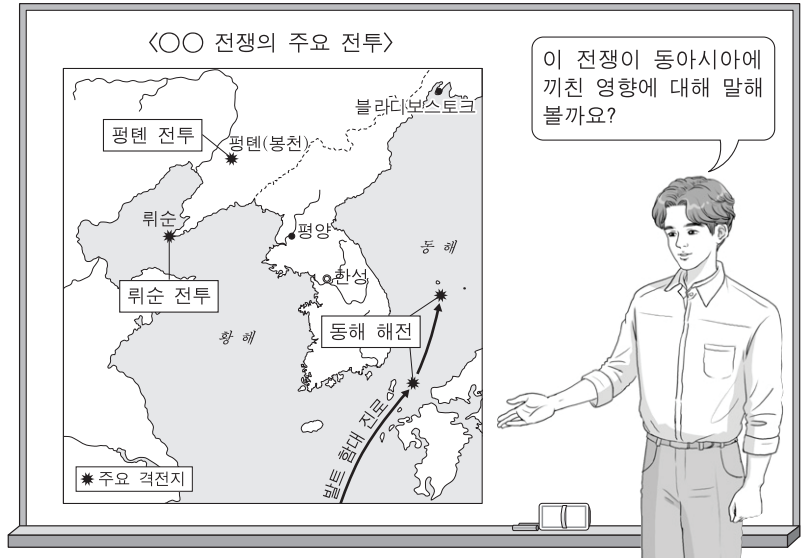
- ① 한국 - 판소리가 유행하였다.
- ② 중국 - 홍루몽이 간행되었다.
- ③ 중국 - 사고전서가 편찬되었다.
- ④ 일본 - 호류 사 5층 목탑이 건립되었다.
- ⑤ 일본 - 채색 목판화인 우키요에가 성행하였다.

18. (가) 운동에 대한 설명으로 옳은 것은?

중화민국 초기 위안스카이의 독재와 군벌의 혼전이 계속되자 천두슈, 후스 등의 지식인들은 잡지 『신청년』을 발행하여 전통을 비판하고 서구 과학의 수용을 주장하였다. 이러한 움직임이 점차 확산되는 가운데 파리 강화 회의 소식이 전해졌다. 그러자 학생들을 중심으로 이 회의의 결정에 반대하는 (가)이 일어났고, 결국 베이징 군벌 정부는 베르사유 조약의 조인을 거부하였다.

- ① 상제회라는 단체에 의해 주도되었다.
- ② 홍위병을 중심으로 전개된 대중 운동이었다.
- ③ 일본의 산동 반도 이권을 회수할 것을 요구하였다.
- ④ 강유웨이 등이 추진한 변법자강 운동의 원인이 되었다.
- ⑤ 프랑스의 통치에 저항하는 근왕 운동에 영향을 끼쳤다.

19. 교사의 질문에 대한 학생의 대답으로 가장 적절한 것은? [3점]



- ① 일본이 을미사변을 일으켰어요.
- ② 대한 제국이 외교권을 빼앗겼어요.
- ③ 청이 타이완의 지배권을 상실하였어요.
- ④ 청이 크리스티교 선교의 자유를 인정하였어요.
- ⑤ 베트남이 코친차이나 동부 3성을 상실하였어요.

20. (가), (나) 사이의 시기에 있었던 사실로 옳은 것은?

(가) 후야오방의 사망을 계기로 일부 지식인과 대학생은 텐안먼 광장에서 민주화 시위를 벌였다. 이들은 단식 투쟁을 벌이면서 정치 체제의 개혁을 요구하였다. 그러나 정부는 군대를 동원해 강제로 이들을 진압하였다.  
 (나) 중국의 세계 무역 기구(WTO) 가입은 덩샤오핑의 개혁·개방 정책이 추진된 이후 최대의 경제적 사건이었다. 이를 계기로 중국의 대외 수출은 획기적으로 증가하였고 해외 자본의 투자 역시 크게 늘어났다.

- ① 한국 - 6월 민주 항쟁이 발생하였다.
- ② 한국 - 중화 인민 공화국과 국교를 수립하였다.
- ③ 중국 - 제1차 5개년 계획을 추진하였다.
- ④ 일본 - 샌프란시스코 강화 조약을 체결하였다.
- ⑤ 베트남 - 도이머이 정책을 시작하였다.

\* 확인 사항  
 ○ 답안지의 해당란에 필요한 내용을 정확히 기입(표기)했는지 확인 하시오.