

제 4 교시

사회탐구 영역(동아시아사)

성명 수험 번호

1. (가)에 해당하는 유물로 옳은 것은?

<동아시아 000 문화 특별전>

동아시아에서 금속기를 사용하기 시작한 000 시대의 다양한 문화를 유물 사진으로 살펴볼 수 있는 전시회에 여러분을 초대합니다.

○ 기간: 2017년 11월 △일~△△일
○ 장소: □□ 고등학교 역사 교실

전시 안내

제1실: 한반도·만주 지역 - 청동 거울, 민무늬 토기 등
제2실: 황허강 유역 - 청동 술잔, 네 발 달린 술 등
제3실: 베트남 지역 - (가)



2. (가), (나) 사이 시기에 동아시아에서 있었던 사실로 옳은 것은?

(가) 『대당서역기』의 주인공인 그는 불경 원전을 공부하고자 장안을 떠나 인도의 불교 성지를 순례하였다. 십 수년 만에 귀국한 그는 인도에서 가져온 불경을 자은사에서 번역하였다. 그가 가져온 불경과 불상 등을 보존하기 위해, 고종 때 자은사 경내에 대안탑이 건립되었다.

(나) 『입당구법순례행기』의 저자인 그는 불교 성지를 순례하는 과정에서 적산 법화원의 신라인에게 도움을 받았다. 그는 9년이 넘는 여정을 순례기에 상세히 기록하였다.

- ① 법흥왕이 불교를 공인하였다.
- ② 쇼무 천황이 도다이사를 창건하였다.
- ③ 문성제가 원강 석굴에 대불을 조성하였다.
- ④ 혜자가 쇼토쿠 태자에게 불교를 전수하였다.
- ⑤ 법현이 인도를 순례하고 불국기를 저술하였다.

3. (가) 국가의 대외 관계에 대한 설명으로 옳은 것은? [3점]

이 장면은 유목 국가와 농경 국가가 전투하는 모습을 등에 새긴 것이다. 이 가운데 뾰족한 모자를 쓰고 활을 쓰는 사람은 (가)의 병사라고 한다. (가)은/는 목욕 선우 때 동호와 월지를 제압하였고, 선우 아래에 좌현왕과 우현왕을 두었다.

- ① 안남 도호부를 설치하였다.
- ② 북주로부터 조공을 받았다.
- ③ 위구르에 화번공주를 보냈다.
- ④ 한 무제의 군대와 전투를 벌였다.
- ⑤ 어울락(어우락) 왕국을 정복하였다.

4. (가), (나) 국가에 대한 설명으로 옳은 것은?

몽골은 대외 원정에 나서 탕구트족이 세운 (가)을/를 정복하였다. 그 뒤 몽골은 대리국을 멸망시키고, 남쪽으로 진출하여 탕롱을 수도로 하는 (나)을/를 세 차례에 걸쳐 공격하였다. (나)의 장군은 '격장사'라는 격문을 배포 하면서 끝까지 저항하여 바익당 강가에서 몽골군을 격퇴 하였다.

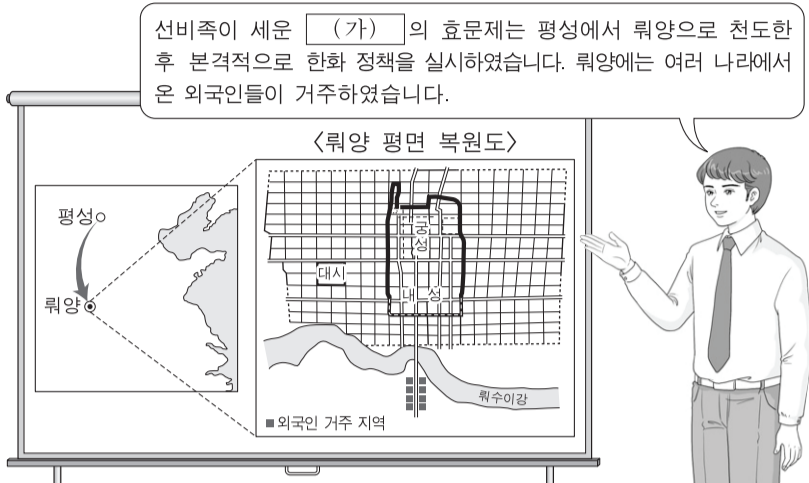
- ① (가) - 수도를 대도로 옮겼다.
- ② (가) - 연운 16주를 차지하였다.
- ③ (나) - 쓰놈 문자를 사용하였다.
- ④ (나) - 맹안 모극제를 실시하였다.
- ⑤ (나) - 송과 연합하여 거란(요)을 공격하였다.

5. 밑줄 친 ㉠ 시기의 동아시아 상황으로 옳은 것은? [3점]

고다이코 천황의 명령을 받아 닛타 요시사다 등이 무사 정권을 타도하였다. 이후 고다이코 천황이 겐무 신정을 추진 하자, 여기에 불만을 품은 무사 세력들이 고묘 천황을 옹립 하였다. 이에 반발한 고다이코 천황이 남쪽으로 피신하면서 내란이 시작되었고, ㉠약 60년간 남조와 북조가 대립하였다.

- ① 한국 - 흉건적의 침입을 받았다.
- ② 한국 - 삼별초가 진도를 거점으로 항쟁하였다.
- ③ 중국 - 알탄 칸의 침략을 받았다.
- ④ 중국 - 정화의 대항해가 시작되었다.
- ⑤ 베트남 - 응오 왕조가 수립되었다.

6. (가) 국가 시기의 동아시아 대외 관계에 대한 설명으로 옳은 것은? [3점]



- ① 당이 돌궐을 복속시켰다.
- ② 왜가 수에 국서를 보냈다.
- ③ 발해가 일본에 사신을 파견하였다.
- ④ 거란(요)과 송이 진연의 맹약을 맺었다.
- ⑤ 제(남제)와 고구려가 책봉·조공 관계를 맺었다.

7. 다음 상황이 발생한 시기를 연표에서 옳게 고른 것은?

불랑기포를 중국에 전래한 포르투갈은 광둥 지방관에게 마카오에서 거주할 수 있도록 허락을 받고, 이곳을 중국 진출의 교두보로 삼았다. 이로부터 얼마 후 에스파냐는 마닐라를 점령하여 동아시아 진출을 위한 전진 기지로 삼았다.



- ① (가) ② (나) ③ (다) ④ (라) ⑤ (마)

8. 다음 자료의 상황이 나타난 당시의 동아시아 대외 관계에 대한 설명으로 옳은 것은? [3점]

압록강을 건너 40여 일 만에 연경에 도착하였다. 건륭제의 70세 생신을 축하하는 잔치가 열하에서 열린다는 통보를 받고 다시 열하로 서둘러 출발하였다. 건륭제는 즉위 이래 열하의 피서산장에서 해마다 여름을 보낸다고 한다. 피서라고 하지만 실은 만리장성 이북의 몽골족을 방비하기 위함이다.
- 『열하일기』 -

- ① 한국 - 일본과 기유약조를 체결하였다.
- ② 중국 - 북로남왜의 침입으로 국력이 쇠약해졌다.
- ③ 중국 - 광저우에서 서양과의 무역이 이루어졌다.
- ④ 일본 - 사비에르가 크리스토포를 포교하였다.
- ⑤ 일본 - 감합 무역으로 중국 동전이 수입되었다.

9. (가) 왕조 시기에 동아시아에서 볼 수 있는 모습으로 적절한 것은? [3점]



- ① 중국 - 홍루몽을 집필하는 문인
- ② 중국 - 조·용·조제에 따라 세금을 납부하는 농민
- ③ 일본 - 신패를 발급받는 외국 상인
- ④ 일본 - 오닌의 난에서 활약하는 무사
- ⑤ 베트남 - 대월사기를 편찬하는 학자

10. 가상 보고서에서 밑줄 친 '국가'의 통치 제도에 대한 설명으로 옳은 것은?

야간 순찰 보고서

도성의 좌경(左京)에서 야간 순찰을 돌다가 야간 통행 금지를 위반한 자를 체포하였습니다. 심문을 해 보니 그는 귀국한 건당사가 작성한 공문서를 국가의 행정을 담당하는 태정관 소속의 관리에게 전해 주러 가는 길이었다고 합니다. 양로령(養老令) 가운데 '공적인 일을 수행할 때는 야간 통행을 허가한다.'라는 조문에 따라 그를 처벌하지 않고 석방하였습니다.

- ① 정당성 아래 6부를 설치하였다.
- ② 북면관·남면관제를 실시하였다.
- ③ 감찰 기관으로 탄정대를 설치하였다.
- ④ 군사·행정 조직으로 팔기제를 운영하였다.
- ⑤ 국학의 학생을 대상으로 독서삼품과를 시행하였다.


11. (가) 막부 시기에 동아시아에서 볼 수 있는 모습으로 적절하지 않은 것은?

오랜 흉작으로 오사카 미곡 시장의 거래 가격이 급등하고 유입량도 크게 줄어들었습니다. 배고픔을 견디다 못한 조년들이 매점매석으로 폭리를 취한 미곡 도매상을 공격하는 소동을 일으켰다고 합니다. 부디 (가) 막부의 쇼군께서는 그 유례를 찾기 힘든 덴메이 기근의 대책을 마련하여 주시기 바랍니다.

- ① 한국 - 수원 화성을 건설하는 기술자
- ② 한국 - 혼일강리역대국도지도를 편찬하는 관리
- ③ 중국 - 사고전서 편찬에 참여하는 유학자
- ④ 일본 - 고사기전을 저술하는 국학자
- ⑤ 일본 - 서양 의학서를 번역하는 난학자

12. (가), (나) 왕조에 대한 설명으로 옳은 것은?

이 문묘는 (가) 왕조 때 처음 건립되었습니다. 그리고 이 문묘 안에는 (나) 왕조가 세운 진사제명비가 있습니다. 명의 지배로부터 독립한 (나) 왕조는 문묘와 국자감의 위상을 강화하였습니다.



- ① (가) - 문적원을 설치하였다.
- ② (가) - 정강의 변을 겪고 수도를 옮겼다.
- ③ (나) - 신기관을 설치하였다.
- ④ (나) - 주인장을 발행하여 교역을 통제하였다.
- ⑤ (가), (나) - 과거제를 시행하였다.

13. (가), (나) 사이 시기의 동아시아 상황으로 옳은 것은? [3점]

(가) 일본이 전쟁에 승리하여 랴오둥반도를 차지하게 되자 러시아가 독일, 프랑스와 함께 이를 청에게 반환하도록 요구하였다. 이에 일본은 청으로부터 추가 배상금을 받는 조건으로 랴오둥반도를 반환하였다.

(나) 8개국 연합군은 베이징으로 진격하여 열강의 이권 침탈에 대한 저항에서 비롯된 민족 운동을 진압하였다. 이에 청은 외국 군대의 베이징 주둔을 허용하고, 막대한 배상금 지불을 약속하는 조약을 체결하였다.

- ① 한국 - 대한 제국이 수립되었다.
- ② 중국 - 신해혁명이 일어났다.
- ③ 일본 - 제국 헌법이 제정되었다.
- ④ 일본 - 이와쿠라 사절단이 파견되었다.
- ⑤ 베트남 - 동유 운동이 전개되었다.

14. 다음 자료에 나타난 시기의 동아시아 경제에 대한 설명으로 옳지 않은 것은? [3점]

○ 각 지역에서는 한전(旱田)의 성질에 맞추어 옥수수 등의 곡식 이외에 고구마, 삼, 모시 등의 작물을 재배하여 큰 이익을 얻고 있다.
- 정약용, 『경세유표』 -

○ 상추쌈에 보리밥을 둥글게 싸 삼키고는 고추장에 파뿌리도 곁들여 먹는다오.
- 정약용, 「장기 농가」 -

- ① 한국 - 송상, 만상 등의 사상이 활동하였다.
- ② 한국 - 경강상인이 미국 등을 거래하며 이익을 얻었다.
- ③ 중국 - 산시 상인과 휘저우(후이저우) 상인이 활약하였다.
- ④ 중국 - 강남 지역에 이양법(모내기법)이 도입되기 시작하였다.
- ⑤ 일본 - 조카마치를 중심으로 상공업이 발전하였다.

15. 밑줄 친 ㉠ 이후에 일어난 사실로 옳은 것은?

만주국 수립 이후, 일본은 화북(화베이) 지역으로 진출하는 정책을 추진하여 베이징과 텐진까지 세력을 확대하였다. 이러한 가운데 베이징 교외의 루거우차오 부근에서 일본군과 중국군이 충돌하는 사건이 발생하였다. 이 사건을 빌미로 일본이 베이징과 상하이를 공격하면서 ㉠ 전쟁이 시작되었다.

- ① 제1차 국·공 합작이 단행되었다.
- ② 조선 의용대가 한커우에서 조직되었다.
- ③ 판보이쩌우가 베트남 광복회를 조직하였다.
- ④ 장제스가 베이징을 점령하여 북벌을 완료하였다.
- ⑤ 극동 인민 대표 회의가 모스크바에서 개최되었다.

16. (가), (나) 조규에 대한 설명으로 옳지 않은 것은? [3점]

○ 청·일 양국은 서로 간의 화의를 더욱 돈독히 하고, 서로 영원히 침범하지 않을 것을 규정하였다. 이 같은 (가) 를 통해 양국은 상호 대등한 관계를 수립하였다.

○ 조선은 일본의 강요에 의해 개항장에서 일본인의 통상을 인정하고, 한반도 일대의 해안 측량을 허가하였다. 이 같은 (나) 를 통해 일본은 청과 조선의 전통적인 관계를 부정하려고 하였다.

- ① (가) - 타이완을 일본에 할양하도록 규정하였다.
- ② (가) - 양국의 개항장에 이사관[영사관] 주재를 명기하였다.
- ③ (나) - 조선이 자주국임을 명시하였다.
- ④ (나) - 부산 이외에 두 곳의 추가 개항을 규정하였다.
- ⑤ (나) - 조선의 개항장에서 일본의 영사 재판권을 인정하였다.

17. (가)~(다)에 들어갈 내용으로 적절하지 않은 것은?

탐구 활동 보고서

○ 탐구 주제: 동아시아의 근대 서구 문물 수용

○ 탐구 활동: 동아시아 각국이 근대 서구 문물을 수용한 사례를 조사한다.

○ 모듈별 조사 결과

1모듈: 한국 - (가)

2모듈: 중국 - (나)

3모듈: 일본 - (다)

- ① (가) - 경인선이 부설되었다.
- ② (가) - 한성순보가 발간되었다.
- ③ (나) - 경사대학당이 설립되었다.
- ④ (나) - 상하이 와이탄에 서구식 건축물이 들어섰다.
- ⑤ (다) - 영국인이 신보(申報)라는 신문을 창간하였다.

18. (가), (나)에 대한 설명으로 옳지 않은 것은? [3점]

(가) 제1조 평화 조약 및 이 조약의 효력 발생과 동시에 일본은 미국의 군대를 일본 국내 및 그 부근에 배치할 권리를 허락하고, 미국은 이를 수락한다. 이 군대는 극동의 평화와 안전에 기여하고, 외부의 공격 및 외국의 선동 등에 의한 일본의 내란과 소요를 진압하기 위하여 일본 정부의 요청에 따라 일본의 안전을 목적으로 사용할 수 있다.

제2조 :

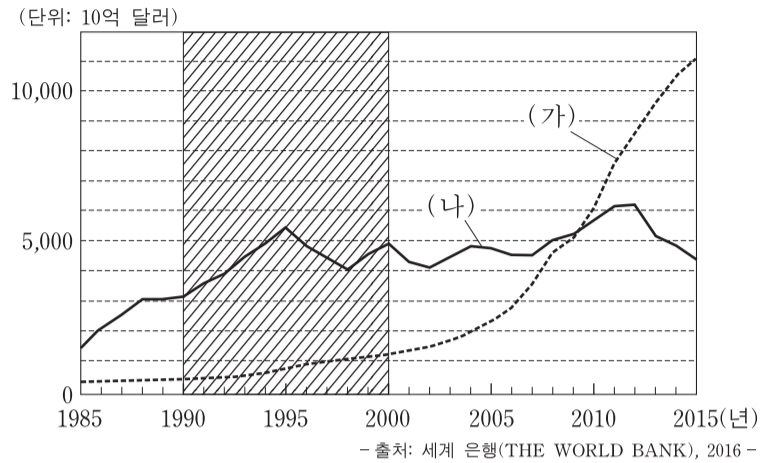
(나) 제1조 잠정적인 군사 분계선을 설정하고, 베트남 인민군은 북위 17도선의 이북으로, 프랑스 연합군은 북위 17도선의 이남으로 이동한다.

제2조 :

- ① (가) 체결 후에 유엔에서 6·25 전쟁 참전을 결정하였다.
- ② (가)를 통해서 미국은 일본과 동맹 관계를 구축하였다.
- ③ (나) 체결 전에 일본과 타이완이 국교를 수립하였다.
- ④ (나) 체결 후에 남베트남 민족 해방 전선이 결성되었다.
- ⑤ (나)에서 총선거를 통한 베트남 통일 정부 수립이 합의되었다.

19. 빗금 친 시기에 (가), (나) 국가에서 있었던 상황으로 옳은 것은?

<동아시아 (가), (나) 국가의 국내 총생산(GDP) 변화>



- ① (가) - 세계 무역 기구(WTO)에 가입하였다.
- ② (가) - 도이머이 정책을 추진하여 경제가 성장하였다.
- ③ (나) - 55년 체제가 무너졌다.
- ④ (나) - 국제 통화 기금(IMF)의 관리를 받았다.
- ⑤ (가), (나) - 양국 사이에 국교가 수립되었다.

20. (가) 인물에 대한 설명으로 옳은 것은? [3점]

동아시아의 현대사 인물 카드

(가) (1904~1997)

이른바 '흑묘백묘론'을 주장한 인물이다. 문화 대혁명 시기에 반대파로부터 타도 대상이 되어 공직에서 추방되기도 하였다. 문화 대혁명 후에 집권한 그는 농업·공업·국방·과학 기술의 4개 부문 현대화를 기본 방침으로 확고히 하고 경제 발전에 주력하였다.

- ① 중화민국의 수립을 선포하였다.
- ② 나진·선봉 지역을 경제 특구로 지정하였다.
- ③ 3선 개헌을 통하여 장기 집권을 추구하였다.
- ④ 민진당(민주진보당) 후보로 총통에 선출되었다.
- ⑤ 사회주의 체제 하에서 개혁 개방 정책을 실시하였다.

* 확인 사항
○ 답안지의 해당란에 필요한 내용을 정확히 기입(표기)했는지 확인 하시오.