

제 4 교시

사회탐구 영역 (동아시아사)

성명		수험번호					3		
----	--	------	--	--	--	--	---	--	--

1. 다음 특별전에서 볼 수 있는 유물로 적절한 것은?

♣ ○○○ 문화 특별전 ♣

우리 박물관에서는 '채도에 새겨진 다양한 무늬'를 주제로 ○○○ 문화 특별전을 개최합니다. 신석기 시대 황허강 중류 유역에서는 채도를 사용하였던 ○○○ 문화가 탄생하였습니다. 채도에는 사람 얼굴 무늬, 물고기 무늬 등 다양한 무늬가 나타나 있습니다.

기간: 2016년 7월 △일 ~ △일
장소: □□ 박물관 특별 전시실



2. (가)~(마) 중 편성 계획으로 적절하지 않은 것은?

특집 다큐멘터리 5부작

'당 제국을 가다'

1. 기획 의도: 당 제국의 통치 체제 및 국제 관계를 중심으로 당시 동아시아 세계를 조명하고자 한다.

2. 편성 계획

- 제1부: 태종, 동돌궐을 복속시키다. (가)
- 제2부: 문성 공주, 토번 왕과 혼인하다. (나)
- 제3부: 3성 6부, 통치 체제의 기본이 되다. (다)
- 제4부: 전연의 맹약, 북방 민족과 화친을 맺다. (라)
- 제5부: 장안성 조성, 도시 계획의 모범이 되다. (마)

- ① (가) ② (나) ③ (다) ④ (라) ⑤ (마)

3. 밑줄 친 '막부'에 대한 설명으로 옳은 것은? [3점]

원나라는 조공을 하지 않으면 무력을 사용하겠다는 국서를 막부에 전달하였다. 답신이 오지 않자 원나라는 고려의 군대와 연합하여 두 차례에 걸쳐 공격하였다. 그러나 폭풍우 등으로 인해 목적을 달성하지 못하고 결국 퇴각하였다.

- ① 정강의 변을 일으켰다.
- ② 다이카 개신을 단행하였다.
- ③ 오년의 난으로 통치력이 약화되었다.
- ④ 거란으로부터 강동 6주를 획득하였다.
- ⑤ 송의 동전을 다량으로 수입하여 사용하였다.

4. (가), (나) 국가에 대한 설명으로 옳은 것은?

한 왕조가 흥기할 무렵 (가)의 목욕 선우가 강대해지기 시작하였습니다. 그는 동호를 격파하고 월지의 수령을 생포하고 토지를 병탄했습니다. 땅이 커지고 군사가 강해지자 중국의 우환거리가 되었습니다. (나)의 짜에우다가 백월을 통솔하여 스스로 황제라고 칭했습니다. 그렇기 때문에 중국이 비록 평정되었다고 하나 사방의 오랑캐들이 여전히 피해를 주어 평안한 날이 없습니다.

-『한서』-

- ① (가) - 서역과 중계 무역을 하였다.
- ② (가) - 쉼 테긴 비석을 건립하였다.
- ③ (나) - 문묘를 설치하였다.
- ④ (나) - 반랑국을 멸망시켰다.
- ⑤ (가), (나) - 한 무제의 공격으로 멸망하였다.

5. 다음 자료에 나타난 학문에 대한 설명으로 옳은 것은? [3점]

○ 어떤 경전이든 역사서든 주석서든 나의 관심은 오직 진실된 것에 있다. 경전이 진실되고 역사서나 주석서가 거짓이라면 경전을 기준으로 역사서와 주석서를 바로잡으면 될 것이다. -염약거, 『상서고문소증』-

○ 나의 어두운 식견과 미약한 재주로는 쉽게 견해를 내지 못하니, 진실로 힘든 교정을 통해 오래된 종이 무더기 속에 파묻혀 실제적인 것에서 진리를 찾아 후세 사람들을 계도하기를 바라는 것이다. -왕명성, 『십칠사상각』-

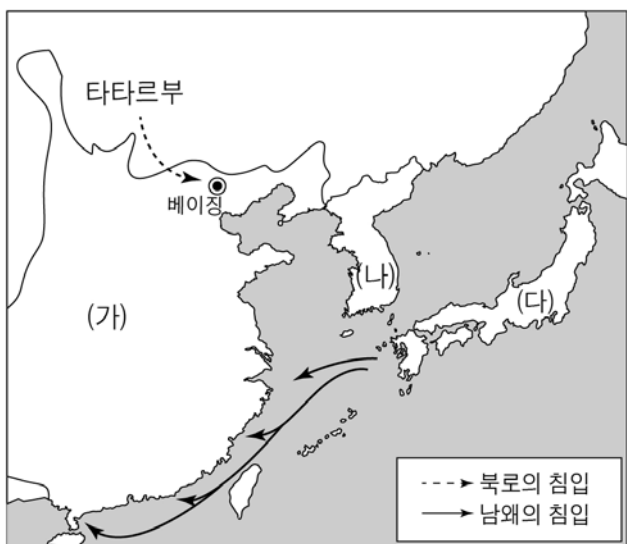
- ① 명 대에 관학으로 수용되었다.
- ② 지행합일과 심즉리를 중시하였다.
- ③ 객관주의와 실사구시를 강조하였다.
- ④ 대의명분론과 화이관을 강화시켰다.
- ⑤ 고려 말 신진 사대부의 사상적 기반이 되었다.

6. (가), (나) 국가에 대한 설명으로 옳은 것은?

- (가) 은/는 유목민에 대해서는 북면관이 관습법으로 다스리고, 농경민에 대해서는 남면관이 주현제로 다스리게 하였다.
- (나) 은/는 유목민에 대해서는 전통적인 씨족 조직이자 군사 조직인 맹안 모극제로 통치하고, 농경민에 대해서는 주현제로 통치하였다.

- ① (가) - 정복지에 다루가치를 파견하였다.
- ② (가) - 고려로부터 동북 9성을 돌려받았다.
- ③ (나) - 서하를 공격하여 멸망시켰다.
- ④ (나) - 장건을 파견하여 비단길을 개척하였다.
- ⑤ (나) - 송과 연합하여 (가)를 공격하였다.

7. 지도의 상황이 전개되던 시기에 (가)~(다) 국가에서 볼 수 있는 모습으로 옳은 것은? [3점]



- ① (가) - 경극을 관람하는 신사
- ② (가) - 태평천국 운동에 가담하는 농민
- ③ (나) - 연행사로 파견되는 관리
- ④ (다) - 해체신서를 연구하는 의원
- ⑤ (다) - 조총의 위력을 시험하는 무사

8. 밑줄 친 ㉠, ㉡에 대한 설명으로 옳은 것을 <보기>에서 고른 것은? [3점]

중국 국민당과 중국 공산당은 군벌 타도의 필요성에 공감하여 두 진영 간의 ㉠협작을 단행하였다. 그러나 북벌이 진행되는 과정에서 장제스가 중국 공산당과 노동자를 공격하는 쿠데타를 일으켰으며, 이는 국·공 협작의 결렬로 이어졌다. 이후 일본의 대륙 침략이 본격화되자 중국 국민당과 중국 공산당은 다시 ㉡협작하여 항일 투쟁을 전개하였다.

- <보 기> —
- ㉠. ㉠ - 소련의 지원을 받았다.
 - ㉡. ㉠ - 신간회의 영향을 받아 이루어졌다.
 - ㉡. ㉡ - 중·일 전쟁을 계기로 단행되었다.
 - ㉡. ㉡ - 중화민국이 수립되는 결과를 가져왔다.

- ① ㉠, ㉡ ② ㉠, ㉡ ③ ㉡, ㉡ ④ ㉡, ㉡ ⑤ ㉡, ㉡

9. 교사의 질문에 대한 학생의 답변으로 적절한 것을 <보기>에서 고른 것은?

속담으로 배우는 동아시아사

- * 소호속 천하족
썩저우와 후저우에 풍년이 들면 천하가 넉넉하다.
- * 상유천당 하유소항
하늘에는 천당이 있고, 땅에는 썩저우와 항저우가 있다.

이 속담은 송 대 강남 지역의 농업 생산력 발달 모습을 보여 줍니다. 이와 같은 발달이 이루어진 배경은 무엇일까요?



- <보 기> —
- ㉠. 조생종 벼가 새롭게 도입되었어요.
 - ㉡. 농상집요가 간행되어 농민들에게 도움을 주었어요.
 - ㉢. 저습지에 위전(우전)과 같은 수리전이 증가하였어요.
 - ㉣. 옥수수, 감자, 담배 등의 새로운 작물이 보급되었어요.

- ① ㉠, ㉡ ② ㉠, ㉢ ③ ㉡, ㉢ ④ ㉡, ㉣ ⑤ ㉢, ㉣

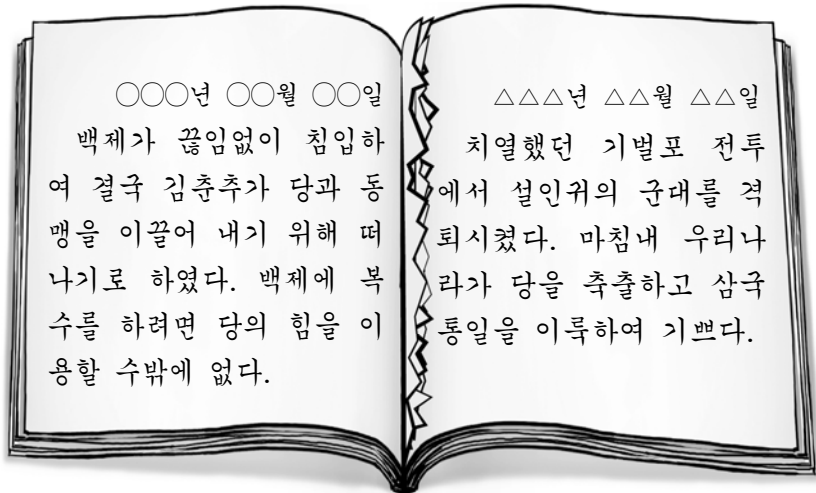
10. (가)에 들어갈 내용으로 적절한 것은? [3점]



도다이 사는 국가 번영을 기원하기 위하여 세워졌으며 거대한 불상과 동탑·서탑 등이 있습니다. 이 사찰이 건립되던 시기의 동아시아 각국에서는 불교를 통한 문화 교류가 활발하게 이루어졌는데, 예를 들면 (가)

- ① 현장이 대당서역기를 저술하였습니다.
- ② 혜자가 쇼토쿠 태자의 스승이 되었습니다.
- ③ 강승희가 불경을 한문으로 번역하였습니다.
- ④ 의상이 당에 유학한 후 화엄종을 열었습니다.
- ⑤ 감진이 일본에 계율과 불경을 전해주었습니다.

11. 다음 가상 일기의 찢긴 부분에 들어갈 수 있는 사실로 적절한 것을 <보기>에서 고른 것은?



- <보 기> —
- ㄱ. 대조영이 발해를 건국하였다.
 - ㄴ. 백제의 사비성이 함락되었다.
 - ㄷ. 장보고가 청해진을 설치하였다.
 - ㄹ. 왜가 백장에서 나·당 연합군과 전투를 벌였다.


- ① ㄱ, ㄴ ② ㄱ, ㄷ ③ ㄴ, ㄷ ④ ㄴ, ㄹ ⑤ ㄷ, ㄹ

12. (가)에 대한 설명으로 옳지 않은 것은?

동아시아사 신문

제○호

조선, 첨단 기술을 개발하다



16세기 초 함경도 단천에서 김감불, 김검동이 획기적인 제련 기술을 개발하였다. 연은 분리법이라 불렀던 이 기술은 무쇠 화로나 냄비 안에 재를 두르고 광석을 채운 다음, 깨진 질그릇으로 사방을 덮고 숯불을 피워 녹여내어 **(가)**을/를 추출하는 것이다. 그러나 조선에서는 이 기술의 가치를 크게 주목하지 않았고, 16세기 중엽 조선 장인을 초빙한 일본인에 의해 기술이 유출되고 말았다.

- ① 조선 - 일조편법 시행에 영향을 주었다.
- ② 조선 - 중국과의 교역에서 결제 수단이 되었다.
- ③ 중국 - 보초에 대한 불신으로 사용이 증가하였다.
- ④ 일본 - 다이묘의 경제력 향상에 영향을 주었다.
- ⑤ 일본 - 조선으로부터 인삼을 수입하는 데 활용되었다.

13. (가), (나) 헌법에 대한 설명으로 옳은 것을 <보기>에서 고른 것은?

- (가) 제1조 대일본 제국은 만세일계의 천황이 통치한다.
제4조 천황은 국가의 원수로서 통치권을 총괄하며, 이 헌법의 조항에 따라 시행한다.
- (나) 제1조 천황은 일본국의 상징이자 일본 국민 통합의 상징으로서 그 지위는 주권을 지닌 일본 국민의 뜻에 기반한다.
제9조 일본 국민은...(중략)...전쟁과 무력을 통한 위협과 무력의 행사를...(중략)...영구히 포기한다. 전쟁의 목적을 달성하기 위해 육·해·공군 및 기타의 전력을 보유하지 않는다.

- <보 기> —
- ㄱ. (가) - 입헌 군주제를 규정하였다.
 - ㄴ. (가) - 미국의 압력으로 제정되었다.
 - ㄷ. (나) - 군국주의의 부활을 막고자 하였다.
 - ㄹ. (나) - 자유 민권 운동의 결과로 제정되었다.

- ① ㄱ, ㄴ ② ㄱ, ㄷ ③ ㄴ, ㄷ ④ ㄴ, ㄹ ⑤ ㄷ, ㄹ

14. (가) ~ (다) 국가의 대외 활동으로 옳은 것은? [3점]

- **(가)** 은/는 청이 광저우에 임칙서를 보내 아편을 몰수하자, 이를 구실로 전쟁을 일으켰다.
- **(나)** 은/는 운요호 사건을 빌미로 조선에 개항을 강요하였다.
- **(다)** 은/는 태평양 항로를 개설하면서 일본에 연료와 식량을 보급할 기항지를 요구하며 페리 제독이 이끄는 함대를 파견하였다.

- ① (가) - 디엔비엔푸 전투에서 패배하였다.
- ② (나) - 의화단 운동 진압에 참여하였다.
- ③ (다) - 거문도를 불법 점령하였다.
- ④ (나), (다) - 파리 평화 협정을 체결하였다.
- ⑤ (가), (나), (다) - 카이로 회담에 참가하였다.

15. (가), (나) 조약 사이의 시기에 있었던 사실로 옳은 것은?

[3점]

- | (가) | (나) |
|----------------------------------------------------------------------------------------------------------------------------------------------------------------------------------------------|-----------------------------------------------------------------------------------------------------------------------------------------------------------------------------|
| <ul style="list-style-type: none"> ◦ 청국은 조선의 완전한 독립을 인정한다. ◦ 랴오둥 반도 및 타이완, 평후 제도를 일본에 할양한다. ◦ 배상금 2억 냥을 일본에 지불한다. ◦ 사스, 충칭, 쑤저우, 항저우 4곳을 새로이 개항한다. | <ul style="list-style-type: none"> ◦ 한국에서 일본의 우월권을 승인한다. ◦ 청국 정부의 승인을 전제로 랴오둥 반도의 조차권과 창춘, 뤼순 간의 철도를 일본에 양도한다. ◦ 북위 50도 이상의 사할린을 일본에 할양한다. |

- ① 일본이 만주국을 수립하였다.
- ② 조선에서 갑신정변이 발생하였다.
- ③ 일본이 한국의 외교권을 박탈하였다.
- ④ 청에서 변법자강 운동이 전개되었다.
- ⑤ 베트남에서 근왕 운동이 시작되었다.

16. (가), (나) 민족 운동에 대한 설명으로 옳은 것을 <보기>에서 고른 것은?

(가) 나는 고종 황제 장례식을 보러 서울로 올라갔다가 만세 대열에 참가했다. 어떤 사람이 나에게 시골에 내려가서 만세 운동을 일으키라고 부탁하면서 독립 선언서를 내 손에 꼭 쥐어 주었다.
 (나) 파리 강화 회의의 결정에 따라 산둥에서 누리던 독일의 특권이 일본에 넘어갔다는 사실이 알려졌다. 이에 우리 학교 학생들은 칭다오의 반환, 친일 관료 3인의 파면 등을 요구하는 대규모 시위를 벌였다.

<보 기>
 ㄱ. (가) - 베트남 광복회 결성에 영향을 주었다.
 ㄴ. (가) - 대한민국 임시 정부가 수립되는 계기가 되었다.
 ㄷ. (나) - 일본의 21개조 요구 철폐를 주장하였다.
 ㄹ. (나) - 중국 공산당이 대장정을 시작하는 계기가 되었다.

- ① ㄱ, ㄴ ② ㄱ, ㄷ ③ ㄴ, ㄷ ④ ㄴ, ㄹ ⑤ ㄷ, ㄹ

17. (가), (나) 사건의 결과로 옳은 것은? [3점]



(가) 한국의 6월 민주 항쟁 (나) 타이완의 계엄령 해제 발표

- ① (가) - 10월 유신이 선포되었다.
 ② (가) - 대통령 직선제로 개헌되었다.
 ③ (나) - 55년 체제가 붕괴되었다.
 ④ (나) - 장제스의 국민당 정부가 수립되었다.
 ⑤ (가), (나) - 여야 간 평화적 정권 교체가 이루어졌다.

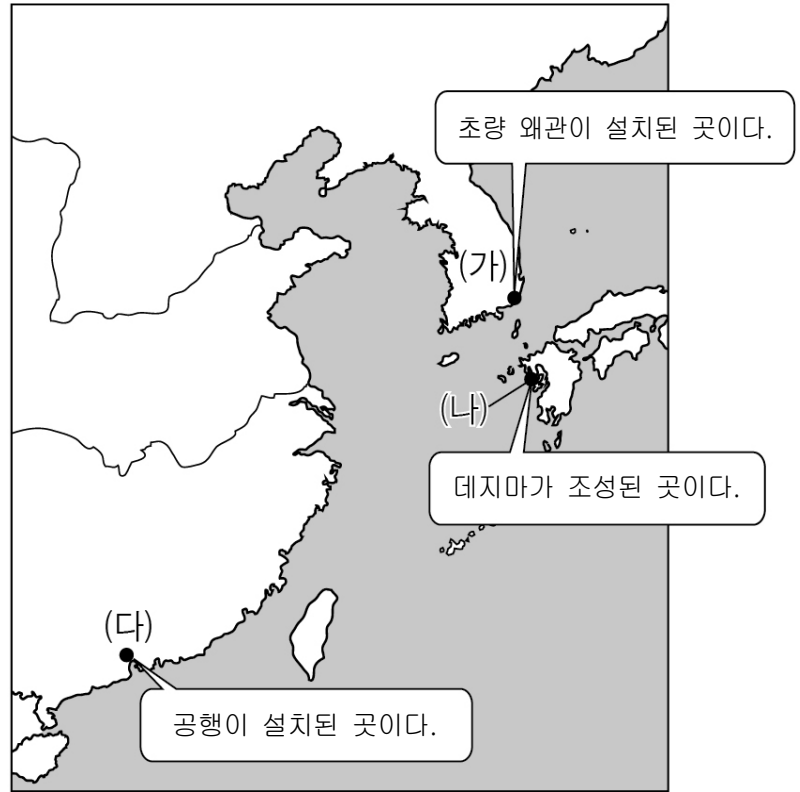
18. (가), (나) 전쟁이 전개되던 시기 동아시아의 상황으로 옳은 것을 <보기>에서 고른 것은? [3점]

(가) 한국군과 유엔군은 인천 상륙 작전으로 전세를 역전시켜 서울을 수복하고 38도선을 넘어 압록강 유역까지 북진하였다. 그러자 중국이 참전하면서 전쟁은 국제전의 양상을 띠었다.
 (나) 미국은 공산주의 세력의 확산을 막기 위해 통킹 만 사건을 조작하고 남베트남에 전투 부대를 파견함으로써 전쟁에 직접 개입하였다. 한국도 1965년부터 전투 부대를 파병하였다.

<보 기>
 ㄱ. (가) - 극동 국제 군사 재판이 열렸다.
 ㄴ. (가) - 일본과 타이완이 국교를 체결하였다.
 ㄷ. (나) - 베트남 민주 공화국이 수립되었다.
 ㄹ. (나) - 미국의 닉슨 대통령이 중국을 방문하였다.

- ① ㄱ, ㄴ ② ㄱ, ㄷ ③ ㄴ, ㄷ ④ ㄴ, ㄹ ⑤ ㄷ, ㄹ

19. (가) ~ (다) 도시에 대한 설명으로 옳은 것은? [3점]



- ① (가) - 강화도 조약으로 개항된 곳이다.
 ② (나) - 아주 화친회가 조직된 곳이다.
 ③ (나) - 일본 최초의 철도가 부설된 곳이다.
 ④ (다) - 경사대학당이 설립된 곳이다.
 ⑤ (다) - 영국인이 신보를 발행한 곳이다.

20. 밑줄 친 '이 전쟁'에 대한 설명으로 옳은 것은?

고니시 유키나가의 일본군이 부산포를 급습하면서 시작된 이 전쟁은 누르하치에게 기회가 되었다. 랴오둥 지역에 있던 명군 대부분이 조선으로 출병하면서 여진에 대한 명의 통제력은 약화될 수밖에 없었다. 이에 누르하치는 여러 부족을 통합하고 팔기제를 정비하여 후금을 건국하였다.

- ① 에도 막부 수립에 영향을 주었다.
 ② 삼번의 난이 일어나는 계기가 되었다.
 ③ 조선의 친명 배금 정책이 원인이었다.
 ④ 조선에서 북벌론이 대두되는 계기가 되었다.
 ⑤ 명과 조선의 국교가 단절되는 결과를 낳았다.

* 확인 사항
 ○ 답안지의 해당란에 필요한 내용을 정확히 기입(표기)했는지 확인 하시오.