



6. (가)에 들어갈 내용으로 가장 적절한 것은? [3점]

**【서술형 평가】**

2학년 △반 ○○○

◆ 문제

신라 말의 정치적·사회적 동요 양상을 3가지 서술하시오.

◆ 답란

1. 당에 유학했던 일부 6두품이 중심이 되어 새로운 정치 이념을 제시하며 골품제 사회를 비판하였다.

2. 농민들이 강압적인 수취로 인해 살기가 어려워져 노비로 전락하거나 봉기하였다.

3. (가)

- ① 전시과 제도가 무너졌다.
- ② 진골 귀족 간 왕위 쟁탈전이 치열해졌다.
- ③ 최충헌의 노비인 만적이 난을 계획하였다.
- ④ 정감록과 같은 비기와 도참설이 유행하였다.
- ⑤ 흥건적과 왜구의 침입으로 사회가 혼란하였다.

7. (가)에 들어갈 제목으로 가장 적절한 것은?

**■ 대표 유물 ■**

	
▲ 금동 미륵보살 반가 사유상	▲ 고류 사목조 미륵보살 반가 사유상
	
▲ 가야 토기	▲ 스에키

(가)

**기획전시관**

- ① 사대부의 예술 세계
- ② 고려 시대의 궁중 문화
- ③ 신라에 들어온 서역 문화
- ④ 통신사가 남긴 문화의 발자취
- ⑤ 고대 한반도 문화의 일본 전파

8. 밑줄 친 '이 국가'의 경제 상황으로 옳은 것은? [3점]

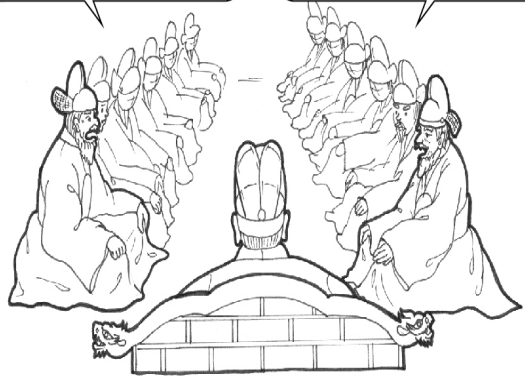
벽란도는 원래 예성항으로 불렸으나 그곳에 있던 벽란정의 이름을 따 벽란도라고 하였다. 이 국가의 건국과 함께 벽란도는 수도 개경의 관문으로 떠올랐다. 송을 비롯한 주변 나라와 아라비아의 상인들이 벽란도로 몰려옴으로써 국제 무역항으로 번창하였다.

- ① 공인이 등장하였다.
- ② 우경이 시작되었다.
- ③ 은병(활구)이 만들어졌다.
- ④ 선대제 수공업이 성행하였다.
- ⑤ 덕대가 민영 광산을 운영하였다.

9. 다음 논쟁이 벌어지게 된 배경으로 옳은 것은? [3점]

우리나라에게 명은 곧 부모요, 오랑캐는 부모의 원수입니다. 싸워서 명에 대한 의리와 명분을 지키고 정묘년에 당한 치욕을 씻어야 합니다.

우리 힘을 해아리지 않고 오랑캐의 노여움을 샀다가는 백성이 도탄에 빠지고 중요사직이 무너질 것입니다. 일단 화의하고 힘을 키워야 합니다.



- ① 거란이 발해를 멸망시켰다.
- ② 몽골이 공녀를 요구하였다.
- ③ 한 무제가 왕검성을 함락시켰다.
- ④ 수 양제가 평양성을 공격하였다.
- ⑤ 청이 조선에 군신 관계를 요구하였다.

10. 다음 정책을 실시한 목적으로 옳은 것은?

○ 태조는 귀순해 오는 지방 세력가에게 왕씨, 홍씨, 배씨, 복씨, 신씨 등의 성(姓)을 하사하였다. 그 예로 김순식에게는 왕씨 성과 함께 토지와 집을 주었다.

○ 태조는 지방 세력가의 딸을 왕비로 맞이하여 왕후가 6명, 부인이 23명에 이르렀다. 이들 중 27명은 즉위 후에 맞이하였고 출신지는 옛 신라·백제·고구려 지역에 걸쳐 있었다.

- ① 호족 세력 통합
- ② 문벌 귀족 견제
- ③ 신진 사대부 등용
- ④ 양반 중심의 지배 질서 확립
- ⑤ 권문세족의 경제적 기반 약화

11. (가)에 들어갈 사례로 옳은 것은?

**< 발해 문화의 다양성 >**

1. 고구려 전통의 계승
  - 상경성 궁궐터의 온돌 장치
  - (가)
2. 당의 문화 수용
  - 발해 삼채
  - 상경성의 주작대로
3. 서역과 교류
  - 발해 유적의 소그드 은화 및 경교 십자가

- ① 석굴암의 본존불
- ② 강서 대묘의 사신도
- ③ 상감 기법이 적용된 청자
- ④ 주심포 양식의 부석사 무량수전
- ⑤ 정혜 공주 묘의 모줄임천장 구조

12. 밑줄 친 '이 시기'의 상황으로 옳은 것을 <보기>에서 고른 것은? [3점]

역사대백과사전: ○○ 정치

[간략 정보] · 분야: 조선 시대사  
· 기간: 순조부터 철종까지 3대 60여 년간

정조의 죽음 이후 순조가 어린 나이로 즉위하자, 김조순이 그의 딸을 왕비로 들이는 데 성공하였고 안동 김씨 가문이 정권을 장악하였다. 그 뒤 현종 때에는 풍양 조씨 가문이, 철종 때에는 안동 김씨 가문이 번갈아 집권하였다. 이 시기에는 국가 기강이 해이해지면서 농민에 대한 수탈이 더욱 심해졌다.

<보 기>

- ㄱ. 삼정이 문란하였다.
- ㄴ. 외척이 비변사를 장악하였다.
- ㄷ. 신흥 무인 세력이 등장하였다.
- ㄹ. 원종과 애노가 난을 일으켰다.

- ① ㄱ, ㄴ    ② ㄱ, ㄷ    ③ ㄴ, ㄷ    ④ ㄴ, ㄹ    ⑤ ㄷ, ㄹ

13. 다음 지방 행정 구역이 마련되었던 국가에서 볼 수 있었던 모습으로 옳은 것은? [3점]



- ① 담로에 파견되는 왕족
- ② 5소경에 거주하는 귀족
- ③ 수령을 감독하는 관찰사
- ④ 사심관으로 임명되는 관리
- ⑤ 민정 문서를 작성하는 촌주

14. 다음 자료에 나타난 시기의 상황으로 옳은 것은?

이양(모내기)은 본래 그 금령이 지극히 엄한데, 근래 농민들이 농사를 게을리 하고 이익을 탐하여 광작을 하며, 그 형세가 매해 늘어 지금은 여러 도(道)에 두루 퍼져 있으니 모두 금하기 어렵다.

- ① 과전법이 실시되었다.
- ② 측우기가 발명되었다.
- ③ 진대법이 시행되었다.
- ④ 목화 재배가 시작되었다.
- ⑤ 담배 등 상품 작물이 재배되었다.

15. 교사의 질문에 대한 학생의 대답으로 가장 적절한 것은?

[3점]

**< 고려 후기의 역사서 >**

역사서	삼국유사	제왕운기
저자	일연	이승휴
특징	단군을 우리 민족의 시조로 기록	



- ① 이양선이 출몰하여 사회 불안이 높아졌어요.
- ② 4군과 6진의 개척으로 영토가 확장되었어요.
- ③ 몽골의 침략을 겪으며 자주 의식이 강조되었어요.
- ④ 김흠돌의 난을 계기로 귀족 세력이 위축되었어요.
- ⑤ 후고구려의 건국으로 중앙 정부의 권위가 약화되었어요.

16. 밑줄 친 '전쟁'의 영향으로 옳지 않은 것은?

**■ 선박 도감** 조선의 전함 판옥선




판옥선 (출처: 각선도본)

판옥선은 1555년에 맹선을 보완하여 개발된 전투용 함선이다. 1592 ~ 1598년에 벌어진 왜군과의 전쟁 당시, 이순신이 지휘한 옥포 해전을 포함하여 45번의 해전에서 조선 수군이 일본 전함 700여 척을 격파하는 데 중요한 역할을 하였다. 그 원동력은 공격과 무기 적재의 용이성, 우수한 좌우 선회 능력과 기동성, 선박 간 충돌 상황에 유리한 견고성 등에 있었다.

- ① 명의 국력이 약화되었다.
- ② 여진이 급속히 성장하였다.
- ③ 조선의 국가 재정이 궁핍해졌다.
- ④ 일본의 도자기 문화가 발전하였다.
- ⑤ 일본에서 전국 시대가 통일되었다.

17. 다음에서 설명하는 인물로 옳은 것은?

**■ 역사인물 카드**



- 생몰 연대: 617 ~ 686년
- 가족 관계
  - 아버지 담날나마
  - 아들 설총
- 주요 경력
  - 일심 사상을 바탕으로 화쟁 사상 주장
  - 나무아미타불만 외우면 누구나 극락에 갈 수 있다는 설법을 통해 불교 대중화에 기여
  - 대승기신론소, 심문화쟁론 등 저술

- ① 원효
- ② 의상
- ③ 의천
- ④ 지눌
- ⑤ 혜초

18. 밑줄 친 '임금'의 업적으로 옳은 것은?

임금께서 군포 부담을 1년에 1필로 줄이셨다며?

그렇다네. 부족분은 결작과 선무 군관포 등을 거두어 충당한다더군.

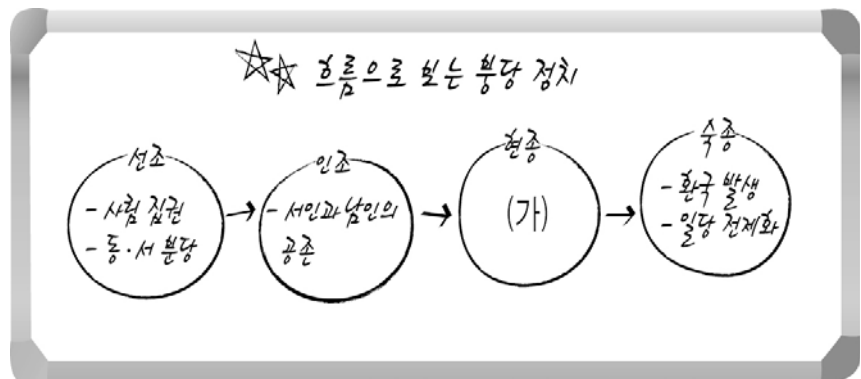
- ① 탕평책 시행
- ② 장용영 설치
- ③ 훈민정음 창제
- ④ 경국대전 완성
- ⑤ 노비안검법 실시

19. (가)에 들어갈 정치 기구로 옳은 것은?

(가)은/는 고려 시대에 주로 국방과 군사 문제를 논의하던 회의 기구였다. 성종 8년에 설치된 동서북면병마사의 판사제에서 비롯되었으며, 중서문하성의 재신과 중추원의 추밀로 구성되었다. 충렬왕 때 도평의사사로 바뀌었으며 그 기능과 역할이 확대되었다.

- ① 어사대
- ② 의정부
- ③ 홍문관
- ④ 도병마사
- ⑤ 화백 회의

20. (가)에 들어갈 내용으로 옳은 것은? [3점]



- ① 현량과 실시
- ② 예송 논쟁 발생
- ③ 서경 천도 추진
- ④ 독서삼품과 시행 논의
- ⑤ 최승로의 시무 28조 건의

\* 확인 사항  
○ 답안지의 해당란에 필요한 내용을 정확히 기입(표기)했는지 확인 하시오.