

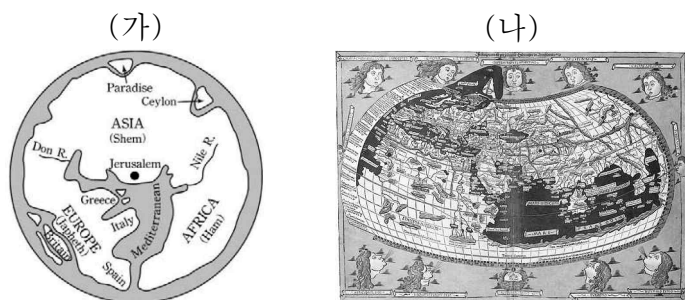
제 4 교시

사회탐구 영역(세계 지리)

성명

수험번호 3

1. (가), (나) 지도에 대한 설명으로 옳은 것은?



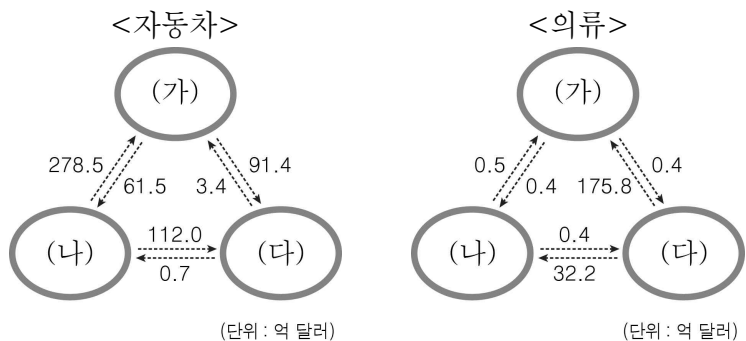
- ① (가)는 지도의 위쪽이 동쪽을 가리킨다.
- ② (가)에는 경선과 위선의 개념이 반영되어 있다.
- ③ (나)에는 아메리카 대륙이 표현되어 있다.
- ④ (나)는 항해에 이용하기 위해 제작되었다.
- ⑤ (가)는 이슬람교, (나)는 그리스도의 세계관이 반영되어 있다.

2. 다음 글의 밑줄 친 내용에 대한 답으로 가장 적절한 것은?

우리가 찾아간 ○○ 지역은 겨울 기온이 영하 60℃를 오르내리고, 여름이면 해가 지지 않는 백야의 땅이었다. 그곳에 사는 순록 유목민의 삶을 촬영하는 과정은 고난의 연속이었다. 작은 보트에 짐을 가득 싣고 물과 씨름하기도 하였고, 자동차 바퀴가 푹푹 빠지는 질푽한 길을 모기떼에 시달리기도 하며 이동하였다. 그런데 ○○ 지역은 강수량이 1년에 200 mm도 안 된다는데, 왜 그렇게 땅이 질푽거렸을까?

- ① 매일 대류성 강수가 내리기 때문이다.
- ② 라테라이트 토가 주로 분포하기 때문이다.
- ③ 집중 호우로 하천이 자주 범람하기 때문이다.
- ④ 영구 동토층 위의 활동층이 녹았기 때문이다.
- ⑤ 수목 밀도가 높아 토양의 수분 함유량이 많기 때문이다.

3. 다음 자료는 두 공업 제품의 무역액을 나타낸 것이다. (가)~(다) 국가로 옳은 것은? [3점]



- | | | | | | |
|------|-----|-----|------|-----|-----|
| (가) | (나) | (다) | (가) | (나) | (다) |
| ① 독일 | 미국 | 중국 | ② 독일 | 중국 | 미국 |
| ③ 미국 | 독일 | 중국 | ④ 미국 | 중국 | 독일 |
| ⑤ 중국 | 독일 | 미국 | | | |

4. 다음은 학생과 교사가 어떤 하천에 대해 스무고개를 하고 있는 장면이다. (가)에 들어갈 질문으로 옳은 것은? [3점]

단계	학생	교사
한 고개	하천 유역이 세계 4대 문명의 발상지에 속합니까?	예
두 고개	아프리카 대륙에 위치합니까?	아니요
세 고개	대체로 서쪽에서 동쪽으로 흐릅니까?	예
네 고개	댐 건설을 둘러싸고 국가 간 갈등이 나타나고 있습니까?	아니요
다섯 고개	(가)	예
⋮	⋮	⋮

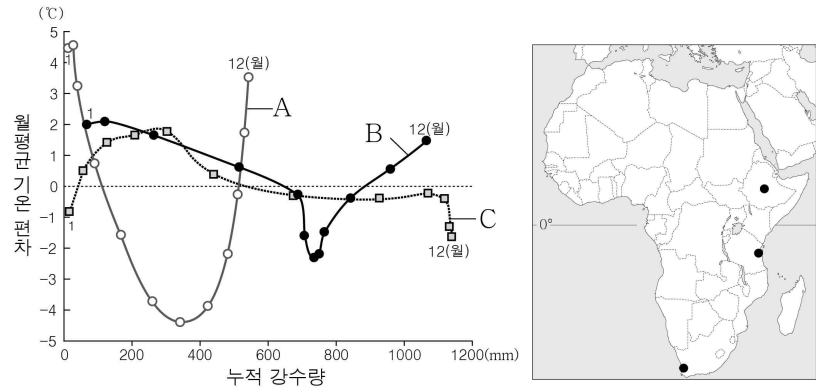
- ① 세계에서 유로가 가장 긴 하천입니까?
- ② 유역 내에 열대 기후 지역이 분포합니까?
- ③ 하구의 삼각주에서는 비의 2기작이 활발하게 이루어집니까?
- ④ 봄철에 하류보다 상류의 얼음이 일찍 녹아 범람이 빈번합니까?
- ⑤ 하류의 유량은 계절풍의 영향으로 겨울철보다 여름철에 많습니까?

5. 다음 영화의 배경이 되는 지역에서 신자 수 비중이 가장 높은 종교에 대한 설명으로 옳은 것은?

이 영화는 와즈다라는 10살 소녀의 이야기를 다룬 것이다. 와즈다는 이웃집 압둘라가 타고 다니는 자전거가 항상 부러웠는데 마침 단골 가게에 마음에 꼭 드는 자전거가 들어온다. 엄마에게 자전거를 사달라고 조르지만, 엄마는 “여자는 자전거를 타면 안 된다.”며 사주지 않는다. 그래서 와즈다는 학교에서 열리는 쿠란 퀴즈 대회에 참가하여 우승 상금으로 자전거를 사려고 하는데 ... (중략) ... 이 영화가 계기가 되어 와즈다가 살고 있는 지역의 여성들은 자전거를 탈 수 있게 되었다고 한다.

- ① 윤희 사상이 있으며 해탈을 중요시한다.
- ② 사원에 다양한 모습의 신들이 조각되어 있다.
- ③ 유럽 국가의 식민지 확대 과정에서 주로 전파되었다.
- ④ 불상과 사리가 봉안된 탑이 대표적인 종교 경관이다.
- ⑤ 신자들은 하루에 다섯 번씩 성지를 향해 예배를 드린다.

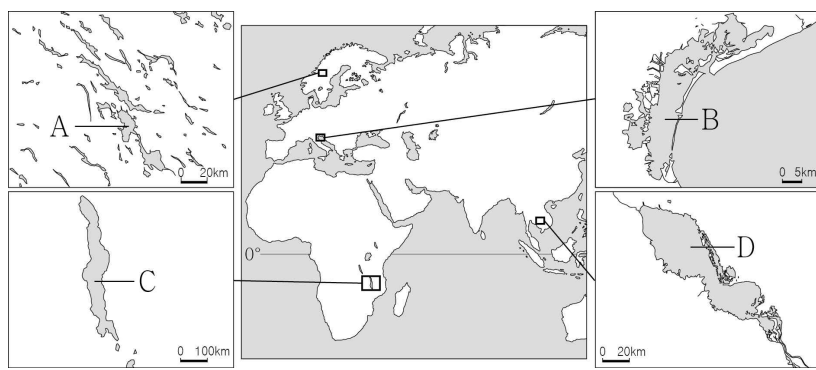
6. 그래프는 지도에 표시된 세 지역의 월평균 기온 편차와 누적 강수량을 나타낸 것이다. A~C 지역에 대한 설명으로 옳지 않은 것은? [3점]



* 월평균 기온 편차는 월평균 기온에서 연평균 기온을 뺀 값이며, 누적 강수량은 1월에서부터 해당 월까지의 강수량을 모두 더한 값임.

- ① A는 여름보다 겨울에 강수량이 많다.
- ② B는 6~8월에 아열대 고압대의 영향을 받는다.
- ③ C는 기온의 일교차가 연교차보다 크다.
- ④ B는 C보다 해발 고도가 높다.
- ⑤ A는 온대 기후, B는 열대 기후 지역에 속한다.

7. 지도의 A~D 호수에 대한 설명으로 옳은 것은? [3점]



- ① A는 범람원에 발달한 우각호이다.
- ② B는 빙하에 의해 침식된 후 물이 고여 형성되었다.
- ③ C는 지각이 갈라지는 과정에서 형성된 단층호이다.
- ④ A는 D보다 계절별 수심의 변동 폭이 크다.
- ⑤ C는 B보다 호수 물의 평균 염도가 높다.

8. 표의 (가)~(다) 국가에 대한 옳은 설명만을 <보기>에서 있는 대로 고른 것은? (단, (가)~(다)는 독일, 나이지리아, 사우디아라비아 중 하나임.)

<연령층별·성별 인구 비중> (단위: %)

구분	(가)		(나)		(다)	
	남성	여성	남성	여성	남성	여성
0~14세	22.5	21.5	14.6	14.0	6.6	6.3
15~64세	27.1	26.2	40.6	27.9	33.3	32.6
65세 이상	1.3	1.4	1.4	1.5	9.2	12.0

(2015)

< 보 기 >
 ㄱ. (가)는 (나)보다 청장년층 인구의 성비가 높다.
 ㄴ. (나)는 (다)보다 중위 연령이 낮다.
 ㄷ. (다)는 (가)보다 1인당 국내 총생산이 많다.
 ㄹ. (가)~(다) 중에서 총부양비는 (나)가 가장 높다.

- ① ㄱ, ㄴ ② ㄴ, ㄷ ③ ㄷ, ㄹ
- ④ ㄱ, ㄴ, ㄹ ⑤ ㄱ, ㄷ, ㄹ

9. 표는 (가)~(다) 환경 문제에 대한 것이다. 이에 대한 옳은 설명을 <보기>에서 고른 것은? (단, 사막화, 열대림 파괴, 오존층 파괴, 지구 온난화만 고려함.)

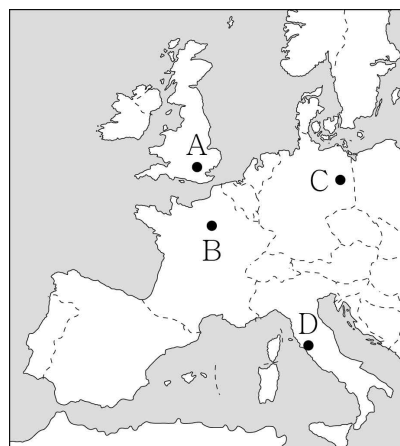
환경 문제	원인	영향
(가)	장기간의 가뭄, 과도한 방목 및 개간 등	토양 황폐화, 황사 현상 심화 등
(나)	무분별한 벌목, 농경지 및 목장 확대 등	산소 공급량 감소, 생물종 다양성 감소 등
(다)	화석 연료 사용 증가 등	①, 해수면 상승 등

< 보 기 >
 ㄱ. (가)는 스텝 기후 지역보다 열대 우림 기후 지역에서 발생 가능성이 높다.
 ㄴ. (나)를 해결하기 위해 국제 사회는 몬트리올 의정서를 체결하였다.
 ㄷ. (나)는 (다)를 심화시키는 요인 중 하나이다.
 ㄹ. ①에는 '빙하 면적 축소'가 들어갈 수 있다.

- ① ㄱ, ㄴ ② ㄱ, ㄷ ③ ㄴ, ㄷ
- ④ ㄴ, ㄹ ⑤ ㄷ, ㄹ

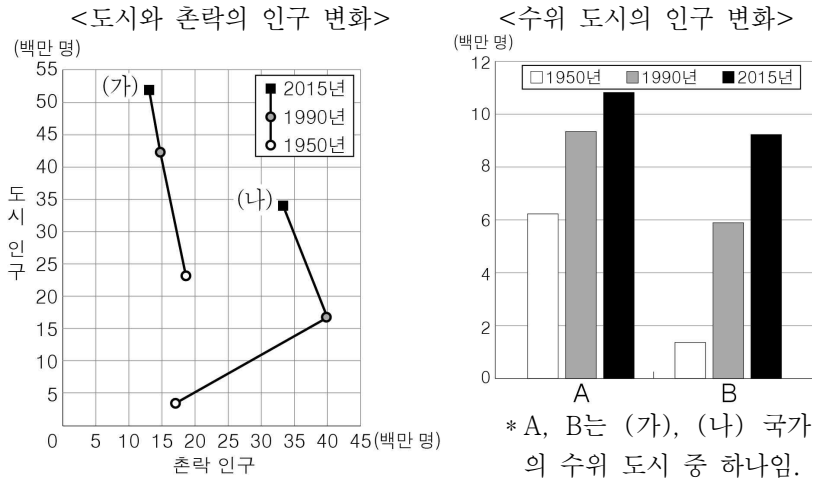
10. 다음 자료의 (가), (나) 도시를 지도의 A~D에서 고른 것은?

○ □(가)은/는 교통 및 통신 연계망이 잘 갖춰져 있고 500개 이상의 외국계 은행이 입지해 있어 미국의 뉴욕과 함께 세계 금융의 중심지로 불린다. 템스 강변에 위치한 캐나다 워프는 □(가)의 새로운 금융 중심지로 성장하고 있다.
 ○ 세계 문화·예술의 중심지로 불리는 □(나)에서는 무슬림 인구의 증가로 원거주민과 무슬림 간의 문화적 갈등이 빈번해지고 있다. 최근 □(나)에서는 테러가 발생하여 많은 관광객들이 찾는 에펠탑을 비롯한 박물관, 미술관 등이 잠시 폐쇄되기도 하였다.



- (가) (나)
 ① A B
 ② A D
 ③ C B
 ④ C D
 ⑤ D A

11. 그래프는 두 국가의 인구 변화를 나타낸 것이다. 이에 대한 설명으로 옳은 것은? [3점]

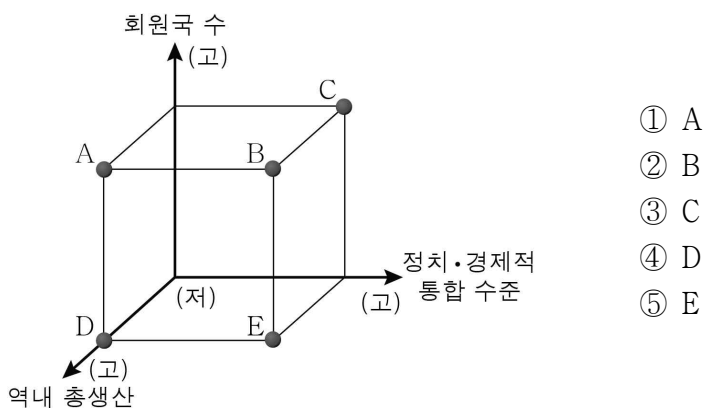


- ① (가)는 1950년에 도시화율이 50% 미만이다.
- ② (나)는 2015년 도시화의 종착 단계에 도달하였다.
- ③ (가)는 (나)보다 산업화가 시작된 시기가 이른다.
- ④ A는 (나), B는 (가)의 수위 도시이다.
- ⑤ A는 B보다 1950~1990년에 인구 증가율이 높다.

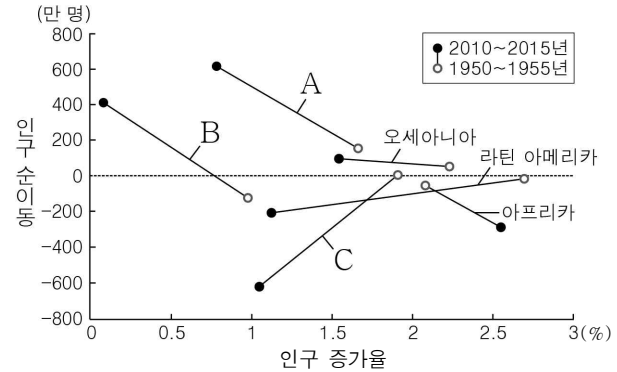
12. 다음 자료의 (가)와 비교한 (나)의 상대적인 특징을 그림의 A~E에서 고른 것은? (단, (가), (나)는 유럽 연합, 남아메리카 공동 시장 중 하나임.)

(가)은 역내 관세 장벽 철폐와 대외 공동 관세 부과 등을 목적으로 하는데, 최근 (가)의 회원국인 브라질과 우루과이는 자동차에 대한 자유 무역 협정을 체결했다.

마스트리흐트 조약에 의해 결성된 (나)을 영국이 탈퇴하기로 결정하면서 영국에 있는 다국적 기업들이 독일이나 프랑스로 이전하는 것을 고려하고 있다.



13. 그래프는 지역(대륙)별 인구 증가율과 인구 순이동을 나타낸 것이다. A~C 지역(대륙)으로 옳은 것은? [3점]



* 인구 순이동은 유입 인구에서 유출 인구를 뺀 값임.

- | | | | |
|---|----------|----------|----------|
| | A | B | C |
| ① | 유럽 | 아시아 | 앵글로아메리카 |
| ② | 유럽 | 앵글로아메리카 | 아시아 |
| ③ | 아시아 | 유럽 | 앵글로아메리카 |
| ④ | 앵글로아메리카 | 유럽 | 아시아 |
| ⑤ | 앵글로아메리카 | 아시아 | 유럽 |

14. 다음 자료의 (가) 국가에 대한 설명으로 옳은 것은? [3점]

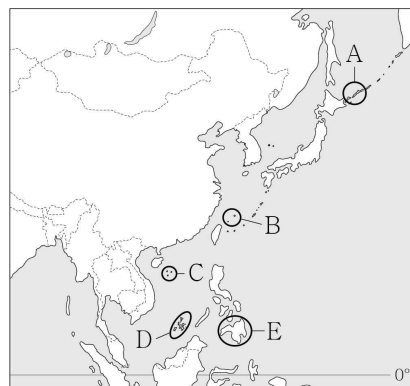
우리가 (가)의 쿠스코에 도착한 날에는 태양제를 위한 준비가 한창이었다. 태양제는 잉카인들이 그 해의 풍작을 태양신에게 기원하는 제사이다.

- ① 세계 최대의 구리 생산국이다.
- ② 포르투갈어를 공용어로 사용한다.
- ③ 북아메리카 자유 무역 협정 회원국이다.
- ④ 팜파스에서 상업적 목축업이 이루어진다.
- ⑤ 유럽계보다 원주민이 차지하는 인구 비중이 높다.

15. 다음 자료의 (가) 지역을 지도의 A~E에서 고른 것은?

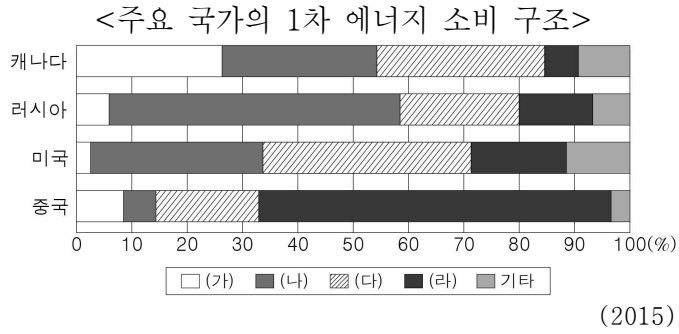
제○○호 □□신문 2016년 7월 △△일

상설중재재판소(PCJ)가 남중국해에 위치한 (가)에 대해 필리핀의 입장에 부합하는 판결을 내린 것에 대해 분쟁 당사국인 중국은 강력하게 반발하고 있다. 또한 (가)의 일부를 실효적으로 지배해 온 타이완도 반발하고 있다. 반면 분쟁 당사국인 필리핀과 베트남 등은 고무적인 분위기이다.



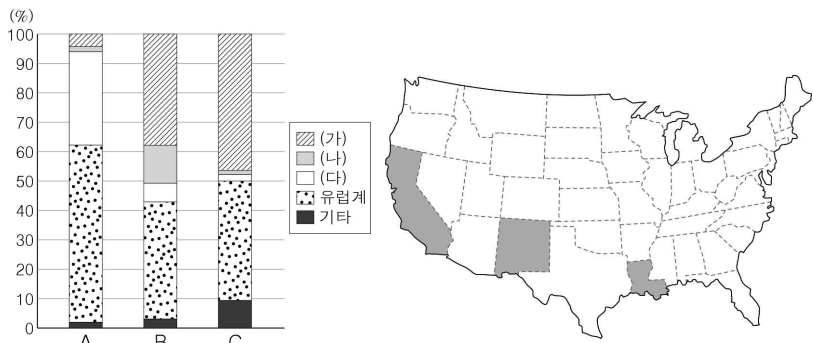
- ① A
- ② B
- ③ C
- ④ D
- ⑤ E

16. (가)~(라) 에너지에 대한 설명으로 옳은 것은? (단, (가)~(라)는 석유, 석탄, 수력, 천연가스 중 하나임.) [3점]



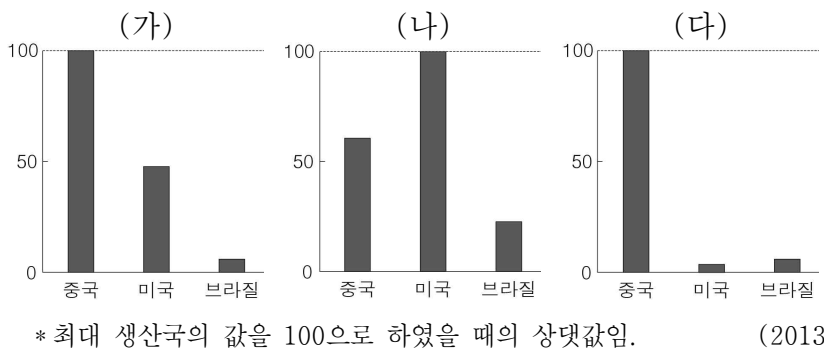
- ① (가)는 냉동 액화 기술의 발달로 소비량이 급증하였다.
- ② (라)는 산업용보다 수송용으로 이용되는 비중이 높다.
- ③ (가)는 (나)보다 세계 1차 에너지 소비 구조에서 차지하는 비중이 높다.
- ④ (나)는 (다)보다 연소 시 대기 오염 물질 배출량이 적다.
- ⑤ (다)는 (가)보다 재생 가능성이 높다.

17. 그래프의 A~C는 지도에 표시된 세 지역의 인종(민족) 비중을 나타낸 것이다. (가)~(다) 인종(민족)에 대한 설명으로 옳은 것은? (단, (가)~(다)는 아시아계, 히스패닉, 아프리카계 중 하나임.)



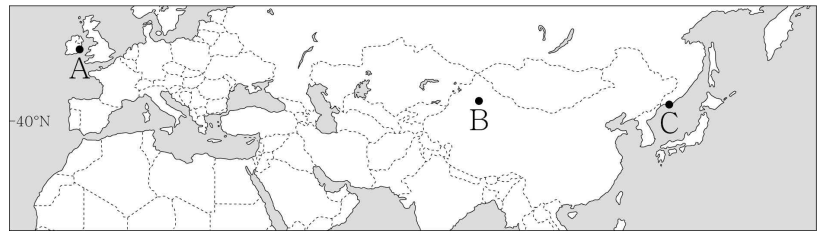
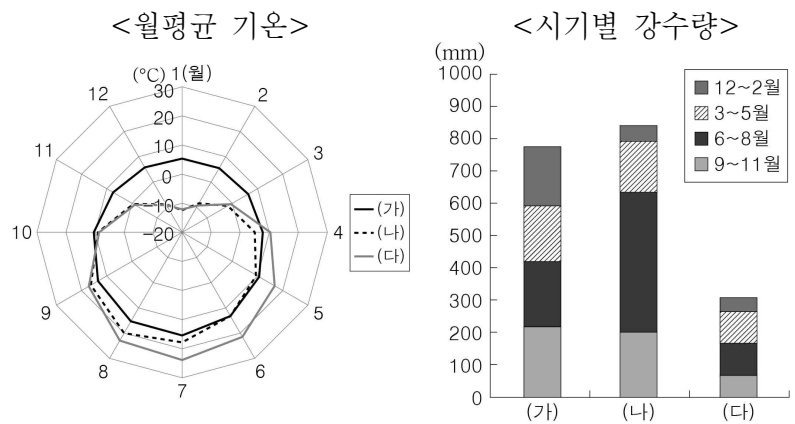
- ① (가)는 개신교보다 가톨릭교 신자 비중이 높다.
- ② (나)의 선조들은 대부분 노예로 강제 이주되었다.
- ③ (다)는 태평양 연안의 도시 지역에 집중 분포한다.
- ④ (가)는 (나)보다 미국 내에서 평균 소득이 높다.
- ⑤ (다)는 (가)보다 현재 미국 내에서 인구가 많다.

18. 그래프는 세 국가의 세계 3대 식량 작물 생산량을 나타낸 것이다. (가)~(다) 작물에 대한 설명으로 옳은 것은? [3점]



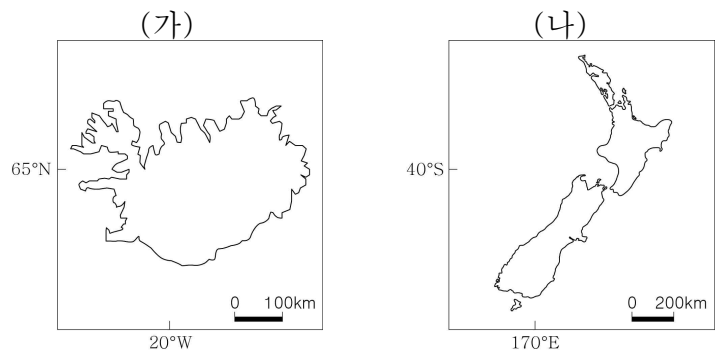
- ① (가)의 최대 수출국은 중국이다.
- ② (나)의 원산지는 서남아시아이다.
- ③ (나)는 (다)보다 바이오 에탄올의 원료로 사용되는 비중이 높다.
- ④ (다)는 (가)보다 내한·내건성이 커서 재배 범위가 넓다.
- ⑤ (가)~(다) 중 생산지에서 소비되는 비중은 (가)가 가장 높다.

19. (가)~(다) 지역을 지도의 A~C에서 고른 것은?



- | | | | | | | | |
|---|-----|-----|-----|---|-----|-----|-----|
| | (가) | (나) | (다) | | (가) | (나) | (다) |
| ① | A | B | C | ② | A | C | B |
| ③ | B | A | C | ④ | B | C | A |
| ⑤ | C | A | B | | | | |

20. (가), (나) 국가에 대한 옳은 설명만을 <보기>에서 있는 대로 고른 것은? [3점]



< 보기 >

ㄱ. (가)는 (나)보다 사용하는 표준시가 늦다.
 ㄴ. (나)는 (가)보다 1월의 낮 길이가 길다.
 ㄷ. (가), (나)는 모두 판의 경계에 위치한다.
 ㄹ. (가)는 무역풍, (나)는 편서풍의 영향을 주로 받는다.

- | | | |
|-----------|-----------|-----------|
| ① ㄱ, ㄹ | ② ㄴ, ㄷ | ③ ㄱ, ㄴ, ㄷ |
| ④ ㄱ, ㄷ, ㄹ | ⑤ ㄴ, ㄷ, ㄹ | |

※ 확인 사항
 ○ 답안지의 해당란에 필요한 내용을 정확히 기입(표기)했는지 확인하십시오.