


제 4 교시

사회탐구 영역(세계 지리)

성명 수험번호 3

1. 다음은 어느 국가에서 실시하고 있는 프로그램이다. 이 프로그램에 대한 설명으로 적절하지 않은 것은?

지역 사회 보존 프로그램



이 프로그램은 1996년에 시작되어 2007년 현재 50개 지역으로 확대되었다. 이 프로그램을 실시하는 지역의 총면적은 전국토의 약 14%에 이른다. 이 프로그램이 실시되는 지역에서는 사냥, 포획, 채집 등의 허가, 야영지 관리, 수공예품 판매 등에 대한 권한을 지역 사회가 가지고 있다. 지역 사회의 수익이 주민들에게 분배되기 때문에 주민들은 이 프로그램에 적극적으로 참여한다. 이전에는 주민들의 야생 동물 불법 사냥이 많았지만, 이 프로그램을 운영한 이후에는 주민들이 야생 동물을 적극적으로 보호하고 있다.

- ① 지속 가능한 발전을 추구한다.
- ② 지역의 독특한 특성을 활용한다.
- ③ 지역 주민에게 이익이 돌아간다.
- ④ 지역 사회의 전통을 유지하는 데 도움이 된다.
- ⑤ 대량 소비 중심의 관광 문화 정착에 기여한다.

2. 다음 글의 밑줄 친 ㉠~㉣에 대한 옳은 설명만을 <보기>에서 있는 대로 고른 것은? [3점]

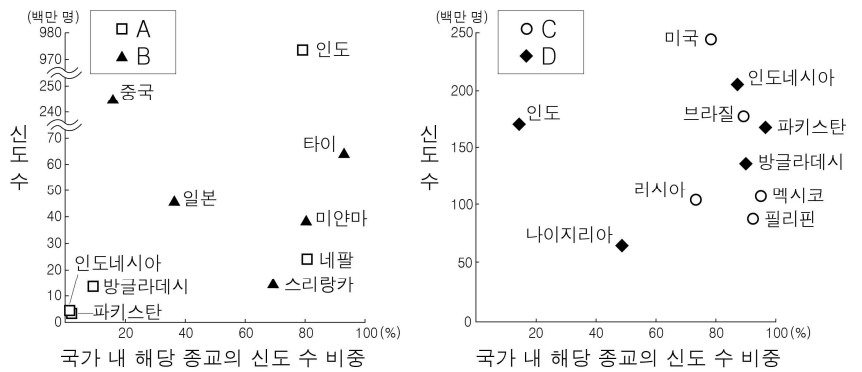
며칠을 걸은 끝에 도착한 라비그에서는 ㉠ 비가 내린 후 몇 개의 호수가 생겼다. 또다시 3일을 걸었는데, 그 중 반나절은 온통 ㉡ 모래뿐인 지역을 지나야 했다. 드디어 ㉢ 할리스 마을에 도착하여 연못가에서 휴식을 취하였다. 그 근처에는 우물이 하나 있었는데, 우물물이 ㉣ 인공 수로를 따라 대추야자 밭으로 흘러가고 있었다. ... (중략) ... 우리는 밤새 길을 걸어 아브라함이 살았고 무함마드가 계시를 받았던 메카에 도착했다.

- 『이븐 바투타 여행기』 -

- < 보 기 >
- ㄱ. ㉠ - 주민들은 호수의 물을 식수로 사용한다.
 - ㄴ. ㉡ - 바람의 퇴적 작용으로 형성된 사구가 있다.
 - ㄷ. ㉢ - 오아시스를 중심으로 형성된 마을이다.
 - ㄹ. ㉣ - 관개 농업이 이루어지고 있다.

- ① ㄱ, ㄴ ② ㄱ, ㄷ ③ ㄴ, ㄹ
- ④ ㄱ, ㄷ, ㄹ ⑤ ㄴ, ㄷ, ㄹ

3. 그래프의 A~D 종교에 대한 옳은 설명을 <보기>에서 고른 것은? [3점]



* 신도 수 상위 5개국을 나타냄. (2010)

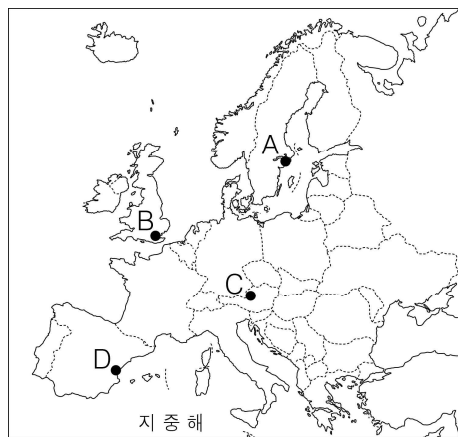
- < 보 기 >
- ㄱ. A는 세계에서 신도 수가 가장 많으며, 유일신을 신봉한다.
 - ㄴ. D의 신자들은 하루에 다섯 번씩 성지를 향해 예배를 한다.
 - ㄷ. A와 B는 남부 아시아, C와 D는 서남아시아에서 기원하였다.
 - ㄹ. A와 C는 민족 종교, B와 D는 보편 종교이다.

- ① ㄱ, ㄴ ② ㄱ, ㄷ ③ ㄴ, ㄷ ④ ㄴ, ㄹ ⑤ ㄷ, ㄹ

4. 다음 자료는 수행 평가 보고서이다. (가), (나)에 해당하는 지역을 지도의 A~D에서 고른 것은?

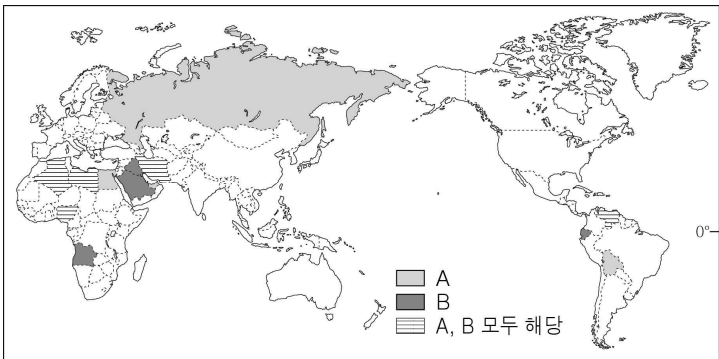
유럽의 주요 축제가 열리는 지역들

지역	특 징
(가)	이곳은 깨끗하고 평화로운 물의 도시로 알려져 있다. 하지 축제, 물 축제, 재즈 페스티벌 등 이곳의 축제는 낮 길이가 20여 시간에 달하는 여름에 주로 열린다. 겨울에 성탄절을 전후로 하여 열리는 세인트루시아 축제는 촛불 왕관을 쓴 빛의 여왕이 노래를 부르며 거리를 행진하는 것으로 유명하다.
(나)	이곳은 토마토의 주산지인 지역의 작은 도시로 8월이 되면 토마토 축제가 열린다. 이 축제는 토마토 가격 폭락에 흥분한 농민들이 향의 차원에서 토마토를 던진 것에서 유래하였다. 지금은 수많은 관광객들이 빨간색의 토마토를 서로 던지며 축제를 즐긴다.



- (가) (나)
- ① A C
- ② A D
- ③ B C
- ④ B D
- ⑤ C D

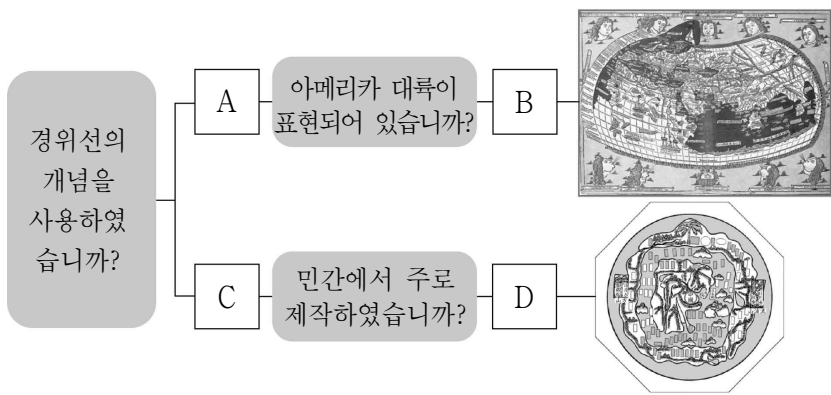
5. 지도는 A, B 에너지 수출국 기구의 회원국을 나타낸 것이다. A, B 에너지에 대한 설명으로 옳은 것은? [3점]



(2012)

- ① A는 세계 1차 에너지 소비 구조에서 가장 큰 비중을 차지한다.
- ② B는 제철 공업의 주 에너지원으로 이용된다.
- ③ A는 B보다 연소 시 오염 물질 배출량이 적다.
- ④ B는 A보다 상업적으로 이용되기 시작한 시기가 늦다.
- ⑤ A는 신생대, B는 고생대 지층에 주로 매장되어 있다.

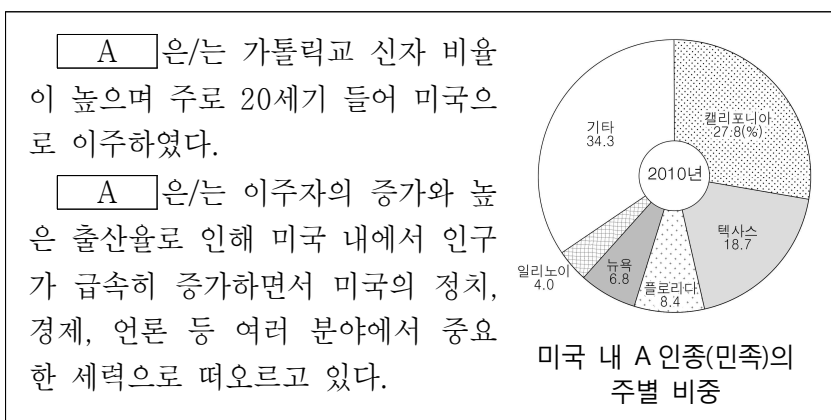
6. 다음 자료는 세계 지도의 사례를 찾는 과정이다. A~D에 들어갈 화살표로 옳은 것은?



* ⇒ 예, → 아니요

- | | A | B | C | D |
|---|---|---|---|---|
| ① | ⇒ | ⇒ | → | ⇒ |
| ② | ⇒ | → | → | ⇒ |
| ③ | ⇒ | ⇒ | → | → |
| ④ | → | ⇒ | ⇒ | → |
| ⑤ | → | → | ⇒ | → |

7. 다음 자료의 미국 내 A 인종(민족)에 대한 설명으로 옳은 것은?

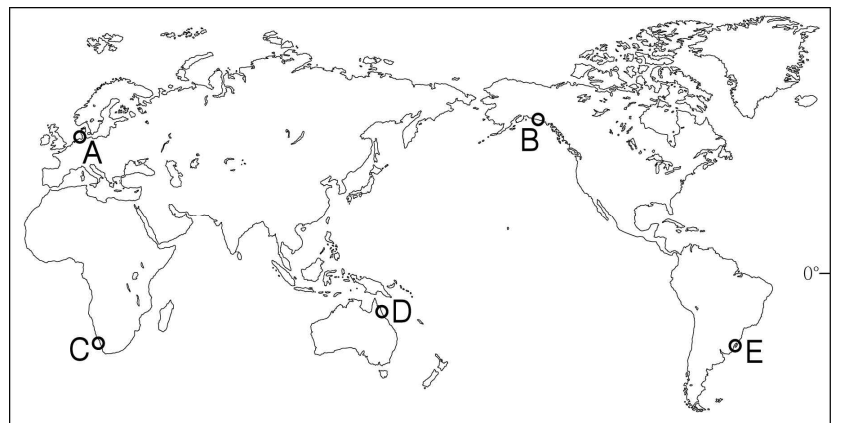


- ① 가정에서는 주로 에스파냐어를 사용한다.
- ② 내륙에 있는 보호 구역에 주로 거주하고 있다.
- ③ 미국 전체 인구에서 차지하는 비중이 가장 높다.
- ④ 동남부 지역의 농장 노동력으로 강제 이주당했다.
- ⑤ 아시아에서 이주하여 태평양 연안에 집중 분포한다.

8. 다음 자료의 밑줄 친 '이곳'의 위치를 지도의 A~E에서 고른 것은? [3점]

○○ 지역 관광 안내문

이곳은 조류의 퇴적 작용으로 형성된 지형이 넓게 발달해 있습니다. 과거 수십 년간 간척을 통해 이 지형이 많이 사라졌으나, 현재는 인접한 세 나라가 공동으로 이곳을 관리하면서 해양 생태계가 잘 보전되고 있습니다. 세계 자연 유산이기도 한 이곳에서 체험 활동을 할 때에는 각별한 주의가 필요합니다. 진흙 속에 파묻히거나, 밀물에 휩쓸릴 수 있기 때문입니다. 그래서 밀물과 썰물 시간을 반드시 확인해야 합니다. 또한 수많은 야생 동물의 생활 환경을 훼손하지 않도록 해야 합니다.



- ① A ② B ③ C ④ D ⑤ E

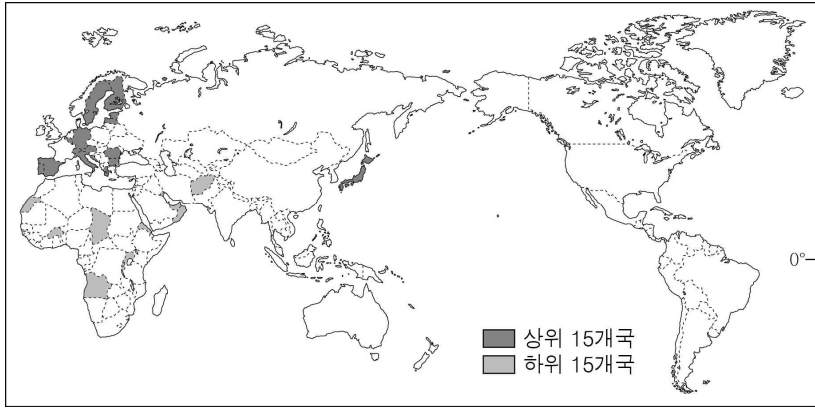
9. 다음 자료는 다큐멘터리 촬영 계획의 일부이다. A~E 지역에서의 촬영 주제로 적절하지 않은 것은?

- 프로그램 제목: 안데스 산지, 8,000 km를 가다
- 기획 의도: 세계 최장의 산맥, 이곳을 따라 여러 문명이 발생하고 사라졌다. 안데스와 그 주변의 독특한 자연환경과 인문 환경을 고품격 영상에 담는다.
- 지역별 촬영 주제

- A. 불을 뿜어내는 땅, 화산 주변에 사는 사람들
- B. 적도가 지나가는 곳, 그러나 영원한 봄의 도시
- C. 태양의 제국, 잉카의 후예들
- D. 생물 종 다양성의 보고, 셀바스
- E. 빙하가 만든 지형, 피오르

- ① A ② B ③ C ④ D ⑤ E

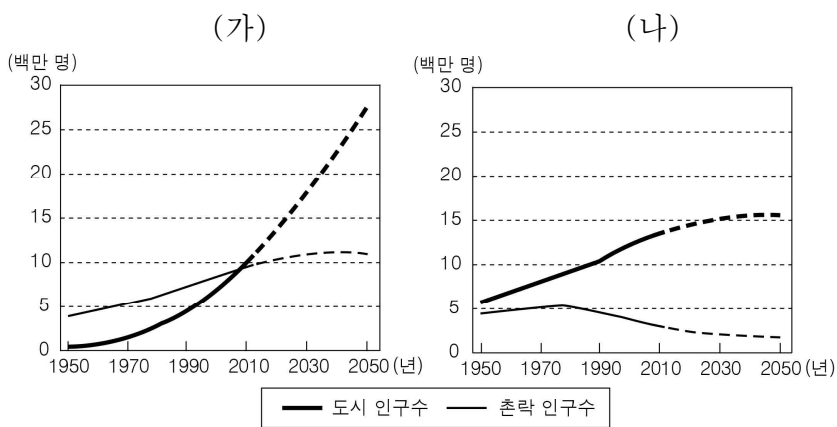
10. 지도는 어떤 지표를 기준으로 그린 것이다. 이 지표로 옳은 것은? [3점]



(2013)

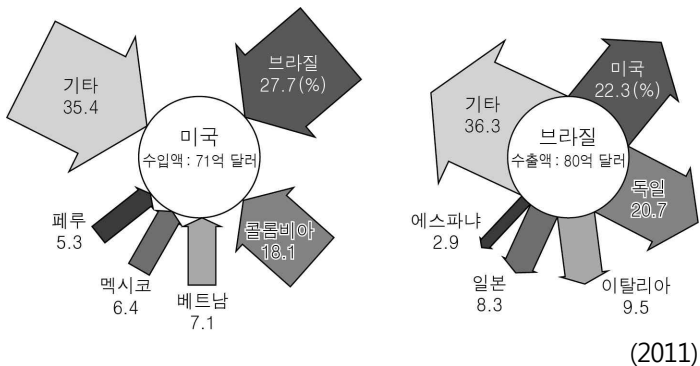
- ① 인구 밀도
- ② 국내 총생산
- ③ 합계 출산율
- ④ 노년 인구 비율
- ⑤ 1차 산업 종사자 비율

11. 그래프의 (가), (나) 국가에 대한 설명으로 옳은 것은?



- ① 1950년에 (가)는 도시화 초기, (나)는 도시화 종착 단계이다.
- ② 1970년에 (가)는 (나)보다 총인구가 많다.
- ③ 1990년에 (가)는 (나)보다 1차 산업 종사자 비율이 낮다.
- ④ 2010년 이후 (가)는 (나)보다 도시 인구 증가율이 높을 것이다.
- ⑤ 2050년에 (가)는 (나)보다 도시 인구 비율이 높을 것이다.

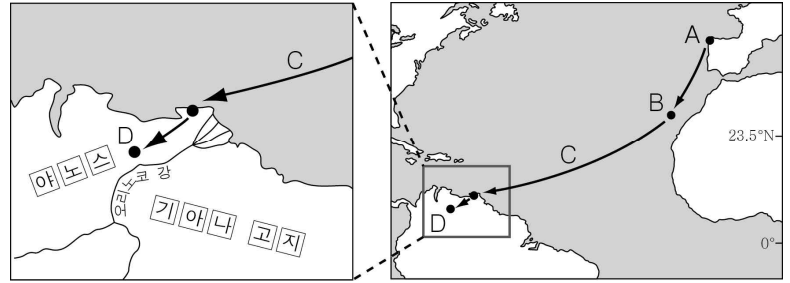
12. 그림은 어느 작물의 최대 수입국과 최대 수출국을 나타낸 것이다. 이 작물에 대한 설명으로 옳은 것은?



(2011)

- ① 주로 아시아인들이 주식으로 소비한다.
- ② 아메리카 대륙이 원산지로 초콜릿의 주원료이다.
- ③ 씨앗을 건조시킨 후 볶아서 음료를 만드는 데 사용된다.
- ④ 사료용 곡물로 최근 바이오 에탄올의 원료로 많이 사용된다.
- ⑤ 내한성·내건성이 커서 냉대 및 반건조 지역에서도 재배된다.

13. 지도는 훔볼트의 남아메리카 탐사 경로를 나타낸 것이다. A~D에 대한 옳은 설명을 <보기>에서 고른 것은? [3점]



< 보기 >

- ㄱ. A - 기온의 연교차가 큰 대륙성 기후가 나타난다.
- ㄴ. B - 편서풍의 영향으로 연중 강수량이 고르다.
- ㄷ. C - 아열대 고압대에서 적도 수렴대를 향해 무역풍이 분다.
- ㄹ. D - 연중 기온이 높고 강수의 계절 차가 크다.

- ① ㄱ, ㄴ ② ㄱ, ㄷ ③ ㄴ, ㄷ ④ ㄴ, ㄹ ⑤ ㄷ, ㄹ

14. 다음은 지리 수업 장면의 일부이다. 발표 내용이 옳은 학생을 고른 것은?

교사: 다음 자료의 A와 관련된 환경 변화에 대해 발표해 볼까요?

남태평양에 위치한 키리바시 공화국은 피지에 있는 약 2,000 km²의 토지를 877만 달러에 매입했다. 이는 국토 침수 위기국의 첫 해외 토지 매입 사례이다. 실제 키리바시의 일부 섬들은 완전히 바닷물에 잠겼다. **A** 현상에 따른 해수면 상승이 지속된다면 50년 안에 키리바시 국토 전체가 수몰될 것이라고 환경 전문가들은 예상하고 있다.

- ○○신문, 2014년 7월 2일 자 -

- 갑: 알래스카에서 영구 동토층이 확대됩니다.
- 을: 알프스 고산 지역에서 빙하가 확대됩니다.
- 병: 시베리아에서 경작 가능 지역이 확대됩니다.
- 정: 남태평양에서 산호초의 백화 현상이 심화됩니다.

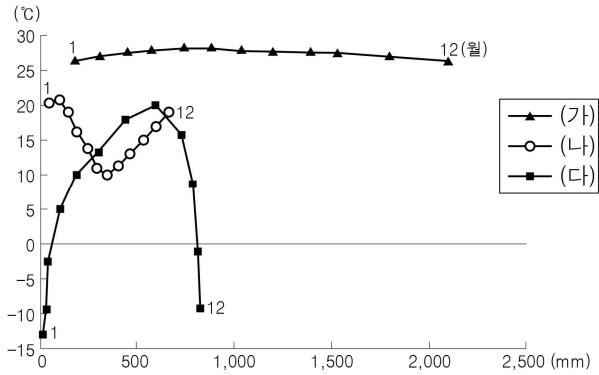
- ① 갑, 을 ② 갑, 병 ③ 을, 병 ④ 을, 정 ⑤ 병, 정

15. 다음 글은 아프리카로 자원 봉사를 다녀온 학생의 기행문 일부이다. ㉠~㉤에 대한 지리적 설명으로 옳지 않은 것은?

2014년 1월 케냐 나이로비(㉠ 남위 1°17', 동경 36°49')에 도착하였다. 나이로비에서 북동쪽으로 이동하여 적도를 지나서 ㉡ 소말리어를 사용하는 부족이 사는 ㉢○○ 마을에 이르렀다. ㉣ 건기라 풀은 메말라 있었지만 평화로운 분위기의 마을이었다. 이 부족민과의 면담을 통해 ㉤ 유목민이었던 소말리족이 오랜 가뭄으로 가축이 죽어 가자 이곳으로 옮겨 와 정착했음을 알게 되었다.

- ① ㉠ - 위치를 나타내는 공간 정보이다.
- ② ㉡ - 원경 탐사 기법을 사용하여 수집된 정보이다.
- ③ ㉢ - 북반구에 위치하고 있다.
- ④ ㉣ - 장소가 지닌 자연적 특성을 나타내는 속성 정보이다.
- ⑤ ㉤ - 현지 조사를 통해 수집된 정보이다.

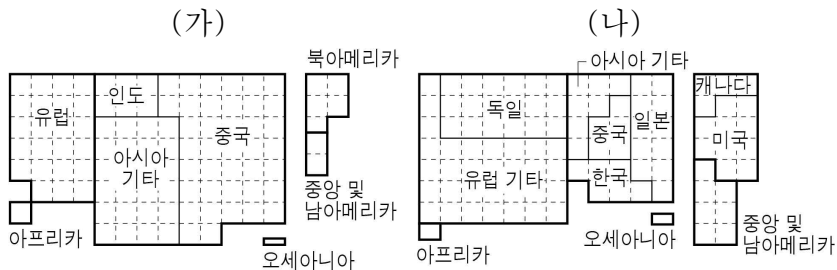
16. 그래프는 세 지역의 누적 강수량과 월평균 기온을 나타낸 것이다. (가)~(다) 지역에 대한 설명으로 옳은 것은? [3점]



* 누적 강수량은 1월에서 해당 월까지의 강수량을 모두 더한 값임.

- ① (가)는 (나)보다 고위도에 위치한다.
- ② (나)는 (다)보다 연 강수량이 많다.
- ③ (다)는 (나)보다 여름철 강수 집중률이 높다.
- ④ (가), (나)는 수목 기후, (다)는 무수목 기후가 나타난다.
- ⑤ 기온의 연교차는 (가) > (다) > (나) 순이다.

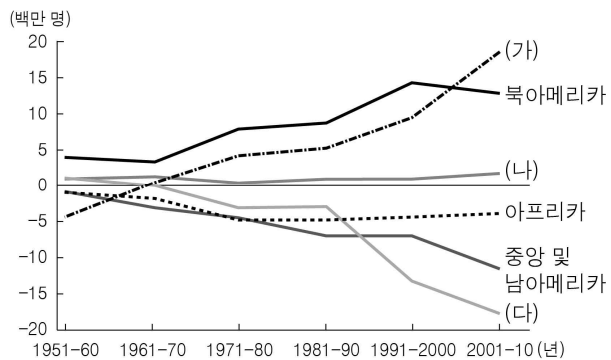
17. 그림은 두 공업 제품의 국가별 수출액 비중을 나타낸 것이다. (가), (나) 제품을 옳게 고른 것은? [3점]



* 방안 한 칸은 1%, 굵은 선은 대륙 경계를 의미함. (2013)

- | | | | |
|-------|-----|------|-----|
| (가) | (나) | (가) | (나) |
| ① 섬유 | 조선 | ② 섬유 | 자동차 |
| ③ 조선 | 섬유 | ④ 조선 | 자동차 |
| ⑤ 자동차 | 섬유 | | |

18. 그래프는 대륙별 인구 순 이동 변화를 시기별로 나타낸 것이다. (가)~(다)에 해당하는 대륙으로 옳은 것은? [3점]

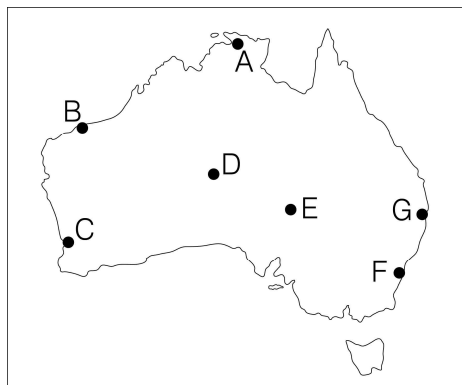


* 인구 순 이동은 유입 인구에서 유출 인구를 뺀 값임.

- | | | |
|---------|-------|-------|
| (가) | (나) | (다) |
| ① 유럽 | 아시아 | 오세아니아 |
| ② 유럽 | 오세아니아 | 아시아 |
| ③ 아시아 | 유럽 | 오세아니아 |
| ④ 아시아 | 오세아니아 | 유럽 |
| ⑤ 오세아니아 | 유럽 | 아시아 |

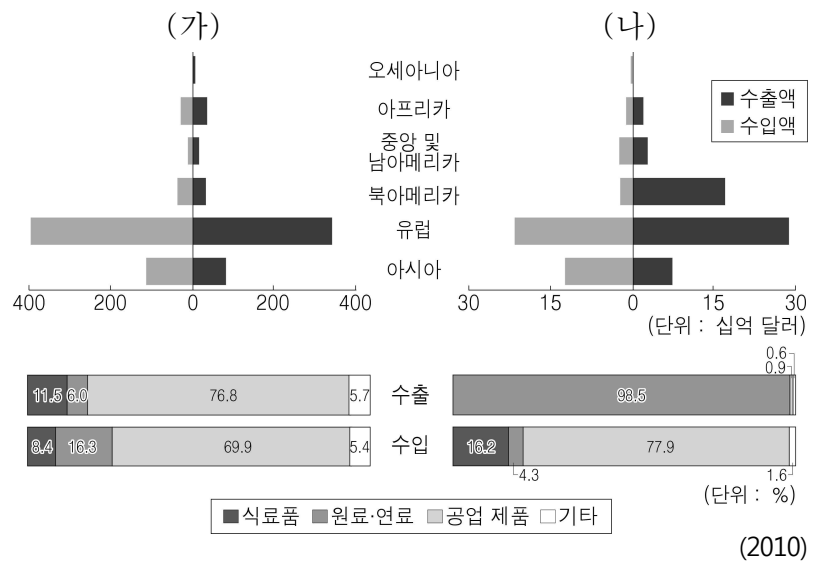
19. 다음은 여행기의 일부이다. (가)~(다)에 해당하는 지역을 지도의 A~G에서 고른 것은?

- (가) 다양한 조류와 어류, 악어, 맹그로브 등의 야생 동식물을 직접 관찰할 수 있는 카카두 국립 공원을 비롯하여 여러 동식물 공원과 자연 보호 구역이 있었다.
- (나) 주변에 펼쳐진 모래 평원과 대조를 이루는 세계 최대 크기의 바위가 시각과 날씨에 따라 색깔이 변하면서 장관을 이루었다.
- (다) 포도를 중심으로 한 수목 농업이 활발하고 와인 생산 시설이 대규모로 발달해 있었다. 인도양 해변과 스완 강에서는 크루즈 여행을 즐길 수 있었다.



- | | | | |
|---|-----|-----|-----|
| | (가) | (나) | (다) |
| ① | A | D | C |
| ② | A | E | F |
| ③ | B | D | F |
| ④ | B | E | G |
| ⑤ | G | E | C |

20. 그래프는 (가), (나) 국가의 무역 구조를 나타낸 것이다. 이에 대한 설명으로 옳지 않은 것은? [3점]



- ① (가)는 유럽과의 무역액이 총무역액의 50% 이상이다.
- ② (나)는 원료·연료 중심의 수출이 이루어진다.
- ③ (가)는 (나)보다 아시아로의 수출액이 많다.
- ④ (가)는 (나)보다 공업 제품의 수입액이 적다.
- ⑤ (가)는 무역 수지 적자국, (나)는 무역 수지 흑자국이다.

※ 확인 사항

○ 답안지의 해당란에 필요한 내용을 정확히 기입(표기)했는지 확인하십시오.