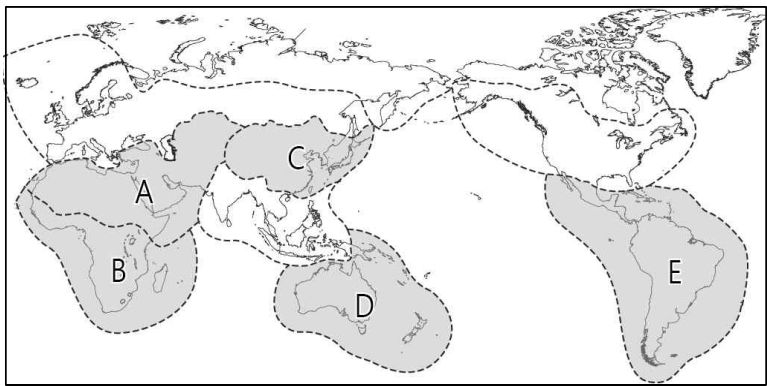


제 4 교시

사회탐구 영역 (세계지리)

1. (가)~(다) 모두의 탐구 주제와 관계 깊은 문화권을 지도의 A~E에서 고른 것은?

- (가) 모둠: 돼지고기를 금기시하는 종교적 전통
- (나) 모둠: 원주민과 이주민 간의 높은 혼혈 비율
- (다) 모둠: 젓가락을 이용하는 음식 문화가 나타나는 이유



- | | | | | | | | |
|---|-----|-----|-----|---|-----|-----|-----|
| | (가) | (나) | (다) | | (가) | (나) | (다) |
| ① | A | B | C | ② | A | E | C |
| ③ | B | C | A | ④ | B | D | C |
| ⑤ | C | B | E | | | | |

2. 세계 지리 협동학습 보고서의 일부이다. 주제에 적합한 자료를 준비한 학생만을 있는 대로 고른 것은?

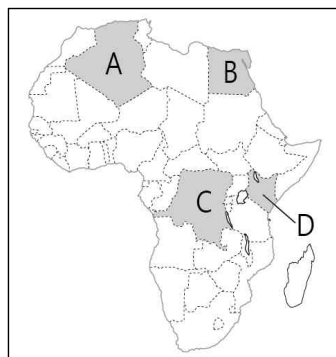
주제 : 한류에 의해 형성된 사막과 주민 생활

<p>갑</p> <p>분포 지역</p>	<p>을</p> <p>주요 지형</p>
<p>병</p> <p>기후 특성</p>	<p>정</p> <p>주민 생활</p> <p>"물 부족 문제를 안개로 해결" <안개 속 수증기 모아 식수로></p>

- | | | |
|-----------|-----------|--------|
| ① 갑, 병 | ② 을, 병 | ③ 을, 정 |
| ④ 갑, 병, 정 | ⑤ 을, 병, 정 | |

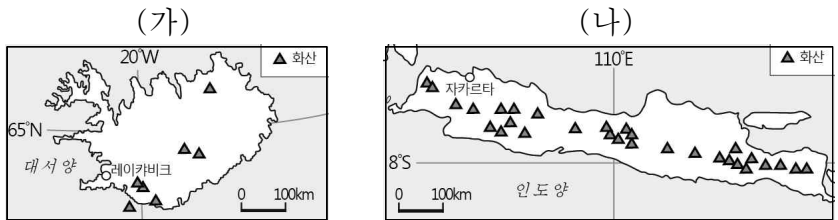
3. 자료의 (가), (나)에 해당하는 국가를 지도의 A~D에서 고른 것은?

- (가) 피라미드와 �핑크스 등 고대 문화 유적을 탐방하거나 사막에서 텐트를 치고 야영하는 체험 중심의 관광 상품이 최근에 인기가 높다.
- (나) 마사이 족의 전통 문화 체험과 드넓은 초원에서 다양한 야생 동물들을 볼 수 있는 사파리 관광 등 지속 가능한 관광이 증가하고 있다.



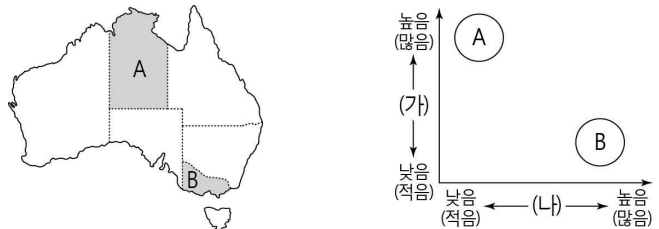
- | | | |
|---|-----|-----|
| | (가) | (나) |
| ① | A | B |
| ② | B | C |
| ③ | B | D |
| ④ | C | A |
| ⑤ | C | D |

4. (가), (나) 지역에 대한 설명으로 옳은 것은? [3점]



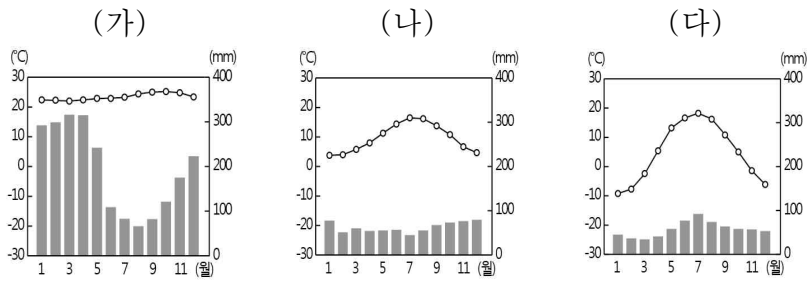
- ① (가)는 지각이 충돌하는 경계에 위치한다.
- ② (나)의 화산 분출은 두 해양판의 충돌로 발생한다.
- ③ (가)는 (나)보다 난방을 위한 지열의 활용도가 낮다.
- ④ (가)는 (나)보다 우리나라와의 시차가 작게 난다.
- ⑤ (나)는 (가)보다 화산회토를 이용한 농업이 발달하였다.

5. 지도에 표시된 A, B 지역의 상대적 특징을 비교할 때, 그래프의 (가), (나) 항목으로 옳은 것은? [3점]



- | | |
|-------------|-----------|
| (가) | (나) |
| ① 원주민 거주비율 | 양 사육 두수 |
| ② 인구 밀도 | 지역 내 총생산액 |
| ③ 인구 밀도 | 양 사육 두수 |
| ④ 지역 내 총생산액 | 원주민 거주비율 |
| ⑤ 양 사육 두수 | 지역 내 총생산액 |

6. (가)~(다) 기후 그래프와 관계 깊은 지역을 A~C에서 고른 것은?

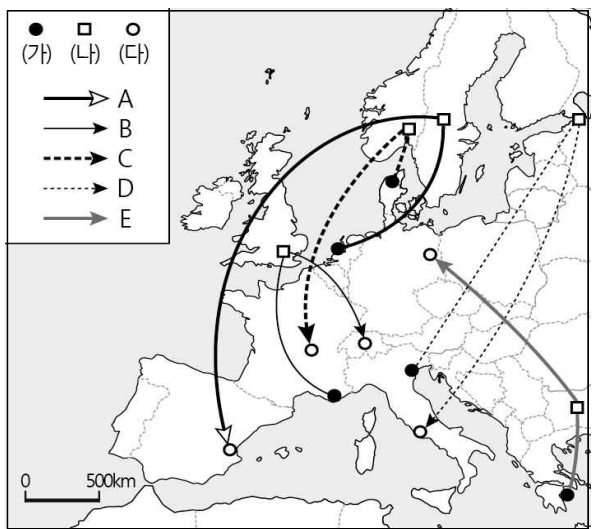


지역	주민 생활 및 경관
A	전통 가옥은 지붕의 경사가 급하며, 습기를 방지하고 해충 피해를 막기 위해 가옥 바닥이 지면과 떨어져 있다. 
B	편서풍과 난류의 영향으로 습도가 일정하게 유지되어 목초지 조성에 유리하며, 혼합농업과 낙농업이 발달하였다. 
C	침엽수가 단순림을 이루어 경제성이 높고, 목질이 연하여 목재, 펄프, 제지 등의 산업이 발달하였다. 

- | | | | | | |
|-----|-----|-----|-----|-----|-----|
| (가) | (나) | (다) | (가) | (나) | (다) |
| ① A | B | C | ② A | C | B |
| ③ B | A | C | ④ C | A | B |
| ⑤ C | B | A | | | |

7. (가)~(다) 지역을 순서대로 여행한 경로로 옳은 것은?

- (가) 해안을 따라 펼쳐져 있는 튜립 농장과 풍차가 어우러진 축제의 현장은 한 폭의 수채화 같다.
- (나) 하루에 낮이 20시간 정도 지속되는 6월 하순경이면 여름 햇빛을 축하하는 하지 축제가 열린다.
- (다) 여름철 풍부한 일조량으로 과일 생산이 많고 8월이 되면 토마토를 서로에게 던지면서 즐기는 축제가 열린다.



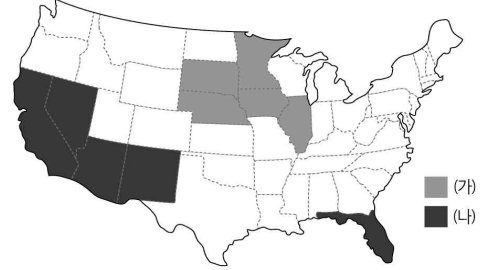
- ① A ② B ③ C ④ D ⑤ E

8. 신재생 에너지 (가), (나)에 대한 옳은 설명을 <보기>에서 고른 것은? [3점]

생산량 상위 5개국 (2012)

	(가)	(나)
1	미국	에스파냐
2	브라질	미국
3	중국	알제리
4	프랑스	이집트
5	독일	모로코

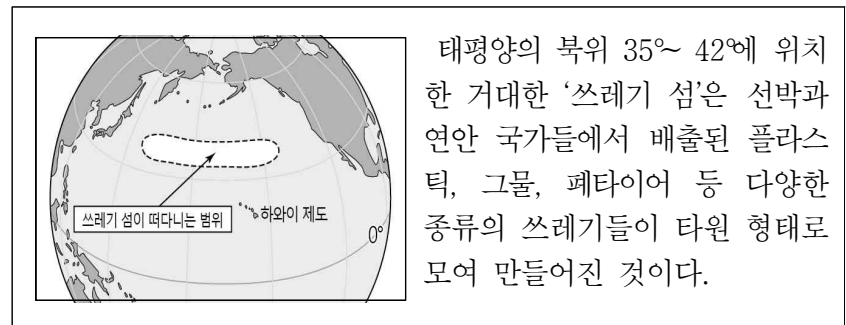
미국 내 생산량 상위 5개주



<보 기>

- ㄱ. (가) 생산 시설의 입지는 기후적 제약이 크다.
 - ㄴ. (가)는 원료 산지에서 생산 비중이 높게 나타난다.
 - ㄷ. (나)는 일조량이 많을수록 에너지 생산에 유리하다.
 - ㄹ. (나)는 (가)에 비해 에너지원의 고갈 위험이 높다.
- ① ㄱ, ㄴ ② ㄱ, ㄷ ③ ㄴ, ㄷ ④ ㄴ, ㄹ ⑤ ㄷ, ㄹ

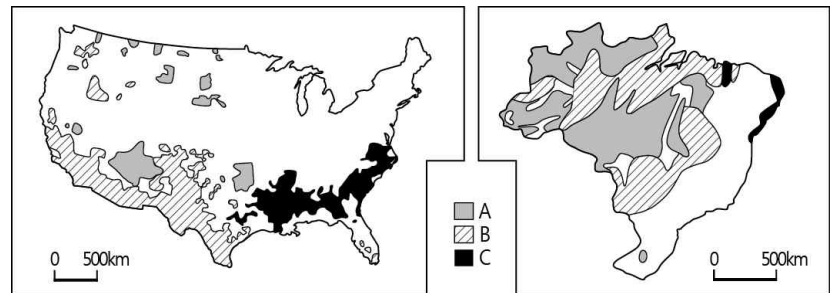
9. 자료와 같은 환경 문제가 나타나게 된 배경으로 적절한 것을 <보기>에서 고른 것은? [3점]



<보 기>

- ㄱ. 편서풍과 무역풍이 부는 방향
 - ㄴ. 엘니뇨현상으로 인한 해수 온도의 상승
 - ㄷ. 북태평양 지역에 나타나는 해류의 순환
 - ㄹ. 열대 이동성 저기압이 발생하는 빈도의 증가
- ① ㄱ, ㄴ ② ㄱ, ㄷ ③ ㄴ, ㄷ ④ ㄴ, ㄹ ⑤ ㄷ, ㄹ

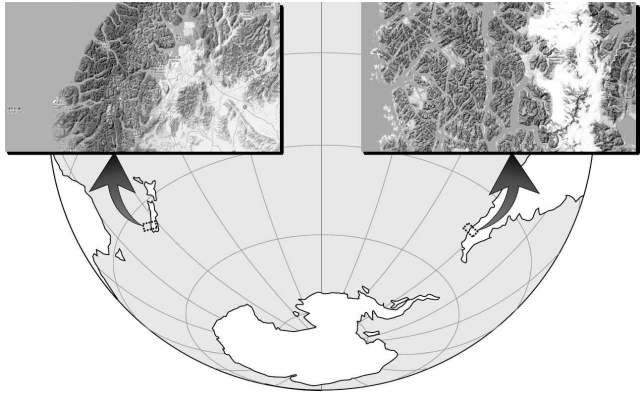
10. 지도는 미국과 브라질의 인종(민족) 분포를 나타낸 것이다. A~C 인종(민족)에 대한 설명으로 옳지 않은 것은? [3점]



* 미국에서 B는 백인을 제외함.

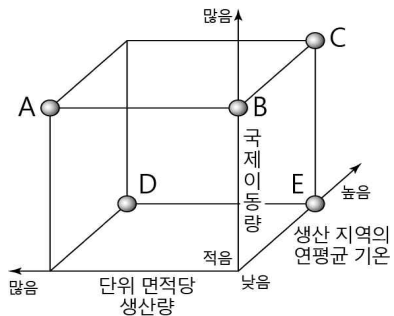
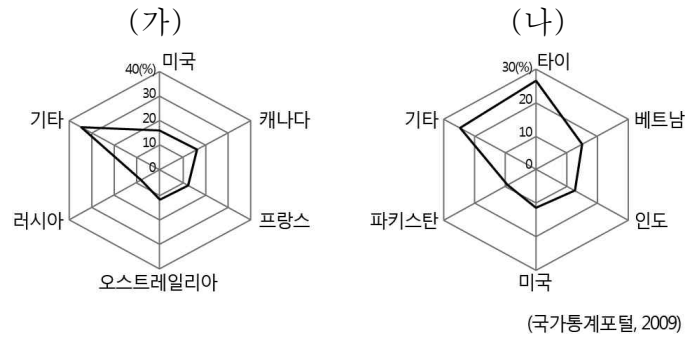
- ① A는 유럽인의 진출 과정에서 거주 지역이 축소되었다.
- ② B는 에스파냐어를 공통적으로 사용하는 혼혈인이다.
- ③ C는 과거 플랜테이션을 위한 노동력으로 강제 이주되었다.
- ④ A는 C보다 아메리카에서의 거주 역사가 길다.
- ⑤ B는 C보다 미국 내에서 인구 증가율이 높다.

11. 지도의 두 해안에서 나타나는 공통적인 특징으로 옳은 것은?



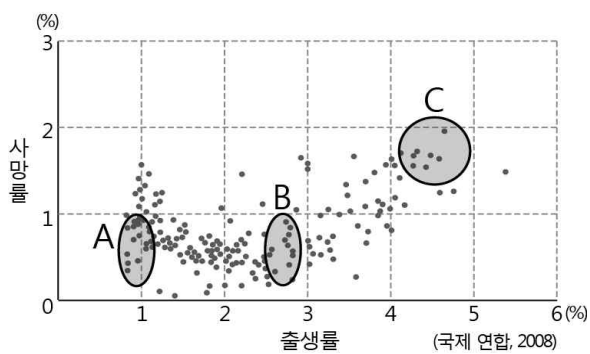
- ① 산호층의 석회질 유해가 쌓여 산호초가 나타난다.
- ② 빙식곡이 침수되어 수심이 깊은 협만이 나타난다.
- ③ 하천의 침식을 받은 골짜기가 침수되어 형성되었다.
- ④ 맹그로브가 넓게 서식하여 해일 발생 시 피해가 적다.
- ⑤ 조차가 크고 해안선이 복잡하여 갯벌이 넓게 분포한다.

12. 그래프는 주요 식량 작물의 수출 비중 상위 5개국을 나타낸 것이다. (가)와 비교한 (나)의 상대적 특징을 그래프에서 고른 것은?



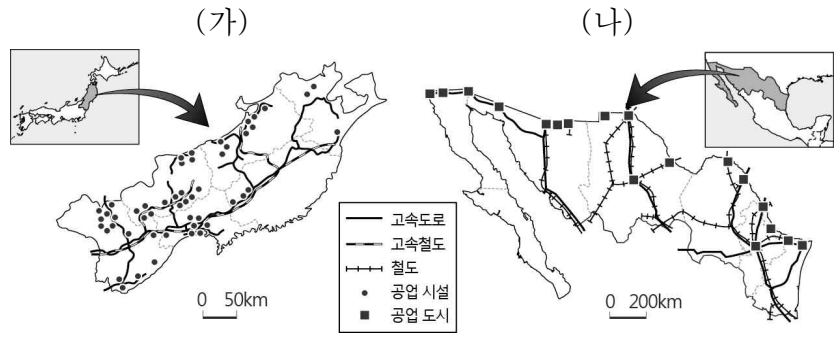
- ① A
- ② B
- ③ C
- ④ D
- ⑤ E

13. 그래프는 국가별 출생률과 사망률을 나타낸 것이다. A~C 국가군에 대해 추론한 내용으로 적절한 것은?



- ① A의 인구 구조는 피라미드형일 것이다.
- ② B는 인구 감소로 출산 장려 정책이 필요할 것이다.
- ③ C는 인구 고령화로 정년 연장 정책을 시행할 것이다.
- ④ A는 B보다 청소년층의 인구 비율이 더 낮을 것이다.
- ⑤ A는 C보다 인구의 자연 증가율이 높을 것이다.

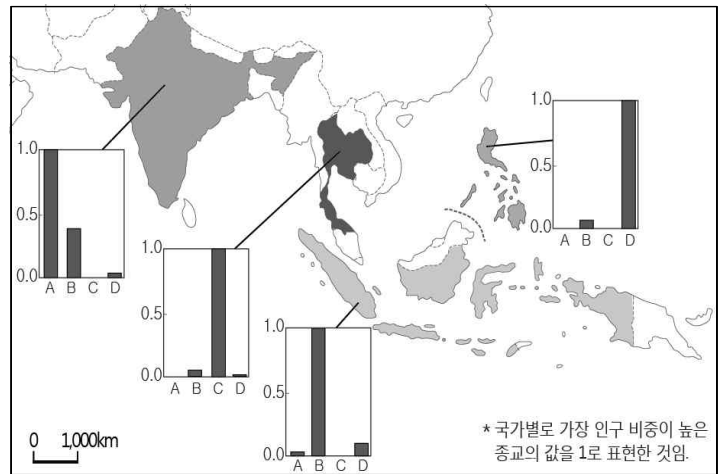
14. (가), (나) 공업 지역에 대한 옳은 설명을 <보기>에서 고른 것은? [3점]



<보 기>
 ㄱ. (가)는 (나)보다 교역국과의 인접성이 중요하다.
 ㄴ. (가)는 (나)보다 주요 생산품의 부가가치가 크다.
 ㄷ. (나)는 (가)보다 외국 기업의 직접 투자가 활발하다.
 ㄹ. (나)는 (가)보다 우수한 연구 인력 확보가 중요하다.

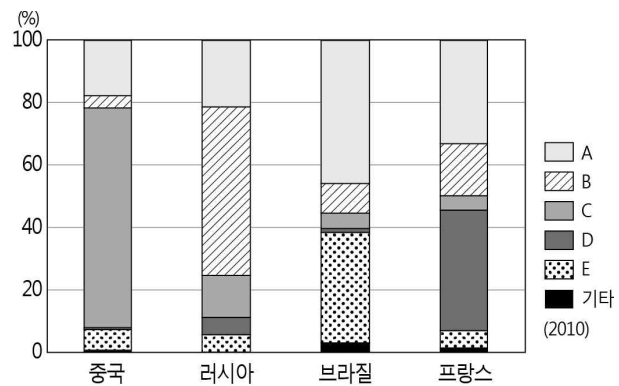
- ① ㄱ, ㄴ ② ㄱ, ㄷ ③ ㄴ, ㄷ ④ ㄴ, ㄹ ⑤ ㄷ, ㄹ

15. 지도는 동남 및 남부 아시아 국가의 종교별 인구 비중을 나타낸 것이다. A~D 종교에 대한 설명으로 옳은 것은?



- ① A의 대표적인 경관으로는 돔 형태의 모스크가 있다.
- ② B는 성지 순례 및 금식 절기의 의무를 지켜야 한다.
- ③ C는 유일신 신앙으로 선민의식을 가지고 있다.
- ④ D는 강변에서 몸을 씻거나 화장(火葬)하는 의식이 있다.
- ⑤ A는 보편 종교이고 B, C, D는 민족 종교이다.

16. 그래프는 국가별 1차 에너지 소비 비중을 나타낸 것이다. A~E 에너지 자원에 대한 설명으로 옳은 것은? [3점]



- ① A- 고기 습곡 산지에 주로 매장되어 있다.
- ② B- 세계 에너지 소비에서 차지하는 비중이 가장 높다.
- ③ C- 발전 단가가 저렴하나 폐기물 처리 비용이 비싸다.
- ④ D- 냉동 액화 수송 기술의 발달로 소비가 증가하였다.
- ⑤ E- 유량이 많고 낙차가 큰 하천 상류에서 발달한다.

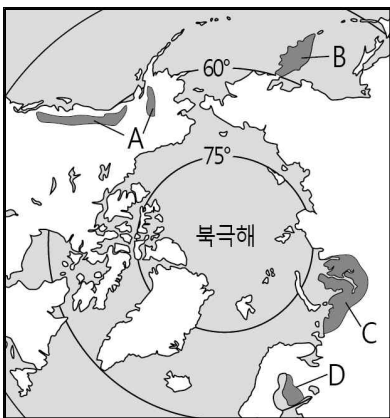
17. 자료의 (가), (나)에 해당하는 지역을 지도에서 고른 것은? [3점]

(가)

사모예드 족에 속하는 이곳의 원주민들은 의식주의 대부분을 순록에 의존하기 때문에 순록의 먹이인 풀과 이끼를 찾아 1년에 1,000 km 이상 이동하면서 생활한다.

(나)

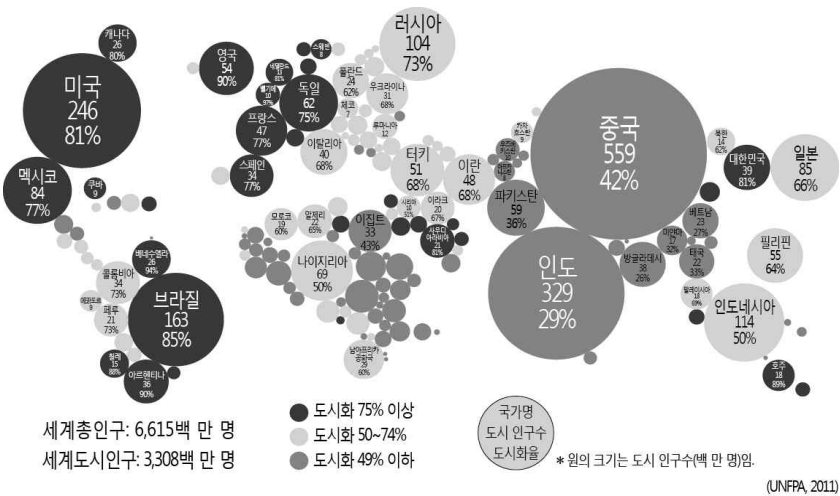
눈이 쌓여 형성된 거대한 빙하가 산정상부에서 골짜기를 따라 흐르면서 U자곡, 호른 등을 만들어내며, 빙하가 성장·쇠퇴하는 모습은 관광 자원으로 활용되고 있다.



- | | | |
|---|-----|-----|
| | (가) | (나) |
| ① | A | B |
| ② | A | D |
| ③ | B | C |
| ④ | C | A |
| ⑤ | C | D |

18. 자료에 대한 옳은 해석을 <보기>에서 고른 것은?

국가별 도시 인구 및 도시화율



지역별 도시 성장률(2005~2010)

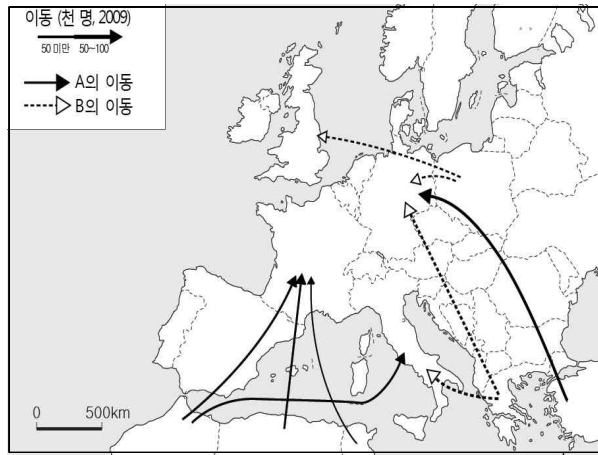


<보기>

- ㄱ. 도시 인구 수는 국토 면적에 비례한다.
- ㄴ. 도시 인구 수가 많은 국가일수록 도시화율이 높다.
- ㄷ. 세계 총 인구 중 도시 인구의 비중은 60% 미만이다.
- ㄹ. 일찍 산업화가 된 지역은 대체로 도시 성장률이 낮다.

- ① ㄱ, ㄴ ② ㄱ, ㄷ ③ ㄴ, ㄷ ④ ㄴ, ㄹ ⑤ ㄷ, ㄹ

19. A, B의 인구 이동에 대한 옳은 설명을 <보기>에서 고른 것은? [3점]



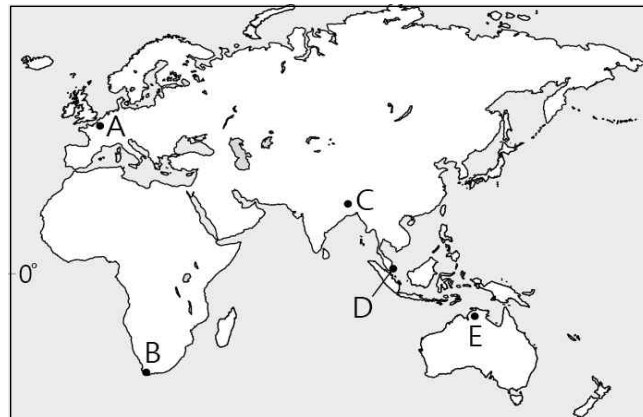
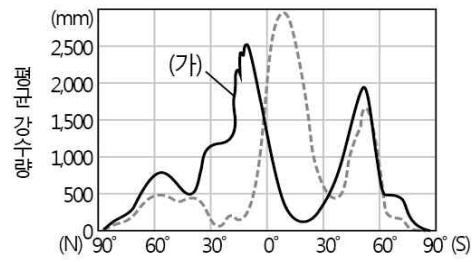
* 2009년 기타 인구 이동은 생략함.

<보기>

- ㄱ. A는 B보다 국가 간 노동력 이동이 자유롭다.
- ㄴ. A는 B보다 유입국 내에서 종교 갈등을 겪는 경우가 많다.
- ㄷ. A, B는 고소득의 전문 직종에 종사하는 비율이 높다.
- ㄹ. A, B의 이동은 유입국의 지속적인 출산율 감소와 관련이 깊다.

- ① ㄱ, ㄴ ② ㄱ, ㄷ ③ ㄴ, ㄷ ④ ㄴ, ㄹ ⑤ ㄷ, ㄹ

20. 그래프는 두 시기의 위도별 평균 강수량을 나타낸 것이다. 강수 분포가 (가) 시기일 때, A~E 지역에 대한 설명으로 옳은 것은? [3점]



- ① A는 아열대 고압대의 영향으로 건조해진다.
- ② B는 고온 건조한 시기로 포도 수확이 활발해진다.
- ③ C는 남쪽에서 계절풍이 불어와 강수량이 많아진다.
- ④ D는 열대 수렴대보다 북쪽에 위치하게 된다.
- ⑤ E는 낮의 길이가 밤의 길이보다 더 길어진다.

※ 확인 사항

답안지의 해당란에 필요한 내용을 정확히 기입(표기)했는지 확인하시오.

16. [출제의도] 국가별 1차 에너지 소비 구조 이해하기
A는 석유, B는 천연가스, C는 석탄, D는 원자력, E는 수력이다. ① 석탄 ② 석유 ③ 원자력 ④ 천연 가스에 대한 설명이다.

17. [출제의도] 한대 기후 지역의 주민 생활 파악하기
(가)는 러시아의 야말반도 주변에 거주하는 사모예드 족(네네츠 인), (나)는 캐나다 로키산맥과 알래스카 지역이다.

18. [출제의도] 세계의 도시화 특징 이해하기
ㄱ. 국토 면적이 큰 캐나다와 러시아는 도시 인구수가 적다. ㄴ. 중국과 인도는 도시 인구수는 많지만 도시화율이 낮다. ㄷ. 세계 총 인구 중 약 50%가 도시에 거주한다. ㄹ. 일찍 산업화가 된 유럽, 북아메리카는 도시 성장률이 낮다.

19. [출제의도] 유럽의 인구 이동 이해하기
A는 터키와 북부 아프리카에서 이동하는 인구로 무슬림의 비중이 높다. B는 유럽 연합 내 동부와 남부 유럽 국가에서 소득이 높은 국가로 이동하는 인구이다. A, B로 이동한 인구는 저임금 단순 서비스, 제조업 직종에 종사하는 경우가 많다.

20. [출제의도] 기압대의 이동에 따른 지역별 특징 이해하기
(가) 시기에 북반구는 여름, 남반구는 겨울이다. A는 서안 해양성 기후(브뤼셀), B는 지중해성 기후(케이프타운), C는 사바나 기후(다카), D는 열대 우림 기후(싱가포르), E는 사바나 기후(다윈) 지역이다.