

2

사회탐구 영역(세계 지리)

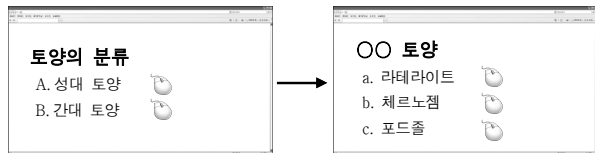
5. 자료는 어느 국가에 대한 정보이다. 이 국가를 지도의 A~E에서 고른 것은? [3점]

○ 국토의 대부분이 빙하의 침식을 받은 평야 지대로 1,400여 개의 호수가 있으며, 기후는 냉량 습윤하다.
○ 경제의 원동력은 삼림 자원이다. 무역액에서 유럽 연합이 차지하는 비중이 약 60%이며, 소련에서 독립한 국가 중 처음으로 2011년부터 유로화를 사용하기 시작하였다.



- ① A
- ② B
- ③ C
- ④ D
- ⑤ E

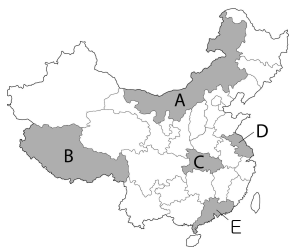
6. 토양에 관해 검색한 화면의 일부이다. (가), (나)의 검색 결과를 얻기 위해 클릭한 항목을 고른 것은?



- | | | | |
|-------|-----|-------|-----|
| (가) | (나) | (가) | (나) |
| ① A-a | A-b | ② A-a | A-c |
| ③ A-b | A-c | ④ B-a | B-b |
| ⑤ B-a | B-c | | |

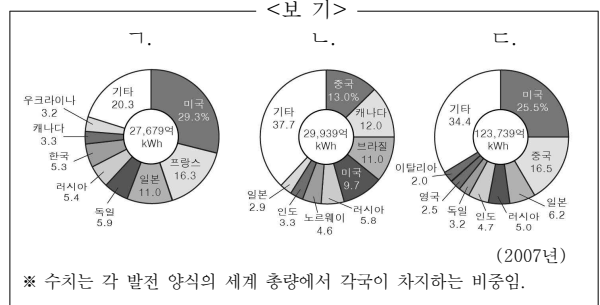
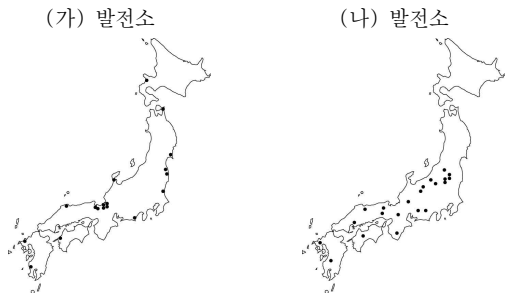
7. 다음 글의 밑줄 친 '이 지역'을 지도의 A~E에서 고른 것은?

이 지역은 눈 덮인 산과 하천, 호수가 많다. 고산 지대에서 그린지 20일 정도 여행하는 동안에도 주변에 마을이 보이지 않을 정도로 황량하다. ... (중략) ... 이곳 사람들은 별도의 화폐를 사용하지 않고 소금을 교환의 수단으로 사용한다. 옷은 주로 가죽으로 만들어 입으며 자신들만의 고유 언어를 사용한다. - 『동방견문록』 -



- ① A
- ② B
- ③ C
- ④ D
- ⑤ E

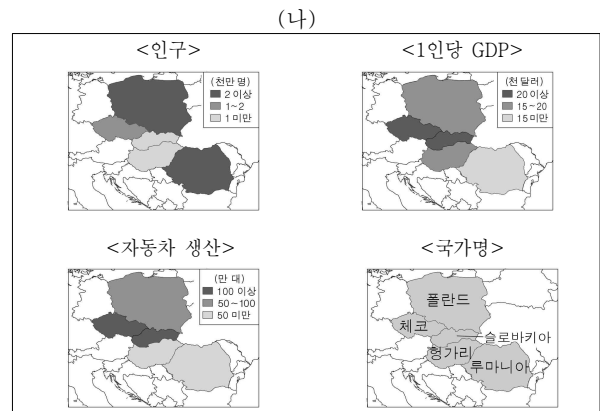
8. 지도는 일본의 (가), (나) 발전소를 나타낸 것이다. (가), (나) 발전의 국가별 생산 비중을 <보기>에서 고른 것은? (단, 수력, 화력, 원자력만 고려함.) [3점]



- | | | | |
|-----|-----|-----|-----|
| (가) | (나) | (가) | (나) |
| ① 가 | 나 | ② 가 | 다 |
| ③ 나 | 가 | ④ 나 | 다 |
| ⑤ 다 | 가 | | |

9. OO 자동차 회사는 (가)의 조건을 모두 만족하는 동부 유럽 국가에 지역 판매 본부를 설치하고자 한다. (나)의 지리 정보를 이용하여 적절한 입지 대상국을 고른 것은?

- (가)
- <조건 1> 인구 1,000만 명 이상
 - <조건 2> 1인당 GDP 15,000달러 이상
 - <조건 3> 자동차 생산이 100만 대 이상



- ① 체코
- ② 폴란드
- ③ 헝가리
- ④ 루마니아
- ⑤ 슬로바키아

사회탐구 영역(세계 지리)

세계 지리

10. 자료와 관계 깊은 지형에 대한 설명으로 옳지 않은 것은?



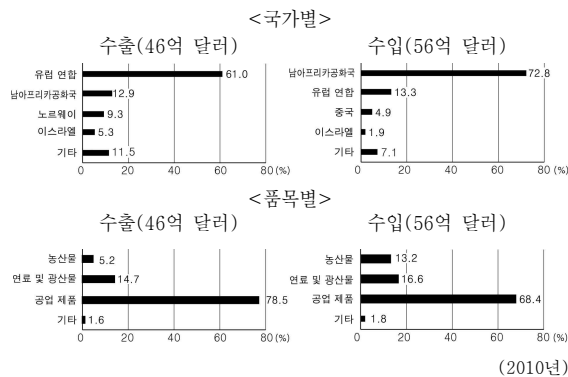
○○ 지역 사람들은 여신 '펠레'의 분노가 폭발하면 그녀가 발로 땅을 밟아 대지가 뒤집힌다며, 산기슭의 계곡을 따라 시뻘건 강물이 흘러내리고 엄청난 재와 먼지로 사망이 뒤따른다고 말했다. 이런 재앙을 예방하기 위해 사람들은 고대의 찬가를 부르며 사탕수수, 비단 등을 바쳐 그녀를 달랬다.

- 『세계 신화 사전』 -

<○○ 지역의 여신 '펠레'>

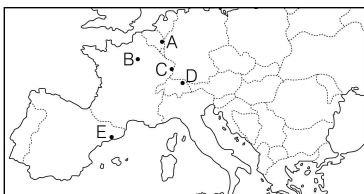
- ① 신기 조산대에 주로 분포한다.
- ② 지하의 마그마가 분출되어 형성된다.
- ③ 온천이 많아 관광 자원으로 이용된다.
- ④ 형성 과정에서 지진을 동반하기도 한다.
- ⑤ 기반암의 용식 작용으로 동굴이 발달한다.

11. 아프리카에 위치한 어느 국가의 무역 현황을 나타낸 것이다. 이 국가에 대한 설명으로 옳은 것은?



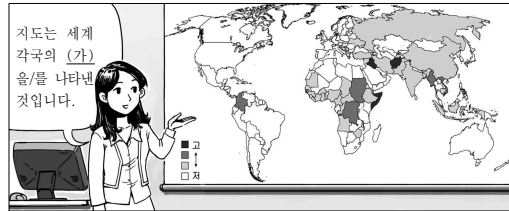
- ① 무역에서 흑자를 보고 있다.
- ② 유럽 연합과의 무역액이 차지하는 비중이 가장 크다.
- ③ 농산물의 수출 비중이 공업 제품의 수입 비중보다 크다.
- ④ 연료 및 광산물의 수출액이 공업 제품의 수입액보다 많다.
- ⑤ 유럽 연합과의 무역에서는 흑자, 남아프리카공화국과의 무역에서는 적자이다.

12. 지도는 영태가 유럽 여행 중 방문한 도시를 표시한 것이다. A ~ E에서 영태가 경험한 내용으로 적절하지 않은 것은? [3점]



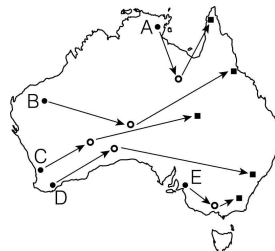
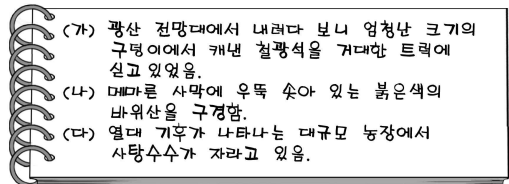
- ① A - 독일에서 이곳으로 출퇴근한다는 사람들을 만났다.
- ② B - 주요 공공 기관에 계양된 유럽 연합 깃발을 보았다.
- ③ C - 주민들이 여권 검사 없이 국경을 통과하는 것을 보았다.
- ④ D - 시내 중심가에서 유럽 연합 본부 건물을 보았다.
- ⑤ E - 상점에서 유통기한이 지난 물건을 구입했다.

13. 다음 수업 장면에서 (가)에 들어갈 내용으로 적절한 것은?



- ① 문자 해독률
- ② 노인 인구 비율
- ③ 난민 발생자 수
- ④ 인터넷 가입자 수
- ⑤ 이산화탄소 발생량

14. 자료는 영아가 쓴 오스트레일리아 답사 노트의 일부이다. (가)→(나)→(다)의 여행 경로를 지도에서 고른 것은? [3점]



- ① A
- ② B
- ③ C
- ④ D
- ⑤ E

15. 표는 중국의 인구에 관한 것이다. 이에 대한 옳은 분석을 <보기>에서 고른 것은? [3점]

구 분	1990년		2000년		2010년		
	인구수	비중	인구수	비중	인구수	비중	
전체	1,133	100.0	1,265	100.0	1,339	100.0	
연령별	0~14세	314	27.7	290	22.9	222	16.6
	15~64세	755	66.7	887	70.1	998	74.5
	65세 이상	64	5.6	88	7.0	119	8.9
도농별	도시	296	26.1	457	36.1	665	49.7
	농촌	837	73.9	808	63.9	674	50.3
민족별	한족	1,042	92.0	1,159	91.6	1,226	91.5
	소수 민족	91	8.0	106	8.4	113	8.5

(백만 명, %)

<보 기>

- ㄱ. 인구 증가율이 높아졌다.
- ㄴ. 총인구 부양비가 감소하였다.
- ㄷ. 도시와 농촌의 인구수 격차가 줄었다.
- ㄹ. 한족은 인구수와 비중이 모두 감소하였다

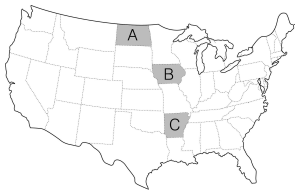
- ① ㄱ, ㄴ ② ㄱ, ㄷ ③ ㄴ, ㄷ ④ ㄴ, ㄹ ⑤ ㄷ, ㄹ

사회탐구 영역(세계 지리)

16. 표는 미국의 어느 세 지역의 농업 생산량을 나타낸 것이다. (가)~(다)를 지도의 A~C에서 고른 것은?

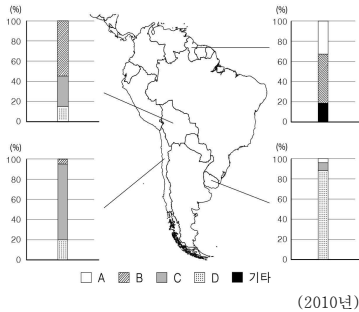
구 분	밀	옥수수	쌀	면화	돼지
전체 생산량	50,639	323,558	9,014	3,213	67,786
(가)	35	58,221	0	0	19,295
(나)	708	2,534	4,360	323	289
(다)	7,454	6,993	0	0	182

(2009년, 천 톤, 천 마리)



- (가) (나) (다) (가) (나) (다)
- ① A B C ② A C B
- ③ B A C ④ B C A
- ⑤ C B A

17. 자료는 남아메리카 네 국가의 인종(민족)별 구성을 나타낸 것이다. A~D 인종(민족)에 대한 옳은 설명을 <보기>에서 고른 것은? [3점]



<보 기>

ㄱ. A는 정치·경제적 지위가 높은 상류층을 형성하고 있다.

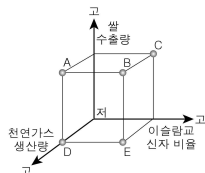
ㄴ. B는 과거에 고산 지역에서 고대 문명을 발달시켰다.

ㄷ. C는 원주민과 백인과의 혼혈 인종이다.

ㄹ. D는 아프리카에서 강제 이주된 사람들의 후손이다.

- ① ㄱ, ㄴ ② ㄱ, ㄷ ③ ㄴ, ㄷ ④ ㄴ, ㄹ ⑤ ㄷ, ㄹ

18. (가)와 비교한 (나) 국가의 상대적 특성으로 옳은 것은?



- ① A ② B ③ C ④ D ⑤ E

19. 자료의 (가) 국가를 지도의 A~E에서 고른 것은? [3점]

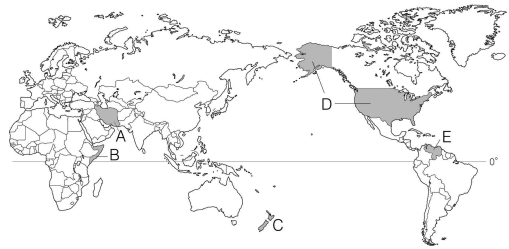
제00호 ○○신문

2010 밴쿠버 동계 올림픽의 이색 선수!!

(가) 국가 역사상 여성 최초로 동계 올림픽에 출전한 선수가 있어 화제이다. 2010 밴쿠버 동계 올림픽 스키 종목에 출전한 ○○ 선수는 국교인 이슬람교 율법에 따라 히잡을 착용하고 대회에 출전하여 눈길을 끌었다.

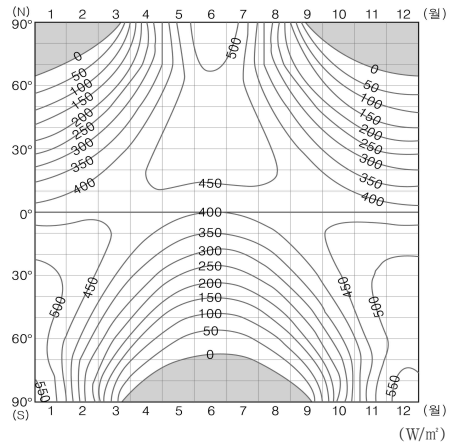
(가) 국가 현황
면적 : 162만 km², 인구 : 7,500만 명
주요 민족 : 페르시아 인(51%), 아제르바이잔 인(24%)
주요 자원 : 석유(세계 생산량 4위, OPEC 회원국)

▲ 헬멧 안에 히잡을 착용한 ○○ 선수



- ① A ② B ③ C ④ D ⑤ E

20. 자료는 위도대별 일사량 분포를 나타낸 것이다. 이에 대한 옳은 분석을 <보기>에서 고른 것은? [3점]



<보 기>

ㄱ. 7월에 남극은 북극보다 일사량이 많다.

ㄴ. 극지방에서는 해가 뜨지 않는 기간도 있다.

ㄷ. 연중 낮의 길이 변화가 가장 큰 곳은 적도 부근이다.

ㄹ. 1월에 북반구는 남반구보다 위도에 따른 일사량 차이가 크다.

- ① ㄱ, ㄴ ② ㄱ, ㄷ ③ ㄴ, ㄷ ④ ㄴ, ㄹ ⑤ ㄷ, ㄹ

※ 확인 사항

○ 답안지의 해당란에 필요한 내용을 정확히 기입(표기)했는지 확인하십시오.