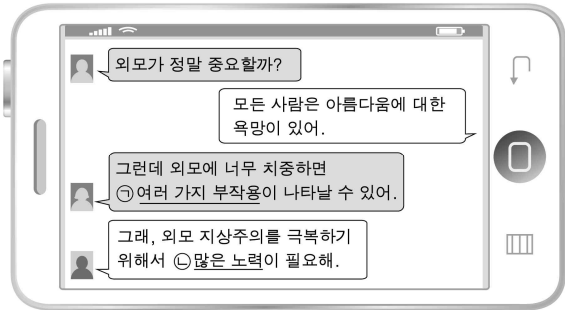


6. 밑줄 친 ㉠, ㉡에 해당하는 내용을 바르게 짝지은 것은? [3점]



	㉠	㉡
① 근로 의욕 상실		동일한 가치 강조
② 사회적 비용 증가		감각적 아름다움 추구
③ 표현의 자유 위축		외모 차별 금지법 제정
④ 가치 전도 현상 심화		다양성 존중
⑤ 원만한 사회생활의 어려움		혹백 논리적 사고 확산

7. 다음 신문 기사에서 추론할 수 있는 내용으로 옳은 것은? [3점]

○○일보 ○○○○년 ○○월 ○○일

‘다 주고 떠난’ 장기 기증자… 처음으로 400명 넘을 듯
 이식 대기자 2만여 명엔 많이 부족
 불법 거래 4.3배 늘어

장기 이식 현황

연도	뇌사 기증자 (명)	장기이식 (건수)	장기이식 대기자 (명)
2002	36	1,739	8,386
2004	86	2,072	1만 684
2006	141	2,344	1만 3,742
2008	256	2,858	1만 7,418
2010	268	3,135	1만 8,189
2012년 11월	375	3,525	2만 2,427

자료 : 질병관리본부 장기이식 관리 센터

- ① 불법 장기 매매는 점점 감소할 것이다.
- ② 장기 이식의 필요성이 점차 줄어들 것이다.
- ③ 대기자에 비해 기증자의 수는 충분해질 것이다.
- ④ 장기 기증에 대한 부정적 인식이 증가할 것이다.
- ⑤ 장기 분배 원칙에 대한 심도 있는 논의가 필요할 것이다.

8. 다음은 동양의 하늘에 대한 두 관점이다. ㉠, ㉡에 대한 설명으로 옳은 것은? [3점]

- ㉠ 하늘은 인간과 직접적인 관련이 있으므로 하늘의 의지가 인간의 본성에 반영되어 있다.
- ㉡ 하늘은 인간이나 다른 존재들에게 특별한 관심을 가지고 있지 않다. 하늘은 그저 자연이다.

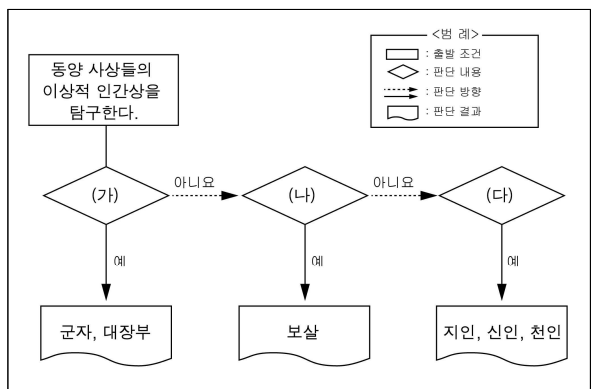
- ① ㉠은 도덕적 원리를 포함하고 있다.
- ② ㉠은 도가의 자연관을 반영하고 있다.
- ③ ㉡은 인(仁)을 실천하는 바탕이 된다.
- ④ ㉡은 모든 생명체의 불성(佛性)을 포함하고 있다.
- ⑤ ㉠, ㉡은 모두 사회 규범의 근원이 된다.

9. (가)의 관점에서 (나)의 갑에게 해줄 수 있는 조언으로 가장 적절한 것은?

(가)	행위에 대한 도덕적 판단은 행위의 결과와 무관하게 요구되는 의무와 원칙에 따라 이루어져야 한다.
(나)	갑은 말기 암 환자이다. 그는 극한적인 고통을 겪고 있으며, 가족들의 경제적 부담에 힘들어 하고 있다. 그리하여 그는 자신에 대한 치료를 중단하여 주기를 담당 의사에게 간청하였다.

- ① 개인이 처한 특수한 상황을 중시해야 한다.
- ② 생명의 절대적 가치를 소중히 여겨야 한다.
- ③ 경제적 손익을 계산하여 행위를 결정해야 한다.
- ④ 목적 달성의 여부를 최우선적으로 고려해야 한다.
- ⑤ 다수가 만족할 수 있는 결과를 고려해서 판단해야 한다.

10. 그림의 (가)~(다)에 들어갈 질문으로 옳은 것은?



- ① (가): 허심(虛心)을 통해 자연과 하나가 되는가?
- ② (가): 다른 사람이 해탈할 수 있도록 도와야 하는가?
- ③ (나): 나를 이기고 예(禮)로 돌아가야 하는가?
- ④ (나): 수양을 통해 사덕(四德)을 확충해야 하는가?
- ⑤ (다): 인위적인 삶에서 벗어나야 하는가?

사회탐구 영역 (생활과 윤리)

고2

3

11. (가)의 관점에서 그림 (나)의 캠페인을 지지할 경우에 그 논거로 가장 적절한 것은?

(가)

당신이 시인이려면, 하나의 종이 안에서 구름이 떠나고 있음을 알 것이다. 구름이 없다면 비도 내리지 않을 것이고, 비가 없다면 나무가 자라지 못하고 종이도 만들기 어려울 것이다. 이렇게 종이를 통해 그 주변을 떠올리면 하나의 종이는 우연적이거나 독립적으로 생겨난 것이 아니라는 것을 깨달을 수 있다.

(나)

- ① 학생이라면 반드시 교복을 입어야 한다.
- ② 교복이 지닌 미적 가치를 중시해야 한다.
- ③ 교복이 지니는 상호 관련성을 생각해야 한다.
- ④ 학교의 캠페인 활동에는 무조건 동참해야 한다.
- ⑤ 교복은 가급적 저렴한 비용으로 구입해야 한다.

12. 그림은 수행 평가 문제와 학생 답안이다. ㉠~㉣ 중 옳은 것만으로 묶인 것은? [3점]

○○○○학년도 ○학기

수행 평가

학번 () 성명 ()

● **문제**: 다음은 효(孝) 실천의 구체적인 내용이다. 아래 표의 빈칸에 각각의 구체적인 의미를 서술하시오.

● **학생 답안**

공대 (恭待)	⇒	㉠ 후세에 자신의 이름을 떨쳐 부모를 영광되게 함
양지 (養志)	⇒	㉡ 부모의 뜻을 헤아려 실천함으로써 부모를 기쁘게 함
불감훼손 (不敢毀傷)	⇒	㉢ 부모로부터 물려받은 몸을 깨끗하고 온전하게 함
입신양명 (立身揚名)	⇒	㉣ 표정을 항상 부드럽게 하여 부모가 편안한 마음을 지닐 수 있도록 함

- ① ㉠, ㉡ ② ㉠, ㉢ ③ ㉡, ㉢ ④ ㉡, ㉣ ⑤ ㉢, ㉣

13. 그림은 어느 학생의 필기 내용이다. ㉠~㉥ 중 옳지 않은 것은?

◎ 단원명: 성(性)의 상품화

1. 의미

- 성 자체 혹은 성과 직접 관련된 것을 판매하는 행위 … ㉠
- 특정 제품에 성적 이미지를 부여함으로써 판매 촉진을 추구하는 행위 … ㉡

2. 윤리적 문제점

- 인간의 성이 지닌 본래의 가치와 의미를 변질시킴 … ㉢
- 타인이 내리는 성적인 평가에 따라 자신의 가치를 판단함 … ㉣
- 성의 자기 결정권과 표현의 자유를 인정하는 분위기를 확산시킴 … ㉤

- ① ㉠ ② ㉡ ③ ㉢ ④ ㉣ ⑤ ㉤

14. 퍼즐의 세로 열쇠 (B)에 대한 설명으로 옳은 것은? [3점]

(A)	(B)				<p>【가로 열쇠】</p> <p>(A) 범죄자의 생명을 박탈하는 형벌 제도</p> <p>(C) 정성껏 음식을 바치며 돌아가신 조상을 추모하는 의식</p> <p>(D) '아침에 도(道)를 들으면 저녁에 죽어도 좋다'고 강조한 고대 유가 사상가</p> <p>(E) 대량의 정보를 다수에게 전달하는 수단 (대중 ○○)</p> <p>【세로 열쇠】</p> <p>(B) △△△△</p>
	(C)				
(D)					
	(E)				

- ① 천륜(天倫)을 바탕으로 한 계약적 관계이다.
- ② 신의(信義)를 바탕으로 한 선택적 관계이다.
- ③ 수직적이면서도 수평적인 관계의 성격을 지닌다.
- ④ 가족 내의 인간관계 중 가장 먼저 형성된 관계이다.
- ⑤ 낯선 두 사람이 만나 서로 존중하고 보완하는 관계이다.

15. 갑, 을의 입장에 대한 설명으로 옳지 않은 것은? [3점]

갑: 인간에게 있어서 죽음이란 뇌의 전체적인 기능뿐만 아니라 심장이 완전히 정지되었을 때를 말한다.

을: 심장의 기능이 유지된다 하더라도 뇌의 모든 기능이 정지된 상태에서는 인간다운 모습을 구현할 수 없으므로 죽은 존재로 보아야 한다.

- ① 갑은 죽음의 기준을 심장 기능의 정지로 판단한다.
- ② 갑은 생명의 존엄성을 실용적 가치보다 더 강조한다.
- ③ 을은 죽음에 대한 판정 기준으로 뇌사를 지지한다.
- ④ 을은 갑에 비해 다른 생명을 살릴 수 있는 기회 제공에 더 비중을 둔다.
- ⑤ 갑, 을 모두 죽음에 대한 인간의 자기 결정권을 강조한다.

16. 밑줄 친 부분에 들어갈 내용으로 가장 적절한 것은? [3점]

주장 : _____
 반론 : 개인적으로 상당히 도덕적인 사람도 자기가 소속된 집단의 이익을 위해서는 이기적으로 행동하기 쉽다. 따라서 이러한 문제를 해결하기 위해 집단의 도덕성에 대한 새로운 대책을 모색해야 한다.

- ① 집단의 도덕은 개인의 도덕과는 본질적으로 다르다.
- ② 사회 구조의 부도덕성은 개인의 양심으로 극복될 수 있다.
- ③ 개인의 선한 의지만으로 복잡한 사회문제를 해결할 수 없다.
- ④ 사회문제를 해결하기 위해서는 법과 제도의 개선이 필요하다.
- ⑤ 집단의 도덕성은 개인의 도덕성에 비해서 현저하게 떨어진다.

17. 다음 신문 칼럼과 일치하는 주장을 <보기>에서 고른 것은?

칼럼
 성적 소수자들은 우리 대다수의 사람들과 성 정체성이 다를 뿐이다. '나와 다르다'는 것은 '틀린 것'이고, '틀린 것'은 '나쁜 것이다'라는 생각의 틀을 바꿔야 한다. 성적 소수자들의 성 정체성을 전통적인 시각에서 부정적으로 평가하는 것이 과연 옳은가?

< 보 기 >
 가. 성적 소수자도 행복 추구권을 가지고 있다.
 나. 다수의 선택이 모든 판단의 기준이 되어야 한다.
 다. 성 정체성에 따른 개인의 결과와 선택을 존중해야 한다.
 라. 성 정체성은 개인의 도덕성을 평가하는 절대적인 기준이다.

- ① 가, 나 ② 가, 다 ③ 나, 다 ④ 나, 라 ⑤ 다, 라

18. 다음을 고려할 때, 청소년이 갖추어야 할 태도로 가장 적절한 것은?

- 자기 주도적 학습자는 자존감이 높고 자기 통제력과 만족을 지연시킬 수 있는 능력을 지닌다.
- 최근 H 대학에서 프로게이머와 게임 중독자의 차이를 뇌 기능을 중심으로 연구하였다. 그 결과 프로게이머는 계획, 결정, 조정, 판단 등의 뇌 기능이 활성화 되었고, 게임 중독자는 감각적·외부적 자극만을 처리하는 뇌 기능이 활발한 것으로 나타났다.

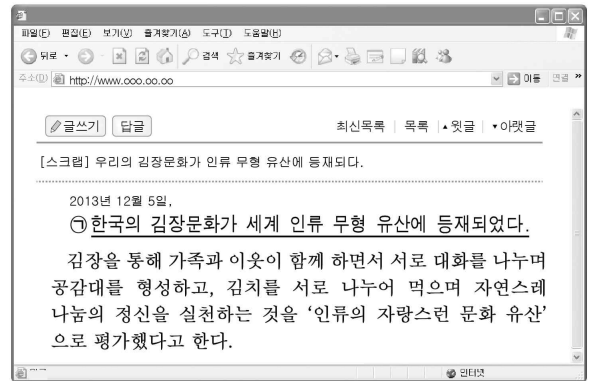
- ① 자신에 대한 역할 기대에 치중한다.
- ② 사이버 공간에서 활발하게 활동한다.
- ③ 유명 연예인을 동일시 대상으로 삼는다.
- ④ 주체적인 태도를 확립하기 위해 노력한다.
- ⑤ 신체적 건강을 위해 운동을 열심히 한다.

19. 다음은 유·불·도 사상의 죽음에 대한 입장이다. 이에 대한 설명으로 옳은 것은? [3점]



- ① gak은 죽음보다 현실의 도덕적 실천을 더 강조한다.
- ② ul은 죽음을 끝없는 윤회의 한 과정으로 본다.
- ③ byung은 죽음의 고통을 되도록 피해야 한다고 주장한다.
- ④ gak과 ul은 죽음을 육체로부터의 해방이라고 본다.
- ⑤ ul과 byung은 삶과 죽음이 명확하게 구별되는 것으로 본다.

20. ㉠의 의미에 대한 바른 설명을 <보기>에서 고른 것은? [3점]



< 보 기 >
 가. 우리의 상부상조 전통이 계승되었다.
 나. 김치 그 자체의 우수성이 증명되었다.
 다. 구성원 상호 간에 배려의 미덕이 발휘되었다.
 라. 구성원의 전문성과 소명의식이 적극적으로 반영되었다.

- ① 가, 나 ② 가, 다 ③ 나, 다 ④ 나, 라 ⑤ 다, 라

※ 확인 사항
 ○ 답안지의 해당란에 필요한 내용을 정확히 기입(표기)했는지 확인하십시오.