

제 4 교시

사회탐구 영역(사회·문화)

성명 수험 번호

1. 다음 두 사례에서 공통적으로 도출할 수 있는 사회·문화 현상의 특징으로 가장 적절한 것은?

- 갑국에서 1960년대 집전화는 부의 상징이었으나 1980년대에는 필수품이 되었다. 2000년대에는 인터넷 전화와 휴대 전화의 발달로 인해 집전화는 보완적 통신 매체의 역할을 수행하고 있다.
- 을국에서 도시화 초기에 아파트는 빈민촌의 전형적인 주거 형태였으나 점차 중산층의 보편적인 주거지가 되었다. 최근에는 아파트 가격의 폭등과 함께 아파트가 상류층의 부를 과시하는 수단이 되었다.

- ① 같은 조건에서는 동일한 결과가 발생한다.
- ② 규칙 발견을 통해 상황에 대한 예측이 용이하다.
- ③ 개인적 성격을 띠고 있으며 확률의 원리가 적용된다.
- ④ 사회적 상황과 시대에 따라 변화하는 특성이 나타난다.
- ⑤ 사회적 규칙성에 예외가 존재하므로 특수성이 나타난다.

2. 그림에서 사회 구조를 바라보는 갑, 을 관점의 일반적 특징에 대한 옳은 설명을 <보기>에서 고른 것은?



- <보기> —
- ㄱ. 갑의 관점은 사회 갈등을 균형 회복을 위한 일시적 과정으로 본다.
 - ㄴ. 을의 관점은 사회 변동 과정에서 사회 각 부분이 보완적 역할을 수행한다고 본다.
 - ㄷ. 갑의 관점은 을에 비해 사회 변동이 필연적이라고 본다.
 - ㄹ. 을의 관점은 갑에 비해 현존 사회 질서의 전면적 재구성을 통해 사회 갈등을 해결할 수 있다고 본다.

- ① ㄱ, ㄴ ② ㄱ, ㄷ ③ ㄴ, ㄷ ④ ㄴ, ㄹ ⑤ ㄷ, ㄹ

3. 자료는 지역 개발 방식 (가), (나)의 활용 결과 보고서의 일부이다. <종합 평가>에서 옳은 진술을 고른 것은? [3점]

1960년에 갑국은 집적 이익 형성과 국가 경제 성장을 목표로 (가) 방식을 선택하였다. 이에 따라 D지역에 집중 투자하여 산업화를 시작하였다. 1970년부터는 상대적으로 낙후되어 있던 지역을 발전시키려는 목표로 (나) 방식을 선택하였다. 이에 따라 A, C지역에 10년 동안 집중 투자하였다.

<(가), (나)에 의한 국내 총생산 대비 지역 내 총생산 비율 변화>
(단위: %)

구분	1960년	1970년	1980년
A지역	18	9	17
B지역	27	24	22
C지역	19	7	18
D지역	36	60	43
국내 총생산(십억 달러)	50	120	240

— <종합 평가> —

(가), (나)의 일반적인 특징을 살펴보면, ㉠(가)는 상향식 의사 결정 방식을 활용한다. …(중략)… ㉡(가)는 과밀화로 인한 집적 불이익을, (나)는 투자의 비효율성이라는 문제를 야기할 수 있다. 한편 위 자료를 분석한 결과, ㉢(나)로 인해 B지역의 지역 내 총생산 규모는 감소한 것으로 나타났다. 또한 ㉣(가), (나)를 10년씩 실시한 결과, 각각 기대한 성과가 상당 부분 나타났음을 알 수 있다.

- ① ㉠, ㉡ ② ㉠, ㉢ ③ ㉡, ㉢ ④ ㉡, ㉣ ⑤ ㉢, ㉣

4. (가), (나)에 대한 분석과 추론으로 가장 적절한 것은?

- (가) 최근 핵가족화와 함께 가족 단위의 활동이 많아지면서 가족 내 친밀감이 높아지고 있다. 또한, 아들 딸 가리지 않고 낳아 기르는 가정이 보편화되고 있으며, 나아가서 딸을 극진히 사랑하고 딸과의 유대 관계를 중요시하는 이른바 ‘딸바보 아빠’도 늘고 있다.
- (나) 사회적으로 낮은 출산율이 지속되고 있지만 셋째나 넷째 아이를 가지려는 가정도 나타나고 있다. 특히 40대 부모들 중에는 다자녀의 소중함을 뒤늦게 깨닫고 10년 이상 터울이 나는 이른바 ‘늦둥이 자녀’를 갖는 경우가 늘고 있다.

- ① (가)는 가족의 사회 성원 충원 기능이 강화되고 있음을 보여준다.
- ② (나)는 남아 선호 사상의 필요성이 재조명되고 있음을 보여준다.
- ③ (가), (나)는 가족의 정서적 안정 제공 기능이 강화되고 있음을 보여준다.
- ④ (가), (나)는 저출산 문제의 해결을 위한 사회 제도 개선이 시급함을 보여준다.
- ⑤ (가), (나)는 ‘딸바보 아빠’의 증가가 ‘늦둥이 자녀’ 증가의 원인이 되고 있음을 보여준다.

5. (가)~(다)는 관료제에서 나타날 수 있는 일반적인 문제점이다. 이와 관련한 설명으로 옳지 않은 것은? [3점]

- (가) 복잡한 규정으로 많은 서류가 만들어지는 과정에서 본연의 업무 처리가 지연될 수 있다.
- (나) 의사 결정권이 상위 직급에 집중되어 권력의 남용이나 쓸림이 일어날 수 있다.
- (다) 승진 시 경력을 중시하므로 무능한 사람이 자기 능력 이상의 자리를 차지할 수 있다.

- ① (가)는 목표 성취를 위해 융통성을 발휘할 여지를 확대함으로써 완화할 수 있다.
- ② (나)는 다양한 의사 결정 구조와 방식을 적용함으로써 완화할 수 있다.
- ③ (다)는 인사 관리에서 연공 서열보다 성과를 중시함으로써 완화할 수 있다.
- ④ (가)는 업무 처리의 형식적 절차를, (나)는 의사 결정의 일방성을 강조하는 과정에서 발생한다.
- ⑤ (나), (다)는 조직의 과업과 목적에 따라 조직 형태가 수시로 변화하는 과정에서 발생한다.

[6~7] 다음 자료를 읽고 물음에 답하시오.

<수업 자료>

(가) 사회 집단의 유형을 설명하기 위한 사례

의대를 희망했던 갑은 뜻을 이루지 못하고 A대학교 생물학과에 입학했다. 의학 전문 대학원에 가기 위해 생물학과를 선택했지만 전공 공부에 흥미를 느끼지 못하고 ☆☆ 온라인 게임 카페에서 많은 시간을 보냈다. 그러던 중, 고등학교 동문회를 통해 알게 된 의대 선배의 영향을 받아 의학 전문 대학원 진학에 필요한 전공 공부를 하기 위해 과내 스터디 모임에 참여하였다.

을은 오랫동안 희망해 온 A대학교 생물학과에 진학한 후 적극적으로 전공 공부를 하면서 대학원 진학도 계획하였다. 또한, 학과 교수의 추천으로 A대학교 홍보 지원팀에 발탁되었으며, 총학생회 간부로도 활동하였다. 한편 평소 그리 가깝지 않았던 갑과 을은 선후배 간의 관계가 돈독한 과내 스터디 모임에 자주 참여하면서 친밀한 관계로 발전하였다.

(나) 갑, 을이 속한 집단의 도식화

```

    graph TD
      subgraph 갑
        A[대학 학과] --- B[과내 스터디 모임]
        C[고등학교 동문회] --- D[온라인 게임 카페]
      end
      subgraph 을
        E[대학 학과] --- F[과내 스터디 모임]
        G[대학 홍보 지원팀] --- H[대학 총학생회]
      end
  
```

6. (가)에서 나타난 사회 집단에 근거하여 알 수 있는 내용으로 옳지 않은 것은? [3점]

- ① 갑의 소속 집단 중에 준거 집단이 있다.
- ② 갑의 소속 집단은 모두 이익 사회에 해당한다.
- ③ 을의 내집단 중에 준거 집단이 있다.
- ④ 을의 내집단은 모두 이익 사회에 해당한다.
- ⑤ 갑과 을은 1차, 2차 집단의 성격이 공존하는 집단에 속해 있다.

7. (나)에 대한 옳은 설명만을 <보기>에서 있는 대로 고른 것은?

- <보기>—
- ㄱ. 갑과 을은 각각 2개의 비공식 조직에 속해 있다.
 - ㄴ. 갑은 을과 달리 공식적 사회화 기관에 속해 있다.
 - ㄷ. 갑과 을이 공통적으로 속해 있는 공식 조직이 있다.
 - ㄹ. 갑과 을이 공통적으로 속해 있는 자발적 결사체가 있다.

- ① ㄱ, ㄴ ② ㄱ, ㄷ ③ ㄷ, ㄹ
- ④ ㄱ, ㄴ, ㄹ ⑤ ㄴ, ㄷ, ㄹ

8. 다음에서 사회·문화 현상을 이해하는 일관된 관점을 가지고 있는 학생은? [3점]

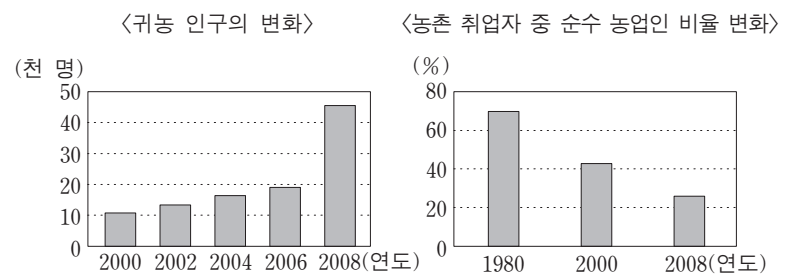
<사회·문화 현상을 보는 관점에 대한 응답>

관점에 따른 진술	학생	갑	을	병	정	무
사회는 특정 집단의 합의에 따라 만들어진다.		×	○	×	×	○
권력은 사회적 필요에 따라 정당하게 배분된다.		○	×	×	×	○
힘을 가진 세력이 일방적으로 대중을 규제한다.		×	○	○	○	×
현상의 본질은 구성원의 해석에 따라 달라진다.		×	×	○	○	○
사회의 지배적 규범을 습득하는 것은 사회 존속에 필수적이다.		○	○	×	×	×
개인은 각자의 주관에 따라 다양한 사회상을 만들어낸다.		×	×	○	×	○

(○: 동의한다, ×: 동의하지 않는다)

- ① 갑 ② 을 ③ 병 ④ 정 ⑤ 무

9. 그림은 갑국의 농촌에서 일어난 변화를 나타낸 것이다. 이에 대한 옳은 분석 및 추론을 <보기>에서 고른 것은?



- <보기>—
- ㄱ. 귀농 인구의 대부분은 비농업 분야에 종사할 것이다.
 - ㄴ. 도시 문화 유입 가능성이 높아지고 농촌의 직업 분포가 변화할 것이다.
 - ㄷ. 2000년~2006년에 비해 2006년~2008년의 귀농 인구 증가폭이 작다.
 - ㄹ. 2008년 농촌 취업자 중 순수 농업인의 비율은 1980년에 비해 절반 이상 줄어들었다.

- ① ㄱ, ㄴ ② ㄱ, ㄷ ③ ㄴ, ㄷ ④ ㄴ, ㄹ ⑤ ㄷ, ㄹ

10. 표는 사회 불평등 현상을 설명하는 두 개념의 일반적 특징을 알아보기 위한 것이다. (가), (나)에 들어갈 적절한 내용을 <보기>에서 고른 것은?

구 분	개 념	
	A	B
생산 수단 소유 여부가 사회 불평등 구조를 결정하는가?	예	아니요
(가)	아니요	예
(나)	예	아니요

- <보기>—
- ㄱ. 지위 불일치 가능성을 인정하는가?
 - ㄴ. 수직 이동이 극히 제한적으로 나타난다고 보는가?
 - ㄷ. 불평등 구조 내에서 서열을 구분하는 기준이 다양한가?
 - ㄹ. 내부 구성원 간에 나타나는 강한 귀속 의식을 강조하는가?

- (가) (나) (가) (나)
- ① ㄱ, ㄴ ㄷ, ㄹ ② ㄱ, ㄷ ㄴ, ㄹ
 - ③ ㄴ, ㄷ ㄱ, ㄹ ④ ㄴ, ㄹ ㄱ, ㄷ
 - ⑤ ㄷ, ㄹ ㄱ, ㄴ

11. 표는 자료 수집 방법의 일반적 특징을 알아보기 위해 일부 항목을 비교한 것이다. (가)~(다)에 대한 설명으로 옳은 것은? [3점]

자료 수집 방법 \ 항목	경제성	자료 수집 상황에 대한 통제 수준
면접법	낮음	낮음
(가)	낮음	매우 낮음
(나)	낮음	매우 높음
(다)	높음	높음

* (가)~(다)는 각각 실험법, 질문지법, 참여 관찰법 중 하나임.

- ① (가)는 (나)에 비해 독립 변수의 효과를 측정하기에 적절하다.
- ② (나)는 (다)에 비해 대규모 집단을 대상으로 한 자료 수집에 적합하다.
- ③ (나)는 (다)에 비해 연구 대상자와의 정서적 유대를 중시한다.
- ④ (다)는 (가)에 비해 연구 대상자가 모집단을 대표하는지를 중시한다.
- ⑤ (다)는 (가)에 비해 연구 대상자의 심층적 의도를 파악하기에 용이하다.

12. 그림에서 사회 불평등 현상을 바라보는 갑, 을 관점의 일반적 특징에 대한 설명으로 옳은 것은? [3점]



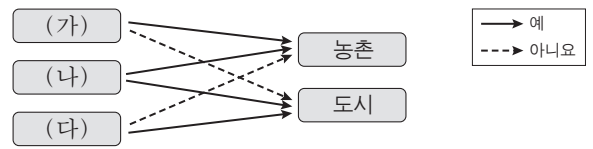
- ① 갑의 관점은 사회적 희소 가치 배분에 대한 정당성을 부여하는 장치를 인정한다.
- ② 갑의 관점은 사회 불평등을 야기하는 요인으로서 성취 동기의 차이를 강조한다.
- ③ 을의 관점은 사회가 기득권층의 지배를 바탕으로 유지된다고 본다.
- ④ 갑의 관점은 을에 비해 차등적 보상 체계의 필요성을 강조한다.
- ⑤ 을의 관점은 갑과 달리 사회 불평등은 사회 분화에 따른 합리적 결과라고 본다.

13. 밑줄 친 ㉠~㉣에 대한 설명으로 옳은 것은?

갑은 ㉠ “프로젝트 학습 방법이 기존의 강의식 방법보다 고등학생의 학업 성취도 향상에 효과가 클 것이다.”라는 연구 가설을 세웠다. 이를 검증하기 위해 ㉡○○○ 고등학교에서 학업 성취도 수준이 유사한 ㉢ 두 집단을 무작위로 추출함으로써 ㉣ 학업 성취도에 영향을 주는 주요 변수들을 통제하였다. 그 후 ㉤ 한 집단에는 프로젝트 학습 방법을 적용하고 ㉥ 다른 집단에는 강의식 방법을 적용하였다. 그 후 적절한 시점에 두 집단을 대상으로 학업 성취도 검사를 실시하였다.

- ① ㉠에서 변수들 간의 인과 관계가 불분명하다.
- ② ㉡은 모집단, ㉢은 표본 집단이다.
- ③ 실험 후 ㉣의 학업 성취도가 같으면 ㉠은 기각된다.
- ④ ㉢은 종속 변수에 대한 조작적 정의 과정이다.
- ⑤ ㉤은 통제 집단, ㉥은 실험 집단이다.

14. 그림은 전형적인 농촌과 도시의 특징을 비교하기 위한 것이다. (가)~(다)에 들어갈 내용을 <보기>에서 고른 것은?



* (가), (다)에 대해서는 도시와 농촌의 특징을 상대적으로 비교하여 판단함.

— < 보기 > —

ㄱ. 계층 분화 정도가 높은가?
 ㄴ. 비공식적인 통제가 중시되는가?
 ㄷ. 지역 내 직업의 이질성이 높은가?
 ㄹ. 1차적, 2차적 인간 관계가 공존하는가?

- | | (가) | (나) | (다) | | (가) | (나) | (다) |
|---|-----|-----|-----|---|-----|-----|-----|
| ① | ㄴ | ㄱ | ㄹ | ② | ㄴ | ㄹ | ㄷ |
| ③ | ㄷ | ㄹ | ㄱ | ④ | ㄷ | ㄹ | ㄴ |
| ⑤ | ㄹ | ㄷ | ㄱ | | | | |

15. (가), (나)에서 나타난 문제점에 대한 옳은 진술을 <보기>에서 고른 것은? [3점]

(가) 갑은 직장 여성의 소비 실태에 대한 심층 면접을 실시하였다. 면접 대상자 중 일부는 질문 내용에 불편함을 느끼고 면접 중단을 요구 하였으나 갑은 면접을 계속 진행하였다.

(나) 을은 ○○대학교 측의 의뢰로 기숙사 생활 실태에 대한 연구를 수행 하였다. 조사를 통해 기숙사생의 60% 정도가 음주 규정을 위반했음이 밝혀졌다. 을은 연구 결과 공표 시 발생할 학교의 명예 실추를 우려하여 최종 보고서에서 이 내용을 누락시켰다.

— < 보기 > —

ㄱ. (가)에서는 피조사자의 익명성을 보장하지 않았다.
 ㄴ. (가)에서는 연구 대상자의 자발적 참여가 보장되지 않았다.
 ㄷ. (나)에서는 연구 결과 공표 시 인권을 존중하지 않았다.
 ㄹ. (나)에서는 연구 결과 작성 과정에서 가치 개입이 이루어 졌다.

- ① ㄱ, ㄴ ② ㄱ, ㄷ ③ ㄴ, ㄷ ④ ㄴ, ㄹ ⑤ ㄷ, ㄹ

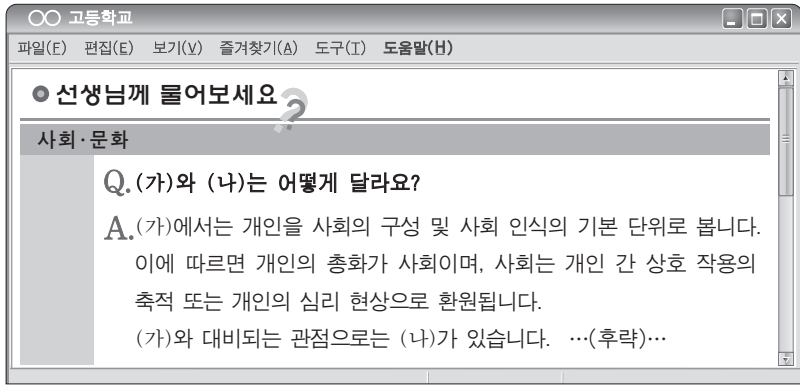
16. 표는 갑국의 혼인 형태별 비율의 변화를 나타낸 것이다. 이에 대한 분석으로 옳은 것은? [3점]

		1990년 (단위: %)		2010년 (단위: %)			
구분	남편	남편		구분	남편		
		초혼	재혼			초혼	재혼
아내	초혼	84	2	아내	초혼	68	9
	재혼	6	8		재혼	14	9

* 갑국은 일부일처제 국가이며, 혼인 형태는 초혼과 재혼으로만 구분됨.

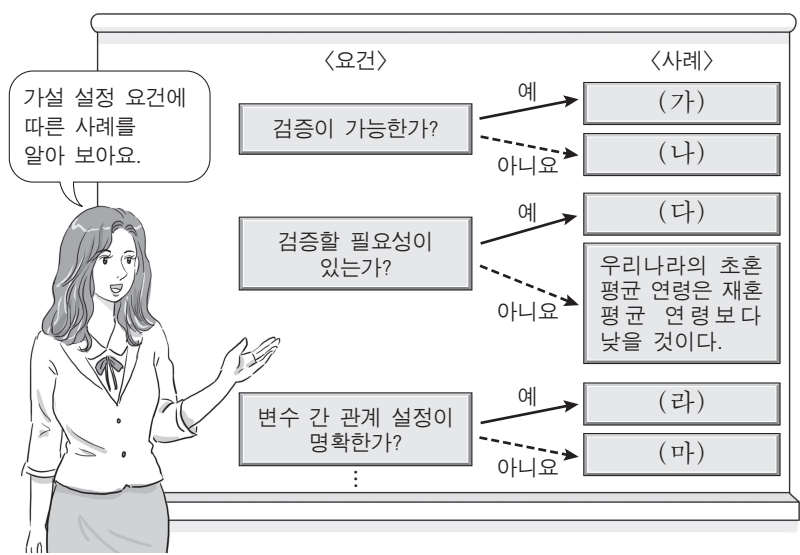
- ① 1990년 부부 모두 재혼인 혼인 건수는 아내만 재혼인 혼인 건수의 4배이다.
- ② 2010년 아내만 초혼인 혼인 건수는 남편만 초혼인 혼인 건수 보다 많다.
- ③ 남편이 초혼인 혼인 건수는 2010년보다 1990년에 더 많다.
- ④ 남편이 재혼인 혼인 건수 중 아내가 초혼인 혼인 건수의 비율은 1990년보다 2010년에 더 높다.
- ⑤ 부부 모두 초혼인 혼인 건수가 줄어든 것으로 볼 때 이혼율은 1990년보다 2010년에 더 높다.

17. 그림에서 개인과 사회의 관계를 바라보는 관점 (가), (나)의 일반적 특징에 대한 설명으로 옳은 것은?



- ① (가)는 개인의 자유 의지보다 사회 규범의 영향력을 중시한다.
- ② (나)는 사회를 개인에 외재하는 것으로 본다.
- ③ (가)는 거시적 구조를, (나)는 미시적 행위를 분석하는 데 유용하다.
- ④ (가)는 (나)에 비해 사회 문제 해결을 위한 제도적 개입을 강조한다.
- ⑤ (나)는 (가)에 비해 개인의 주체적, 능동적 역할을 강조한다.

18. 그림의 (가)~(마)에 들어갈 사례로 적절하지 않은 것은? [3점]



- ① (가) - 외모에 대한 자신감이 클수록 이성 친구가 많을 것이다.
- ② (나) - 의미 있는 학교 생활을 하기 위해서는 좋은 담임 교사를 만나야 할 것이다.
- ③ (다) - 부모와의 애착 정도가 자녀의 청소년기 비행에 영향을 미칠 것이다.
- ④ (라) - 자기 주도 학습 정도와 학업 성취도는 비례할 것이다.
- ⑤ (마) - 여성이 남성보다 스포츠 관련 여가 비용을 많이 지출할 것이다.

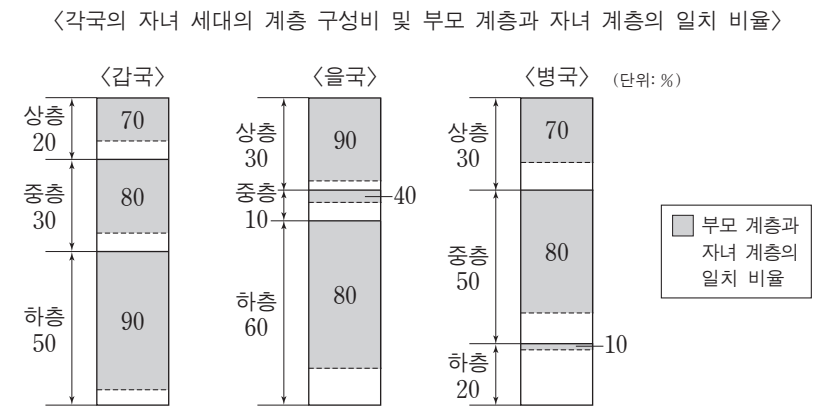
19. 밑줄 친 ㉠~㉤에 대한 옳은 설명만을 <보기>에서 있는 대로 고른 것은?

갑은 우리나라 프로 야구를 대표하는 ㉠ 전설적인 야구 선수이다. 최근 ㉡ 언론을 통해 발표된 그의 은퇴 소식에 팬들은 충격을 금할 수 없었다. ㉢ 40대의 최고령 선수지만 성적과 기량은 젊은 선수들 못지 않았기 때문에 팬들의 아쉬움은 더욱 컸다. ㉣ 구단은 갑에게 ㉤ 코치 연수와 ㉥ 은퇴식을 제안하였고 갑도 이를 수락하였다. 갑은 기자 회견에서 ㉦ 이번 시즌까지 선수 생활을 유지할까 하는 고민도 했었지만 좋은 모습일 때 마무리하고 싶어 은퇴 결정을 하게 되었다고 밝혔다.

— <보기> —
 가. 갑에게 ㉠은 성취 지위, ㉢은 귀속 지위이다.
 나. ㉡과 ㉣은 비공식적 사회화 기관이다.
 다. 갑에게 ㉤은 재사회화이자 예기 사회화이다.
 리. ㉥은 갑의 역할 행동에 대한 보상, ㉦은 갑의 역할 갈등이다.

- ① 가, 나 ② 가, 리 ③ 나, 다
- ④ 가, 다, 리 ⑤ 나, 다, 리

20. 그림에 대한 옳은 분석만을 <보기>에서 있는 대로 고른 것은? [3점]



— <보기> —
 가. 갑국에서 부모 계층과 자녀 계층이 일치하는 사람의 수를 보면 상층과 중층의 합이 하층보다 많다.
 나. 을국에서는 세대 간 상승 이동한 사람보다 세대 간 하강 이동한 사람이 많다.
 다. 병국에서는 부모 세대의 계층 구조에 비해 자녀 세대의 계층 구조가 안정적이다.
 리. 자녀 세대의 세대 간 이동 비율을 보면, 갑국은 하층에서 가장 낮고, 병국은 하층에서 가장 높다.

- ① 가, 나 ② 가, 다 ③ 나, 리
- ④ 가, 다, 리 ⑤ 나, 다, 리

* 확인 사항
 ○ 답안지의 해당란에 필요한 내용을 정확히 기입(표기)했는지 확인하십시오.