

# 사회탐구 영역(동아시아사)

## 제 4 교시

성명

수험번호

2

1

1. (가)에 들어갈 유물로 옳은 것은?

역사 박물관 스스로 학습지

**동아시아 △△△ 시대 토기 특별전**

제2 전시실 ○○문화


▶ 제2 전시실 관람 후 작성하세요.

일본에서는 ○○ 시대에 굵은 새끼줄 무늬가 특징인 토기가 만들어졌습니다. ○○ 시대라는 명칭은 이 토기의 이름에서 유래하였습니다. 배부된 토기 스티커 중에서 ○○ 시대를 대표하는 것을 붙여주세요.

(가)

▶ 관람 순서

제1 전시실 풍 용우옌 문화 → 제2 전시실 ○○ 문화 → 제3 전시실 양사오 문화



2. 자료를 통해 알 수 있는 시기의 동아시아 정세에 대한 설명으로 옳은 것은?

진(秦)이 쇠퇴하고 사회가 혼란스러운 틈을 이용하여, 진의 장수 짜에우 다가 어우락을 침범하자 특관이 신성한 쇄뇌로 물리쳤다. 이에 짜에우 다는 특관에게 화의를 청하고 자식들을 결혼시켰다. 이후 짜에우 다의 아들은 특관의 딸을 피어 쇄뇌를 부수게 하고 고향으로 돌아갔다. 얼마 후, 짜에우 다가 다시 어우락을 침략하자 특관은 도망쳤고, 짜에우 다는 남비엣(남월)을 건국하였다.

- ① 5호가 세운 여러 나라들이 통합되었다.
- ② 위만이 무리를 이끌고 고조선으로 망명하였다.
- ③ 고구려와 수의 대립으로 살수대첩이 일어났다.
- ④ 돌궐이 유연을 물리치고 대제국을 건설하였다.
- ⑤ 일본은 백강 전투에서 나·당 연합군에게 패하였다.

3. 다음과 같은 정치 조직을 갖춘 국가에 대한 옳은 설명을 <보기>에서 고른 것은?

이 국가의 정치 계급은 선우 아래 24등급으로 나뉘어 있었으며, 모든 등급은 좌·우로 구분되었다. 즉, 최고 통치권자인 선우 밑에 좌현왕과 우현왕이 있고, 이들이 각각 수 만의 군대를 지휘하였다. 이러한 체제 준비를 바탕으로 목특 선우는 한 고조와의 대립에서 우위를 점할 수 있었다.

< 보기 >

ㄱ. 베트남에 안남 도호부를 설치하였다.  
 ㄴ. 서역과의 중계 무역으로 이익을 얻었다.  
 ㄷ. 만리장성 이북의 초원 지대를 통합하였다.  
 ㄹ. 화북 지역으로 이주하여 균전제를 실시하였다.

- ① ㄱ, ㄴ                      ② ㄱ, ㄷ                      ③ ㄴ, ㄷ
- ④ ㄴ, ㄹ                      ⑤ ㄷ, ㄹ

4. 자료를 통해 알 수 있는 시기의 동아시아 경제 상황에 대한 옳은 설명을 <보기>에서 고른 것은? [3점]

세계유산 이와미 은광 유적

문화경관    은광의 역사연표    **은의 정련**

은은 분리법(회취법)은 재를 이용하여 순은을 추출하는 제련 기술이다. 이 기술은 전국 시대에 한반도에서 도입된 후 다이묘들의 재정 확보를 위한 은광 개발에 활용되었다. 이 기술이 보급되면서 당시 일본의 은 생산량은 전 세계 연간 은 생산량의 1/3을 차지할 정도로 급증하였다.

<공정 3: 회취>

이전    ▶ 다음

< 보기 >

ㄱ. 고려에서 은병이 제작되어 화폐로 사용되었다.  
 ㄴ. 일본에서 다이묘가 연공을 화폐로 징수하기 시작하였다.  
 ㄷ. 동아시아 무역에서 은이 중요한 결제 수단으로 사용되었다.  
 ㄹ. 중국에서 조세를 은으로 납부하는 일조편법이 전국적으로 시행되었다.

- ① ㄱ, ㄴ                      ② ㄱ, ㄷ                      ③ ㄴ, ㄷ
- ④ ㄴ, ㄹ                      ⑤ ㄷ, ㄹ

5. (가), (나) 조약 체결 사이에 일어난 사실로 옳은 것은? [3점]


- (가) 청국은 조선의 독립을 인정한다. / 랴오둥 반도 및 타이완, 평후 제도를 일본에 할양한다. / 배상금 2억 냥을 일본에 지불한다.
- (나) 러시아는 일본이 한국에서 정치·군사·경제상으로 탁월한 이익을 가진다는 것을 인정하고, 일본이 한국에서 필요하다고 인정하는 지도·보호 및 감리의 조치를 취하는 데 이를 저지하거나 간섭하지 않을 것을 약정한다.

- ① 아관 파천이 일어났다.
- ② 운요호 사건이 발발하였다.
- ③ 갑신정변으로 한성 조약이 체결되었다.
- ④ 일본은 대한 제국을 강제로 병합하였다.
- ⑤ 을사조약으로 대한 제국의 외교권이 박탈되었다.

6. 대화를 통해 알 수 있는 왕조에 대한 설명으로 옳지 않은 것은?

변발을 강요해서 어쩔 수 없이 자르기는 했지만, 머리카락 한 올까지도 부모님이 물려주신 것인데 속상하군.

나도 그러하네. 하지만 만한 병용제를 실시한다고 하니 우리 한족으로서는 그나마 다행이지 않은가.



- ① 지정은제를 실시하였다.
- ② 서하를 공격하여 멸망시켰다.
- ③ 광저우에서 공행 무역을 실시하였다.
- ④ 문자의 옥을 일으켜 사상을 통제하였다.
- ⑤ 실증적 연구를 강조하는 고증학이 유행하였다.

7. (가)에 들어갈 내용으로 적절한 것은?

동아시아사 연구회  
제1차 정기 학술 발표 대회

주 제: (가)

- 발표 내용 -

1. 신간회의 성립과 활동
2. 베트남 독립 동맹의 결성과 활동
3. 제1·2차 국민당과 공산당의 연합과 활동

일시: 2013. 11. △△ 오후 2시  
정소: ○○ 대학교 세미나실

- ① 좌우 합작과 민족 운동의 전개
- ② 토산품 애용 운동의 전개와 영향
- ③ 신분 차별 철폐를 위한 연대 활동
- ④ 국제 연합 창설과 평화 운동의 확산
- ⑤ 중·일 전쟁의 발발과 반전 시위의 확산

8. 밑줄 친 '이들'의 활동으로 옳은 것은? [3점]

동아시아 고서 검색

통합검색 | 신찬성씨록

이 책은 고대 일본의 왕족과 귀족의 계보를 기록한 것이다. 이 책에 기록된 1,000여 개의 성씨 중 1/3 정도가 신라인, 백제인, 고구려인, 가야인들의 성씨이다. 이를 통해 한반도에서 많은 사람들이 일본으로 이주했음을 알 수 있다. 한반도에서 건너 간 이들은 일본 고대 국가의 성립과 발전에 기여하였다.

- ① 조충을 처음으로 전하였다.
- ② 전 왕조 수립을 주도하였다.
- ③ 호한 융합 정책을 추진하였다.
- ④ 아스카 문화 형성에 영향을 주었다.
- ⑤ 쓰놈 문자를 만드는 데 주도적 역할을 하였다.

9. (가) 국가에 대한 설명으로 옳은 것은? [3점]

- 왕이 서경으로 가서 안북부에 머물렀을 때에 (가) 장수 소손녕이 우리 봉산군을 격파하였다는 말을 듣고 더 진격하지 못한 채 그만 돌아왔다. 그리하여 서회를 보내 화친을 청하니 소손녕이 침공을 중지하고 돌아갔다.
- 송의 황제가 조광사를 여진으로 보내었는데, 명분은 말을 사는 것이었지만 실제로는 (가)을 협공하여 연운 16주를 빼앗아 송으로 복귀시키는 일을 협약하는 것이었다.

- ① 시박사를 설치하였다.
- ② 파스파 문자를 사용하였다.
- ③ 이갑제로 향촌을 조직하였다.
- ④ 쿠릴타이에서 대칸을 선출하였다.
- ⑤ 남면관제와 북면관제를 실시하였다.


10. 다음을 통해 알 수 있는 동아시아 불교의 공통점으로 적절한 것은?

- 일본의 도다이 사에는 농업의 신(神)인 하치만 신상이 있다. 원래 신도(신토)에서는 신상을 제작하지 않았으나 불교의 영향으로 신상을 만들기 시작한 것이다.
- 한국의 일부 사찰에서는 산신각과 칠성각 등의 전각을 볼 수 있다. 또한 부석사에는 절의 수호신으로 용이 된 선묘를 모신 선묘각이 남아있다.

- ① 덕치와 천명 사상을 강조하였다.
- ② 무위자연하는 은둔 생활을 강조하였다.
- ③ 중생의 구제보다는 개인의 해탈을 중시하였다.
- ④ 토착화하는 과정에서 전통 신앙과 융합하였다.
- ⑤ 구체적 실천을 통해 양지(良知)에 도달할 수 있다고 보았다.


11. 자료를 통해 알 수 있는 전쟁이 동아시아에 끼친 영향으로 옳지 않은 것은?

○○ 전쟁과 동아시아 사람들



<김충선 기념비>

사야키는 가토 기요마사 군대의 좌선봉장으로 전쟁 중에 조선에 귀순하였다. 조선 조정에서는 그에게 '김충선'이라는 이름과 높은 벼슬을 내려주었다.



<이삼평 기념비>

이삼평은 전쟁 중에 일본에 끌려가 아리타 지역에 도자기 기술을 보급하였다. 이후 그는 일본에서 '도자기의 시조'로 불리며 추앙 받았다.

- ① 명의 제정이 악화되었다.
- ② 여진족이 세력을 키워 후금을 건국하였다.
- ③ 명과 일본 사이에 감합 무역이 시작되었다.
- ④ 조선은 국토가 황폐화되고 인구가 감소하였다.
- ⑤ 일본에서는 도쿠가와 이에야스가 에도 막부를 세웠다.

12. 가상의 판결문을 읽고 당시 사회 상황을 추론한 것으로 적절하지 않은 것은? [3점]

**판 결 문**

- 피고인: 양민 ○○
- 주 문: 피고인을 교수형에 처한다.
- 이 유: 이 사건은 양민이 자신의 집 노비를 죽인 경우이다. 노비가 양민을 살해하면 사형에 처하고, 양민이 노비를 살해하면 도형 1년에 해당한다. 이에 도형 1년에 처해야 하나, 피고의 행위가 고의적이고, 이를 말리는 자신의 부모에게 욕을 하였으므로 가중 처벌하여 교수형에 처한다.
- 적 용: 당률 제스 조

- ① 유교의 가족 윤리가 반영되었다.
- ② 신분에 따라 형벌이 차등 적용되었다.
- ③ 불교와 유교의 결합을 보여 주고 있다.
- ④ 범죄자를 처벌하는 율(律)이 적용되었다.
- ⑤ 고의와 과실 여부를 판단하여 다르게 처벌하였다.


13. 밑줄 친 '침공'이 일어난 시기를 연표에서 고른 것은?

쿠빌라이가 즉위한 뒤, 일본에 사자를 보내어 항복을 권유했으나 거절당하였다. 이에 고려에 정동행성을 세워 대규모 전쟁을 준비하여 일본을 침공했지만 일본인의 저항과 태풍으로 좌절되었다. 이때 일본인들은 2~3만 명의 포로 중에서 몽골인과 고려인, 한인은 모두 죽이고, 신부군\*은 죽이지 않고 노예로 삼았다.

\* 신부군: 멸망한 남송인들로 구성된 군대

	(가)	(나)	(다)	(라)	(마)
	다이카 개신	나라 시대 시작	헤이안 천도	가마쿠라 막부 성립	무로마치 막부 성립
① (가)	② (나)	③ (다)	④ (라)	⑤ (마)	

14. 자료를 통해 알 수 있는 사상이 동아시아 각국에 끼친 영향으로 적절하지 않은 것은?



인간과 사회, 인간과 우주는 이(理)라는 보편적인 원리에 의해 하나로 묶여 있습니다. 우리는 거경공리와 격물치지의 수행을 통해 본성을 회복해야 합니다.

- ① 조선 - 삼강행실도가 편찬되었다.
- ② 일본 - 사서오경왜훈이 간행되었다.
- ③ 중국 - 대의명분론과 화이관이 강조되었다.
- ④ 조선 - 서원이 건립되고 향약이 널리 보급되었다.
- ⑤ 중국 - 혈연 관계에 기반을 둔 봉건제가 시작되었다.

15. 자료를 통해 알 수 있는 왕조의 경제 상황으로 옳은 것은? [3점]


- 조정은 민간의 지폐 발행 권리를 회수하고 익주에 교자무를 설립하여 교자의 인쇄 및 발행을 책임지도록 하였다. 이후 곧바로 수도 카이펑에 교자무를 설치하여 전국을 대상으로 한 교자 발행 사무를 담당하도록 하였다.
- 석탄의 사용이 보편화되면서 제철, 도자기 등 수공업 분야가 발전하였다. 특히 징더전은 도자기 제작의 중심지로 성장하여 이곳에서 생산된 도자기가 고려와 일본, 동남아시아까지 수출되었다.

- ① 무역을 허가하는 슈인장을 발급하였다.
- ② 점성도가 도입되고 이모작이 발달하였다.
- ③ 묘수가 등장하여 장원의 농민을 관리하였다.
- ④ 감자, 고구마, 옥수수 등의 작물이 재배되었다.
- ⑤ 유립 상인들이 판매하는 아편이 대량으로 유입되었다.

16. 다음 그림이 유행한 시기에 동아시아에서 볼 수 있는 모습으로 옳은 것은?



<민화>



<우키요에>

- ① 빈공과에 응시하는 외국인
- ② 만권당 설립을 축하하는 학자
- ③ 황소의 난을 진압하러 가는 절도사
- ④ 교초를 내고 비단을 구입하는 상인
- ⑤ 산킨고타이를 하기 위해 에도로 가는 다이묘

17. 다음 회의의 결과로 옳은 것은? [3점]

이 회의는 제1차 세계 대전 이후 동아시아를 둘러싼 열강 간의 갈등을 조절하기 위해 미국의 주도로 워싱턴에서 개최되었다. 미국, 영국, 일본을 비롯한 9개국이 참가하였는데, 각국의 군함 보유량 제한 및 중국에 대한 열강 간의 이익 균점을 보장함으로써 무력 충돌 없이 평화를 유지하고자 하였다.

- ① 중국에서 5·4 운동이 일어났다.
- ② 제2차 영·일 동맹이 체결되었다.
- ③ 대한민국 임시 정부가 수립되었다.
- ④ 일본은 산둥성에 관한 권익을 포기하였다.
- ⑤ 류큐와 홋카이도가 일본 영토에 병합되었다.

18. 자료를 통해 알 수 있는 외교 형식의 특징으로 옳은 것은? [3점]

- 당 고조 7년 2월, 고(구)려왕 건무가 사신을 보내 책력 반포를 청하였다. 이에 사신을 보내 건무를 요동군왕 고(구)려왕으로 책봉하였다. - 『자치통감』 -
- 수 문제가 “고구려 왕이 해마다 사신을 보내 항상 조공하지 않으며, 번부라 칭하지만 성절을 다하지 않는다.”며 책망하였다. - 『수서』 -

- ① 북위의 외교 정책에서 시작되었다.
- ② 호혜 평등의 원칙을 바탕으로 하고 있다.
- ③ 만국공법에 의한 국제 질서를 강조하였다.
- ④ 중국을 중심으로 하는 의례적인 외교 관계이다.
- ⑤ 중국이 군사적 우위를 차지할 때에만 적용되었다.

19. (가) ~ (마)에 해당하는 활동으로 적절하지 않은 것은? [3점]

수행 평가 모듈별 과제 안내

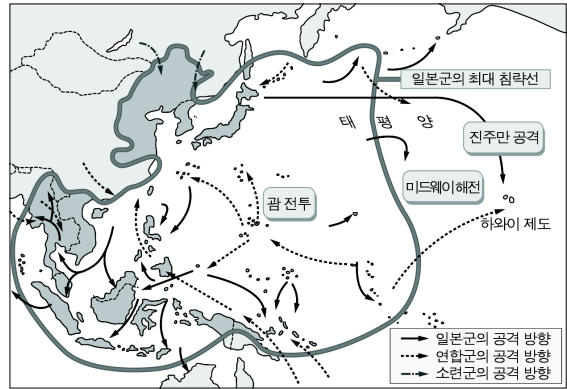
- 주 제: 서구 문물의 수용과 사회 변화
- 목 표: 개항 이후 서구 문물 수용으로 인해 동아시아 각국에 나타난 생활 모습의 변화를 이해할 수 있다.
- 방 법: 모듈별로 조사한 내용을 UCC나 PPT로 제작하여 제출

<모듈별 조사 내용>

- 1모듈: 신문의 보급과 역할 .....(가)
- 2모듈: 근대 교육의 실시와 영향 .....(나)
- 3모듈: 철도의 건설과 사회 변화 .....(다)
- 4모듈: 근대적 시간 개념의 형성 .....(라)
- 5모듈: 개항장과 도시의 형성 .....(마)

- ① (가) - 독립신문, 신보, 마이니치 신문에 대해 조사한다.
- ② (나) - 신사증이 향촌에서 지배 세력으로 등장한 배경을 파악한다.
- ③ (다) - 기관사, 매표원 등 새롭게 등장한 직업에 대해 알아본다.
- ④ (라) - 배재학당 규칙에 나타난 서구식 시간 개념을 분석한다.
- ⑤ (마) - 부산, 상하이, 요코하마 등에 설치된 조계지를 찾아본다.

20. 지도를 통해 알 수 있는 전쟁이 전개된 시기의 국제 관계에 대한 옳은 설명을 <보기>에서 고른 것은? [3점]



<보기>

- ㄱ. 일본은 루순과 다렐을 조차지로 획득하였다.
- ㄴ. 일본과 미국은 가쓰라·태프트 밀약을 맺었다.
- ㄷ. 카이로 회담에서 일본의 전후 처리 문제가 논의되었다.
- ㄹ. 한국 광복군이 연합군의 일원으로 대일전에 참여하였다.

- ① ㄱ, ㄴ                      ② ㄱ, ㄷ                      ③ ㄴ, ㄹ
- ④ ㄴ, ㄹ                      ⑤ ㄷ, ㄹ

※ 확인사항

문제지와 답안지의 해당란을 정확히 기입(표기)했는지 확인하십시오.