

제 4 교시

과학탐구 영역(화학 I)

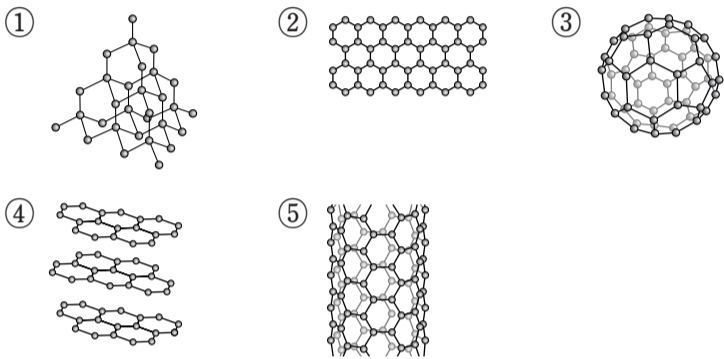
성명

수험 번호

1. 다음은 물질 X에 대한 설명이다.

탄소의 동소체 중 X은/는 각 탄소 원자가 4개의 인접한 탄소 원자와 사면체 모양으로 공유 결합을 하고 있으며, 매우 단단한 물질 중의 하나로 알려져 있다.

X의 구조로 가장 적절한 것은?



2. 다음은 4가지 질소 화합물이다.



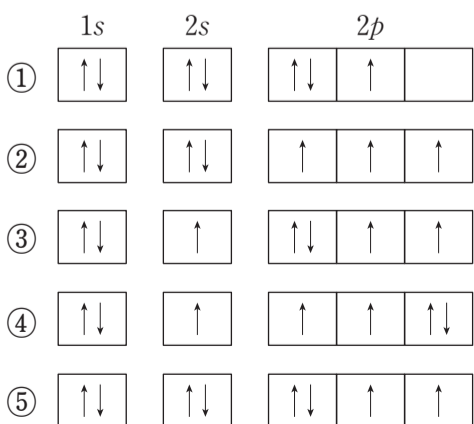
이 화합물에 있는 질소(N)의 산화수 중 가장 큰 값은?

- ① 1 ② 3 ③ 4 ④ 5 ⑤ 7

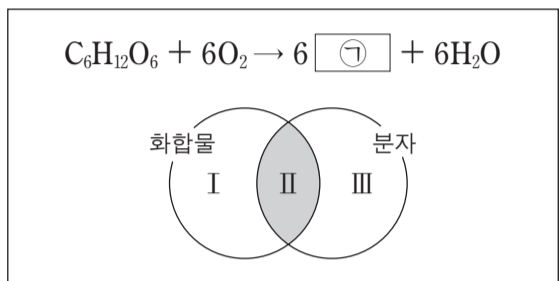
3. 다음은 현대 원자 모형에서 바닥 상태 전자 배치에 이용되는 원리 및 규칙이다.

- 쌓임 원리
- 파울리 배타 원리
- 훈트 규칙

이에 따른 s₀⁺의 바닥 상태 전자 배치로 옳은 것은?



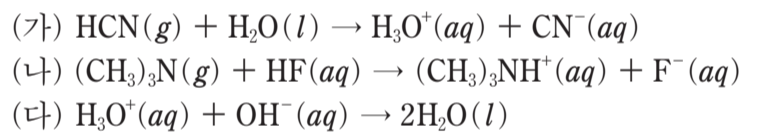
4. 다음은 포도당 연소 반응의 화학 반응식과 이 반응의 물질을 화합물과 분자로 분류하는 벤 다이어그램이다.



이 반응의 물질에 대한 설명으로 옳지 않은 것은?

- ① ㉠은 CO₂이다.
 ② C₆H₁₂O₆을 구성하는 원소는 3가지이다.
 ③ I 영역에 속하는 것은 1가지이다.
 ④ H₂O은 II 영역에 속한다.
 ⑤ O₂는 III 영역에 속한다.

5. 다음은 산 염기 반응의 화학 반응식이다.



이에 대한 설명으로 옳은 것만을 <보기>에서 있는 대로 고른 것은?

—————<보기>—————
 ㄱ. (가)에서 HCN(g)는 아레니우스 산이다.
 ㄴ. (나)에서 (CH₃)₃N(g)은 브뢴스테드-로우리 염기이다.
 ㄷ. (다)에서 OH⁻(aq)은 루이스 염기이다.

- ① ㄱ ② ㄷ ③ ㄱ, ㄴ ④ ㄴ, ㄷ ⑤ ㄱ, ㄴ, ㄷ

6. 다음은 2가지 탄화수소의 화학식이다.

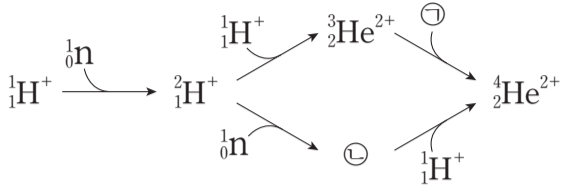


이 탄화수소의 공통점으로 옳은 것만을 <보기>에서 있는 대로 고른 것은? [3점]

—————<보기>—————
 ㄱ. 실험식이 C₂H₃이다.
 ㄴ. 2중 결합이 있다.
 ㄷ. 분자의 구조는 평면 구조이다.

- ① ㄱ ② ㄷ ③ ㄱ, ㄴ ④ ㄴ, ㄷ ⑤ ㄱ, ㄴ, ㄷ

7. 그림은 빅뱅 이후 우주에서 양성자(${}^1_1\text{H}^+$)와 중성자(n)로부터 헬륨 원자핵이 생성되는 과정을 나타낸 것이다.



이 과정의 입자에 대한 설명으로 옳은 것만을 <보기>에서 있는 대로 고른 것은?

- <보기> —————
- ㄱ. ㉠은 중성자이다.
 - ㄴ. ㉡은 ${}^3_2\text{He}$ 의 동위 원소의 원자핵이다.
 - ㄷ. $\frac{\text{전하량}}{\text{질량}}$ 값이 가장 큰 것은 ${}^1_1\text{H}^+$ 이다.

- ① ㄱ ② ㄴ ③ ㄱ, ㄷ ④ ㄴ, ㄷ ⑤ ㄱ, ㄴ, ㄷ

8. 표는 4가지 분자 HCN, CO₂, OF₂, CH₄을 3가지 기준에 따라 각각 분류한 결과를 나타낸 것이다.

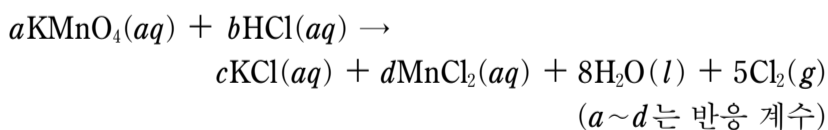
분류 기준	예	아니요
(가)	HCN, CO ₂	OF ₂ , CH ₄
입체 구조인가?	㉠	㉡
극성 분자인가?	㉢	㉣

이에 대한 설명으로 옳은 것만을 <보기>에서 있는 대로 고른 것은? [3점]

- <보기> —————
- ㄱ. (가)에 '공유 전자쌍의 수가 4개인가?'를 적용할 수 있다.
 - ㄴ. ㉡에 해당되는 분자에는 비공유 전자쌍이 있다.
 - ㄷ. ㉠과 ㉣에 공통으로 해당되는 분자는 모양이 정사면체형이다.

- ① ㄱ ② ㄴ ③ ㄷ ④ ㄱ, ㄴ ⑤ ㄴ, ㄷ

9. 다음은 과망가니즈산 칼륨(KMnO₄)과 진한 염산(HCl(aq))이 반응하는 산화 환원 반응의 화학 반응식이다.

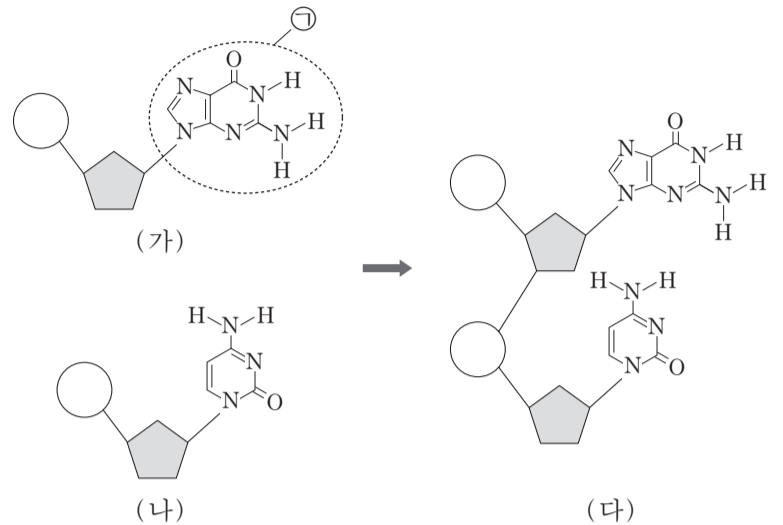


이 반응에 대한 설명으로 옳은 것만을 <보기>에서 있는 대로 고른 것은? [3점]

- <보기> —————
- ㄱ. HCl(aq)은 산화제이다.
 - ㄴ. Mn의 산화수는 +7에서 +2로 감소한다.
 - ㄷ. $\frac{b}{a} = 8$ 이다.

- ① ㄱ ② ㄴ ③ ㄷ ④ ㄱ, ㄷ ⑤ ㄴ, ㄷ

10. 그림은 각각 구아닌과 사이토신을 갖는 뉴클레오타이드의 결합 과정을 모식적으로 나타낸 것이다.



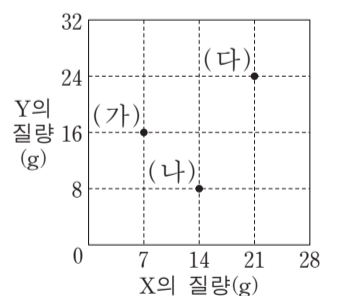
이에 대한 설명으로 옳은 것만을 <보기>에서 있는 대로 고른 것은?

- <보기> —————
- ㄱ. (가)와 (나)가 결합하여 (다)가 될 때, (가)의 당과 (나)의 인산이 결합한다.
 - ㄴ. (나)의 염기에는 확장된 옥텟 규칙을 만족하는 원자가 존재한다.
 - ㄷ. ㉠은 DNA 2중 나선에서 상보적 염기와 4개의 수소 결합을 한다.

- ① ㄱ ② ㄴ ③ ㄷ ④ ㄱ, ㄴ ⑤ ㄴ, ㄷ

11. 다음은 원소 X, Y로 이루어진 순물질 (가)~(다)에 대한 자료이다.

- (가)~(다)는 각각 실험식과 분자식이 같다.
- (다)를 구성하는 X원자의 수와 Y원자의 수는 같다.



이에 대한 설명으로 옳은 것만을 <보기>에서 있는 대로 고른 것은? (단, X, Y는 임의의 원소 기호이다.) [3점]

- <보기> —————
- ㄱ. 분자량은 (다)가 (가)보다 크다.
 - ㄴ. 1g 속에 들어 있는 분자의 몰수는 (나)가 (가)보다 크다.
 - ㄷ. 1몰의 X와 결합하는 Y의 몰수는 (다)가 (나)의 2배이다.

- ① ㄱ ② ㄴ ③ ㄱ, ㄷ ④ ㄴ, ㄷ ⑤ ㄱ, ㄴ, ㄷ

12. 다음은 알루미늄(Al)과 염산(HCl(aq))이 반응할 때의 화학 반응식이다.



학생 A는 부피가 1.0 cm³인 Al(s)이 충분한 양의 HCl(aq)과 반응할 때 생성되는 H₂(g)의 질량을 <보기>에 있는 자료를 이용하여 이론적으로 구하려고 한다.

학생 A가 반드시 이용해야 할 자료만을 <보기>에서 있는 대로 고른 것은? (단, 온도와 압력은 25°C, 1기압이다.) [3점]

— <보기> —

ㄱ. H₂(g) 1몰의 부피
 ㄴ. Al(s)의 밀도
 ㄷ. H와 Al의 원자량

- ① ㄱ ② ㄴ ③ ㄱ, ㄷ ④ ㄴ, ㄷ ⑤ ㄱ, ㄴ, ㄷ

13. 그림은 주기율표의 일부를, 표는 안정한 화합물 (가)~(라)의 화학식을 나타낸 것이다.

족 \ 주기	1	2	13	14	15	16	17	18
1	A							
2				B		C	D	
3		E						

화합물	(가)	(나)	(다)	(라)
화학식	AD	A ₂ C	BD ₄	E _x D _y

(가)~(라)에 대한 설명으로 옳은 것만을 <보기>에서 있는 대로 고른 것은? (단, A~E는 임의의 원소 기호이다.)

— <보기> —

ㄱ. 공유 결합 화합물은 3가지이다.
 ㄴ. 분자의 결합각은 (나)가 (다)보다 크다.
 ㄷ. (라)에서 x는 y보다 크다.

- ① ㄱ ② ㄷ ③ ㄱ, ㄴ ④ ㄴ, ㄷ ⑤ ㄱ, ㄴ, ㄷ

14. 표는 바닥 상태인 원자 A~D의 원자가 전자 수(a)와 홀전자 수(b)의 차(a-b)를 나타낸 것이다. A~D는 각각 N, F, Na, S 중 하나이다.

	A	B	C	D
a-b	0	2	4	6

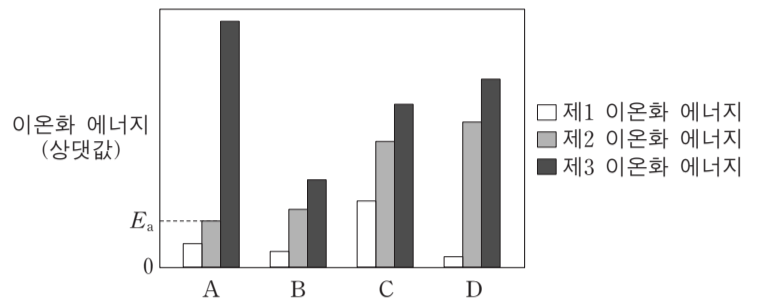
A~D에 대한 설명으로 옳은 것만을 <보기>에서 있는 대로 고른 것은?

— <보기> —

ㄱ. 전기 음성도가 가장 큰 원소는 D이다.
 ㄴ. 전자가 들어 있는 오비탈의 수는 C가 B의 2배이다.
 ㄷ. Ne의 전자 배치를 갖는 이온의 반지름은 D가 A보다 크다.

- ① ㄱ ② ㄴ ③ ㄱ, ㄷ ④ ㄴ, ㄷ ⑤ ㄱ, ㄴ, ㄷ

15. 그림은 원자 번호가 연속인 2, 3주기 원자의 제1~제3 이온화 에너지를 나타낸 것이다. A~D는 임의의 원소 기호이며, 원자 번호 순서가 아니다.



A~D에 대한 설명으로 옳은 것만을 <보기>에서 있는 대로 고른 것은? [3점]

— <보기> —

ㄱ. 원자 A가 옥텟 규칙을 만족하는 양이온이 되는데 필요한 최소 에너지는 E_a이다.
 ㄴ. 원자가 전자가 느끼는 유효 핵전하는 원자 A가 D보다 크다.
 ㄷ. 3주기 원소는 3가지이다.

- ① ㄱ ② ㄴ ③ ㄷ ④ ㄱ, ㄴ ⑤ ㄴ, ㄷ

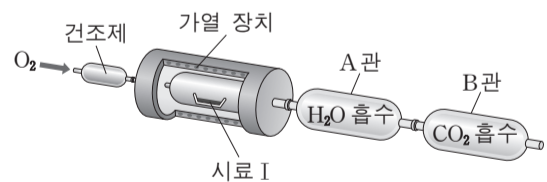
16. 다음은 탄화수소의 실험식을 구하는 실험이다.

[시료]

- 시료 I : 탄화수소 X
- 시료 II : 탄화수소 X와 Y의 혼합물 (X의 질량 백분율 = 65%)

[실험 과정]

(가) 그림과 같은 장치에 일정량의 시료 I을 넣고 산소를 충분히 공급하면서 가열하여 완전 연소시킨다.



- (나) 반응 후 A관과 B관의 증가한 질량을 구한다.
- (다) 시료 II에 대하여 (가)와 (나)를 수행한다.

[실험 결과]

시료	증가한 질량(mg)	
	A관	B관
I	18	88
II	18	66

Y의 실험식은? (단, H, C, O의 원자량은 각각 1, 12, 16이다.) [3점]

- ① CH ② CH₂ ③ CH₃ ④ C₂H₃ ⑤ C₃H₄

17. 그림은 수소 원자의 선 스펙트럼에서 가시광선 영역을 나타낸 것이다.



이에 대한 설명으로 옳은 것만을 <보기>에서 있는 대로 고른 것은? (단, 수소 원자의 에너지 준위 $E_n = -\frac{k}{n^2}$ 이고, n 은 주양자수, k 는 상수이다.) [3점]

— <보기> —

ㄱ. 410nm 선에 해당하는 빛은 라이먼 계열에 속한다.
 ㄴ. $3p$ 오비탈에 전자가 있는 수소 원자가 이온화될 때 필요한 최소 에너지는 656nm 선에 해당하는 빛에너지보다 작다.
 ㄷ. $n=2$ 에서 $n=4$ 로 전자가 전이될 때 흡수하는 에너지는 656nm 선에 해당하는 빛에너지의 $\frac{27}{20}$ 배이다.

- ① ㄱ ② ㄴ ③ ㄷ ④ ㄱ, ㄴ ⑤ ㄴ, ㄷ

18. 다음은 기체 A와 B의 반응에 대한 자료와 실험이다.

[자료]

- 화학 반응식: $2A(g) + bB(g) \rightarrow 2C(g)$ (b 는 반응 계수)
- A와 일정한 질량의 B를 반응시켰을 때, A의 질량에 따른 C의 질량

[실험 과정]

(가) 그림과 같이 기체 A와 B를 콕으로 연결된 용기에 넣는다.

(나) 콕 I을 열어 반응을 완결한 후 용기 속 기체의 분자 수비를 구한다.
 (다) 콕 II를 열어 반응을 완결한 후 용기 속 기체의 몰수비를 구한다.

[실험 결과]

- (나)에서 B와 C의 분자 수 비는 2 : 1이다.
- (다)에서 A와 C의 몰수 비는 2 : 5이다.

반응 계수(b)와 (가)의 w 를 곱한 값($b \times w$)은?

- ① 11.2 ② 12.0 ③ 22.4 ④ 33.6 ⑤ 36.0

19. 다음은 2주기 원소 X~Z에 대한 자료이다.

- X~Z 중 금속 원소가 있다.
- 원자 X~Z의 홀전자 수의 합은 5이다.
- 전자가 들어 있는 p 오비탈 수는 원자 Y와 Z가 같다.
- 전자가 모두 채워진 오비탈 수는 원자 Y가 Z보다 크다.
- 제1 이온화 에너지는 원자 Y가 Z보다 크다.

이에 대한 설명으로 옳은 것만을 <보기>에서 있는 대로 고른 것은? (단, X~Z는 임의의 원소 기호이고, 모든 원자는 바닥 상태이다.) [3점]

— <보기> —

ㄱ. X는 Be이다.
 ㄴ. Y_2 에는 다중 결합이 있다.
 ㄷ. Z의 수소 화합물(ZH_n)은 분자의 쌍극자 모멘트가 0이 아니다.

- ① ㄱ ② ㄴ ③ ㄷ ④ ㄱ, ㄷ ⑤ ㄴ, ㄷ

20. 표는 염산($HCl(aq)$)과 수산화 나트륨 수용액($NaOH(aq)$)을 혼합한 용액 (가)와 (나)에 대한 자료이다.

혼합 용액		(가)	(나)
혼합 전 용액의 부피(mL)	$HCl(aq)$	30	10
	$NaOH(aq)$	x	y
단위 부피당 이온 모형 (\blacktriangle : Na^+ , \circ : Cl^-)			

이에 대한 설명으로 옳은 것만을 <보기>에서 있는 대로 고른 것은? (단, 혼합 용액의 부피는 혼합 전 각 용액의 부피의 합과 같다.) [3점]

— <보기> —

ㄱ. $x + y = 20$ 이다.
 ㄴ. 같은 부피의 $HCl(aq)$ 과 $NaOH(aq)$ 을 혼합한 용액은 산성이다.
 ㄷ. 중화 반응에서 생성된 물의 분자 수는 (가)가 (나)의 6배이다.

- ① ㄱ ② ㄴ ③ ㄱ, ㄷ ④ ㄴ, ㄷ ⑤ ㄱ, ㄴ, ㄷ

* 확인 사항
 ○ 답안지의 해당란에 필요한 내용을 정확히 기입(표기)했는지 확인 하시오.