

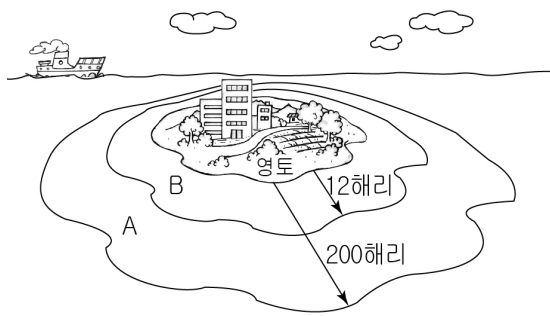
제 4 교시

사회탐구 영역 (지리)

성명		수험번호					1		
----	--	------	--	--	--	--	---	--	--

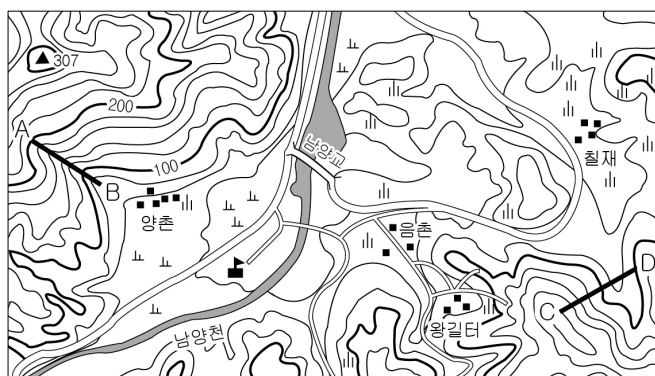
- 자신이 선택한 과목의 문제지인지 확인하시오.
- 문제지에 성명과 수험번호를 정확히 써 넣으시오.
- 답안지에 성명과 수험번호를 써 넣고, 또 수험번호와 답을 정확히 표시하시오.
- 과목을 선택한 순서대로 풀고, 답은 답안지의 '제1선택'란에서부터 차례대로 표시하시오.
- 문항에 따라 배점이 다르니, 각 물음의 끝에 표시된 배점을 참고하시오. 3점 문항에만 점수가 표시되어 있습니다. 점수 표시가 없는 문항은 모두 2점입니다.


1. 자료는 가상 국가의 영역 모식도이다. 이에 대한 설명으로 옳은 것은?



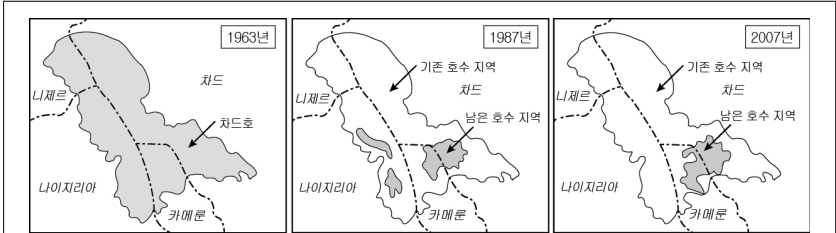
- ① A는 연안국이 자원에 대한 배타적 권한을 갖는다.
- ② B의 기선은 만조 때의 해안선이다.
- ③ A와 B의 상공은 영공에 해당한다.
- ④ 우리나라의 울릉도에서 B는 직선기선을 적용한다.
- ⑤ 타국 선박이 A를 지나갈 경우 사전 허가를 받아야 한다.

2. 지형도에 대한 분석으로 옳은 것은? [3점]



- ① 지도의 축척은 1:25,000이다.
- ② 칠재 주변에서는 벼농사를 한다.
- ③ 학교는 양촌의 남서쪽에 위치한다.
- ④ A-B는 계곡에 해당한다.
- ⑤ C-D의 단면은 로 나타난다.


3. 자료에 나타난 인간과 자연과의 관계와 유사한 사례로 적절한 것은? [3점]



아프리카의 차드호는 주변국의 인구 증가로 인해 호수로 유입하는 강물을 다른 곳으로 돌려 사용하면서 면적이 1/10로 줄어들었다. 호수 면적의 감소로 어민들은 어업 활동을 포기하였고 생존의 위협까지 받고 있다.

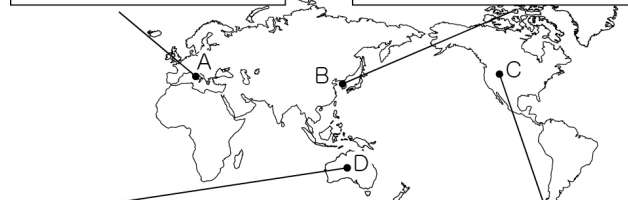
- ① 다랭이 마을에서는 급한 경사면을 개간하여 논농사를 짓고 있다.
- ② 남부 지방의 전통 가옥은 북부 지방에 비해 개방적인 성격이 강하다.
- ③ 안산시의 '국경 없는 마을'에서는 다양한 외국인의 문화를 접할 수 있다.
- ④ 충주댐이 건설된 이후 주변 지역의 안개 일수가 많아지고 냉해가 증가하였다.
- ⑤ 거가대교가 완공된 후 부산시와 거제시 간의 통행 시간이 단축되고 물류 비용이 감소하였다.

4. 그림과 같은 기후 현상이 나타나는 지역을 지도에서 고른 것은? [3점]



이탈리아에서는 사하라 사막으로부터 뜨겁고 건조한 바람이 불 때 산불이 많이 발생해요.

영서 지방에서는 늦봄에서 초여름 북동풍이 불 때 기온이 상승하고 가뭄이 들어요.



오스트레일리아 내륙은 아열대 고압대의 영향으로 하강기류가 발생하여 건조해요.

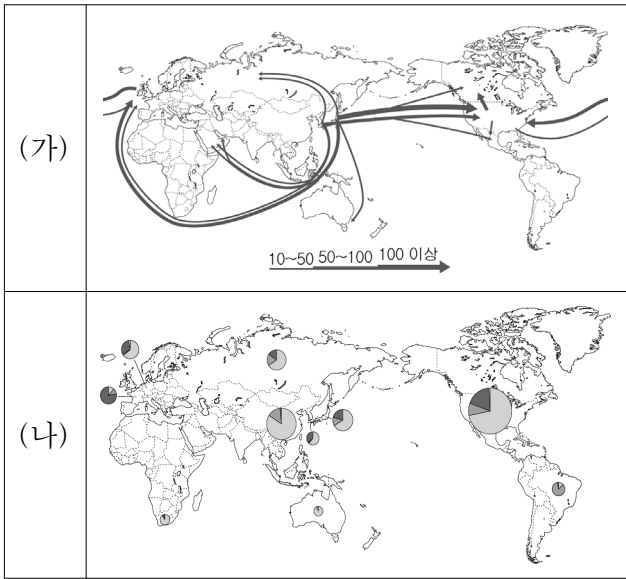
로키산맥 동쪽 사면에서는 봄철 서풍이 불 때 눈이 빠르게 녹아요.

- ① A, B ② A, C ③ B, C ④ B, D ⑤ C, D

5. 밑줄 친 ㉠~㉥에 대한 설명으로 옳지 않은 것은? [3점]

조선 후기에 제작된 대동여지도는 ㉠ 지도표를 사용하였으며, ㉡ 목판본으로 제작되었다. 또한, 남북 22단, 동서 19면으로 나누어 병풍처럼 접고 펼 수 있게 만든 ㉢ 분첩절첩식 지도이다. 도로에는 ㉣ 10리마다 방점을 표시하였고, 하천은 ㉤ 쌍선과 단선으로 표현하였다.

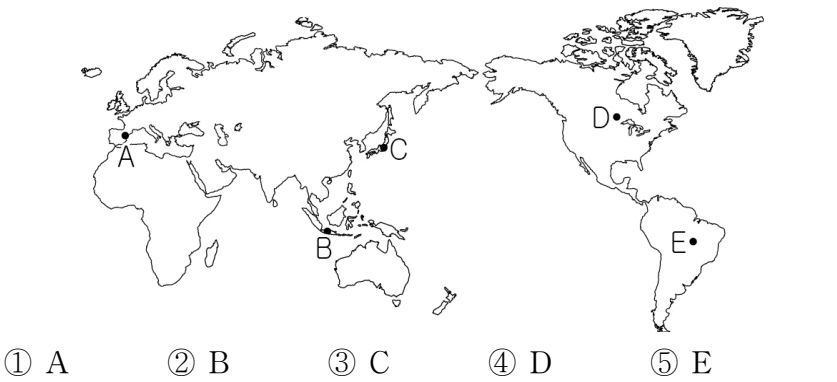
- ① ㉠ - 기호를 통해 논밭의 분포를 알 수 있다.
 - ② ㉡ - 지도의 인쇄와 보급에 유리하다.
 - ③ ㉢ - 이동시 휴대가 편리하다.
 - ④ ㉣ - 두 고을 간의 거리를 파악할 수 있다.
 - ⑤ ㉤ - 배가 다닐 수 있는 하천을 구분할 수 있다.
6. (가), (나)와 같은 통계 지도의 유형으로 가장 적절하게 표현할 수 있는 지리 정보를 <보기>에서 고른 것은?



<보기>
 가. 세계 연평균 기온 나. 국가별 인구 밀도
 다. 세계의 석유 이동 라. 국가별 농산물 생산량

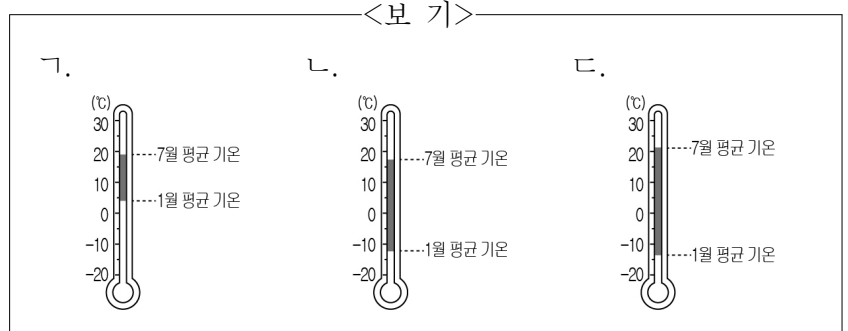
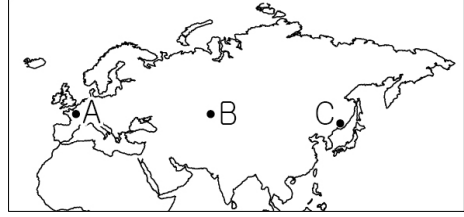
- | | | | |
|-------|-------|-------|-------|
| (가) | (나) | (가) | (나) |
| ① 가 나 | ② 가 다 | ③ 나 라 | ④ 나 다 |
| ⑤ 다 라 | | | |
7. 자료와 같은 농업 경관을 보이는 지역을 지도에서 고른 것은?

고온 건조한 여름철에는 코르크, 올리브, 오렌지, 포도 등을 재배하는 수목 농업이 이루어지며, 온난 습윤한 겨울철에는 밀, 보리 등을 재배하는 곡물 농업이 이루어진다.



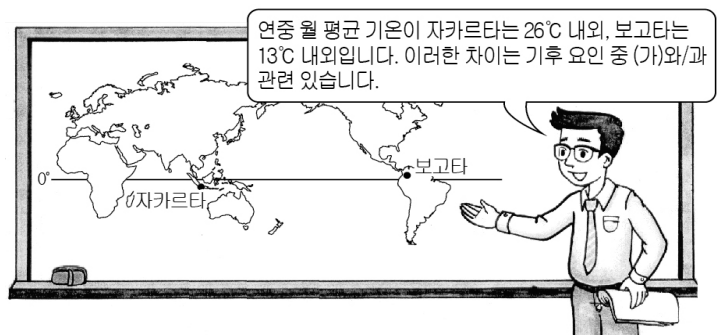
- ① A ② B ③ C ④ D ⑤ E

8. 비슷한 위도에 위치한 A~C 지역의 기온 자료로 적합한 것을 <보기>에서 고른 것은? [3점]



- | | | | | | | | |
|---|---|---|---|---|---|---|---|
| | A | B | C | | A | B | C |
| ① | 가 | 나 | 다 | ② | 가 | 다 | 나 |
| ③ | 나 | 가 | 다 | ④ | 나 | 다 | 가 |
| ⑤ | 다 | 가 | 나 | | | | |

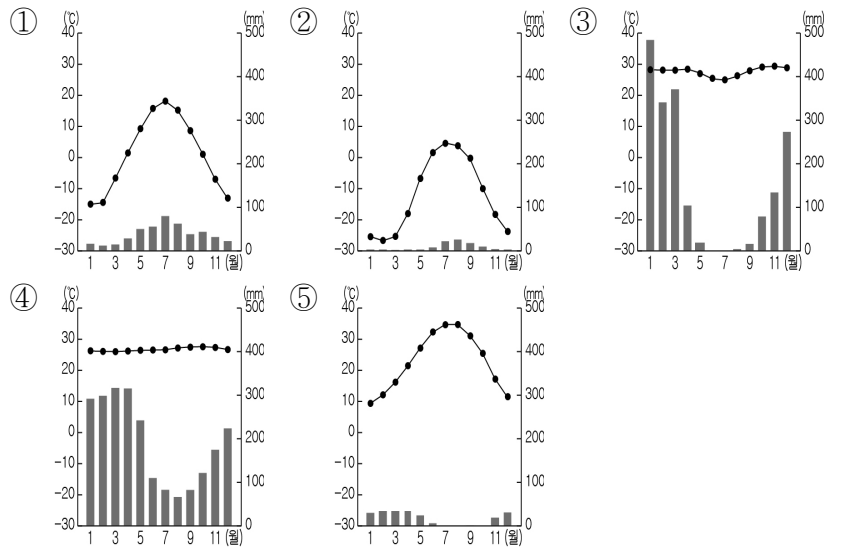
9. 교사의 수업 내용 중 (가)에 들어갈 내용으로 옳은 것은?



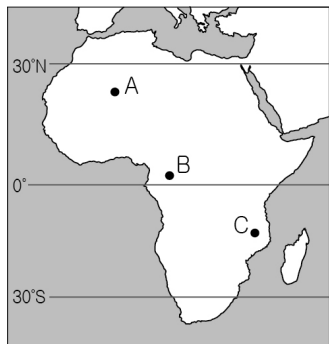

- ① 해류 ② 기단 ③ 격해도
- ④ 수륙 분포 ⑤ 해발 고도

10. 밑줄 친 지역의 기후 그래프로 알맞은 것은? [3점]

이 지역은 겨울이 길고 한랭하며, 기온의 연교차가 크다. 타이가라 불리는 침엽수림이 분포하여 임업이 발달하였다. 토양은 유기질이 잘 분해되지 않아 척박하고 회백색을 띤다.



11. (가)~(다)와 같은 자연 경관이 나타나는 지역을 지도의 A~C에서 고른 것은?



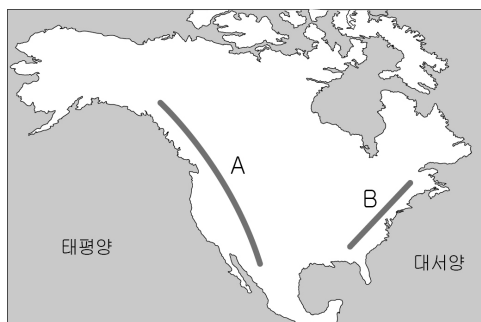
- | | | | | | | | |
|---|-----|-----|-----|---|-----|-----|-----|
| | (가) | (나) | (다) | | (가) | (나) | (다) |
| ① | A | B | C | ② | A | C | B |
| ③ | B | A | C | ④ | B | C | A |
| ⑤ | C | A | B | | | | |

12. (가), (나) 곡류 하천의 일반적 특성으로 옳지 않은 것은? [3점]



- ① (가) 주변에는 하안단구가 발달한다.
- ② (가)는 주로 하천의 상류에서 발달한다.
- ③ (나)에는 하중도, 우각호가 발달한다.
- ④ (나)는 측방 침식보다 하방 침식이 우세하다.
- ⑤ (나)는 (가)에 비해 홍수 시 범람의 위험이 크다.

13. A, B 산맥에 대한 옳은 설명을 <보기>에서 고른 것은?

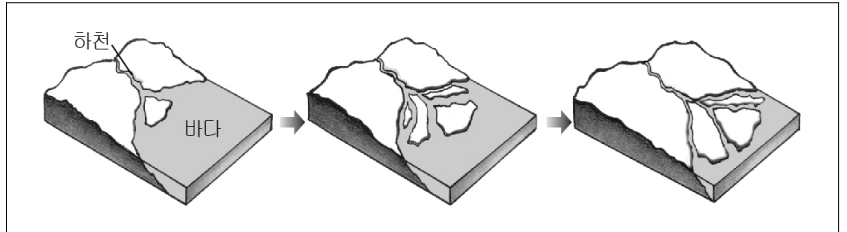


<보 기>

ㄱ. A에서는 지각운동이 활발하다.
 ㄴ. B에는 석유가 주로 매장되어 있다.
 ㄷ. A는 B보다 형성 시기가 늦다.
 ㄹ. B는 A보다 해발 고도가 높고 험준하다.

- ① ㄱ, ㄴ ② ㄱ, ㄷ ③ ㄴ, ㄷ ④ ㄴ, ㄹ ⑤ ㄷ, ㄹ

14. 그림과 같은 과정을 통해 형성되는 하천 퇴적 지형에 대한 옳은 설명을 <보기>에서 고른 것은? [3점]



<보 기>

ㄱ. 조차가 작은 지역에서 주로 발달한다.
 ㄴ. 하천의 토사 공급량이 많을수록 유리하다.
 ㄷ. 지표수 부족으로 밭이나 과수원으로 이용된다.
 ㄹ. 자갈과 같은 입자가 큰 물질로 구성되어 있다.

- ① ㄱ, ㄴ ② ㄱ, ㄷ ③ ㄴ, ㄷ ④ ㄴ, ㄹ ⑤ ㄷ, ㄹ

15. (가), (나) 해안 지형에 대한 옳은 설명을 <보기>에서 고른 것은?



<보 기>

ㄱ. (가)는 만입부에서 발달한다.
 ㄴ. (나)는 해수욕장으로 이용된다.
 ㄷ. (가)는 (나)보다 파랑의 침식 작용이 활발하다.
 ㄹ. (가)는 사빈과 사구, (나)는 시 스택이 나타난다.

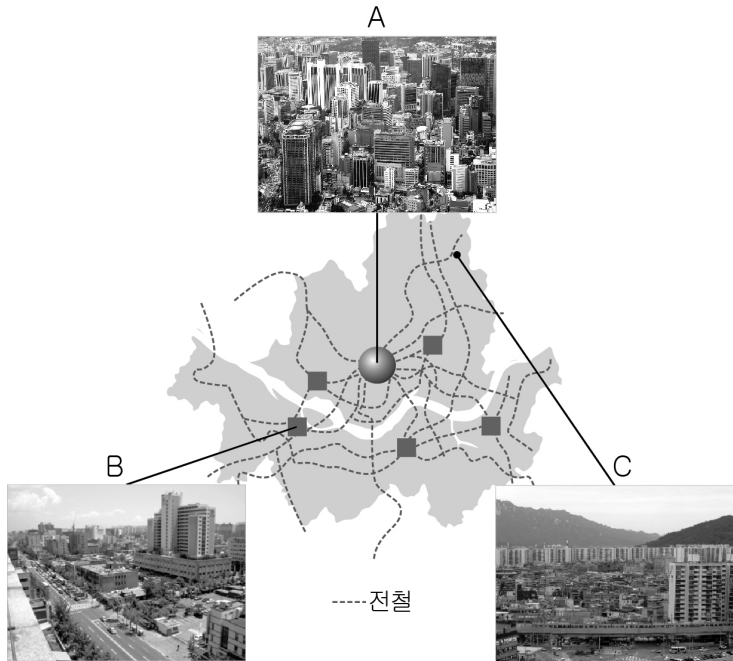
- ① ㄱ, ㄴ ② ㄱ, ㄷ ③ ㄴ, ㄷ ④ ㄴ, ㄹ ⑤ ㄷ, ㄹ

16. 자료를 통해 공통적으로 파악할 수 있는 내용으로 옳은 것은? [3점]



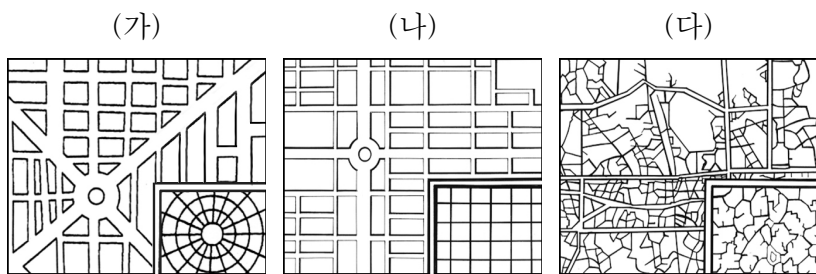
- ① 외래 문화의 전파로 전통 문화가 소멸되었다.
 ② 문화의 수용 과정에서 토착 문화와 융합되었다.
 ③ 같은 종교를 가진 지역은 동일한 문화 경관을 보인다.
 ④ 고유 문화와 외래 문화의 갈등이 문화 경관으로 나타났다.
 ⑤ 문화 전파 과정에서 다른 지역의 문화가 그대로 이식되었다.

17. 도시 내부의 A~C 지역에 대한 설명으로 옳지 않은 것은?
[3점]



- ① A에서는 인구 공동화 현상이 나타난다.
- ② B는 A의 기능 일부를 분담한다.
- ③ A는 C보다 중심 업무 기능이 밀집되어 있다.
- ④ B는 C보다 접근성이 낮다.
- ⑤ 평균 지가는 A>B>C 순이다.

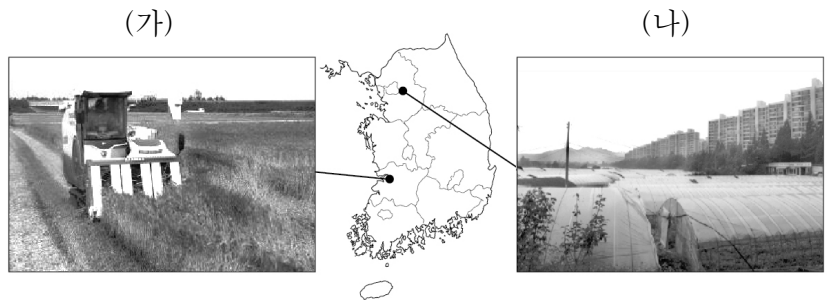
18. (가)~(다)와 같은 가로망이 갖는 특징을 <보기>에서 고른 것은?



<보 기>
 ㄱ. 자연적으로 발생하여 성장한 도시나 역사가 오래된 도시에서 나타난다.
 ㄴ. 어느 방향에서나 도심으로의 접근이 용이하나, 도심의 교통 혼잡이 문제될 수 있다.
 ㄷ. 시가지가 정연하게 구획되어 건물의 위치를 쉽게 파악할 수 있고, 도시 계획을 정하기에 용이하다.

- | | | | | | | | |
|---|-----|-----|-----|---|-----|-----|-----|
| | (가) | (나) | (다) | | (가) | (나) | (다) |
| ① | ㄱ | ㄴ | ㄷ | ② | ㄱ | ㄷ | ㄴ |
| ③ | ㄴ | ㄱ | ㄷ | ④ | ㄴ | ㄷ | ㄱ |
| ⑤ | ㄷ | ㄱ | ㄴ | | | | |

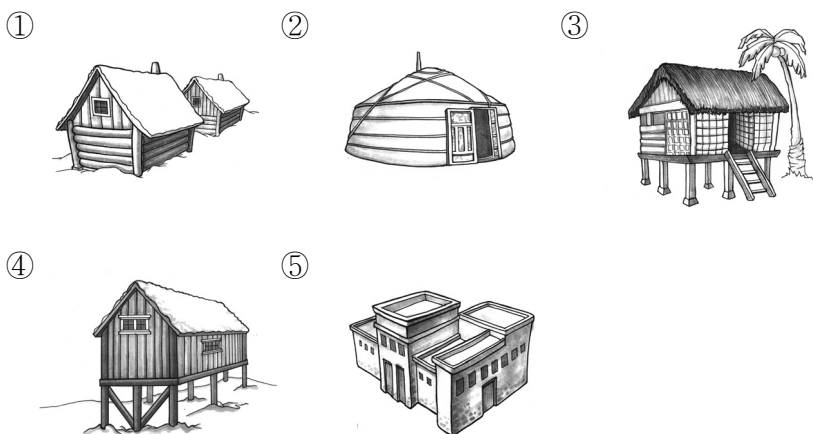
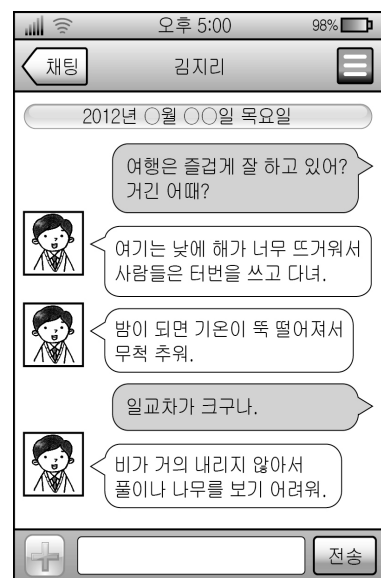
19. (가) 지역에 대한 (나) 지역의 상대적 특성으로 옳은 것을 <보기>에서 고른 것은?



<보 기>
 ㄱ. 노인 인구 비율이 높다.
 ㄴ. 토지를 집약적으로 이용한다.
 ㄷ. 주민들의 직업 구성이 다양하다.
 ㄹ. 주곡 작물인 쌀을 주로 재배한다.

- ① ㄱ, ㄴ ② ㄱ, ㄷ ③ ㄴ, ㄷ ④ ㄴ, ㄹ ⑤ ㄷ, ㄹ

20. 다음 대화 내용을 통해 알 수 있는 지역의 대표적인 전통 가옥으로 알맞은 것은?



* 확인 사항
 ○ 답안지의 해당란에 필요한 내용을 정확히 기입(표기)했는지 확인 하시오.