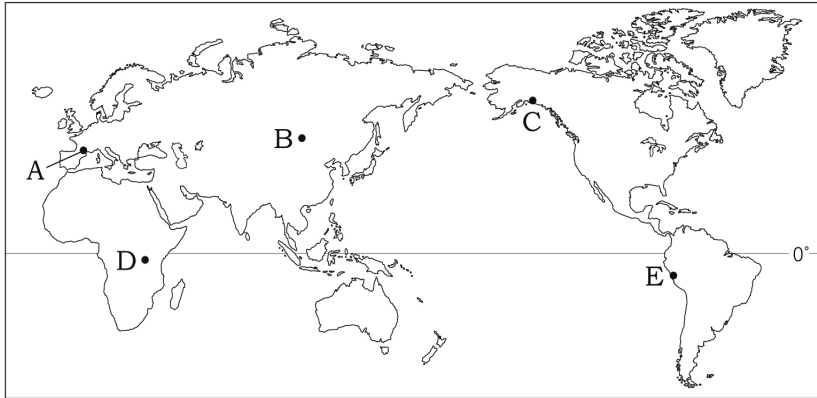
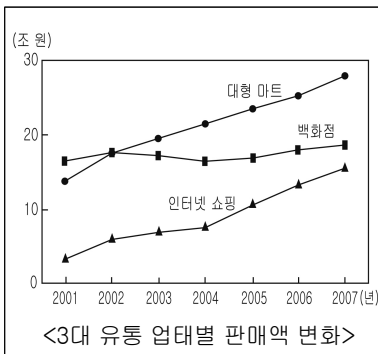


5. A ~ E 지역의 자연 환경과 관련된 관광 상품을 소개한 내용으로 적절하지 않은 것은? [3점]



- ① A - 포도밭으로 둘러싸인 양조장에서 신선한 포도주 시음
- ② B - 끝없이 펼쳐진 초원 지대에서 유목민들과 함께 하는 승마 체험
- ③ C - 바다로 떨어지는 얼음덩이를 관람하는 빙하 크루즈 여행
- ④ D - 사륜 구동차를 타고 사바나 지대에서 뛰어노는 야생 동물 관찰
- ⑤ E - 열대 우림 속에 위치한 고상식 가옥에서 원주민과의 저녁 식사

6. 자료는 인터넷 쇼핑의 성장에 관한 것이다. (가)에 들어갈 내용으로 적절하지 않은 것은?



인터넷 쇼핑은 지속적인 매출의 성장으로 대형 마트, 백화점과 함께 3대 유통 경로로 자리를 잡았다. 인터넷을 통한 판매는 오프라인 상점에 비해 (가) 등의 장점이 많아서 앞으로 더욱 큰 성장이 예상된다.

- ① 저렴한 운영비
- ② 광범위한 상권
- ③ 용이한 품질 확인
- ④ 자유로운 거래 시간
- ⑤ 상품의 가격 경쟁력

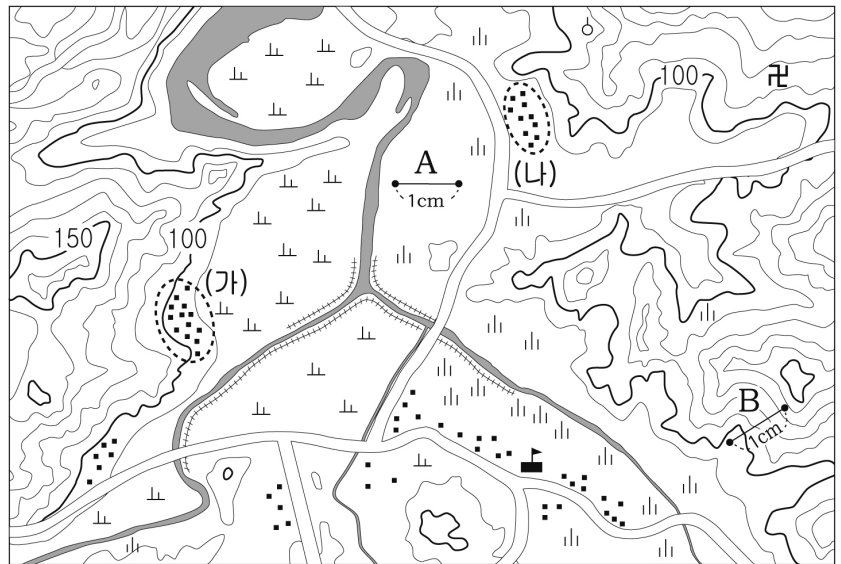
7. GIS를 이용하여 공장의 입지를 선정하고자 한다. 다음 조건을 모두 만족시키는 최적 입지를 A~E에서 찾은 것은? (단, 이 지역은 북동풍이 우세함.)

- 〈 조건 〉
- 운송을 위해 도로와 1km 이내에 위치해야 한다.
 - 인구 밀집 지역으로부터 1km 이상 떨어져야 한다.
 - 수질 오염을 방지하기 위해 하천에서 1km 이상 떨어져야 한다.
 - 공장 매연으로 인한 인구 밀집 지역의 피해를 최소화해야 한다.



- ① A
- ② B
- ③ C
- ④ D
- ⑤ E

8. 지형도를 바르게 읽은 것은? [3점]



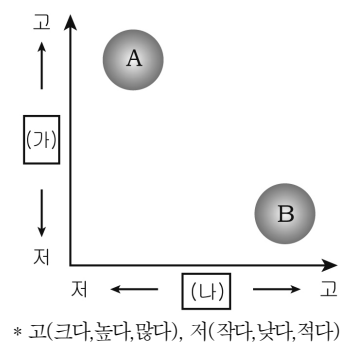
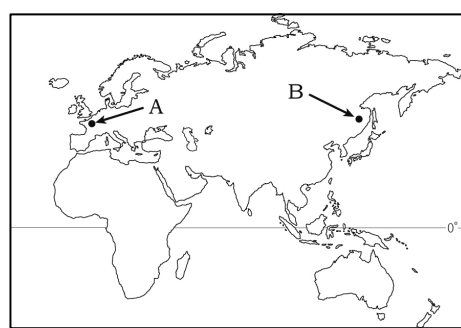
- ① A는 B보다 실제 거리가 길다.
- ② 지도의 축척은 1 : 50,000이다.
- ③ 하천을 따라 철도가 놓여 있다.
- ④ 절은 학교의 남동쪽에 위치하고 있다.
- ⑤ (가) 마을은 (나) 마을보다 해발 고도가 높다.

9. 다음은 촌락 경관에 대한 대화 내용이다. 갑에 비해 을이 살고 있는 지역의 상대적 특성으로 옳은 것은?

갑 : 최근 우리 지역의 모습은 많이 변했어. 기존의 농경지에 신도시가 건설되면서 아파트와 비닐하우스가 어우러진 모습이 마치 농촌과 도시의 모습을 섞어 놓은 것 같아.
 을 : 그렇구나! 하지만 내가 살고 있는 지역은 대도시와 멀리 떨어져 있어 아직도 옛날 모습이 많이 남아 있어. 대부분의 주민들은 벼농사를 짓고 있지.

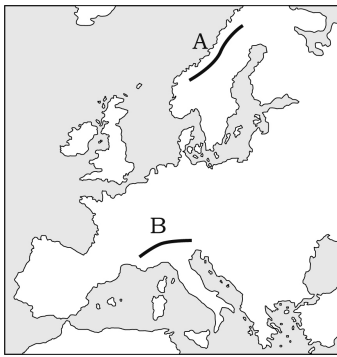
- ① 토지 이용이 집약적이다.
- ② 초등학교 학급 수가 적다.
- ③ 겸업 농가의 비율이 높다.
- ④ 청·장년층의 비율이 높다.
- ⑤ 주민들의 직업 구성이 다양하다.

10. 지도에 표시된 A, B 지역의 상대적 기후 특성을 그래프로 표현할 때, (가), (나)에 들어갈 내용을 바르게 짝지은 것은? [3점]



- | | |
|-------------|-----------|
| (가) | (나) |
| ① 최한월 평균 기온 | 연교차 |
| ② 최난월 평균 기온 | 1월 강수량 |
| ③ 연교차 | 강수의 계절차 |
| ④ 1월 강수량 | 최한월 평균 기온 |
| ⑤ 강수의 계절차 | 최난월 평균 기온 |

11. 지도에 표시된 A, B 산지에 대한 옳은 설명을 <보기>에서 고른 것은?



< 보기 >

- ㄱ. A는 지진과 화산 활동이 활발하다.
- ㄴ. B는 금, 철광석 등의 자원이 주로 매장되어 있다.
- ㄷ. A는 B보다 평균 해발 고도가 낮다.
- ㄹ. A, B 모두 습곡 작용으로 형성되었다.

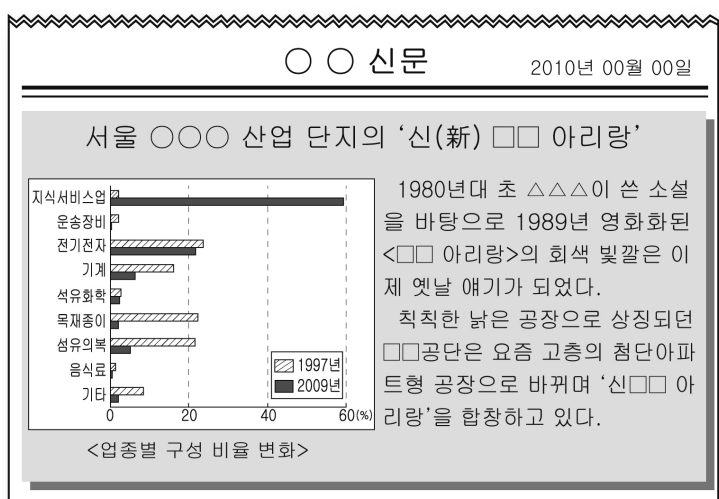
- ① ㄱ, ㄴ ② ㄱ, ㄷ ③ ㄴ, ㄷ
- ④ ㄴ, ㄹ ⑤ ㄷ, ㄹ

12. 다음 (가) 지형의 직접적인 형성 작용으로 가장 적절한 것은? [3점]

내륙과 해안 생태계의 중간지로서 생태적 보전 가치가 매우 높은 (가) 이/가 관광지 개발을 위한 시설물 설치로 인해 심각하게 훼손되고 있다. (가) 은/는 희귀 동식물의 서식처를 제공하고 폭풍이나 해일로부터 해안 지역을 보호해주며, 많은 양의 빗물을 저장하여 지하수 저장고 역할을 한다. 또한 (가) 은/는 배후 농경지와 취락을 보호하기 위해 소나무 숲이 조성되기도 한다.

- ① 사주가 만의 입구를 막아 바다와 분리되었다.
- ② 사빈의 모래가 바람에 실려 날아와 퇴적되었다.
- ③ 하천이 운반해 온 물질이 조류에 의해 퇴적되었다.
- ④ 신생대 제3기 경동성 요곡 운동에 의해 형성되었다.
- ⑤ 바다로 돌출된 곳 부분에서 파랑에 의해 침식되었다.

13. 그림은 서울 어느 지역에 대한 신문 기사의 일부이다. 이 지역의 변화에 대한 설명으로 옳은 것은?



- ① 노동집약적 공업이 성장하고 있다.
- ② 중화학 공업의 비중이 높아지고 있다.
- ③ 사업체당 종업원 수가 증가하고 있다.
- ④ 고부가가치 산업의 비중이 높아지고 있다.
- ⑤ 대기오염 물질 배출 업체가 증가하고 있다.

14. 자료는 지리 학습지의 일부를 나타낸 것이다. 학생이 표기한 답으로 옳지 않은 것은? [3점]

학습 단원 : 상점의 입지와 계층별 특성
 ※ 그래프를 보고 답란에 맞으면 O, 틀리면 X를 표기하시오.

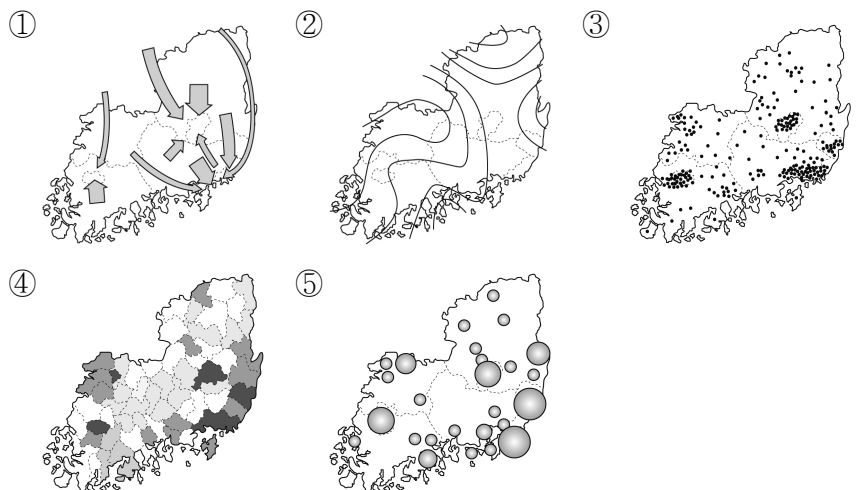
<사업체 수> <종사자 수>

구분	A 상점	B 상점	답(O, X)
평균 이용 빈도	높다	낮다	X ... (가)
최소 요구치 범위	좁다	넓다	O ... (나)
재화의 도달 범위	넓다	좁다	O ... (다)
업체당 평균 매출액	많다	적다	O ... (라)
소비자의 평균 이동 거리	가깝다	멀다	X ... (마)

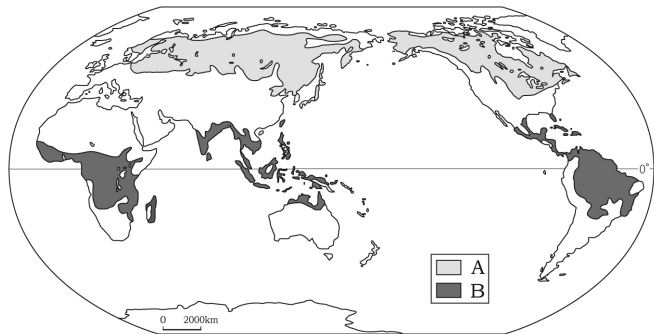
- ① (가) ② (나) ③ (다) ④ (라) ⑤ (마)

15. 표는 시·도간 전출입 현황을 나타낸 것이다. 이를 통계지도로 표현하고자 할 때, 가장 적합한 유형은?

전입지 \ 전출지	○○도	△△시	□□시
○○도	-	1,554명	765명
△△시	2,068명	-	85명
□□시	898명	98명	-

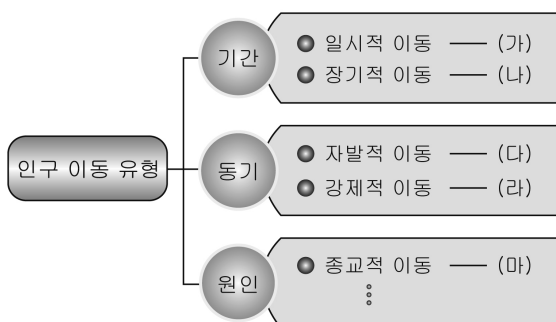


16. 지도에 표시된 A, B 기후 지역의 자연 환경에 대한 설명으로 옳은 것은? [3점]



- ① A는 대류성 강수가 자주 발생한다.
- ② B는 연중 하강 기류가 발생한다.
- ③ A는 B보다 기온의 연교차가 작다.
- ④ B는 A보다 식생의 종류가 다양하다.
- ⑤ A, B 모두 강수량에 비해 증발량이 많다.

17. 그림은 인구 이동의 유형을 구분하여 나타낸 것이다. (가)~(마)의 사례로 적절한 것은?



- ① (가) - 학생들의 등·하교를 위한 이동
- ② (나) - 가족들과의 주말 여행을 위한 이동
- ③ (다) - 팔레스타인 난민의 주변 국가로의 이동
- ④ (라) - 산업화 시기 농촌 인구의 도시로의 이동
- ⑤ (마) - 일제 강점기 조선인의 중앙 아시아로의 이동

18. 그림은 우리나라의 위치에 대한 판서 내용이다. ㉠ ~ ㉞에 대한 설명으로 옳지 않은 것은?

1. 우리나라의 위치

1) 수리적 위치

㉠ 위도 33°N ~ 43°N ㉡ 경도 124°E ~ 132°E

2) 지리적 위치

㉢ 유라시아 대륙 동안에 위치

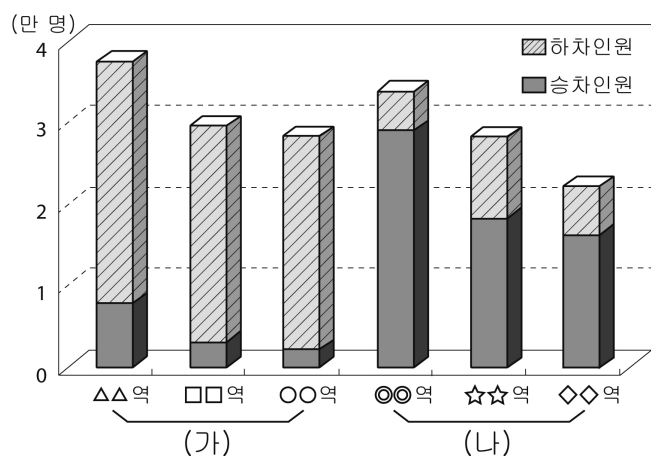
㉣ 3면이 바다로 둘러싸인 반도국

3) 관계적 위치

㉤ 중국, 러시아, 일본 등 주변국과의 교류

- ① ㉠ - 4계절이 뚜렷한 냉·온대 기후가 나타난다.
- ② ㉡ - 우리나라는 영국보다 시간이 빠르다.
- ③ ㉢ - 계절에 따라 주된 바람의 방향이 바뀐다.
- ④ ㉣ - 해양의 영향으로 연중 강수량이 고르다.
- ⑤ ㉤ - 최근 태평양 연안의 중심 국가로 부상하고 있다.

19. 그래프는 서울 지하철 구간에서 승·하차한 인원의 상위 3개 역을 나타낸 것이다. (나) 지역에 비해 (가) 지역의 상대적 특성에 대한 옳은 설명을 <보기>에서 고른 것은? [3점]



* 승·하차 인원은 평일 출근 시간대(7시~9시)의 평균 인원임.

< 보 기 >

ㄱ. 평균 지가가 낮다.
 ㄴ. 중심업무기능이 발달해 있다.
 ㄷ. 생산자 서비스업이 집중되어 있다.
 ㄹ. 주간 인구에 비해 야간 인구 밀도가 높다.

- ① ㄱ, ㄴ ② ㄱ, ㄷ ③ ㄴ, ㄷ
- ④ ㄴ, ㄹ ⑤ ㄷ, ㄹ

20. 다음은 도시 단원의 수업 장면이다. 교사의 질문에 대해 적절하게 대답한 학생만을 있는 대로 고른 것은? [3점]

교사 : A, B 국가의 시기별 도시화율을 나타낸 그래프를 보고 두 국가의 특징을 말해 보세요.

답 : A 국가는 선진국, B 국가는 개발 도상국입니다.
 을 : B 국가의 도시화는 인구의 자연 증가와 이혼향도가 주된 원인입니다.
 병 : A 국가는 B 국가에 비해 도시 간 인구 이동의 비율이 낮을 것입니다.
 정 : B 국가는 A 국가에 비해 특정 도시에 인구와 기능이 집중되어 국토 불균형 발전 문제가 나타납니다.

- ① 갑, 을 ② 을, 병 ③ 갑, 을, 정
- ④ 갑, 병, 정 ⑤ 을, 병, 정

※ 확인사항
 문제지와 답안지의 해당란을 정확히 기입(표기)했는지 확인하시오.