



5. 다음 사례에 나타난 권리 구제 수단에 대한 옳은 설명을 <보기>에서 고른 것은? [3점]

갑(만 15세)은 2년제 미용고등학교에 입학하려 했으나 만 16세를 넘은 자만 미용고등학교에 입학할 수 있도록 규정한 평생교육법 시행령 제27조가 자신의 평등권과 행복추구권, 교육을 받을 권리 등을 침해했다고 주장하며 헌법 소원 심판을 청구하였다.

< 보기 >  
ㄱ. 개인 간의 권리 다툼도 대상이 된다.  
ㄴ. 사법부의 최고 법원인 대법원이 담당한다.  
ㄷ. 공권력의 행사나 불행사로 인해 기본권이 침해된 경우를 요건으로 한다.  
ㄹ. 권리 구제의 다른 절차가 있다면 이를 모두 거친 후에만 청구할 수 있다.

- ① ㄱ, ㄴ    ② ㄱ, ㄷ    ③ ㄴ, ㄷ    ④ ㄴ, ㄹ    ⑤ ㄷ, ㄹ

6. 다음 사례에 대한 설명으로 옳지 않은 것은? [3점]

을은 온라인 게임 채팅 중에 갑을 '대머리'라고 표현하여 명예훼손죄로 기소되었다.

- ① 갑이 법원에 공소를 제기한 것이다.  
② 갑의 고소에 의해 사건에 대한 수사가 시작된다.  
③ 을은 피고인에 해당한다.  
④ 을은 재판을 통해 범죄가 입증되면 형벌이 부과될 수 있다.  
⑤ 갑은 을에게 이와 별도로 손해 배상을 청구할 수 있다.

7. 신문 기사가 시사하는 정당한 정치 권력의 요건으로 적절하지 않은 것은?

제00호 ○ ○ 신문 0000년 0월 0일  
△△국 민주화 시위  
△△국 국가 원수는 무혈 쿠데타로 집권하여 23년간 독재를 해왔다. 정권 창출 과정과 장기 독재에 불만이 많았던 국민들은 헌법에 규정된 절차와 다르게 국가 원수의 자리가 아들에게 세습되자, 정권 퇴진과 함께 자유롭고 공정한 선거를 요구하며 반정부 시위를 전개하였다.

- ① 합법적으로 창출되어야 한다.  
② 국민이 직접 행사해야만 한다.  
③ 민주주의의 이념에 부합해야 한다.  
④ 적법한 절차에 따라 획득되어야 한다.  
⑤ 국민의 동의와 지지에 기초하여야 한다.

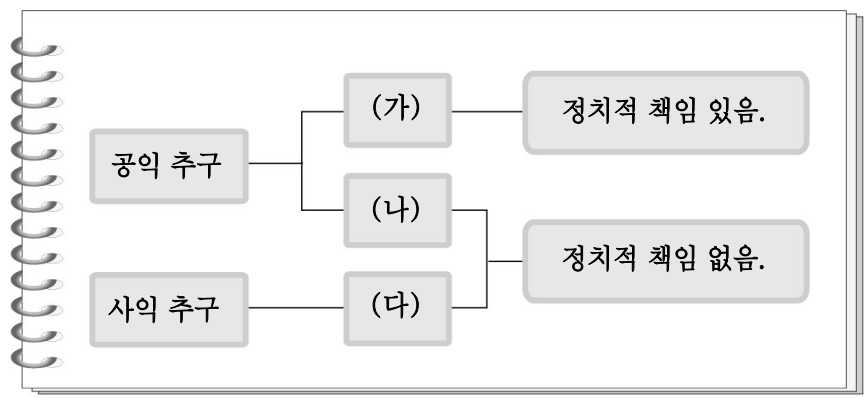
8. 갑과 을의 대화에 나타난 민주 정치의 원리에 대한 적절한 설명을 <보기>에서 고른 것은?

갑 : '권력은 부패하기 마련이고, 절대 권력은 절대적으로 부패한다.'라는 말은 국가 권력이 한 곳에 집중되었을 때의 문제점을 경고하고 있어.  
을 : 맞아. 그래서 우리나라도 입법부, 행정부, 사법부로 국가 기관의 권력을 분리시키고 있어.

< 보기 >  
ㄱ. 국가 기관의 권력 약화를 목적으로 한다.  
ㄴ. 독립된 국가 기관 상호간의 견제를 추구한다.  
ㄷ. 국가 기관의 권력 균형을 통해 국민의 기본권을 보장한다.  
ㄹ. 국가 기관의 행정 전문성과 효율성 실현을 목적으로 한다.

- ① ㄱ, ㄴ    ② ㄱ, ㄷ    ③ ㄴ, ㄷ    ④ ㄴ, ㄹ    ⑤ ㄷ, ㄹ

9. 그림은 정치 참여 집단에 대한 학생의 필기 내용이다. (가)~(다)에 대한 일반적인 설명으로 옳은 것은? (단, (가)~(다)는 정당, 이익 집단, 시민 단체 중 하나이다.) [3점]



- ① (가)는 정권 획득을 목표로 한다.  
② (나)는 정부 각 부처의 활동을 조정한다.  
③ (다)는 국민 전체의 이익을 대변한다.  
④ (가)~(다)는 정치 과정에서 산출 기능을 담당한다.  
⑤ (가)는 시민 단체, (나)는 이익 집단, (다)는 정당이다.

10. 다음을 통해 도출할 수 있는 정치 과정의 특징으로 옳은 것은?

갑국의 천문 단체와 시민 단체 등은 올바른 조명 문화 형성을 위하여 빛공해\* 문제를 지속적으로 제기하며 과도한 인공 조명을 규제하는 법 제정을 요구해왔다. 이에 따라 의회는 공청회를 개최하고 빛공해 피해를 최소화할 수 있는 법규를 마련하였다.  
\* 빛공해: 불필요하거나 필요 이상의 조명 빛이 사람의 신체나 자연 환경 등에 피해를 주는 것

- ① 행정부가 정치 과정을 주도한다.  
② 시민의 개인적 정치 참여가 제한된다.  
③ 비공식적 참여자에게 정책 결정 권한이 주어진다.  
④ 역동적인 모습보다는 고정적인 모습으로 나타난다.  
⑤ 다양한 정치 참여자들의 상호 작용 과정으로 나타난다.

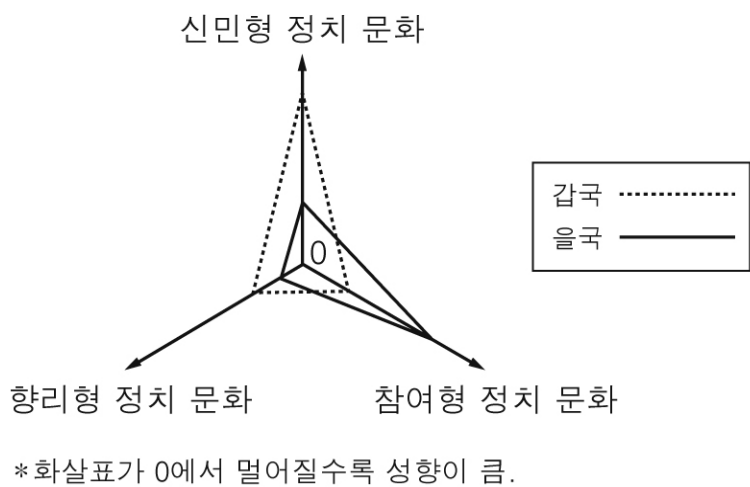
11. 갑과 을이 정치를 바라보는 관점에 대한 설명으로 옳은 것은?

[3점]



- ① 갑은 정치를 모든 사회 집단에 존재하는 현상으로 보고 있다.
- ② 을은 정치를 구성원 간 이해관계의 조정 활동으로 보고 있다.
- ③ 갑에 비해 을은 권력의 획득 및 행사 활동을 중요하게 보고 있다.
- ④ 갑에 비해 을은 국가 제도를 운용하는 문제를 중요하게 보고 있다.
- ⑤ 갑은 정치를 넓은 의미에서, 을은 정치를 좁은 의미에서 보고 있다.

12. 그래프는 갑국과 을국의 정치 문화 유형을 나타낸 것이다. 두 국가의 정치 현상에 대한 옳은 추론을 <보기>에서 고른 것은? [3점]



< 보기 >

- ㄱ. 갑국에 비해 을국은 여론 형성과 집약의 통로가 단순할 것이다.
- ㄴ. 갑국에 비해 을국은 정책 결정 과정에서 상향식 의사 결정을 중시할 것이다.
- ㄷ. 을국에 비해 갑국은 정치 과정에 능동적으로 참여하는 사람이 많을 것이다.
- ㄹ. 을국에 비해 갑국은 국가와 국민의 관계를 통치와 복종의 관계로 인식하는 사람이 많을 것이다.

- ① ㄱ, ㄴ    ② ㄱ, ㄷ    ③ ㄴ, ㄷ    ④ ㄴ, ㄹ    ⑤ ㄷ, ㄹ

13. 다음의 사회 변화가 정치 현상에 미칠 영향으로 가장 적절한 것은?

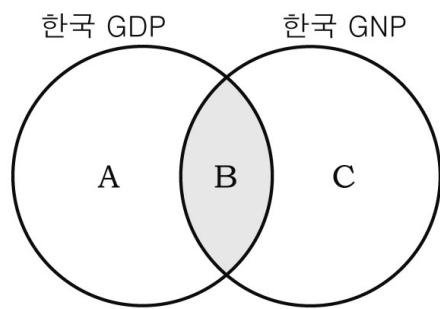
우리는 시간과 거리의 압축 또는 거리의 소멸로 표현되는 사회 변화를 겪고 있다. 정보는 빠르게 확산되며, 소통은 일방향이 아닌 쌍방향으로 나타난다. 이로 인해 시민들은 기존의 권위적인 제도의 개입에서 벗어나 자유로운 정보 교환으로 여론을 형성하며 집단 행동에 나설 수 있는 가능성이 커지게 되었다.

- ① 자치의 원리가 약화될 것이다.
- ② 정치적 무관심이 확산될 것이다.
- ③ 시민들의 능동적인 참여가 증가할 것이다.
- ④ 정치 과정에의 참여 방법이 단순해질 것이다.
- ⑤ 하향식 의사 결정에 의한 정치 문화가 형성될 것이다.

14. ㉠ ~ ㉣이 해당하는 영역을 그림에서 골라 바르게 짝지은 것은?

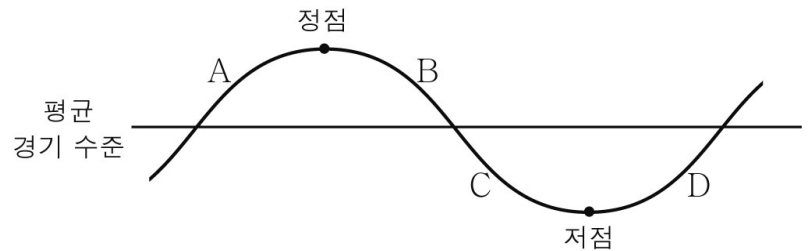
[3점]

미국 메이저리그에서 한국인으로서 최초로 30홈런 30도루를 달성해 소속 구단으로부터 ㉠ 연봉 100억 원을 받게 된 갑이 입국했습니다. 갑은 다음 시즌 준비 기간 동안 한국에 머물면서 국내 기업의 광고 촬영을 통해 많은 ㉡ 수입을 올릴 것으로 예상됩니다. 광고 촬영에서 호흡을 맞출 외국인 모델의 ㉢ 출연료는 갑과 비슷한 수준으로 알려졌습니다.



- |   |   |   |   |   |   |   |   |
|---|---|---|---|---|---|---|---|
|   | ㉠ | ㉡ | ㉢ |   | ㉠ | ㉡ | ㉢ |
| ① | A | B | C | ② | A | C | B |
| ③ | B | A | C | ④ | C | A | B |
| ⑤ | C | B | A |   |   |   |   |

15. 그래프는 어느 나라의 경기 순환 곡선을 나타낸 것이다. A~D 시기에 대한 적절한 설명을 <보기>에서 고른 것은?



< 보기 >

- ㄱ. A시기에는 투자와 생산이 위축된다.
- ㄴ. B시기에는 생산과 고용이 줄어든다.
- ㄷ. C시기에는 실업이 심각한 사회 문제가 된다.
- ㄹ. D시기에는 기업 이윤이 감소하고 재고가 증가한다.

- ① ㄱ, ㄴ    ② ㄱ, ㄷ    ③ ㄴ, ㄷ    ④ ㄴ, ㄹ    ⑤ ㄷ, ㄹ

16. 갑, 을에 해당되는 실업의 유형을 바르게 짝지은 것은?



- |          |        |          |        |
|----------|--------|----------|--------|
| 갑        | 을      | 갑        | 을      |
| ① 경기적 실업 | 계절적 실업 | ② 구조적 실업 | 계절적 실업 |
| ③ 구조적 실업 | 경기적 실업 | ④ 마찰적 실업 | 구조적 실업 |
| ⑤ 마찰적 실업 | 경기적 실업 |          |        |

17. (가)에 들어갈 말로 적절한 것을 <보기>에서 고른 것은? [3점]



경기 침체로 인해 전국적으로 실업자가 증가하고 있습니다. 정부는 경제의 안정적 성장을 위해 어떤 정책을 펴야 할까요?

이런 상황에서 정부는 \_\_\_\_\_ (가)

- < 보기 >
- ㄱ. 긴축 재정 정책을 실시해야 합니다.
  - ㄴ. 확장 금융 정책을 실시해야 합니다.
  - ㄷ. 재정 지출을 세입보다 크게 해야 합니다.
  - ㄹ. 이자율을 인상하여 통화량을 줄여야 합니다.

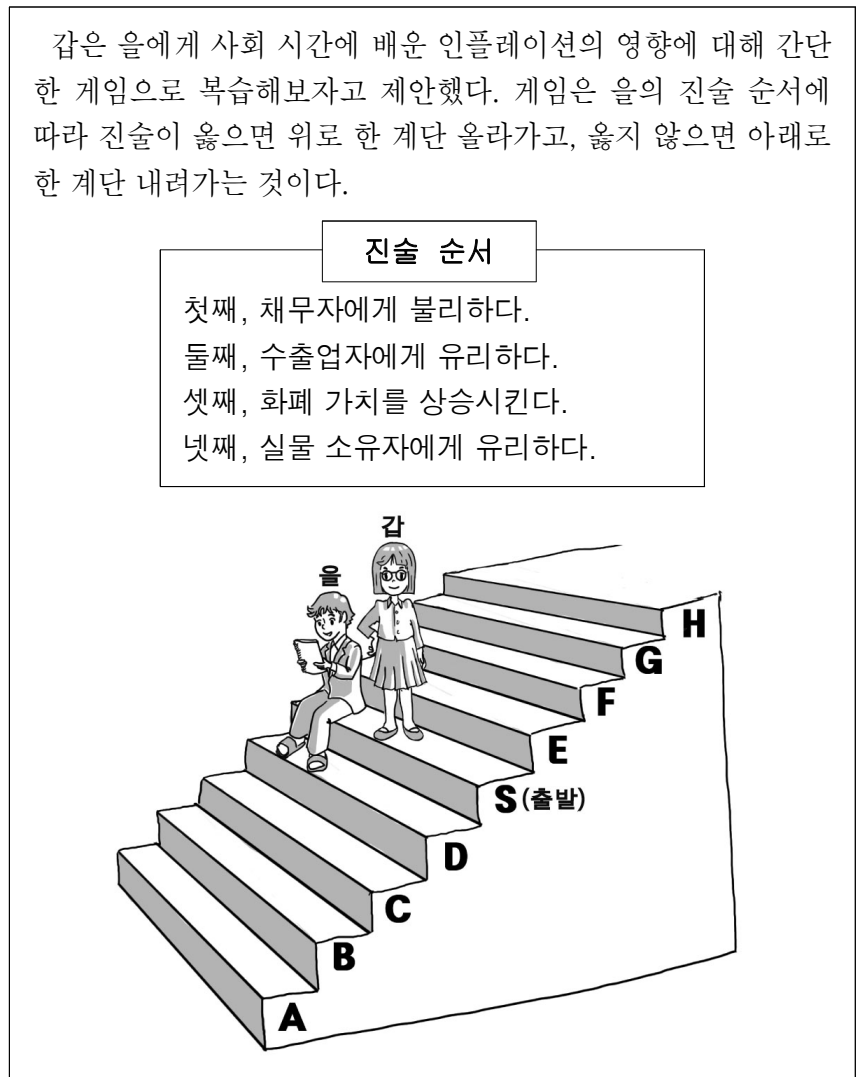
- ① ㄱ, ㄴ    ② ㄱ, ㄷ    ③ ㄴ, ㄷ    ④ ㄴ, ㄹ    ⑤ ㄷ, ㄹ

18. 다음 사례를 통해 공통적으로 파악할 수 있는 GDP의 한계로 가장 적절한 것은?

- 독신남이 집에서 고용한 가사도우미와 결혼을 하면 GDP가 줄어든다.
- ○○ 지역 기름 유출 사고 이후 이어진 봉사 활동은 GDP에 포함되지 않는다.

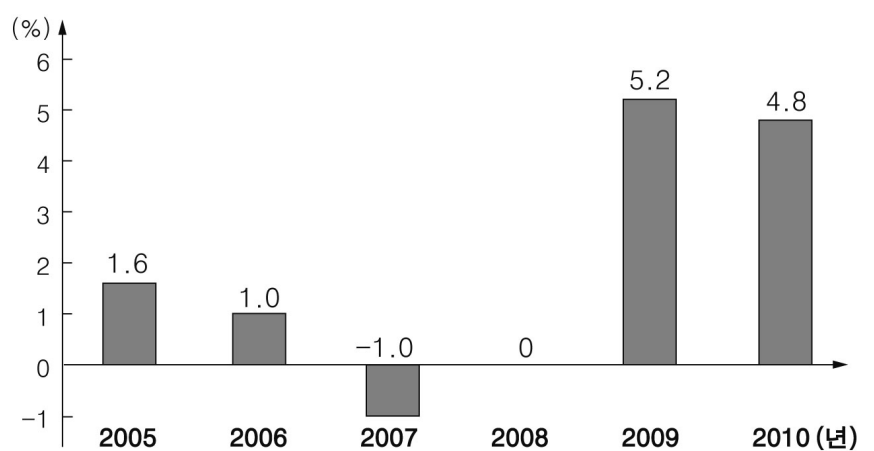
- ① 시장을 통하지 않고 거래된 것은 제외된다.
- ② 환경오염으로 인한 손실 비용이 반영되지 않는다.
- ③ 기술 발전으로 인한 품질의 변화를 반영하지 못한다.
- ④ 쾌적한 환경이나 여가 등의 가치는 반영되지 않는다.
- ⑤ 소득 분배의 공평성에 대한 정보를 제공해 주지 못한다.

19. 다음 게임을 통해 갑이 이동해야 할 경로로 옳은 것은? [3점]



- ① S → D → C → B → A      ② S → D → C → B → C
- ③ S → D → S → E → F      ④ S → E → F → E → S
- ⑤ S → E → F → G → H

20. 그래프는 갑국의 경제 성장률 추이를 나타낸 것이다. 이에 대한 분석으로 옳은 것은? [3점]



- ① 2010년의 GDP 규모는 감소했다.
- ② 2009년의 GDP 규모가 가장 크다.
- ③ 2008년의 GDP 규모가 2007년보다 크다.
- ④ 2005년의 GDP 규모가 2006년보다 작다.
- ⑤ 2005년과 2007년의 GDP 규모는 동일하다.

※ 확인사항

문제지와 답안지의 해당란을 정확히 기입(표기)했는지 확인하십시오.