

제 4 교시

사회탐구·과학탐구 영역

성명		수험 번호					1		
----	--	-------	--	--	--	--	---	--	--

- 문제지의 해당란에 성명과 수험 번호를 정확히 쓰시오.
- 답안지의 해당란에 성명과 수험 번호를 쓰고, 또 수험 번호와 답을 정확히 표시하시오.
- 문항에 따라 배점이 다르니, 각 물음의 끝에 표시된 배점을 참고하시오. 3점 문항에만 점수가 표시되어 있습니다. 점수 표시가 없는 문항은 모두 2점입니다.


1. 밑줄 친 '이들'에 대한 옳은 설명을 <보기>에서 고른 것은?

현대 사회는 빠른 것을 추구하는 속도 사회이다. 이를 대변하는 패스트푸드(fast food)는 '빨리빨리'를 외치는 현대인의 삶의 속도와 방식을 그대로 보여준다. 이런 사회적 모습에 대한 비판으로 얼마 전부터 '슬로라이프(slow life) 운동'에 참여하는 사람들이 늘어나고 있다. 이들은 명상과 산책을 즐기고, 그 지역의 문화가 녹아 있는 생활 양식과 생태적인 삶을 선호한다.

- <보 기>
- ㄱ. 정신적·심미적 만족감을 증시한다.
  - ㄴ. 생산과 소비의 효율성을 강조한다.
  - ㄷ. 전통적인 삶의 방식에 관심을 둔다.
  - ㄹ. 물질적 조건의 개선을 삶의 목표로 삼는다.

- ① ㄱ, ㄴ    ② ㄱ, ㄷ    ③ ㄴ, ㄷ    ④ ㄴ, ㄹ    ⑤ ㄷ, ㄹ

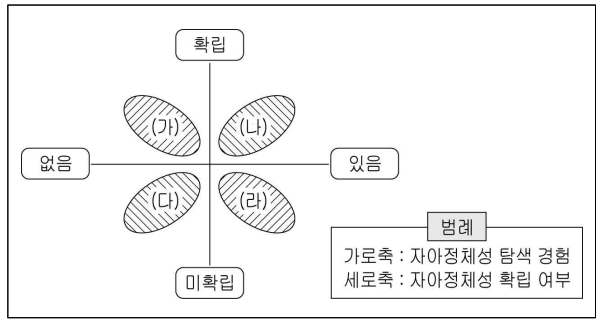
2. 밑줄 친 ㉠으로 인해 발생하는 문제만을 <보기>에서 있는 대로 고른 것은? [3점]



- <보 기>
- ㄱ. 인간의 존엄성을 해칠 가능성이 높다.
  - ㄴ. 인간의 현실적 욕구를 무시할 수 있다.
  - ㄷ. 개인적 관심에 매몰되어 타인을 배려하지 못하게 된다.
  - ㄹ. 공동체 질서 유지를 위해 요청되는 선이 희생당할 수 있다.

- ① ㄱ, ㄴ    ② ㄴ, ㄷ    ③ ㄷ, ㄹ  
④ ㄱ, ㄷ, ㄹ    ⑤ ㄴ, ㄷ, ㄹ

3. 그림은 청소년의 자아정체성 형성 유형을 도식화한 것이다. (가)~(라)의 특징에 대한 적절한 진술을 <보기>에서 고른 것은? [3점]



- <보 기>
- ㄱ. (가)는 자신에게 합당한 진로를 발견하고 목표달성을 위해 노력한다.
  - ㄴ. (나)는 타인에 의해 만들어진 정체성을 맹목적으로 수용한다.
  - ㄷ. (다)는 자신의 삶이나 진로에 대해 별 관심 없이 생활한다.
  - ㄹ. (라)는 삶의 방향을 고민하고 있지만 의사 결정을 유예한다.

- ① ㄱ, ㄴ    ② ㄱ, ㄷ    ③ ㄴ, ㄷ    ④ ㄴ, ㄹ    ⑤ ㄷ, ㄹ

4. (가)의 관점에서 (나)에 나타난 문제를 해결하기 위한 옳은 자세를 <보기>에서 고른 것은?

(가) 지구 생태계를 위하여 무엇을 할 수 있는가는 인간과 자연의 관계에 대한 우리의 사고 방식에 달려있다. 지금까지의 인간 중심적인 사고 방식에서 벗어나기 전에는 어떤 과학이나 기술로도 현재의 생태계 위기를 해결할 수 없을 것이다.  
(나) 세계기상기구(WMO)는 지난 10년간 지구의 기온이 기후 통계 작성을 시작한 1850년 이래 가장 높았다고 밝혔다. 또한 2007년 유엔정부간기후변화위원회(IPCC)는 2020년까지 지구 평균 온도가 3.5°C 오르면 생물 종의 40~70%가 멸종할 것으로 전망하였다.

- <보 기>
- ㄱ. 인간은 주인이고 자연은 이용 수단임을 인식한다.
  - ㄴ. 자연 질서와 인간 문명의 조화로운 공존을 모색한다.
  - ㄷ. 자연의 효용성과 자연과학적 지식의 유용성을 증시한다.
  - ㄹ. 존재하는 모든 것을 하나의 살아 있는 유기체로 인식한다.

- ① ㄱ, ㄴ    ② ㄱ, ㄷ    ③ ㄴ, ㄷ    ④ ㄴ, ㄹ    ⑤ ㄷ, ㄹ

5. 다음과 같은 변화 추세로 인해 나타난 사회의 모습으로 가장 적절한 것은?

과학 기술의 발전은 현대인의 삶의 모습을 급격하게 변화시켰다. 이제 사람들은 클릭 몇 번으로 주식을 사고 팔 수 있고, 인터넷으로 쇼핑을 즐기며, 자신이 제작한 동영상을 온라인에 올리기도 한다. 또한 종래에는 실체가 있는 생산물만을 상품으로 인정하였지만, 오늘날에는 아이디어, 디자인, 특허권 등과 같은 무형의 생산물도 상품으로 인정되고 있다.

- ① 수직적인 인간 관계가 확대되었다.
- ② 인간의 욕구와 관심이 확대되었다.
- ③ 개인의 역할 비중이 상대적으로 감소되었다.
- ④ 개인의 창의성보다 조직의 원리를 더 중시하게 되었다.
- ⑤ 지식과 정보가 사회적 가치 창출의 핵심 요소가 되었다.

6. 다음 대화에서 영희와 명수의 대답에 부합하는 청소년 문화에 대한 관점을 바르게 연결한 것은?

교사: 학생 여러분! 『데미안』이라는 책에 “새는 알에서 나오려고 투쟁한다. 알은 세계이다. 태어나려는 자는 하나의 세계를 깨뜨려야 한다.”라는 말이 있어요. 이 말의 의미에 대해 청소년 문화를 바라보는 다양한 관점과 관련하여 말해 볼까요?  
 영희: 기존 질서와 기성세대의 문화적 틀을 거부하고 부정해야 한다는 의미로 생각합니다.  
 명수: 저는 다르게 생각합니다! 새롭고 독립적인 문화적 영역을 만들어 나가야 한다는 의미라고 봅니다.

- |          |       |         |        |
|----------|-------|---------|--------|
| 영희       | 명수    | 영희      | 명수     |
| ① 저항 문화  | 대안 문화 | ② 하위 문화 | 저항 문화  |
| ③ 대안 문화  | 비행 문화 | ④ 비행 문화 | 미성숙 문화 |
| ⑤ 미성숙 문화 | 하위 문화 |         |        |

7. (가)의 관점에서 (나)의 ㉠에 들어갈 내용으로 가장 적절한 것은? [3점]

<p>(가)</p> <p>정의로운 사회는 모든 사람에게 동등한 자유를 최대한 보장해야 하며, 사회적·경제적 불평등은 최소 수혜자에게 최대의 이익이 돌아가는 경우와 공정한 기회가 보장될 때에만 정당화될 수 있다.</p>	<p>(나)</p> <p>정의로운 사회를 실현하기 위한 방안에는 어떤 것이 있을까요?</p> <p>사회적 기본 가치를 ㉠</p>
---	---

- ① 각자 자기가 거둔 업적에 따라 분배해야 합니다.
- ② 합리적 절차를 통한 합의에 의해 분배해야 합니다.
- ③ 개인보다는 사회적 이익을 우선하여 분배해야 합니다.
- ④ 능력에 상관없이 모든 사람에게 똑같이 분배해야 합니다.
- ⑤ 소수가 희생되어도 다수가 행복해지도록 분배해야 합니다.

8. (가), (나) 주장에 대한 옳은 설명을 <보기>에서 고른 것은?

[3점]

(가) 과학은 객관적인 진리를 담고 있기 때문에 가장 모범적인 형태의 지식이다. 어떤 믿음이라도 지식으로 올바르게 평가받기 위해서는 과학에 의해 인정되어야 하며, 과학과 어긋나는 것은 미신적인 생각일 뿐이다.  
 (나) 과학이 우리가 당면한 모든 문제를 해결해 줄 수 있다고 맹신하는 것은 큰 오산이다. 과학은 절대적인 선(善)도 아니며, 인간의 행복을 반드시 보장해 주는 것도 아니다. 인간은 과학적 지식뿐만 아니라, 도덕적·정신적 자양분을 필요로 하는 존재이다.

<보기>

- ㉠. (가)는 과학적 인식과 사고방식을 높게 평가한다.
- ㉡. (가)는 도덕 규범을 사실보다는 당위로 받아들인다.
- ㉢. (나)는 가치 판단의 근거를 경제적 효율성에서 찾는다.
- ㉣. (나)는 (가)에 비해 인간의 존엄성이나 생명의 가치를 중시한다.

- ① ㉠, ㉡    ② ㉠, ㉣    ③ ㉡, ㉢    ④ ㉡, ㉣    ⑤ ㉢, ㉣

9. 다음에서 주장하는 이상사회의 모습으로 적절하지 않은 것은?

- 재화가 적은 것이 문제가 아니라 고루 분배되지 못하는 것이 문제이며, 가난한 것이 문제가 아니라 편안한 삶이 되지 못하는 것이 문제이다.
- 천하에 능력 있는 사람을 뽑아서 나라를 다스리게 하고, 사람들은 신의로 서로 화복하고, 나의 부모만 부모로 알지 않고 나의 자식만 자식으로 알지 않으며, 노인인 천수를 다 하고 젊은이는 일할 자리를 얻고 과부·고아·병자는 버림받는 일이 없고, 재물은 혼자만 차지하지 않고 도둑이 없어 문을 잠그지 않는 것이 바로 대동(大同)이다.


- ① 재화의 분배가 공평하게 이루어진다.
- ② 도덕적인 성품을 갖춘 사람이 통치한다.
- ③ 인위적인 규범에서 벗어나 자연의 순리에 따른다.
- ④ 편협한 가족주의에서 벗어나 모두가 가족처럼 지낸다.
- ⑤ 자신의 책임을 다하면서 타인에 대한 사랑을 실천한다.

10. 표는 '가상공간'에 대해 정리한 것이다. ㉠~㉣ 중 옳지 않은 것은? [3점]

의미	인터넷이나 PC통신 등과 같은 통신망을 통해 대량의 정보가 교환·공유되는 사회적 공간을 말한다.
특징	물리적 제한이 없기 때문에 육체적 신원을 뛰어넘는 새로운 신원을 만들어 낼 수 있다. ㉠
자아정체성 형성에 미치는 영향	<b>긍정적 영향</b>
	· 자유로운 자기 표현의 기회가 다양해져 지적·감성적 개방성을 높여줄 수 있다. ㉡ · 직접적인 인간관계의 확대로 객체로서의 자아를 파악하는데 도움을 줄 수 있다. ㉢
	<b>부정적 영향</b>
	· 익명성으로 인해 자기 통제력을 약화시킬 수 있다. ㉣ · 부유(浮游)하는 정체성을 지니게 할 위험성이 있다. ㉣

- ① ㉠    ② ㉡    ③ ㉢    ④ ㉣    ⑤ ㉣

11. (가) ~ (다)에 대한 설명으로 옳지 않은 것은?



- ① (가)는 곡식 저장과 음식 조리에 사용되었다.
- ② (나)에는 당시 지배층의 권력이 반영되어 있다.
- ③ (다)는 그 형태가 세형 동검으로 변하여 갔다.
- ④ (가)는 주로 (나)와 같은 무덤에서 출토되었다.
- ⑤ (나)와 (다)를 통해 고조선의 세력 범위를 추정할 수 있다.

12. 밑줄 친 '이 나라'와 관련된 탐구 요소로 적절하지 않은 것은?

옛날에는 고씨가 북에서 고구려를, 부여씨가 서남에서 백제를, 박·석·김씨가 동남에서 신라를 세웠으니 이것이 삼국이다. 여기에는 반드시 '삼국사'가 있어야 할 것인데 고려가 그것을 편찬한 것은 잘한 일이다. 그러나 부여씨와 고씨가 멸망한 다음에 김씨의 신라가 남에 있고 대씨의 이 나라가 북에 있으니 이것은 남북국이다. 여기에는 반드시 '남북국사'가 있어야 할 것인데 고려가 그것을 편찬하지 않은 것은 잘못이다.

- ① 전략적 요충지에 설치된 5경
- ② 주체적으로 운영된 3성 6부제
- ③ 민족 융합적 성격을 지닌 9서당
- ④ 국립 교육 기관으로 설치된 주자감
- ⑤ 독자적으로 제정된 인안, 대홍 등의 연호

13. 자료의 (가)에 들어갈 내용으로 옳은 것은? [3점]

세계문화유산  
조선 왕릉 답사: 현릉편

○ 사적 제194호(2009년 세계 문화 유산으로 지정)  
○ 서울시 서초구 내곡동 소재

이곳에 묻힌 왕은 두 차례에 걸친 왕자의 난을 통하여 공신 세력을 몰아내고 왕위에 올랐으며, 집권 이후에는 왕권을 강화하고 국왕 중심의 통치 체제를 정비하기 위해 노력하였다. 예를 들면 (가)

- ① 홍문관을 설치하여 경연의 기능을 강화하였다.
- ② 집현전을 설치하여 국가 정책을 연구하도록 하였다.
- ③ 경국대전을 반포하여 국가 통치 규범을 마련하였다.
- ④ 사병을 혁파하여 국왕의 군사 지휘권을 강화하였다.
- ⑤ 조계문신 제도를 시행하여 왕권을 뒷받침하도록 하였다.

14. (가) 시기에 해당하는 사실로 옳은 것은? [3점]

소현 세자가 일찍 세상을 하직하여 효종 대왕께서 둘째이시지만 장자의 지위로 종묘를 계승하였다. 그러므로 대왕대비께서 효종 대왕을 위해 삼년복을 입어야 한다는 것은 의심할 여지가 없는데도 지금 복제를 낮추어 일년복을 입게 하고 말았다.



(가)



탕평의 비를 세우고 글을 새기기를 '원만하여 편벽되지 않음은 곧 군자의 공심이요, 편벽되고 원만하지 않음은 바로 소인의 사심이다.'라고 하였다.

- ① 서인의 반정으로 집권 세력이 교체되었다.
- ② 환국을 거치면서 일당 전제화 추세가 나타났다.
- ③ 척신 정치의 잔재 청산을 둘러싸고 봉당이 발생하였다.
- ④ 사림 세력과 훈구 세력 간의 갈등으로 사화가 일어났다.
- ⑤ 안동 김씨, 풍양 조씨 등 외척 가문이 권력을 독점하였다.

15. 다음 시기의 농업에 대한 설명으로 옳은 것을 <보기>에서 고른 것은? [3점]

역사 신문

**농업 기술 개선, 농가 소득 증대에 기여**  
깊이갈이와 퇴비로 논밭을 비옥하게

최근 농업 기술이 크게 개선되면서 농업 생산과 농가 소득 증대에 기여하고 있다. 소를 이용한 깊이갈이가 확산되었으며, 비료를 주는 방법도 발달하였다. 특히 풀이나 갈대로 만든 녹비에 동물의 똥오줌을 함께 섞으면 퇴비가 되는데, 이것은 작물과 토양에 매우 이롭다고 한다. 여기에 중국의 농서인 농상집요가 소개되어 농업 기술이 더욱 개선될 것으로 기대되고 있다.

<보 기>

- ㄱ. 모내기법이 전국적으로 확대되었다.
- ㄴ. 발농사에서 2년 3작의 윤작이 행해 졌다.
- ㄷ. 휴경지가 줄고 계속 경작할 수 있는 토지가 늘었다.
- ㄹ. 우리나라의 기후와 풍토에 적합한 농서가 편찬되었다.

- ① ㄱ, ㄴ    ② ㄱ, ㄷ    ③ ㄴ, ㄷ    ④ ㄴ, ㄹ    ⑤ ㄷ, ㄹ

16. 다음 인물의 무역 활동과 관련된 탐구 활동으로 적절한 것은?

그는 원도에 성을 쌓고 항만 시설을 갖추었다. 군선을 만들고 수군을 훈련시켜 황해로 출동해 해적을 소탕하였다. 그 후에는 상업 활동에 주력해서, 원도를 중심으로 일본과 당을 잇는 중계 무역망을 구축하고 막대한 부를 축적하였다

- ① 청해진을 중심으로 이루어진 국제 무역 활동을 조사한다.
- ② 왜관 개시를 통해 전개된 대일 무역 양상에 대해 조사한다.
- ③ 낙랑과 일본의 규슈 지방을 연결하는 중계 무역의 중심지를 파악한다.
- ④ 국경 지방에 설치된 무역소를 통해 이루어진 교역 내용에 대해 조사한다.
- ⑤ 우리나라의 이름이 서방 세계에 코리아로 알려지게 된 배경을 파악한다.

17. 밑줄 친 '이 지역'과 관련된 사실로 옳은 것을 <보기>에서 고른 것은? [3점]

고려 태조 원년에 이 지역이 황폐하였기 때문에 염주, 백주, 황주, 해주, 봉주 등 여러 고을의 백성들을 옮겨서 인구를 채워 대도호부로 삼았고 조금 뒤에 서경으로 삼았다.  
- 『신증동국여지승람』 -

<보 기>

- ㄱ. 장수왕이 남하 정책 추진을 위해 도움으로 삼았다.
- ㄴ. 묘청 등이 혁신 정치를 추구하며 대화공을 건립하였다.
- ㄷ. 삼별초가 환도에 반발하여 대몽 항쟁을 시작하였다.
- ㄹ. 운요 호 사건을 계기로 최초의 근대적 조약이 체결되었다.

- ① ㄱ, ㄴ    ② ㄱ, ㄷ    ③ ㄴ, ㄷ    ④ ㄴ, ㄹ    ⑤ ㄷ, ㄹ

18. (가)~(마) 중 다음 민족 운동이 일어난 시기로 옳은 것은?

○ 이 운동이 단지 나라의 빛을 갚는 데만 목적을 두고 있는 것은 아니다. 우리는 이 운동을 통해서 국민들의 애국심을 불러일으키려 하고 있으며 이렇게 결집된 국민의 힘은 장차 국권을 회복하는 운동의 초석이 될 것이다.  
- 서상돈과의 인터뷰 -

○ 이 운동이 표면상으로는 나라 빛을 갚자는 주장을 하고 있지만 배후에는 자강회, 청년회 등의 단체가 있고 궁중과도 암암리에 연결되어서 그 진정한 목적은 국권 회복을 추구하는 배일 운동입니다.  
- 일본인 경무총감이 통감에게 한 보고 -

1876	1905	1910	1919	1932	1945
(가)	(나)	(다)	(라)	(마)	
강화도 조약	을사 조약	국권 상실	3·1 운동	윤봉길 의거	광복

- ① (가)    ② (나)    ③ (다)    ④ (라)    ⑤ (마)

19. 다음 정책의 시행에 따라 나타난 상황으로 옳은 것을 <보기>에서 고른 것은? [3점]



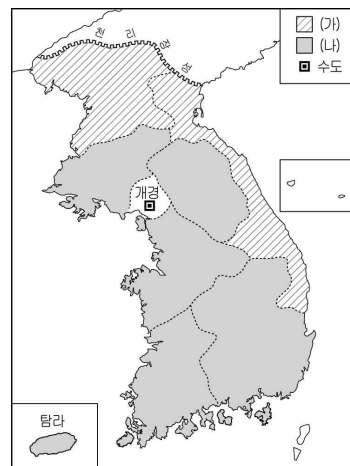
<보 기>

- ㄱ. 전세가 1결당 4두로 고정되었다.
- ㄴ. 퇴직한 관리에게 과전이 지급되었다.
- ㄷ. 토지에 대한 국가의 지배권이 강화되었다.
- ㄹ. 관리가 수조권을 남용하는 폐단이 시정되었다.

- ① ㄱ, ㄴ    ② ㄱ, ㄷ    ③ ㄴ, ㄷ    ④ ㄴ, ㄹ    ⑤ ㄷ, ㄹ

20. (가), (나) 행정 구역과 관련된 설명으로 옳지 않은 것은?

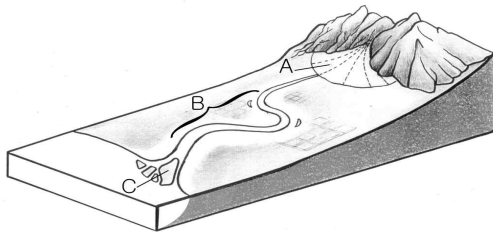
[3점]



- ① (가)에는 중앙에서 병마사를 파견하였다.
- ② (가)의 국방상 요충지에 진을 설치하였다.
- ③ (나)의 일반 군현에는 주현군이 주둔하였다.
- ④ (나)는 상설 행정 기관이 없는 일반 행정 단위였다.
- ⑤ (가)와 (나)의 모든 군현에 지방관을 파견하였다.



26. A~C 지형에 대한 설명으로 알맞은 것은? [3점]



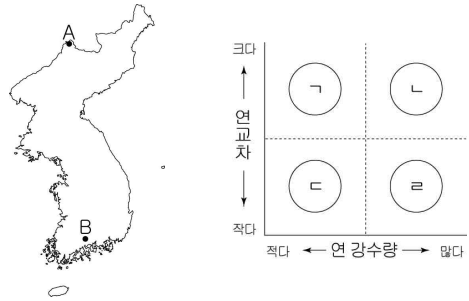
- ① A는 구릉성 산지가 나타나는 지역에서 잘 발달한다.
- ② B의 배후 습지는 배수가 양호하여 밭으로 이용된다.
- ③ C는 조수 간만의 차가 큰 해안에서 잘 발달한다.
- ④ A는 B보다 퇴적물의 평균 입자 크기가 더 작다.
- ⑤ A는 선단, C는 자연 제방이 취약 입지에 유리하다.

27. 자료의 이것과 같은 기후 현상이 나타나는 날의 일기도로 알맞은 것은? [3점]

지도는 이것으로 발생한 우리나라 일 최대 강수량 5위까지를 나타낸 것이다. 이것은 필리핀 부근의 열대 해상에서 발생하여 우리나라를 포함한 동북아시아 지역에 영향을 준다. 이것은 진행 방향의 오른쪽 지역에 더 큰 피해를 주기도 하지만, 적조현상을 완화시키는 등의 장점도 있다.

- ①
- ②
- ③
- ④
- ⑤

28. A, B 지역의 기후 특색을 비교하여 알맞게 연결한 것은?

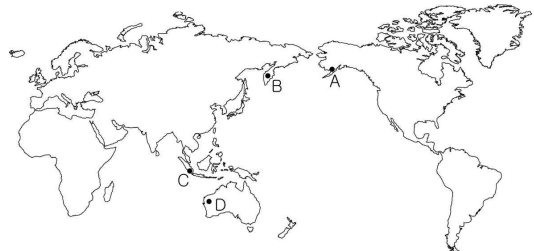


- |   |   |   |   |   |   |
|---|---|---|---|---|---|
|   | A | B |   | A | B |
| ① | ㄱ | ㄴ | ② | ㄱ | ㄹ |
| ③ | ㄴ | ㄷ | ④ | ㄷ | ㄴ |
| ⑤ | ㄹ | ㄴ |   |   |   |

29. 자료와 같은 지형을 볼 수 있는 지역만을 지도에서 있는 대로 고른 것은?

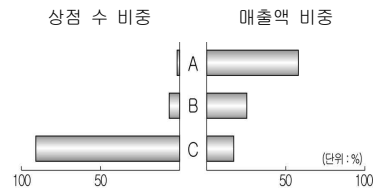
가고시마에 도착하면 가장 먼저 눈에 띄는 것이 사쿠라지마 활화산이다. 사쿠라지마는 분연 활동은 있으나, 시뻘건 용암이 흘러내리는 것은 아니다. 사흘 머무는 동안 매일 하루 한 차례씩 분출이 있었다.

\*분연활동: 화산가스·화산재 등을 분출하는 활동



- ① A, D
- ② C, D
- ③ A, B, C
- ④ A, B, D
- ⑤ B, C, D

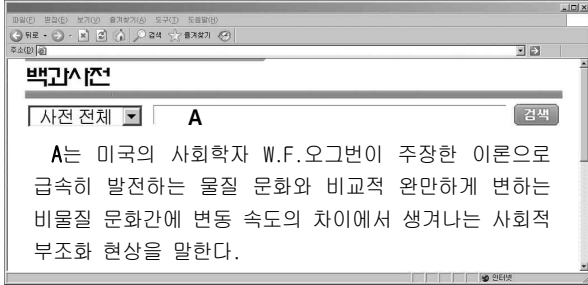
30. 어느 지역 내 동일 업종의 상점 A~C에 대한 설명으로 알맞은 것은? [3점]



- ① A는 최소 요구치가 가장 크다.
- ② B는 상점 간의 거리가 가장 멀다.
- ③ 배후지의 면적은 C>B>A 순으로 넓다.
- ④ 소비자의 구매 빈도는 A>B>C 순으로 높다.
- ⑤ 교통이 발달하면 C의 배후지가 가장 많이 확대된다.



36. 그림은 인터넷에서 사회학 용어 A를 검색한 결과이다. 이에 대한 적절한 사례를 <보기>에서 고른 것은? [3점]



- <보 기>
- ㄱ. 레저 산업이 급속하게 발달하였지만, 무질서한 여가 활동으로 자연이 크게 훼손되고 있다.
  - ㄴ. 인터넷 보급률은 크게 늘었지만, 인터넷 예절은 아직 부족해 악성 댓글 등에 따른 피해가 늘고 있다.
  - ㄷ. 국산 휴대용 게임기의 생산은 크게 늘고 있지만, 이를 활용할 게임 프로그램이 부족해 재고가 늘고 있다.
  - ㄹ. 자동차 증가율은 큰 폭으로 증가하고 있지만, 상대적으로 도로 증가율은 낮아 교통 체증이 매우 심각하다.

- ① ㄱ, ㄴ    ② ㄱ, ㄷ    ③ ㄴ, ㄷ    ④ ㄴ, ㄹ    ⑤ ㄷ, ㄹ

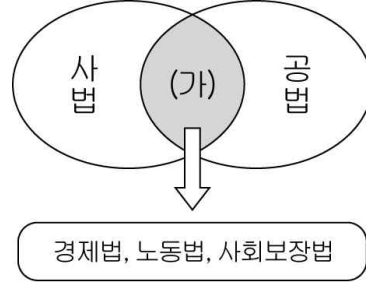
37. 밑줄 친 '이들'에 대해 바르게 설명한 학생은?

이들은 근대 유럽에서 상공업을 바탕으로 왕에게 협력하면서 재산을 축적하였으며, 점차 자신들의 경제력과 지식을 바탕으로 근대 시민 사회 성립의 주체로 등장하였다.



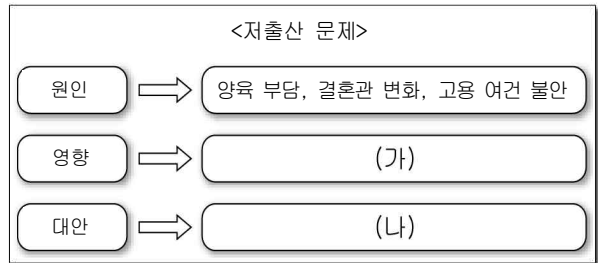
- ① 갑    ② 을    ③ 병    ④ 정    ⑤ 무

38. 다음은 법의 분류를 도식화한 것이다. (가)에 대한 설명으로 옳지 않은 것은?



- ① 국가 기관 상호 간의 관계를 규율한다.
- ② 최소한의 인간다운 생활을 보장하고자 한다.
- ③ 실질적 자유와 평등을 실현하기 위한 것이다.
- ④ 국가가 사적 영역에 적극 개입하는 성격을 갖는다.
- ⑤ 자본주의의 문제점을 극복하기 위한 방안 중 하나이다.

39. 다음 (가), (나)에 들어갈 적절한 내용을 바르게 나열한 것은? [3점]



- |               |                 |
|---------------|-----------------|
| (가)           | (나)             |
| ① 노동력 부족      | 자국민의 해외 이민 장려   |
| ② 주택 보급률 감소   | 공공 임대 주택 건설     |
| ③ 청년 실업률 증가   | 생산 설비의 자동화 확대   |
| ④ 성비 불균형 심화   | 남아 선호 사상 척결 캠페인 |
| ⑤ 노인 부양 인구 감소 | 출산·양육 보조금 지급 확대 |

40. 다음 A, B 집단에 대한 설명으로 옳은 것은?

- A는 자신들의 특수한 이익과 관련된 사안에 대해 매우 민감하게 반응하며 자신들의 이익을 실현하기 위해 정책 결정 과정에 영향력을 행사하는 집단이다.
- B는 정치적 견해를 같이 하는 사람들의 집단으로 대통령과 국회의원 등 국민의 의사를 대변할 정치 지도자를 배출하며, 시민들의 정치 사회화 기능을 수행한다.

- ① A는 선거를 통해 국민들에게 정치적 책임을 진다.
- ② A는 정권 획득을 통해 정책 실현을 목적으로 한다.
- ③ B는 공공 정책을 결정하고 집행하는 역할을 한다.
- ④ B는 다양한 시민 운동의 주체로 공공선을 추구한다.
- ⑤ A, B는 공공 정책 결정 과정의 비공식적 참여자에 해당된다.