

제 4 교시

사회탐구·과학탐구 영역

성명 수험번호 1

- 문제지에 성명과 수험번호를 정확히 써 넣으시오.
- 답안지에 성명과 수험번호를 써 넣고, 또 수험번호와 답을 정확히 표시하시오.
- 문항에 따라 배점이 다르니, 각 물음의 끝에 표시된 배점을 참고하시오. 1점과 3점 문항에만 점수가 표시되어 있습니다. 점수 표시가 없는 문항은 모두 2점입니다.

1. 다음 글에 나타난 문제를 해결하기 위한 자세로 가장 적절한 것은?

히말라야의 아름다운 설산을 감상하기 위해 세계 각지의 여행자들이 네팔로 향한다. 관광객들은 히말라야 주요 등산로에 있는 숙소에 도착하면 샤워를 위한 따뜻한 물을 요구한다. 관광객 1인에게 따뜻한 물을 제공하기 위해서는 히말라야 산맥의 나무 3그루를 땔감으로 사용해야 한다. 뿐만 아니라 관광객들은 등반하는 동안 물을 마시고 플라스틱 물병을 등산로 곳곳에 버린다. 그 결과 1년에 100톤 이상의 플라스틱 물병이 쓰레기로 쌓여가고 있다.

- ① 인간과 자연의 상호 의존적인 측면을 강조한다.
- ② 인간은 자연을 이용할 권리가 있음을 강조한다.
- ③ 이성을 지닌 인간이 자연보다 소중함을 강조한다.
- ④ 자연의 효용성과 과학적 지식의 유용성을 증시한다.
- ⑤ 인간과 자연을 분리하는 이분법적 자연관을 주장한다.

2. 다음 설문 조사 결과에 나타난 청소년 문화에 대한 설명으로 가장 적절한 것은? [3점]

< 전국 고등학생 대상 설문 조사 결과 >

질문	선택 내용	인원(명)	비율(%)
청소년 문화를 한 마디로 표현한다면?	독창적인 문화	96	32
	디지털 문화	69	23
	개방적인 문화	60	20
	입시 문화	39	13
	기성 세대 불신 문화	36	12
합계		300	100

- OO청소년정책연구원 -

- ① 일탈과 비행의 문화이다.
- ② 수동적이고 수용성이 낮다.
- ③ 대안 문화의 관점을 거부한다.
- ④ 성숙하지 못한 경향이 강하다.
- ⑤ 독립적이지만 부정적인 면도 있다.

3. 대화에서 추론할 수 있는 (갑)의 삶의 태도로 가장 적절한 것은?



- ① 삶에서 객관적 지표를 중시한다.
- ② 경제적 안정과 효율성을 추구한다.
- ③ 합리적이고 소비 지향적인 삶을 중시한다.
- ④ 삶에 대한 성찰을 통해 정신적 가치를 추구한다.
- ⑤ 실질 소득의 증가를 통한 삶의 만족감을 추구한다.

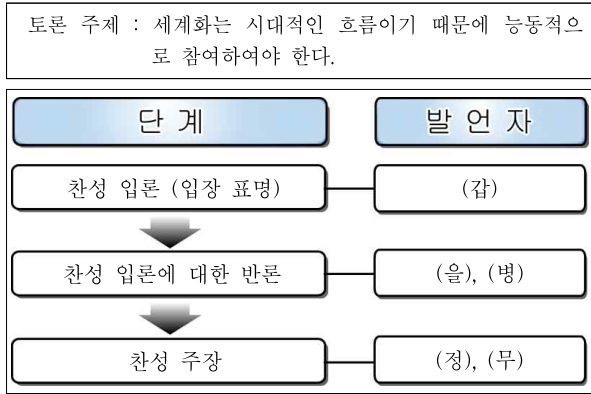
4. 다음 내용과 같은 현대 사회의 변화 추세에 대한 옳은 설명을 <보기>에서 고른 것은?

기억을 정리·보존하고 회수하는 뛰어난 능력은 인류 진화의 비결이었다. 따라서 사회적 기억을 형성하거나 보존하고 사용하는 방법이 현저하게 변화될 경우, 그것은 인류 운명의 원천과도 관계를 갖는다. 최초로 인류는 공유되는 기억을 개인적 기억과 같은 장소, 즉 개인의 머릿속에 보존했다. 이와 같은 사회적 기억의 양에는 한계가 있었다. 그러나 현대 사회에서는 컴퓨터와 인터넷을 통한 정보 체계가 사회적 기억을 활성화시켰으며, 이 두 가지의 결합이 새로운 혁명적 변화를 가속화시켰다.

- <보 기>
- ㄱ. 정신 노동의 가치가 증시된다.
 - ㄴ. 지식과 정보가 중요한 상품이 된다.
 - ㄷ. 산업 구조가 재화 중심 생산 체제로 확대된다.
 - ㄹ. 중앙 집권적이고 수직적인 관리 체계가 확대된다.

- ① ㄱ, ㄴ ② ㄱ, ㄷ ③ ㄴ, ㄷ ④ ㄴ, ㄹ ⑤ ㄷ, ㄹ

5. 그림의 토론 과정에서 (갑)~(무)가 주장하는 근거로 적합하지 않은 것은? [3점]



- ① (갑) - 국가 간의 자유 경쟁은 생산성 증대를 가져올 것이다.
- ② (을) - 선진 자본주의 국가의 시장 확대 과정이 될 것이다.
- ③ (병) - 빈부 격차 심화와 복지 국가의 소멸을 가져올 것이다.
- ④ (정) - 국영 기업의 민영화로 부정부패가 심화될 것이다.
- ⑤ (무) - 민간 기업, 민간 기구의 활동이 증대될 것이다.

6. (가)를 주장한 사상가의 관점에서 (나) 문제의 해결 방안을 <보기>에서 고른 것은? [3점]

(가) 개인적으로 상당히 도덕적인 사람도 자기가 소속된 집단의 이익을 위해서는 이기적으로 행동하기 쉽다.
 (나) ○○시 주민들은 원자력 발전소가 공동체를 위한 시설인 것은 인정한다. 하지만 주민들은 우리 고향에 건설하는 것은 절대 있을 수 없고, 반드시 다른 지역에 건설되어야 한다며 도로를 점거하는 집단 행동을 하고 있다.

- <보 기>
- ㄱ. 공청회와 전문가 평가를 제도화한다.
 - ㄴ. 사회적 가치를 개인의 가치보다 우선시한다.
 - ㄷ. 지역 주민 개개인의 교양과 양심에 호소한다.
 - ㄹ. 지역 주민들의 의견 수렴을 위한 협의체를 구성한다.

- ① ㄱ, ㄴ ② ㄱ, ㄹ ③ ㄴ, ㄷ ④ ㄴ, ㄹ ⑤ ㄷ, ㄹ

7. 다음 내용에 나타난 문제의 원인으로 옳지 않은 것은?

‘청소년 미디어중독예방센터’가 전국 청소년 1천 명을 대상으로 설문 조사를 실시하였다. 이 조사 결과에 의하면 청소년 절반 이상이 인터넷 메신저에 접속하여 상대방에게 욕설을 한 경험이 있으며, 3명 중 1명은 악성 댓글을 인터넷에 게시한 것으로 나타났다. 또한 악성 댓글에 대한 심각성이 대두되고 있음에도 불구하고 청소년들은 죄의식을 느끼지 못하고 계속해서 악성 댓글을 게시하고 있는 것으로 조사되었다.

- ① 가상 공간에서의 자기 통제력 약화
- ② 타인의 인격을 존중하는 의식 약화
- ③ 익명성의 심화로 인한 비도덕적 행동 증가
- ④ 상호 연대 의식과 타인에 대한 책임감 약화
- ⑤ 불특정 다수와 접하는 간접적인 인간 관계 축소

8. 다음 내용에 부합하는 자아 정체성 형성 유형으로 가장 적절한 것은?

삶의 과정에서는 많은 사건이 우연히 일어난다. 삶에서 중요한 사건들이 좋은 방향으로 전개되면 더욱 행복해질 것은 당연하다. 반대로 큰 사건들이 나쁜 방향으로 전개되면 고통을 당하고 결국은 불행해질 수도 있다. 하지만 정신의 고귀함과 위대함으로 모든 불행을 견뎌 낸다면, 불행 속에서도 고귀한 성품은 내내 밝은 빛을 발할 것이다. 따라서 선하고 현명한 사람은 인생의 모든 변화를 훌륭하게 극복해 나가며, 또 언제나 자신의 처지를 긍정적으로 이해하고 행동해야 한다.

- ① 혼미 유형 ② 성공 유형 ③ 유예 유형
- ④ 위기 유형 ⑤ 상실 유형

9. 다음 주장에 대한 설명으로 옳지 않은 것은? [3점]

- 신(God)이라는 말이 우주를 지배하는 물리적인 법칙을 말한다면 신은 존재한다. 그러나 신이라는 말이 인격신을 의미한다면 신은 없다. 신은 과학적으로 증명할 수 없기 때문에 신의 존재에 대하여 논의하는 것은 무의미하다.
- 모든 과학적 산물, 과학적 인식과 사고 방식은 진리이기 때문에 항상 이를 무엇보다 높이 평가해야 한다. 따라서 과학적 인식과 법칙 이외의 모든 사고 방식이나 의식 구조는 무의미하며 오류로 가득 찬 허위 의식에 불과하다.

- ① 철학적·신학적 신념의 중요성을 간과한다.
- ② 도덕적 문제 해결에서 도구적 이성을 중시한다.
- ③ 인간 공동의 생활 양식과 심정적 연대를 강조한다.
- ④ 책임, 권리와 의무의 가치를 의미 없는 것으로 본다.
- ⑤ 가치 판단의 근거로 이성적 타산성과 효율성을 강조한다.


10. 밑줄 친 ㉠~㉣에 대한 옳은 설명만을 <보기>에서 있는 대로 고른 것은? [3점]

사람들은 자기답게 산다는 단순한 행위를 잊어버리고 ㉠할상 타인의 눈을 의식한다든가, 또는 ㉡“내 것 내 맘대로 하는데 무슨 상관이야.” 등 자아 정체성을 잃어버리고 살고 있다. 여기서 우리는 세네카가 로마인에게 ㉢“자기 자신으로 자신을 돌아보라.”고 한 외침이나, 레오 버스카글리아가 현대인들에게 ㉣“자기 억제 장치를 풀어 자기 자신을 만들자.”고 한 말을 음미해 볼 필요가 있다.

- <보 기>
- ㄱ. ㉠은 주체적 자아가 결여되어 있다.
 - ㄴ. ㉡은 객체로서의 자아 성찰이 요구된다.
 - ㄷ. ㉢은 객체로서의 자아를 강조하고 있다.
 - ㄹ. ㉣은 주체적이고 창조적인 자아를 강조하고 있다.

- ① ㄱ, ㄴ ② ㄱ, ㄷ ③ ㄴ, ㄷ
- ④ ㄱ, ㄴ, ㄹ ⑤ ㄴ, ㄷ, ㄹ

11. 다음 유물에 대한 설명으로 옳은 것은?



- ① (가) - 밭을 가는 농기구로 사용되었다.
- ② (나) - 의식용 도구로 사용되었다.
- ③ (다) - 사냥과 고기잡이에 사용되었다.
- ④ (라) - 실을 뽑는데 사용되었다.
- ⑤ (가), (다), (나), (라) 순으로 등장하였다.

12. (가), (나) 왕의 통치 활동으로 옳은 것은? [3점]

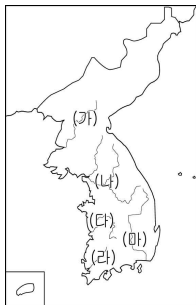
(가)	<ul style="list-style-type: none"> ○ 919년 봄 정월에 송악의 남쪽에 수도를 정하였다. ○ 943년 여름 4월에 왕이 내전에 나가 대광 박술회를 불러서 친히 「훈요」를 주었다.
(나)	<ul style="list-style-type: none"> ○ 956년 노비를 조사하여 율고 그림을 가려 풀어주도록 명하자, 그 주인을 배반한 노비가 이루 헤아릴 수 없었다. ○ 960년 봄 3월에 백관의 관복 제도를 제정하였다.

- ① (가) - 지방관을 파견하고 향리 제도를 시행하였다.
- ② (가) - 2성 6부제를 중심으로 하는 중앙 관제를 마련하였다.
- ③ (나) - 독자적인 연호를 사용하고 왕을 황제라 칭하였다.
- ④ (나) - 『계백료서』를 지어 관리가 지켜야 할 규범을 제시하였다.
- ⑤ (가), (나) - 과거제를 실시하여 새로운 인재를 등용하였다.

13. 다음의 두 자료와 관련된 지역을 지도에서 고른 것은?

○ 왕이 거칠부 등에게 고구려를 공격하게 하여 10개 군을 차지하였다. …(중략)… 7월에 백제의 동북 지방을 빼앗아 신주(新州)라는 고을을 두고 아찬 무력을 군주로 삼았다.
- 『삼국사기』, 진흥왕 본기 -

○ 온달이 아뢰기를 “신라가 우리의 땅을 빼앗아 군현을 삼았으니, 백성들이 통탄하여 일찍이 부모의 나라를 잊은 적이 없습니다. 원컨대 대왕께서 신에게 군사를 주신다면 반드시 우리 땅을 도로 찾아오겠습니다.”라고 하였다.
- 『삼국사기』, 온달 열전 -



- ① (가) ② (나) ③ (다) ④ (라) ⑤ (마)

14. 다음은 삼국의 정세에 대한 가상의 대화이다. 이 시기에 대한 설명으로 옳은 것은?



- ① 고구려는 평양으로 도읍을 옮기고 중국 남북조와 교류하였다.
- ② 백제는 수군을 정비하여 요서 지방으로 진출하였다.
- ③ 백제는 신라와의 동맹을 강화하여 고구려에 대항하였다.
- ④ 신라는 행정 구역을 정비하고 우산국을 복속하였다.
- ⑤ 신라는 금강 입구로 침입해 온 당의 수군을 섬멸하였다.

15. (가), (나) 국가의 통치 체제에 대한 설명으로 옳지 않은 것은? [3점]

6전 제도	국가	(가)	(나)
	이부	위화부	충부
	호부	조부와 창부	인부
	예부	예부	의부
	병부	병부	지부
	형부	좌·우 이방부	예부
	공부	예작부	신부

- ① (가) - 관리를 감찰하기 위해 사정부를 두었다.
- ② (가) - 집사부 아래 여러 부를 두어 행정을 분담하게 하였다.
- ③ (나) - 좌·우사정이 나누어 관할하는 2원적 통치 체제였다.
- ④ (나) - 당의 영향은 받았지만 명칭과 운영은 독자성을 유지하였다.
- ⑤ (가), (나) - 중앙 정치 조직을 3성 6부로 편성하였다.

16. 다음 () 안에 들어갈 내용으로 옳은 것은?

	1	고		
		추		
2		가		3

<가로 열쇠>
1. 기원전 37년 주몽이 세운 나라
2. ()

<세로 열쇠>
1. 왕 아래의 대가로 사자, 조의, 선인 등 관리를 거느림
2. 하늘을 숭배하고 제사하는 의식으로 동맹, 무천 등이 있음
3. 해동 증자라고 불린 백제의 마지막 왕

- ① 삼한의 신성 지역을 담당한 제사장
- ② 소를 죽여 그 곶으로 길흉을 점치는 제도
- ③ 마가, 우가, 저가, 구가 등이 다스린 행정 구역
- ④ 국가의 중대사를 논의하던 고구려의 귀족 회의제
- ⑤ 고구려에서 왕과 신하들이 함께 모여 제사를 지낸 장소

17. (가), (나) 개혁의 공통점으로 옳은 것은?

(가)	(나)
3. 지조법을 개혁해 관리의 부정 을 막고 백성을 보호하며, 국가 재정을 넉넉하게 한다. 12. 모든 재정은 호조에서 통할한다. 13. 대신과 참찬은 의정부에 모여 정령을 의결하고 반포한다.	1. 청에 의존하는 생각을 버리고 자주 독립의 기초를 세운다. 7. 조세의 징수와 경비 지출은 모 두 탁지아문의 관할에 속한다. 14. 문벌을 가리지 않고 인재 등용의 길을 넓힌다.

- ① 청군의 개입으로 개혁 정책이 중단되었다.
- ② 군사 제도를 개편하여 국방력을 강화하였다.
- ③ 민중의 지지 속에서 추진된 근대적 개혁이었다.
- ④ 재정을 일원화하여 합리적으로 운영하고자 하였다.
- ⑤ 동학 농민 운동의 폐정 개혁안을 정책에 반영하였다.

18. 다음 상황이 일어나게 된 배경을 파악하기 위한 탐구 주제로 가장 적절한 것은?

강홍립 등이 장계를 올렸는데, 그 대략에 “신이 배동관령에 도착하여 먼저 역관 하서국을 후금에 보내어 몰래 통하기를 ‘비록 명나라에게 재축을 당하여 여기까지 오기는 하였으나 후면에 있어서 접전하지 않을 계획이다.’라고 하였기 때문에 전투에 패한 후에도 서로 잘 지내고 있습니다.”라고 하였다.


- ① 병자호란의 발생
- ② 북벌 운동의 전개
- ③ 광해군의 중립 외교
- ④ 인조반정과 서인의 집권
- ⑤ 정봉수와 이립의 의병 활동

19. 지도와 같은 형세가 나타난 시기 고려의 정치 상황으로 옳은 것은? [3점]



- ① 최영은 요동 정벌을 단행하였다.
- ② 서희는 외교 담판으로 강동 6주를 획득하였다.
- ③ 태조 왕건은 청천강에서 영흥에 이르는 국경선을 확보하였다.
- ④ 묘청은 풍수지리설을 내세워 평양으로 도읍을 옮기려 하였다.
- ⑤ 최유는 수도를 강화도로 옮기고 북방 민족의 침략에 대항하였다.

20. 다음 인물에 대해 추론한 것으로 적절하지 않은 것은? [3점]



(?~1453)

- 태종 연간
 - 음서로 벼슬에 나아감, 문과 을과에 급제함
- 세종 연간
 - 병조판서 역임, 감종서와 함께 6진을 개척함
- 문종 연간
 - 홍인문 중건 공사 감독, 영의정에 임명됨
- 단종 연간
 - 어린 임금을 보필하다가 피살됨

- ① 고위 관료의 자손이었을 것이다.
- ② 수양 대군에 의해 희생되었을 것이다.
- ③ 문과 급제로 고관 승진이 가능했을 것이다.
- ④ 여진족의 침략을 방어하는데 공헌하였을 것이다.
- ⑤ 6조 직계제로 인해 영의정의 권한을 제한받았을 것이다.

21. 빈칸에 들어갈 내용으로 가장 적절한 것은? [3점]

<학술 세미나>

조선 후기 정치를 논하다

발표 주제

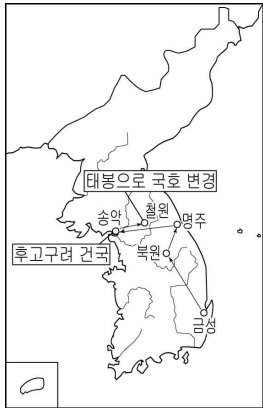
1. 현종 - 예송의 정치적 의미
2. 숙종 -
3. 영조 - 이조 전랑의 권한 제한과 봉당의 약화
4. 순조 - 외척의 집권과 매관매직

일시 : 2009년 6월 ○○일 14:00
장소 : ○○역사학회 대회의실

○○ 역사학회

- ① 환국과 탕평론의 등장
- ② 서원 정리와 사대부의 반발
- ③ 세도 정치와 비변사의 권력 집중
- ④ 화성 축조와 장용영 설치의 의미
- ⑤ 새로운 인재 발굴과 규장각 설치

22. 다음과 같이 세력을 형성해 나간 인물에 대한 설명으로 옳은 것을 <보기>에서 고른 것은? [3점]



<보 기>
ㄱ. 미륵 신앙을 이용하여 전제 정치를 도모하였다.
ㄴ. 경순왕의 항복으로 전쟁 없이 신라를 통합하였다.
ㄷ. 백성과 신하들의 신망을 잃어 왕위에서 축출되었다.
ㄹ. 6두품 출신의 호족으로서 신라의 골품 제도를 비판하였다.

- ① ㄱ, ㄴ ② ㄱ, ㄷ ③ ㄴ, ㄷ ④ ㄴ, ㄹ ⑤ ㄷ, ㄹ

23. 다음에 나타난 사회학적 개념에 대한 설명으로 옳은 것은? [3점]

○○신문 2009년 △월 △일

○○도에 거주하는 결혼이민여성은 작년 말 현재 3,325명으로 최근 5년간 21%의 증가 추세를 보이고 있다. 이에 따라 ○○도는 결혼이민여성 정착 지원 종합 계획 수립 및 지원센터를 설립하여 한국어 교육과 가족 통합 교육, 문화 이해 교육 등의 강좌를 개설·운영하고 있다. 이러한 강좌에 결혼이민여성들이 많이 참여하고 있는 추세이다.

- ① 공식 조직 내에서 개인의 취미에 따라 만들어진 조직이다.
- ② 형식에 얽매어 본래 목적보다 수단을 더 중시하는 현상이다.
- ③ 개인이 속한 사회의 새로운 규범과 가치를 내면화하는 것이다.
- ④ 동일한 목표를 먼저 달성하기 위하여 노력하는 상호작용이다.
- ⑤ 한 사람이 상호 모순되거나 양립하기 어려운 두 가지의 역할을 동시에 수행해야 하는 경우이다.

24. 다음에 나타난 조직 운영 방식의 특징을 <보기>에서 고른 것은?

○○기업은 경쟁력을 높이기 위해 조직을 '팀제'로 개편하였다. 이에 따라 팀장과 본부장을 기업 내·외를 불문하고 공개 경쟁을 통해 선발하였다. 향후 각 팀의 과제 수행 결과에 따라 성과급도 차등 지급할 계획이다.

<보 기>
ㄱ. 연공 서열과 신분 보장이 이루어진다.
ㄴ. 전문성과 창의성의 발휘가 이루어진다.
ㄷ. 능력에 따라 차별적인 보상이 이루어진다.
ㄹ. 표준화된 규칙과 절차에 따라 업무 수행이 이루어진다.

- ① ㄱ, ㄴ ② ㄱ, ㄷ ③ ㄴ, ㄷ ④ ㄴ, ㄹ ⑤ ㄷ, ㄹ

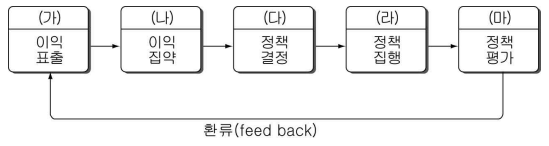
25. 다음 갑의 권리구제 과정에서 나타난 제도의 궁극적인 목적은?

회사원 갑은 2006년 □월 □일 오후 10시경 거래처 회식에 초청돼 술을 마신 뒤 귀가하던 중, 지하철을 타려다 선로에 떨어져 전동차에 치여 다쳤다. 갑은 근로복지공단에 요양 신청을 했지만 거부당하자 소송을 제기하였고, 소송은 아래와 같이 진행되었다.

지방법원 원고 패소	→	항소 원고 패소	→	고등법원 원고 패소	→	상고 원고 승소	→	대법원 원고 승소
------------	---	----------	---	------------	---	----------	---	-----------


- ① 법관의 신분 보장
- ② 국민의 기본권 보장
- ③ 국민 자치 원리 실현
- ④ 권력 분립의 원리 실현
- ⑤ 신속하고 전문적인 재판 보장

26. 그림은 정치 과정을 단계별로 나타낸 것이다. (라)에 해당하는 사례로 옳은 것은? [3점]



- ① 자전거 전용 도로를 이용하는 국민들의 대부분이 만족한 반응을 보였다.
- ② 국회에서는 본회의의 의결을 거쳐 자전거 전용 도로 관련 법안을 통과시켰다.
- ③ 석유 값이 오르자 자전거 전용 도로를 만들어 달라는 국민의 요구가 증가했다.
- ④ 정부 및 지방자치단체는 법안이 통과됨에 따라 자전거 전용 도로 공사를 시작했다.
- ⑤ 자전거 전용 도로 확대에 대한 국민의 요구가 커지자 시민단체들은 자전거 전용 도로 관련 법 제정을 촉구했다.

27. 그림에 나타난 제도들이 공통적으로 추구하고 있는 목적은?




- ① 민주적이고 공정한 선거 실현
- ② 선거를 통한 권력 남용과 부패 방지
- ③ 선거의 국가 관리를 통한 엘리트 선발
- ④ 정치 참여 확대와 민주 시민 의식 고양
- ⑤ 선거 비용 절약 및 국민의 세금 부담 감소

28. 다음은 형성평가 내용이다. (가)~(라)와 관련된 옳은 설명만을 <보기>에서 있는 대로 고른 것은? [3점]

【경제 주체의 활동】

1. 소비의 주체로서, (가) 를 제공한다.
2. 재정의 주체로서, (나) 를 부과한다.
3. (다) 의 주체로서, (라) 를 분배하고 이윤을 추구한다.

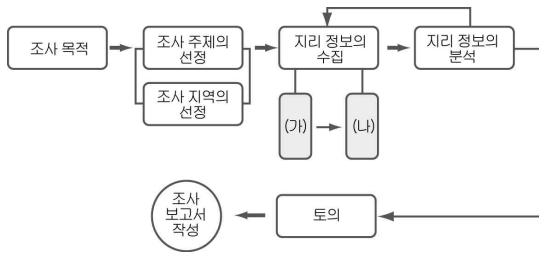


<보기>

ㄱ. (가)는 생산요소로 노동, 토지, 자본이 해당된다.
 ㄴ. (나)는 국민의 권리인 동시에 의무의 성격을 갖는다.
 ㄷ. (다)의 사례로 의사가 진료하는 것을 들 수 있다.
 ㄹ. (라)는 임금, 지대, 이자를 의미한다.

- ① ㄱ, ㄷ ② ㄴ, ㄷ ③ ㄴ, ㄹ
 ④ ㄱ, ㄴ, ㄹ ⑤ ㄱ, ㄷ, ㄹ

29. 그림은 지리 조사 단계를 나타낸 것이다. (가), (나)에 해당하는 활동을 <보기>에서 골라 알맞게 짝지은 것은?

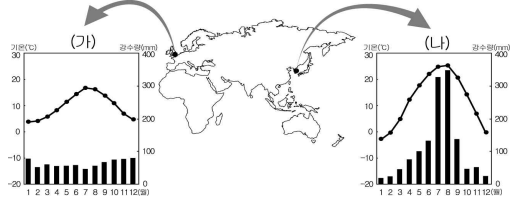


<보기>

ㄱ. 자료를 주제별로 정리하여 지도화하였다.
 ㄴ. 인터넷을 활용하여 관련된 자료를 검색하였다.
 ㄷ. 주변 경관을 촬영하고 주민들과 인터뷰를 하였다.
 ㄹ. ○○지역의 자연·인문 환경을 조사하기로 하였다.

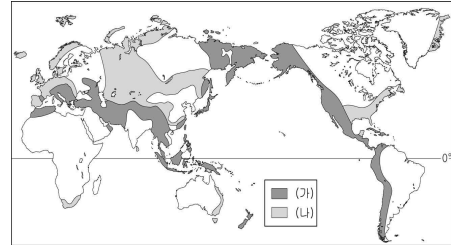
- | | | | | | |
|---|-----|-----|---|-----|-----|
| | (가) | (나) | | (가) | (나) |
| ① | ㄱ | ㄴ | ② | ㄱ | ㄷ |
| ③ | ㄴ | ㄷ | ④ | ㄴ | ㄹ |
| ⑤ | ㄷ | ㄹ | | | |

30. (가), (나) 지역의 기후 특색을 비교한 내용으로 알맞은 것은? [3점]



- ① (가)는 해양, (나)는 대륙의 영향이 더 크다.
- ② (가)는 계절풍, (나)는 편서풍의 영향이 강하다.
- ③ (가)는 (나)보다 강수 분포의 계절차가 크다.
- ④ (가)는 (나)보다 고위도에 위치하여 연교차가 크다.
- ⑤ (가)는 (나)보다 고온 다습하여 벼농사에 유리하다.

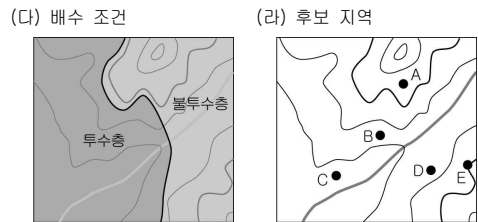
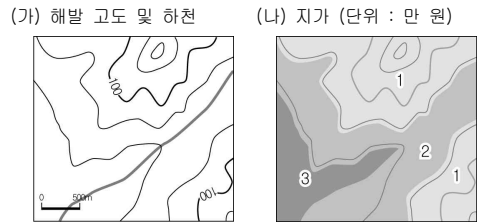
31. (가), (나) 산지의 특성을 비교한 것으로 알맞은 것은?



- ① (가)는 (나)보다 형성 시기가 빠르다.
- ② (가)는 (나)보다 지진 활동이 활발하다.
- ③ (나)는 (가)보다 산지의 연속성이 뚜렷하다.
- ④ (나)는 (가)보다 해발고도가 높고 험준하다.
- ⑤ 석탄은 (가)에, 석유는 (나)에 주로 분포한다.

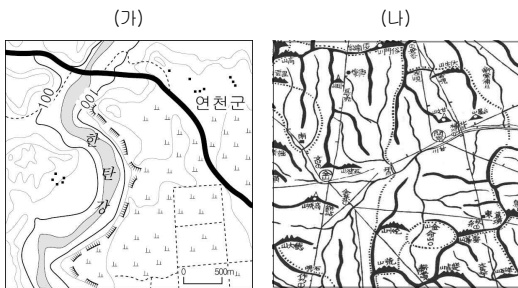
32. 다음 조건을 고려하여 청소년 수련원을 건설하려고 할 때, 입지 지점으로 적당한 곳을 (라)에서 고른 것은? [3점]

- 해발고도 100m 이하인 곳
- 하천에서 500m 이내인 곳
- 지가가 2만 원 이하인 곳
- 배수가 양호한 남향 사면



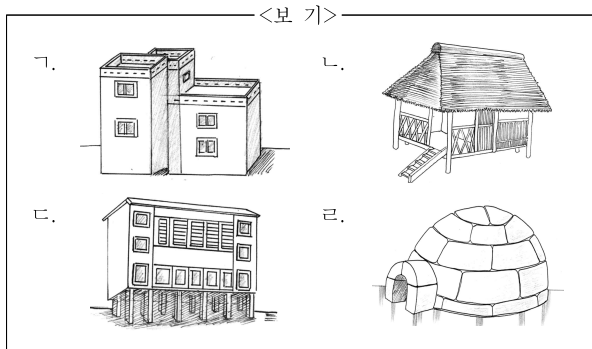
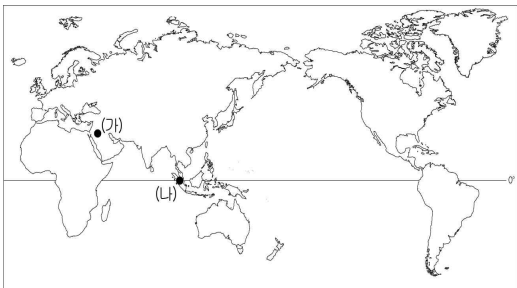
- ① A ② B ③ C ④ D ⑤ E

33. 지도 (가), (나)에 대한 설명으로 알맞은 것은?



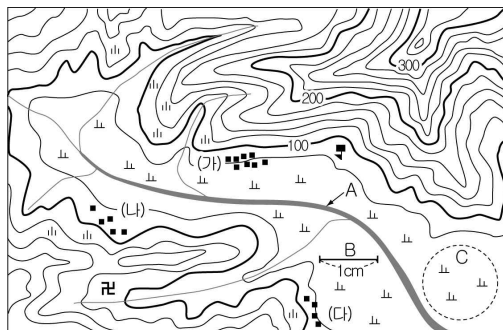
- ① (가)는 특정 지리 정보만을 나타낸 주제도이다.
- ② (나)는 정확한 해발 고도를 알 수 있다.
- ③ (가)는 (나)보다 대축척 지도이다.
- ④ (가)는 (나)보다 제작 시기가 오래되었다.
- ⑤ (가)는 분수계, (나)는 지질 구조를 알 수 있다.

34. (가), (나) 지역에서 볼 수 있는 가옥 경관을 <보기>에서 골라 알맞게 짝지은 것은?



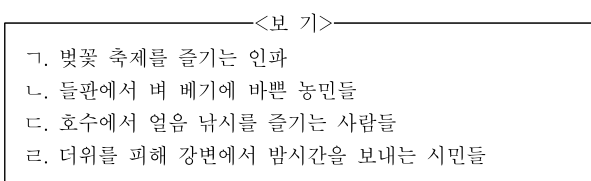
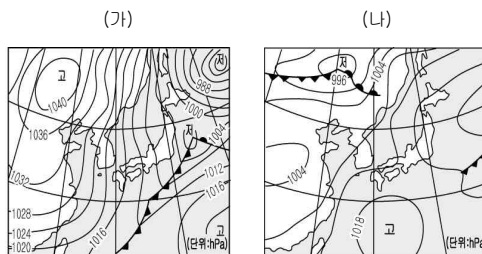
- | | | | |
|-------|-------|-------|-------|
| (가) | (나) | (가) | (나) |
| ① 가 나 | ② 가 다 | ③ 나 다 | ④ 나 라 |
| ⑤ 다 라 | | | |

35. 지형도를 알맞게 분석한 것은? [3점]



- ① A 하천은 북서 방향으로 흐른다.
- ② B의 실제 거리는 약 0.25km이다.
- ③ C에서는 발농사가 주로 이루어진다.
- ④ 절은 학교보다 해발 고도가 높은 곳에 위치한다.
- ⑤ (가)~(다) 중 (나) 마을의 일조량이 가장 많다.

36. (가), (나) 일기도가 주로 나타나는 계절에 볼 수 있는 모습을 <보기>에서 골라 알맞게 짝지은 것은?



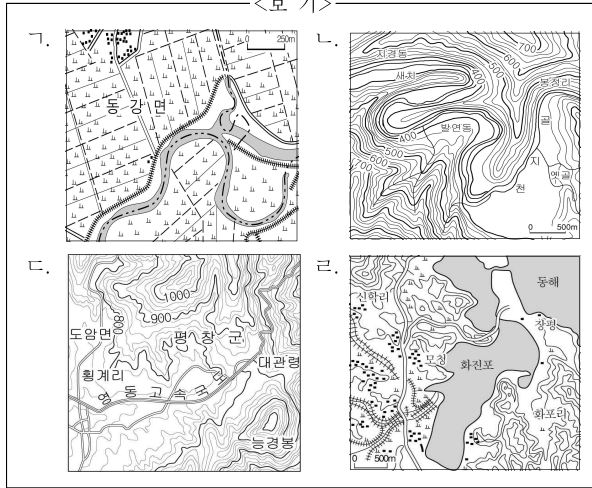
- | | | | |
|-------|-------|-------|-------|
| (가) | (나) | (가) | (나) |
| ① 가 나 | ② 가 다 | ③ 나 다 | ④ 나 라 |
| ⑤ 다 라 | | | |

37. 자료의 밑줄 친 평탄면에서는 등근 자갈이 있는 퇴적층을 볼 수 있다. 이것은 오랫동안 파랑의 침식 작용을 받았다는 증거이며 포항 구룡포, 부산 태종대에서 나타난다.



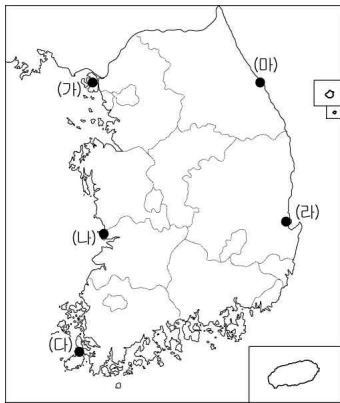
멀리 보이는 평탄면에서는 등근 자갈이 있는 퇴적층을 볼 수 있다. 이것은 오랫동안 파랑의 침식 작용을 받았다는 증거이며 포항 구룡포, 부산 태종대에서 나타난다.

<보기>



- ① 가, 나 ② 가, 다 ③ 나, 다
- ④ 나, 라 ⑤ 다, 라

38. 지도의 (가)~(마) 지역에 대해 조사한 내용으로 적절하지 않은 것은? [3점]



- ① (가) - 갯벌의 형성 요인과 기능
- ② (나) - 뜬다리 부두가 설치된 이유
- ③ (다) - 조류 발전소의 입지 조건
- ④ (라) - 겨울철 북서풍으로 인한 사구의 발달
- ⑤ (마) - 석호의 형성과 관광 산업의 발달

39. (가), (나) 자료를 통계지도로 나타내고자 할 때 가장 적절한 것을 <보기>에서 골라 알맞게 짝지은 것은? [3점]

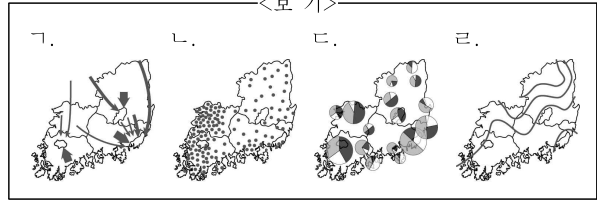
(가) 시·도별 산업 구조 분석

서울은 1차 산업 0.2%, 2차 산업 17.1%, 3차 산업 82.7%로 3차 산업의 비중이 가장 높게 나타나고, 부산은 각각 0.9%, 43.2%, 55.9%, 대구는 0.5%, 45.7%, 53.8%로 서울에 비하여 2차 산업의 비중이 높게 나타난다.

(나) 1월 평균 기온 분포

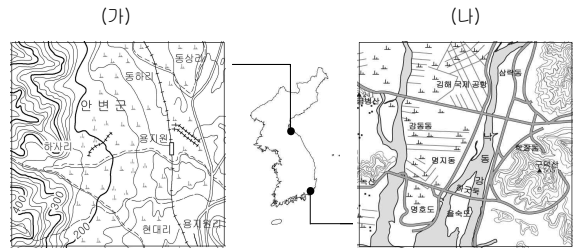
기온	-4℃	-2℃	0℃	2℃
지역	해주, 개성 동두천, 양평	아산, 대전 전주, 구미	영광, 광주 밀양, 강릉	해남, 여수 사천, 울산

<보기>



- | | | | | | |
|---|-----|-----|---|-----|-----|
| | (가) | (나) | | (가) | (나) |
| ① | 가 | 나 | ② | 가 | 다 |
| ③ | 나 | 다 | ④ | 나 | 라 |
| ⑤ | 다 | 라 | | | |

40. (가), (나)에 대한 설명으로 알맞은 것은? [3점]



- ① (가)는 자유곡류천, (나)는 복류천이 발달한다.
- ② (가)는 피수, (나)는 득수 조건을 고려한 취락이 입지한다.
- ③ (가)는 (나)보다 충적층의 구성 물질 입자가 크다.
- ④ (가)와 (나)는 하천의 하류에서 발달한다.
- ⑤ (가)와 (나)는 우리나라에서 흔히 볼 수 있다.