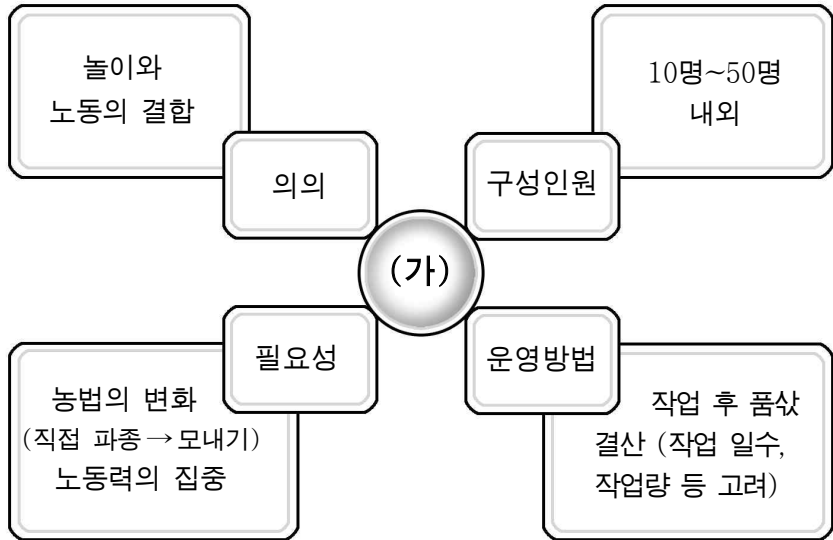


6. 이웃 간의 상부상조 전통의 하나인 (가)에 대한 설명으로 적절한 것은? [3점]



- ① 현금 출자를 통한 목돈 마련을 목적으로 한다.
- ② 일로써 품삯을 주고받는 1 대 1의 노동 교환 방식이다.
- ③ 권선징악과 상호부조를 목적으로 한 향촌의 자치 규약이다.
- ④ 계회(契會) 또는 회(會)라고도 하며 현대까지 이어지고 있다.
- ⑤ 공동체 의식을 바탕으로 한, 마을 단위의 공동 노동 조직이다.

7. 밑줄 친 ㉠의 적절한 사례로 보기 어려운 것은? [3점]

이기적인 개인들이 각자 독립적으로 자기 이익을 충족시키고자 한다면, 공공의 재산은 탕진되어 모두가 어려운 상황에 직면할 수 있다. 가렛 하딘(Garrett Hardin)은 이런 현상을 ㉠공유지의 비극이라 하였다.

- ① 공용 컴퓨터를 함부로 사용하여 어느 누구도 사용하기 어렵게 되었다.
- ② 비온 뒤 너도나도 폐수를 버려 강물 정화를 위한 공동 부담 비용이 늘어났다.
- ③ 농촌 봉사 활동으로 모내기를 하였으나 미숙하여 주민들이 다시 해야만 했다.
- ④ 규정보다 더 촘촘한 그물로 치어까지 잡아 이제 고기를 잡기가 힘들게 되었다.
- ⑤ 무료 공공 주차장을 함부로 이용하고 훼손시켜 시설 보호를 위한 대책이 필요하게 되었다.

8. 밑줄 친 '그'의 입장에서 학급의 '따돌림 문제'의 대책을 제시한 사람은?

그는 인(仁)을 최고의 덕(德)이라고 보았다. 이 때 인이란 사람을 사랑하는 것, 즉 인간다움을 나타내는 덕이다. 그는 인의 실현을 위해 예(禮)를 중시하였다. 그리고 덕을 바탕으로 하는 도덕 정치를 강조하였다.

- ① 갑 : 따돌림시키는 사람을 별도로 격리시킨다.
- ② 을 : 자연스럽게 저절로 해결될 때까지 기다린다.
- ③ 병 : 따돌림시키는 사람을 처벌 위주로 처리한다.
- ④ 정 : 감시 체제 강화로 문제 발생 초기에 해결한다.
- ⑤ 무 : 서로를 배려하는 학급 분위기를 조성하여 예방한다.

9. (나)의 모모가 (가)의 법칙을 따랐다고 할 때, A에 들어갈 내용으로 가장 적절한 것은?

(가) 대화의 1·2·3 법칙 : 자기 말은 1분하고, 상대방의 말은 2분 동안 듣고, 3분 동안 상대방의 말에 맞장구를 쳐 준다.

(나) 모모의 집에는 손님이 끊이지 않게 되었다. 모모 곁에는 언제나 누군가가 앉아 열심히 이야기를 하고 있다. 사람들은 무슨 일이 생기면 “아무튼 모모에게 가보게!” 라고 말한다. 그에게 가면 문제가 자연스럽게 해결되기 때문이다. 그에게 무슨 특별한 능력이라도 있는 것일까? 특별한 다른 능력은 없다. 다만, A 을 가졌을 뿐이다.

- 미하엘 엔더, 『모모』 -


- ① 남의 말을 경청하고 공감하는 능력
- ② 상대방을 논리적으로 설득하는 능력
- ③ 사회적 문제를 분석하고 비판하는 능력
- ④ 새로운 것을 창의적으로 개발하는 능력
- ⑤ 다른 사람 말의 모순점을 지적해 주는 능력

10. 다음은 어떤 학생의 발표 보고서이다. (가)와 가장 관련이 깊은 격언은? [3점]

■ 과제 : 전통 도덕 덕목의 의미 알아보기	
아량	<ul style="list-style-type: none"> ◦ 다른 사람의 실수를 너그럽게 용서하는 것 ◦ 공통점도 있지만 다른 점도 있음을 즐겁게 받아들이는 것
(가)	<ul style="list-style-type: none"> ◦ 체면을 차리고, 자신의 잘못된 행동에 대해 수치스러워할 줄 아는 것 ◦ 양심의 소리를 들을 줄 아는 것
청렴	<ul style="list-style-type: none"> ◦ 깨끗한 마음씨를 가지고 직분을 다하는 것 ◦ 공직자가 개인의 이익을 챙기지 않는 것

- ① 오로지 사랑만이 인간을 인간답게 한다.
- ② 고통을 주지 않는 것은 쾌락도 주지 않는다.
- ③ 만족할 줄 아는 사람은 가난해도 즐거움이 있다.
- ④ 부끄러워할 줄 모르는 것이야말로 부끄러운 일이다.
- ⑤ 매끈한 돌이나 거친 돌이나 모두 쓸모가 있는 법이다.

11. 다음 유물들을 보며 학생들이 나눈 대화 내용으로 옳지 않은 것은?



- ① 지배 계층이 사용했었지.
- ② 반달 돌칼도 함께 쓰였어.
- ③ 고조선에서도 사용되던 유물이야.
- ④ 농사 도구도 같은 재료로 만들었대.
- ⑤ 고인돌이나 돌널무덤에서 발견되고 있어.

12. 밑줄 친 계층에 대한 옳은 설명을 <보기>에서 고른 것은?

신라의 골품제는 각 지방의 부족장들을 그 세력의 크기에 따라 등급을 나누어 중앙 귀족으로 편입하는 과정에서 생겨났다. 신라인의 사회 활동과 정치 활동은 골품에 따라 결정되었다. 귀족 중에는 중요 관직을 독점한 계층이 있는가 하면, 아찬까지의 벼슬만 할 수 있어 정치보다는 주로 학문과 종교 쪽에서 많은 활동을 한 계층도 있었다.

— <보 기> —

ㄱ. 당으로 건너가 공부하기도 하였다.
 ㄴ. 스스로를 성주나 장군으로 일컬었다.
 ㄷ. 신라 말에 새로운 사회 건설을 추구하였다.
 ㄹ. 화백 회의에 참여하여 국가 중대사를 결정하였다.

- ① ㄱ, ㄴ ② ㄱ, ㄷ ③ ㄴ, ㄷ ④ ㄴ, ㄹ ⑤ ㄷ, ㄹ

13. 수업 시간에 ‘끝말잇기’를 하였다. (가), (나)에 대한 설명으로 옳은 것은? [3점]

정도전 → (가) → 과거 → (나) → 족보

도움말 : (가) - 고려 시대의 토지 제도, (나) - 강감찬이 격퇴한 민족


- ① (가) - 신진 사대부들이 제정하였다.
- ② (가) - 농민을 지급 대상으로 하였다.
- ③ (나) - 서희가 외교 담판으로 물리쳤다.
- ④ (나) - 윤관이 별무반을 이끌고 정벌하였다.
- ⑤ (나) - 최무선이 화포를 사용하여 격퇴하였다.

14. (가)에 들어갈 내용으로 적절한 것은?


발표주제 : (가)

대표적 인물

김충직



조광조



- ▣ 세력 기반
- 향약과 서원
- ▣ 출신 배경
- 향촌의 중소 지주
- ▣ 특징
- 주로 언론 기관에 진출

- ① 사림의 성장
- ② 호족의 등장
- ③ 권문세족의 형성
- ④ 문벌 귀족의 출현
- ⑤ 신진 사대부의 진출


15. 그림과 같은 장면이 나타났던 시기를 연표에서 옳게 고른 것은? [3점]



1863	1876	1884	1897	1905	1910
(가)	(나)	(다)	(라)	(마)	
대원군 집권	강화도 조약	갑신정변	대한 제국	을사조약	일제 강점

- ① (가) ② (나) ③ (다) ④ (라) ⑤ (마)

16. 선생님의 질문에 대한 답변으로 옳은 것은? [3점]



- ① 이자겸이 난을 일으켰습니다.
- ② 진주 농민 봉기가 발생하였습니다.
- ③ 동학 농민 운동이 전개되었습니다.
- ④ 망이 · 망소이의 난이 일어났습니다.
- ⑤ 묘청이 서경 천도 운동을 주도하였습니다.

17. 다음 활동을 펼친 인물에 대한 설명으로 옳은 것은?

○ 대한 민국 임시 정부의 주석을 지냈다.
○ 한국 광복군을 조직하고, 국내 진공 작전을 추진하였다.
○ 남북 협상에 참가하여 통일 정부 수립 문제를 논의하였다.

- ① 조선 건국 준비 위원회를 결성하였다.
- ② 대한 민국의 초대 대통령으로 선출되었다.
- ③ 봉오동 · 청산리 전투에서 일본군을 대파하였다.
- ④ 광주 학생 항일 운동을 전국적으로 확산시켰다.
- ⑤ 한인 애국단을 결성하여 윤봉길의 의거를 이끌었다.

18. 밑줄 친 '이 단체'의 활동으로 옳은 것은? [3점]

안창호, 이승훈, 양기탁 등이 중심이 되어 조직한 이 단체는 대성 학교와 오산 학교를 설립하고 대한 매일 신보를 통해 국민 계몽에 앞장섰다.

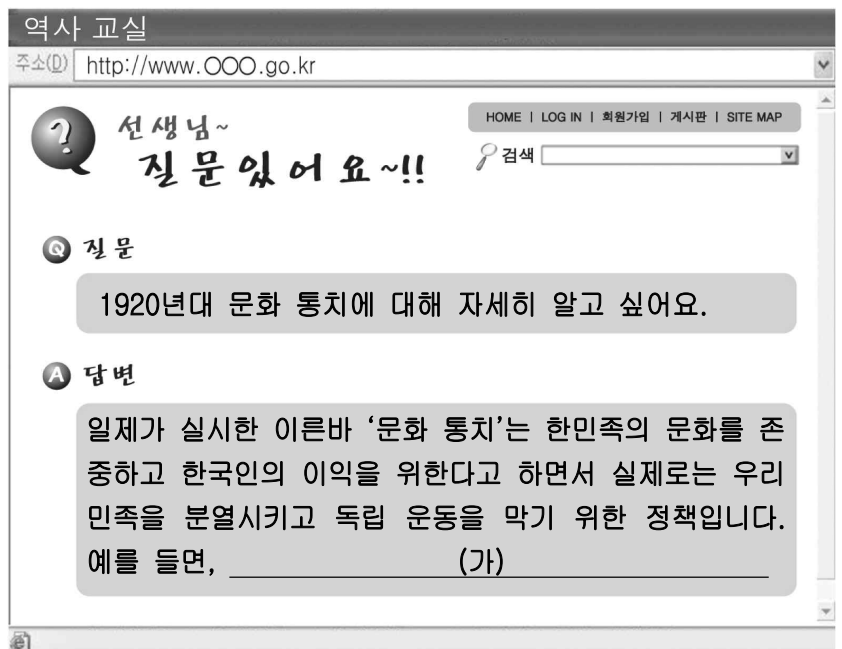
- ① 물산 장려 운동을 주도하였다.
- ② 6·10 만세 운동을 추진하였다.
- ③ 한글 맞춤법 통일안을 제정하였다.
- ④ 만주에 독립 운동 기지를 건설하였다.
- ⑤ 독립문을 세우고 독립 신문을 간행하였다.

19. 다음 조치들을 취했던 목적으로 옳은 것은?

○ 온건하고 타협적인 인물을 관리로 등용하였다. 조정에서 노론의 강경파를 몰아내고 소론과 남인의 온건파를 고루 등용하였다.
○ “신위가 있고 아첨하지 않는 것은 군자의 공평한 마음이요, 아첨하고 신위가 없는 것은 소인의 사사로운 마음이다.”라는 내용의 비석을 성균관에 세웠다.

- ① 훈구 세력 견제
- ② 서원 설립 장려
- ③ 의정부 기능 회복
- ④ 붕당 간의 대립 방지
- ⑤ 현량과를 통한 인재 등용

20. 밑줄 친 (가)에 들어갈 옳은 내용을 <보기>에서 고른 것은? [3점]

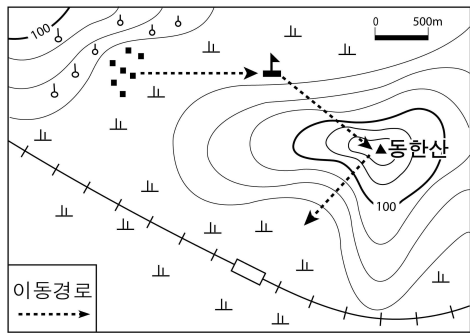


— <보 기> —

ㄱ. 한글 신문을 폐간하였습니다.
ㄴ. 신사 참배를 강요하였습니다.
ㄷ. 친일파를 적극 육성하였습니다.
ㄹ. 경찰관과 경찰서의 수를 늘렸습니다.

- ① ㄱ, ㄴ ② ㄱ, ㄷ ③ ㄴ, ㄷ ④ ㄴ, ㄹ ⑤ ㄷ, ㄹ

21. 예빈이가 이동한 경로를 보여주는 지도와 글이다. (가)~(다)에 들어갈 내용을 바르게 배열한 것은?



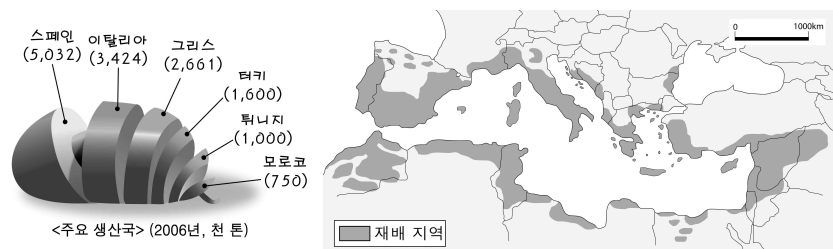
예빈이는 마을에서 출발하여 약 (가) 를 걸어서 학교에 도착하였다. 학교에서 (나) 에 위치한 동한산의 정상에 올라 주변 경치를 둘러본 다음, (다) 을 따라 산을 내려왔다.

- | | | | |
|---|-----|-----|-----|
| | (가) | (나) | (다) |
| ① | 1km | 북서쪽 | 계곡 |
| ② | 1km | 남동쪽 | 능선 |
| ③ | 1km | 남동쪽 | 계곡 |
| ④ | 2km | 북동쪽 | 능선 |
| ⑤ | 2km | 북서쪽 | 계곡 |

22. ○○사에서 개최하는 세계박람회 홈페이지이다. 이벤트에 응모한 답글 중 적절한 것만을 있는 대로 고른 것은? [3점]

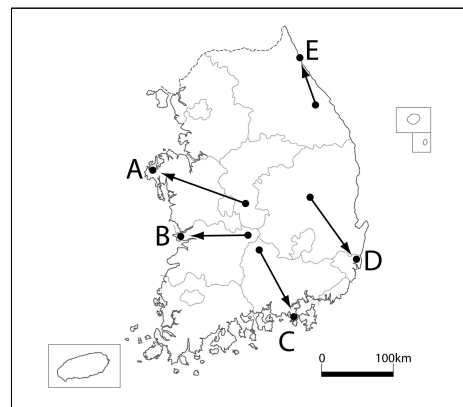
- ① (가), (나) ② (가), (다) ③ (나), (라)
 ④ (가), (나), (다) ⑤ (나), (다), (라)

23. 자료는 어떤 작물의 주요 생산국과 재배 지역에 대한 것이다. 이 작물에 대한 설명으로 옳은 것은?



- ① 플랜테이션 농장에서 대규모로 재배된다.
 ② 여름이 덥고 건조한 지역에서 주로 재배된다.
 ③ 대부분 하천 하류의 비옥한 평야에서 재배된다.
 ④ 지리상의 발견 이후 전 세계에 보급된 주곡 작물이다.
 ⑤ 혼합 농업 지역에서 재배되어 주로 가축의 사료로 이용된다.

24. 동환이가 가족 여행 중 친구에게 보낸 문자 메시지이다. 동환이 가족의 이동 경로로 옳은 것은?



- ① A ② B ③ C ④ D ⑤ E

25. 자료의 (가)~(다)에 들어갈 인구 피라미드로 적절한 것을 <보기>에서 골라 바르게 배열한 것은? [3점]

○ 선생님 : 일본의 시기별 인구 피라미드를 보고 그 특징을 발표해 봅시다.

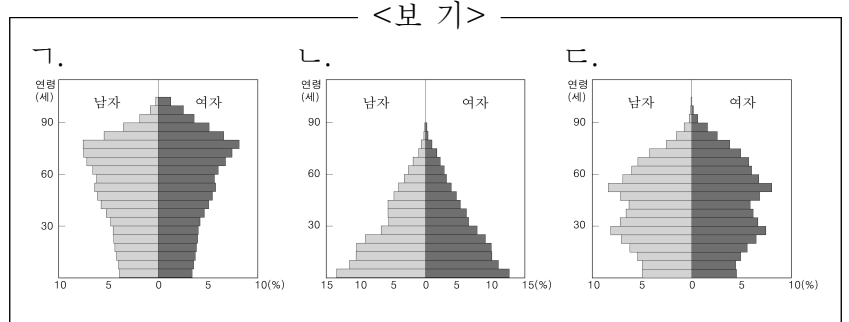
(가)

(나)

(다)

1950년 2000년 2050년(추정치)

○ 갑 : 출생률은 1950년이 가장 높습니다.
 ○ 을 : 1950년보다 2000년에는 유·소년 인구 비율이 낮습니다.
 ○ 병 : 2000년보다 2050년에는 노인 인구 비율이 더 높아질 것입니다.



- | | | | | | | | |
|---|-----|-----|-----|---|-----|-----|-----|
| | (가) | (나) | (다) | | (가) | (나) | (다) |
| ① | ㄱ | ㄴ | ㄷ | ② | ㄱ | ㄷ | ㄴ |
| ③ | ㄴ | ㄱ | ㄷ | ④ | ㄴ | ㄷ | ㄱ |
| ⑤ | ㄷ | ㄱ | ㄴ | | | | |

26. (가)에 들어갈 내용으로 가장 적절한 것은? [3점]

[지리 수행 평가지]

여러분이 우리나라의 외교통상부 장관이라고 가정하고 A국의 장관에게 보내는 편지를 작성해 봅시다.

1학년 ○반 이름 : ○○○

A국 △△△ 장관님께

1994년 최초의 흑인 대통령 선출을 지켜보며 귀국의 민주주의 발전에 크게 감명 받았습니다. 인종 차별을 극복하고 인류 평등의 정신을 보여준 귀국의 국민들을 진심으로 존경합니다. 귀국에서 개최되는 2010년 월드컵 대회가 성공적으로 치뤄지기를 기원합니다. ...**(중략)**...
우리나라는 귀국의(에서) _____ (가) _____.

- ① 허리케인 피해를 복구하는 데 도움을 드리고 싶습니다.
- ② 우주·항공 분야의 뛰어난 첨단 기술을 배우고 싶습니다.
- ③ 금, 다이아몬드, 석탄 등 지하자원 개발에 적극 참여하고 싶습니다.
- ④ 풍부한 침엽수림 개발에 참여하여 경제 발전의 동반자가 되고자 합니다.
- ⑤ 주요 수출품인 카카오, 고무, 기름야자를 재배하는 농장에 투자하고 싶습니다.

27. 우리나라 기후를 공부하면서 정리한 노트이다. (가)~(다)에 들어갈 내용을 바르게 배열한 것은? [3점]

< 서울 >

< 강릉 >

○ 서울이 강릉보다 기온의 연교차가 (가) .

○ 겨울철에 강릉이 서울보다 기온이 (나) .

왜냐하면 (다) 의 영향을 받기 때문이다.

- | | | | |
|---|------------|------------|------------|
| | <u>(가)</u> | <u>(나)</u> | <u>(다)</u> |
| ① | 크다 | 높다 | 지형과 바다 |
| ② | 크다 | 낮다 | 위도와 해발고도 |
| ③ | 작다 | 높다 | 지형과 바다 |
| ④ | 작다 | 낮다 | 위도와 해발고도 |
| ⑤ | 작다 | 높다 | 위도와 해발고도 |

28. 밑줄 친 '이 지역'에 대한 설명으로 옳지 않은 것은?

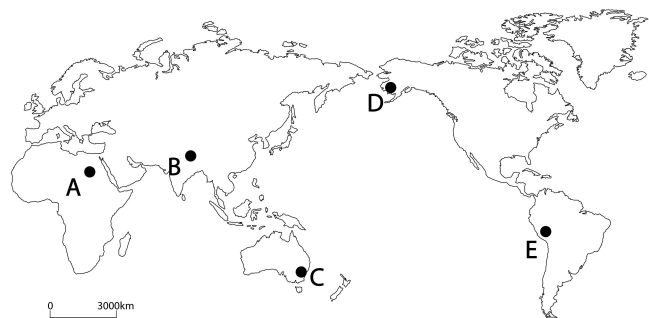
이 지역의 화산섬과 용암 동굴이 유네스코 세계자연유산으로 등재되었다. 독특한 자연 환경과 인문 환경으로 국제적 관광지로 유명한 이 지역은 이번 유네스코 세계자연유산 등재를 계기로 관광 산업이 더욱 활성화될 것으로 기대하고 있다.

- ○○신문, 2007년 6월 28일 -

- ① 강수량이 적어 하천 주변에 마을이 형성된다.
- ② 서비스업의 발달로 청·장년층의 인구가 증가하고 있다.
- ③ 바람이 많이 불어 지붕을 줄로 묶은 전통 가옥이 나타난다.
- ④ 물이 잘 스며드는 현무암으로 인해 밭농사가 주로 행해진다.
- ⑤ 기후가 온화하여 감귤 등 난대성 작물의 재배가 이루어진다.

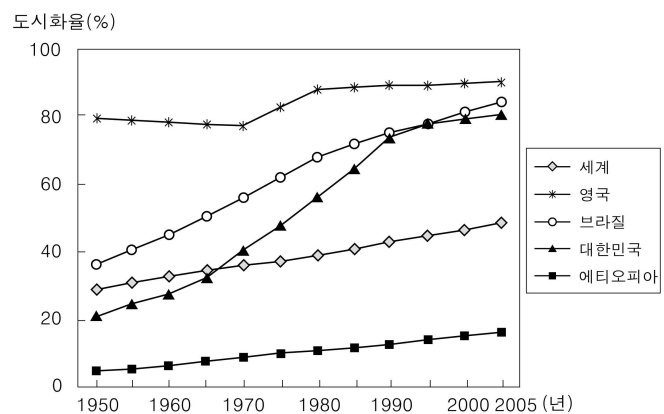
29. 자료는 태호가 여행 중 작성한 그림과 글이다. 여행한 지역을 지도에서 옳게 고른 것은?

해발고도가 높아서인지 여름철인데도 날씨가 서늘하다. 지금은 사라진 잉카 문명의 유적을 보았다. 계곡 사이의 옥수수밭들이 인상적이다.




- ① A ② B ③ C ④ D ⑤ E

30. 여러 국가의 도시화율 변화를 나타낸 그래프이다. 이에 대한 분석으로 옳지 않은 것은? [3점]



- ① 세계의 도시 인구 비율은 꾸준히 증가하고 있다.
- ② 1950년 대한민국의 도시화율은 세계 평균보다 낮다.
- ③ 1970~1990년 도시화율이 가장 크게 증가한 국가는 대한민국이다.
- ④ 2005년 브라질은 영국보다 도시 인구 비율이 높다.
- ⑤ 2005년 에티오피아의 농촌 인구 비율은 세계 평균보다 높다.

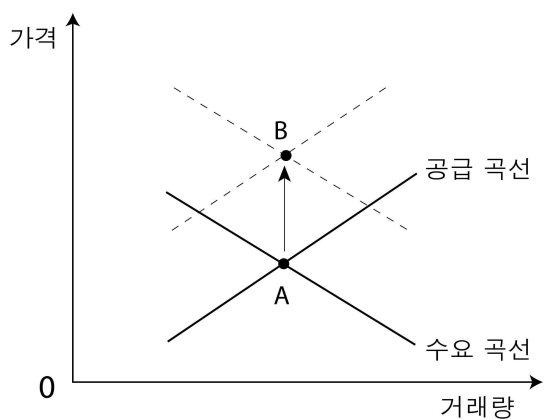
31. 그림의 밑줄 친 ㉠에 들어갈 적절한 사례를 <보기>에서 고른 것은?



- <보 기>
- ㄱ. 인쇄술의 발명으로 책의 보급이 확산된 것
 - ㄴ. 인류가 불을 이용해 음식을 익혀 먹게 된 것
 - ㄷ. 일본에서 들어온 고추가 우리나라 김치 문화를 변화시킨 것
 - ㄹ. 여러 국가에서 많은 사람들이 태권도를 호신술로 이용하고 있는 것

- ① ㄱ, ㄴ ② ㄱ, ㄹ ③ ㄴ, ㄷ ④ ㄴ, ㄹ ⑤ ㄷ, ㄹ

32. 그림은 사과 시장의 수요·공급 곡선을 보여준다. 균형점이 A에서 B로 변하게 된 요인을 <보기>에서 골라 바르게 짝지은 것은? [3점]



- <보 기>
- ㄱ. 사과를 매일 먹는 식생활 문화가 확산되었다.
 - ㄴ. 사과 대신 사 먹을 수 있는 배 값이 대폭 내렸다.
 - ㄷ. 올해 날씨가 좋아서 사과 과수원의 작황이 좋았다.
 - ㄹ. 과수원 인부의 품삯이 올라 사과의 생산비가 증가했다.

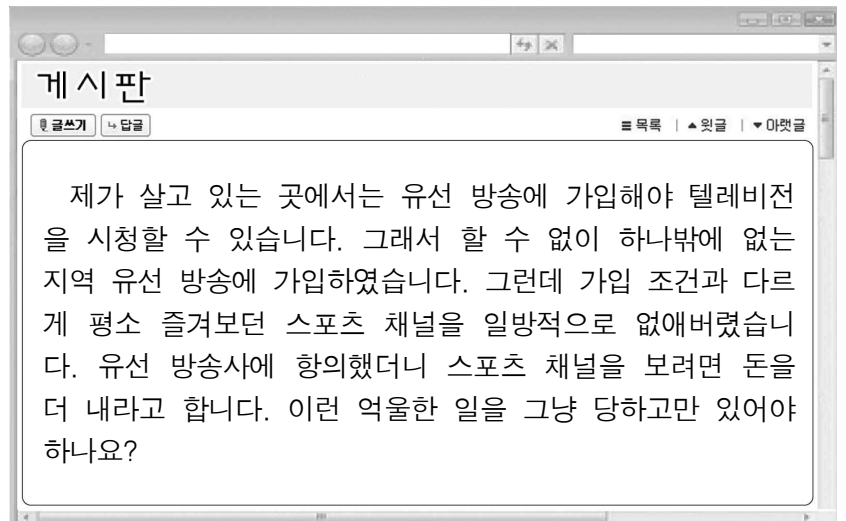
- ① ㄱ, ㄴ ② ㄱ, ㄹ ③ ㄴ, ㄷ ④ ㄴ, ㄹ ⑤ ㄷ, ㄹ

33. 대화에서 밑줄 친 ㉠에 들어갈 내용으로 가장 적절한 것은?

갑 : 요즘 국회 의원이 제출한 법률안이 정부가 제출한 법률안에 비해 통과되는 비율이 낮아졌다고 하네요.
 을 : 게다가 국회 의원 선거에서 투표율이 심각할 정도로 낮아지고 있어요.
 병 : 이런 현상들은 ㉠을(를) 초래할 수 있어요.

- ① 대의 정치의 위기
- ② 국민의 참정권 침해
- ③ 선거 공영제의 약화
- ④ 집단 이기주의의 만연
- ⑤ 직접 민주 정치의 위축

34. 다음은 인터넷 게시판에 올라온 글이다. 이에 대한 댓글로 적절하지 않은 것은?



- ① 방송사 간의 경쟁을 제한해야겠군요.
- ② 독점적 지위를 이용한 불공정 행위이군요.
- ③ 한국소비자원에 업체의 횡포를 신고해 보세요.
- ④ 공정거래법은 이러한 행위를 금지하고 있어요.
- ⑤ 유사한 피해를 입은 소비자들과 공동으로 대응해 보세요.

35. 다음 사례에 대한 옳은 설명을 <보기>에서 고른 것은? [3점]

올해 비닐하우스 농사를 준비 중인 김씨는 토마토, 딸기, 상추 중에서 고민 끝에 딸기를 재배하기로 결정하였다. 각각의 작물 농사에 필요한 비용과 편익을 계산하여 비교해 보았더니 딸기, 상추, 토마토의 순으로 비용 대비 편익이 큰 것으로 나타났기 때문이다.

- <보 기>
- ㄱ. 딸기 농사의 기회 비용은 토마토 농사이다.
 - ㄴ. 김씨는 '무엇을 생산할 것인가'의 문제를 고민하였다.
 - ㄷ. 김씨는 토마토의 생산비가 가장 많을 것으로 판단하였다.
 - ㄹ. 김씨의 고민은 근본적으로 자원이 희소하기 때문에 발생한 것이다.

- ① ㄱ, ㄴ ② ㄱ, ㄹ ③ ㄴ, ㄷ ④ ㄴ, ㄹ ⑤ ㄷ, ㄹ

36. 표는 다음 질문에 대한 응답을 연령대별로 정리한 것이다. 이를 바르게 해석한 것은? [3점]

[질문] 우리나라 정치 발전 과제로서 가장 중요한 것은 무엇이라고 생각하십니까?

(단위 : %)

연령	10대	20대	30대	40대	50대 이상
정치발전과제					
남북 통일	5	9	10	12	25
지역 감정 해소	3	7	4	4	20
집단 이기주의 극복	20	14	9	5	17
민주적 정책 결정	12	21	19	23	12
시민의 정치 참여	17	19	30	30	10
정치인의 도덕성 제고	43	30	28	26	16

- ① 연령이 높아질수록 '남북 통일'에 대한 응답 비율이 낮아진다.
- ② 30대와 40대에서 '지역 감정 해소'를 선택한 사람 수는 동일하다.
- ③ 10대가 '집단 이기주의 극복'을 선택한 비율은 다른 세대보다 높다.
- ④ 20대는 '민주적 정책 결정'보다 '시민의 정치 참여'를 더 중시한다.
- ⑤ 모든 세대가 정치 발전 과제로서 '정치인의 도덕성 제고'를 가장 중시한다.

[37~38] 다음 글을 읽고 물음에 답하시오.

나치당은 바이마르 공화국의 민주 제도를 통해서 합법적으로 집권했다. 1933년 7월, 나치당은 '새로운 정당 조직을 금지하는 법률'의 제정을 주도하였고, 그 해 선거에서 99.7%의 의석을 차지하였다. 의회를 장악한 나치당은 '당과 국가와의 통일 확보를 위한 법률'을 제정하여 1당 독재를 수립하였다. 이듬해 나치당의 히틀러는 '제국 원수법'을 제정하여 대통령, 재상, 최고 입법권자를 겸하는 총통이 되었다. 그 당시 의회에서 만장일치로 통과된 '뉘른베르크 법'은 독일 내 유대인의 독일 국적을 박탈하고 유대인과 독일인의 결혼을 금지시키는 등의 내용을 담고 있었다. 이 법은 제2차 세계 대전 중 '홀로코스트'라 불리는 유대인 학살의 법적 근거가 되었다. 전쟁이 종료된 후 ㉠학살에 참여한 사람들은 전쟁 범죄자를 처벌하는 재판에서 심판을 받았다.

37. 나치당 집권 기간 동안의 독일 정치 상황에 대한 옳은 평가를 <보기>에서 고른 것은? [3점]

- <보 기> —
- ㄱ. 정당 간 대립이 심해졌다.
 - ㄴ. 인종 간 차별이 금지되었다.
 - ㄷ. 합법적인 독재가 행해졌다.
 - ㄹ. 삼권 분립이 지켜지지 않았다.


- ① ㄱ, ㄴ ② ㄱ, ㄹ ③ ㄴ, ㄷ ④ ㄴ, ㄹ ⑤ ㄷ, ㄹ

38. 밑줄 친 ㉠이 재판에서 다음과 같이 주장할 경우, 이에 대한 비판으로 가장 적절한 것은?

“나는 합법적인 절차에 의해 제정된 법에 따라 집행했을 뿐이다.”

- ① 국민의 뜻에 어긋나면 법이 아니다.
- ② 법은 국가에 의해 강제되어야 한다.
- ③ 어떠한 법이라도 일단은 지켜야 한다.
- ④ 정의롭지 못한 법은 법이라고 할 수 없다.
- ⑤ 법은 국민이 선출한 의회에서 제정되어야 한다.

39. 법을 공법, 사법, 사회법으로 분류할 때, 밑줄 친 '○○법'이 속한 영역에 대한 설명으로 옳은 것은? [3점]



- ① 결과보다 동기를 중시한다.
- ② 공적 생활 관계를 규율한다.
- ③ 개인 간의 분쟁을 해결한다.
- ④ 사적 관계에 국가가 개입한다.
- ⑤ 사회적 약자 보호를 목적으로 한다.

40. 밑줄 친 '새로운 정책'에 대한 옳은 설명을 <보기>에서 고른 것은?

1930년대 나타난 대공황으로 인해 미국 사회는 물가 폭락과 실업자 대량 증가 등의 경제 문제에 당면하게 되었다. 이에 루스벨트 대통령은 경제 사회의 재건, 빈곤과 불안에 떠는 국민의 구제 등을 목적으로 한 새로운 정책을 추진하였다.

- <보 기> —
- ㄱ. '빈익빈 부익부' 현상을 심화시킨다.
 - ㄴ. '보이지 않는 손'의 기능을 보완한다.
 - ㄷ. 시장에 대한 정부의 개입을 인정한다.
 - ㄹ. 경제 활동의 자유를 인정하지 않는다.

- ① ㄱ, ㄴ ② ㄱ, ㄹ ③ ㄴ, ㄷ ④ ㄴ, ㄹ ⑤ ㄷ, ㄹ