

제 4 교시

사회탐구·과학탐구 영역

성명  수험번호           1

- 문제지에 성명과 수험번호를 정확히 써 넣으시오.
- 답안지에 성명과 수험번호를 써 넣고, 또 수험번호와 답을 정확히 표시하시오.
- 문항에 따라 배점이 다르니, 각 물음의 끝에 표시된 배점을 참고하시오. 3점 문항에만 점수가 표시되어 있습니다. 점수 표시가 없는 문항은 모두 2점입니다.

1. 그림과 같은 변화 추세가 우리 삶에 미치는 영향으로 옳은 것을 <보기>에서 모두 고른 것은?

[휴대 전화]  
• 여행 정보 및 교통 정보 검색  
• 정부 정책에 대한 의사 표현

[MP3 재킷]  
• 걸어 다니며 음악 감상

[손목시계]  
• 날씨 정보를 언제 어디서나 즉시 검색  
• 최신의 유행 상품 주문 및 구입

[두루마리 디스플레이]  
• 최신 기사 검색

<보 기>

ㄱ. 개인의 여가 생활이 확대된다.  
 ㄴ. 사회에 대한 개인의 영향력이 증대된다.  
 ㄷ. 개인의 다양한 욕구를 쉽게 충족할 수 있다.  
 ㄹ. 정서적이고 전인격적인 인간 관계가 확대된다.

- ① ㄱ, ㄴ                      ② ㄴ, ㄷ                      ③ ㄷ, ㄹ  
 ④ ㄱ, ㄴ, ㄷ                ⑤ ㄴ, ㄷ, ㄹ

2. 그림에 제시된 주제에 대한 의견으로 옳은 것을 모두 고른 것은? [3점]

주제	다원화의 의미와 영향	
갑	사회의 소수 지배층이 권력을 독점하는 현상입니다.	2008-06-01 22:15
을	누구나 보편적인 가치 기준에 따라 살아야 한다는 주장입니다.	2008-06-01 22:17
병	개인에게 보다 많은 자유가 보장될 수 있지만 가치관이 혼란해질 수도 있습니다.	2008-06-01 22:19
정	사회의 여러 집단들이 서로의 이익을 조절하면서 민주적으로 운영될 수 있습니다.	2008-06-01 22:20

- ① 갑, 병                      ② 을, 정                      ③ 병, 정  
 ④ 갑, 을, 정                ⑤ 을, 병, 정

3. 다음 글에서 찾을 수 있는 인터넷의 영향에 대한 입장으로 적절하지 않은 것은? [3점]

인터넷에서의 의사 소통은 자신의 이름과 얼굴을 숨긴 채 이루어진다. 이러한 익명성으로 인해 거짓 정보, 비방, 음란물 유포 등의 문제가 나타나기도 한다. 또한 가상의 세계는 현실의 고통에서 벗어나기 위한 도피처로 작용할 가능성도 있다.


- ① 자유로운 자기 표현이 어려워질 수 있다.  
 ② 자기 통제력을 유지하기 어려울 수 있다.  
 ③ 개인의 무책임한 행동이 증가될 수 있다.  
 ④ 부유(浮遊)하는 정체성이 나타날 수 있다.  
 ⑤ 통합된 자아정체성 형성에 방해가 될 수 있다.

4. 밑줄 친 '마을' 사람들이 추구하는 삶에 대한 설명으로 가장 적절한 것은?

이 마을에는 가족애, 이웃과의 협동, 나이와 관계 없이 아이와 노인이 어우러져 여유 있게 사는 공동체 문화가 살아 있다. 이 마을 사람들은 스트레스를 별로 경험하지 않고 마음의 평화를 누리고 있으며, 삶의 속도는 느슨하고 편안하다. 무엇보다 그들은 한 사람의 이익이 다른 사람에게 손해가 되지 않으며, 가족과 이웃에서부터 다른 마을 사람들과 낯선 사람에 이르기까지 남을 돕는 것이 자기에게 이익이 된다고 믿는다.

- ① 물질적 가치를 최고선으로 추구한다.  
 ② 삶의 객관적인 지표 향상을 중시한다.  
 ③ 개인적인 행복을 최상의 가치로 여긴다.  
 ④ 인간의 고유한 정신적 만족을 추구한다.  
 ⑤ 삶의 여유보다는 경쟁력 확보를 지향한다.

5. 그림에 나타난 청소년들의 모습을 대안 문화의 관점에서 평가한 것으로 가장 적절한 것은?



- ① 아직 철이 없어서 저렇게 노는 거야.  
 ② 학교 다니면서 한때 저렇게 즐기기도 하는 거지.  
 ③ 저 애들은 학교 생활에 제대로 적응하지 못한 거야.  
 ④ 아무렴 어때! 난 재미있고 흥이 저절로 나기만 하네.  
 ⑤ 세계적으로 경쟁력 있는 또 다른 한류 열풍을 만들고 있어.

6. 다음 내용과 관계 깊은 현대 사회의 도덕 문제에 대한 옳은 설명을 <보기>에서 고른 것은? [3점]


과학 문명은 물질적 빈곤, 추위와 더위, 질병에서 인간을 해방시켰다. 더 나아가 첨단 과학 기술은 인간에게 죽음의 공포로부터 벗어날 수 있다는 희망을 안겨주기에 이르렀다. 현대인들은 과학을 절대적으로 신뢰한다. 과학은 어떤 면에서 현대인들의 신앙이 되고 있다. 이러한 현상은 과학이 인간의 모든 문제를 해결해 줄 것이라는 믿음을 반영하고 있다.

—<보 기>—

- ㄱ. 가치 판단의 근거를 이성적 타산성(打算性)에서 찾는다.
- ㄴ. 도구적 이성을 무시하고 인간의 심미성(審美性)을 과학적으로 분석한다.
- ㄷ. 인간의 자율성, 책임, 참된 삶 등에 대한 논의를 무의미한 것으로 본다.
- ㄹ. 인간 공동의 생활 양식과 같은 심정적(心情的) 연대를 지나치게 강조한다.

- ① ㄱ, ㄴ                      ② ㄱ, ㄷ                      ③ ㄴ, ㄷ
- ④ ㄴ, ㄹ                      ⑤ ㄷ, ㄹ

7. 그림의 연설에서 중시되는 가치에 대한 옳은 설명을 <보기>에서 고른 것은?



—<보 기>—

- ㄱ. 사회가 개인을 위해 봉사해야 한다고 본다.
- ㄴ. 개인을 보다 큰 질서의 한 부분으로 생각한다.
- ㄷ. 공동체의 결속과 그 규범들의 가치를 우선시한다.
- ㄹ. 공동체적 삶에 참여하려는 의욕을 약화시킬 수 있다.

- ① ㄱ, ㄴ                      ② ㄱ, ㄹ                      ③ ㄴ, ㄷ
- ④ ㄴ, ㄹ                      ⑤ ㄷ, ㄹ

8. 다음 대화에서 ‘갑’, ‘을’의 자연관에 대한 설명으로 옳은 것은?

갑 : 자연은 인간의 이익을 증진하기 위한 도구에 불과하다고 생각해.  
 을 : 그런 생각은 심각한 생태 위기를 초래할 수 있어. 자연은 그 자체로 내재적 가치를 가지고 있기 때문에 도구로 이해해서는 안 돼.  
 갑 : 난 생태 위기도 합리적으로 해결할 수 있다고 생각해.

- ① ‘갑’은 자연의 생육권을 존중한다.
- ② ‘갑’은 자연의 가치를 경제적 효율성에서 찾는다.
- ③ ‘을’은 자연을 이익 실현의 수단으로 간주한다.
- ④ ‘을’은 자연을 수량화하고 서열화할 수 있다고 본다.
- ⑤ ‘갑’, ‘을’은 과학 기술로 환경 문제를 해결할 수 있다고 본다.

9. 그림의 대화에서 (을)의 주장에 대한 근거로 적절한 것을 <보기>에서 고른 것은? [3점]

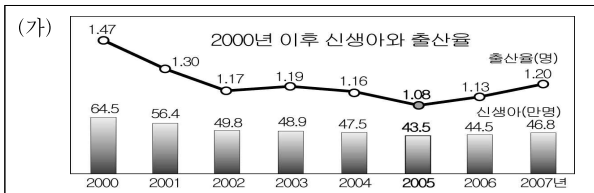


—<보 기>—

- ㄱ. 문화적 주체성 훼손
- ㄴ. 계층 간의 분열과 갈등 심화
- ㄷ. 소비자의 다양한 선택 기회 축소
- ㄹ. 교류의 단절로 인한 문화 발전의 저해

- ① ㄱ, ㄴ                      ② ㄱ, ㄷ                      ③ ㄴ, ㄷ
- ④ ㄴ, ㄹ                      ⑤ ㄷ, ㄹ

10. 그림 (가)의 2005년 이후 출산율이 증가하게 된 원인을 (나)의 관점에서 찾은 것으로 가장 적절한 것은? [3점]



(나) 현대 사회에서는 다양한 이해가 얽힌 개인과 집단이 영향을 주고받기 때문에 많은 사회적 도덕 문제들이 나타난다. 이러한 문제들은 개인의 양심에 호소하는 것보다 사회 제도와 정책의 개선을 통해 해결할 필요가 있다.

- ① 결혼 적령기가 낮아졌다.
- ② 여성의 사회 활동이 증가하였다.
- ③ 다자녀 가구에 대한 사회적 지원이 확대되었다.
- ④ 자녀의 출산이 가정의 행복이라는 믿음이 강해졌다.
- ⑤ 아들 딸 구별 말고 잘 기르자는 의식이 확산되었다.

11. 밑줄 친 '새로운 지배층'에 대한 설명으로 옳은 것은?

고려는 성종 이후 중앙 집권 체제가 확립되면서 새로운 지배층이 형성되었다. 이들은 여러 세대에 걸쳐 고위 관직자를 배출하고 왕실과 혼인 관계를 맺어 외척으로서의 지위를 이용하여 정권을 장악하기도 하였다. 경원 이씨의 경우 이자연, 이호, 이자겸 3대에 걸쳐서 문종, 순종, 선종, 예종, 인종에 이르는 5명의 왕에게 10명의 딸들을 시집보냈다.

- ① 원과의 관계를 통해서 성장하였다.
- ② 성리학을 학문적 기반으로 삼았다.
- ③ 과거와 음서를 통하여 관직을 독점하였다.
- ④ 교정도감을 설치하여 정치 권력을 행사하였다.
- ⑤ 향촌의 토착 세력으로 지방관보다 큰 영향력을 행사하였다.

12. 삽화에 나타나 있는 역할을 담당한 고려 시대의 관리로 옳은 것은?



- ① 재신과 추밀
- ② 낭사와 승선
- ③ 병마사와 안찰사
- ④ 낭사와 어사대의 관원
- ⑤ 어사대와 삼사의 관원

13. 표는 삼국의 정치 발전을 정리한 것이다. ㉠~㉣의 왕에 대한 설명으로 옳은 것은? [3점]

구분	고대 국가 기틀 마련	율령 반포	전성기
고구려	태조왕	㉠소수림왕	광개토 대왕
백제	고이왕	고이왕	㉡근초고왕
신라	㉢내물왕	법흥왕	진흥왕

- ① ㉠ - 왕위 계승을 형제 상속에서 부자 상속으로 바꾸었다.
- ② ㉡ - 수군을 정비하여 요서, 산둥, 규슈 지방으로 진출하였다.
- ③ ㉢ - 건원이라 연호를 정하여 자주 국가로서의 위상을 높였다.
- ④ ㉠, ㉢ - 가야 지역을 일부 점령하여 지배권을 행사하였다.
- ⑤ ㉡, ㉢ - 불교를 공인하여 왕권을 강화하고자 하였다.

14. 자료의 유적과 유물들이 만들어진 시기의 사회 모습으로 옳은 것은?

전 세계에는 7만여 기가 넘는 고인돌이 각지에 펼쳐져 있다. 특히 우리나라에는 무려 4만여 기의 고인돌이 산재해 있어 이 분야에서는 세계 신기록이다. 그 중에서도 고창 지역에 분포하고 있는 것들은 다양하고 아름다운 모습을 지니고 있다. 2000년 12월 유네스코는 고창, 화순, 강화도의 고인돌 유적지를 세계 문화 유산으로 지정하였다. 이러한 고인돌 유적지에서 함께 발견되는 유물로는 비파형 동검과 거친무늬 거울 등이 있다.

- ① 바다가 원형인 움집에서 생활하였다.
- ② 식량을 얻기 위해 농경을 시작하였다.
- ③ 청동기의 사용으로 간석기가 사라졌다.
- ④ 권력과 경제력을 가진 지배자가 등장하였다.
- ⑤ 간석기로 작살, 살촉 등을 만들기 시작하였다.

15. 밑줄 친 '왕'과 관련된 역사적 사실로 옳은 것은?

원나라의 지정 연호를 폐지하였다. 왕이 교지를 내리기를, "요사이 나라 풍속이 바뀌어 권세만을 추구하게 되어, 기철 등이 군주를 전율케 하는 위협으로 나라 다스리는 법을 흔들며, ... (중략) ... 이제부터 정신을 가다듬어 통치하기를 꾀하고 법령을 정비하여 기강을 정돈하며, 우리 조상들의 법을 회복시켜 기필코 온 나라와 함께 혁신하고자 한다." 하였다. - 『고려사』 -

- ① 유교의 진흥을 위해 불교 행사를 억제하였다.
- ② 향리 제도를 마련하여 지방 세력을 견제하였다.
- ③ 북진 정책을 추진하여 평양을 서경으로 삼았다.
- ④ 노비안검법을 실시하여 호족 세력을 약화시켰다.
- ⑤ 쌍성총관부를 공격하여 철령 이북의 땅을 수복하였다.

16. 다음 사건이 고려 사회에 끼친 영향으로 옳은 것을 <보기>에서 고른 것은? [3점]

이교와 채원은 왕을 죽이고자 하였으나, 양숙이 이를 말렸다. ... (중략) ... 정중부가 왕을 꾀박하여 군기감으로 유폐하고 태자는 영은관으로 유폐했다. 기묘일에 왕은 홀로 거제현으로 옮겨지고 태자는 진도현에 보내졌다. 이날 정중부, 이의방, 이고 등은 군사를 거느리고 왕의 아우인 익양공 호를 맞이하여 왕으로 즉위시켰다. - 『고려사』 -

<보 기>

- ㄱ. 문신과 무신 간의 세력 균형이 이루어졌다.
- ㄴ. 중방이 정치 운영의 핵심 권력 기구가 되었다.
- ㄷ. 무과가 설치되어 무신들의 지위가 향상되었다.
- ㄹ. 무신들 간의 권력 쟁탈로 하극상의 풍조가 나타났다.

- ① ㄱ, ㄴ
- ② ㄱ, ㄷ
- ③ ㄴ, ㄷ
- ④ ㄴ, ㄹ
- ⑤ ㄷ, ㄹ

17. 삽화와 관련된 시기의 정치 상황에 대한 옳은 설명을 <보기>에서 고른 것은? [3점]

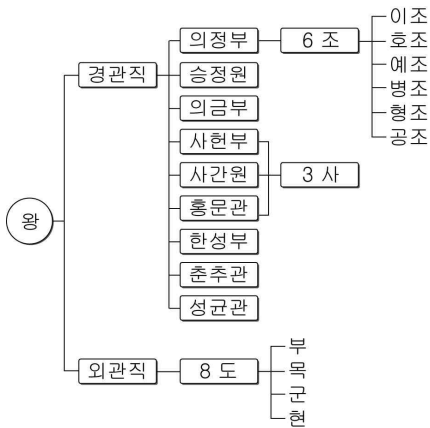


<보 기>

ㄱ. 사십관을 활용하여 지방 세력을 견제하였다.  
 ㄴ. 성주, 장군이라 칭하는 반독립적 세력이 등장하였다.  
 ㄷ. 백제 유민들이 주류성과 임존성에서 군사를 일으켰다.  
 ㄹ. 골품제 사회를 비판하는 새로운 정치 이념이 제시되었다.

- ① ㄱ, ㄴ                      ② ㄱ, ㄷ                      ③ ㄴ, ㄷ  
 ④ ㄴ, ㄹ                      ⑤ ㄷ, ㄹ

18. 다음 통치 체제에 관한 설명으로 옳지 않은 것은? [3점]



- ① 왕권을 뒷받침하기 위한 기구를 두었다.  
 ② 재상들의 합의를 통한 국정 운영이 이루어졌다.  
 ③ 경관직에는 문반이, 외관직에는 무반이 임명되었다.  
 ④ 권력의 독점과 부정을 방지하기 위한 기구를 두었다.  
 ⑤ 모든 군현에 지방관을 파견하여 중앙 집권을 강화하였다.

19. 다음 주장을 펼친 세력에 대한 설명으로 옳은 것은?

지난번 조광조가 아뢰 바, 천거로 인재를 뽑는 일은 홍문관에서 여럿이 의논한 일입니다. 혹 뒤에 폐단이 있을까 염려되고, 혹 공평하지 못할까 염려되기는 하나, 대체로 좋은 일이니 한두 사람이 천거에 빠진다 하더라도 주지할 것 없이 시행해야 합니다. 공론이 없는 때라면 모르지만, 어찌 한두 사람에게 잘못이 있을 것을 염려하여 좋은 일을 폐지하겠습니까.  
 - 『중종실록』 -

- ① 고려 말의 급진 개혁과 사대부를 계승하였다.  
 ② 세조의 집권을 도와 정치적 실권을 장악하였다.  
 ③ 도덕과 의리를 중시하고 향촌 자치를 주장하였다.  
 ④ 집현전을 중심으로 유교 정치 이념을 구현하고자 하였다.  
 ⑤ 관학파의 학풍을 이어받아 문물 제도 정비에 기여하였다.

20. (가)~(라) 시기의 대외 관계에 대한 옳은 설명을 <보기>에서 고른 것은? [3점]

	1392	1555	1608	1623	1636
	(가)	(나)	(다)	(라)	
조선 건국	을묘 왜변	광해군 즉위	인조 반정	병자 호란	

<보 기>

ㄱ. (가) - 왜구의 소굴인 쓰시마를 토벌하였다.  
 ㄴ. (나) - 왜구의 요청으로 삼포를 개방하여 무역을 허용하였다.  
 ㄷ. (다) - 명과 후금 사이에서 중립 외교 정책을 취하였다.  
 ㄹ. (라) - 명분론에 입각하여 북벌 운동을 전개하였다.

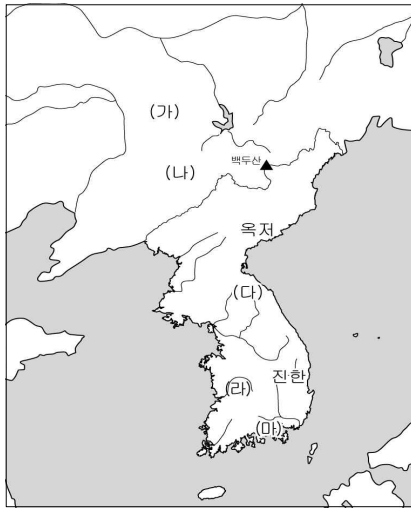
- ① ㄱ, ㄴ                      ② ㄱ, ㄷ                      ③ ㄴ, ㄷ  
 ④ ㄴ, ㄹ                      ⑤ ㄷ, ㄹ

21. 표는 삼국 시대의 통치 체도를 정리한 것이다. ㉠~㉤에 대한 설명으로 옳지 않은 것은? [3점]

구분	고구려	백제	신라
중앙	㉠5부	5부	6부
지방	5부-성-촌	5방-군-촌	5주-군-㉡촌
특별 행정 구역	3경	㉢22담로	2소경
지방 장관	육살	㉣방령	㉤군주

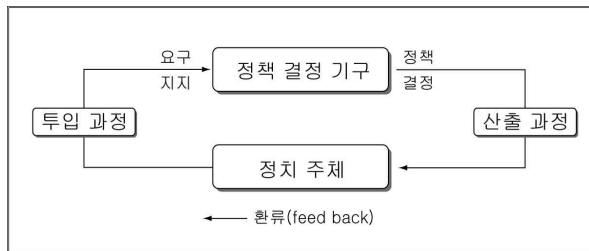
- ① ㉠ - 부족적 성격에서 행정적 성격으로 개편되었다.  
 ② ㉡ - 중앙에서 파견된 촌주가 행정실무를 담당하였다.  
 ③ ㉢ - 지방 세력 견제를 위해 요충지에 설치되었다.  
 ④ ㉣ - 지방 행정 및 군대의 지휘를 담당하였다.  
 ⑤ ㉤ - 주에 배치된 지방 부대인 정을 거느렸다.

22. 지도의 (가)~(마) 국가에 대한 설명으로 옳은 것은?



- ① (가) - 책화를 통해 부족의 생활권을 보호하였다.
- ② (나) - 대가들은 각기 사자, 조의, 선인 등의 관리를 거느렸다.
- ③ (다) - 가축의 이름을 딴 관리를 두었다.
- ④ (라) - 부왕, 준왕 등 강력한 왕이 등장하였다.
- ⑤ (마) - 중앙 집권 국가로 성장하였다.

23. 그림은 정책 결정 과정 모형이다. 투입 과정에서의 참여자 역할로 옳은 설명을 <보기>에서 모두 고른 것은?



- <보 기>
- ㄱ. 정부는 정책을 수립하여 집행한다.
  - ㄴ. 정당은 여론을 집약하여 정책 수립에 영향력을 행사한다.
  - ㄷ. 언론은 정책 수립과 관련된 여론 형성에 주도적 역할을 수행한다.
  - ㄹ. 이익 집단은 특수한 이익 실현을 위해 정치 과정에 압력을 가한다.

- ① ㄱ, ㄴ                      ② ㄱ, ㄷ                      ③ ㄴ, ㄹ
- ④ ㄱ, ㄷ, ㄹ                ⑤ ㄴ, ㄷ, ㄹ

24. 다음에 나타난 문화 이해 태도의 문제점을 극복하기 위해 필요한 자세를 <보기>에서 고른 것은?

- 과거 중국은 자기 나라를 세계의 중심으로 보고, 모든 주변 국가를 오랑캐로 보았다.
- 아프리카니스탄의 탈레반 정권은 세계문화유산인 바미안 석불을 우상 숭배라며 파괴하였다.

- <보 기>
- ㄱ. 자기 문화의 주체성을 유지하려는 태도를 갖는다.
  - ㄴ. 특정 문화를 기준으로 우열을 가리는 태도를 지양한다.
  - ㄷ. 선진 외국 문화를 무비판적으로 수용하는 태도를 갖는다.
  - ㄹ. 문화를 그 사회의 환경과 상황에 적응한 결과물로 이해하는 태도를 갖는다.

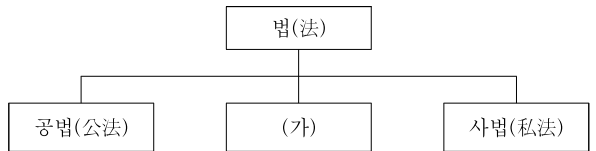
- ① ㄱ, ㄴ    ② ㄱ, ㄷ    ③ ㄴ, ㄷ    ④ ㄴ, ㄹ    ⑤ ㄷ, ㄹ

25. 경제 체제를 다음과 같이 구분할 때 (가)에 비해 (나)가 갖는 특징으로 적절하지 않은 것은? [3점]

- (가) 중앙 정부가 경제 활동 전반을 계획하고 통제하는 체제  
(나) 시장의 자동 조절 기능에 따라 경제 문제를 해결하는 체제

- ① 경쟁을 통해 효율성을 추구한다.
- ② 자유로운 경제 활동을 보장한다.
- ③ 희소한 자원을 균등하게 분배한다.
- ④ 개인의 창의성과 능력을 증시한다.
- ⑤ 가격 기구에 의해 경제 문제를 해결하고자 한다.

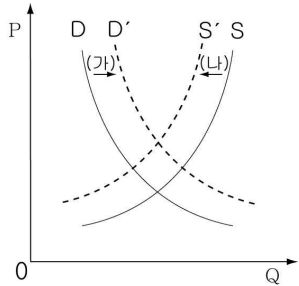
26. 그림은 법이 규율하는 생활 관계의 실체에 따라 법을 분류한 것이다. (가)에 대한 옳은 설명을 <보기>에서 모두 고른 것은? [3점]



- <보 기>
- ㄱ. 사회적 약자에 대한 보호를 내용으로 한다.
  - ㄴ. 사회주의의 문제점을 해결하고자 도입되었다.
  - ㄷ. 노동법, 경제법, 사회보장법 등이 이에 해당한다.
  - ㄹ. 공법의 영역이 사법화되는 과정에서 등장하였다.

- ① ㄱ, ㄴ                      ② ㄱ, ㄷ                      ③ ㄴ, ㄹ
- ④ ㄱ, ㄷ, ㄹ                ⑤ ㄴ, ㄷ, ㄹ

27. 그림은 최근 국제 원유 시장의 수요·공급 곡선 변동을 나타낸 것이다. (가), (나)의 요인으로 적절하지 않은 것은? [3점]



- ① (가) - 원유 채굴 기술 향상으로 생산비 감소
- ② (가) - 미국, 일본, 중국 간 원유 확보 경쟁 심화
- ③ (가) - 중국, 인도 등 신흥 공업국들의 급속한 공업화
- ④ (나) - 주요 매장지인 중동 지역의 정세 불안
- ⑤ (나) - 원유 생산 기지가 있는 북해의 장기적 기상 악화

28. 두 사람의 대화에서 을이 생각하는 민주주의의 의미에 부합하는 것은?

갑 : 민주주의는 공동체 질서 유지를 위해 정부를 구성하는 방법이라고 보기도 하고, 공동체 생활을 운영하는 방향에 대한 신념이나 목표를 의미한다고 보기도 해. 이외에도 다양한 의미가 있어. 너는 민주주의가 어떤 의미라고 생각하니?

을 : 학급에 중요한 결정 사항이 있을 경우, 급우끼리 충분한 대화와 의견을 교환하고 비판 또는 타협을 하지. 일반적으로는 다수결로 결정하지만 소수 의견에 대한 배려나 관용 정신도 필요해. 나는 이런 과정을 민주주의라고 생각해.

- ① 공동체 구성원으로서의 생활 원리
- ② 권력 분립을 통한 견제와 균형의 원리
- ③ 권력의 획득 및 행사와 관련된 정치 형태
- ④ 참정권 확대에 의한 사회 구성의 실천 원리
- ⑤ 다수의 국민이 뽑은 대표자에 의한 통치 원리

29. 자료를 통해 알 수 있는 당시의 지리적 인식에 대한 설명으로 알맞은 것은?

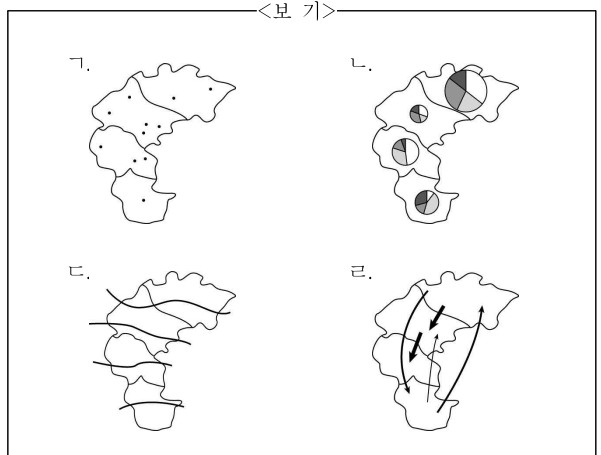
대체로 아홉 고을은 모두 바닷가이므로 주민은 고기 잡고 미역 따며 소금 굽는 것을 생업으로 하여 땅은 비록 메말라도 부유한 자가 많다. 다만 서쪽에 영(嶺)이 너무 높으므로 이역(異域)과 같아 한 때 유람하기에는 좋지만 ... (후략)

- 『택리지』 -

- ① 지리적 정보를 관념적으로 표현하는 태도가 확대되었다.
- ② 외침의 영향으로 국토에 대한 부정적 인식이 확대되었다.
- ③ 중국을 세계의 중심으로 인식하려는 태도가 널리 퍼졌다.
- ④ 자연적 제약을 극복하려는 가능성적 국토관이 확산되었다.
- ⑤ 실증적 연구를 통해 우리 국토를 바르게 이해하고자 하였다.

30. (가), (나) 자료를 통계 지도로 표현하고자 할 때, 가장 적절한 한 유형을 <보기>에서 골라 알맞게 짝지은 것은? [3점]

(가) 외국인 현황	(나) 장마 시작일
<p>○○지역의 외국인 현황을 보면 ◇◇군이 9,560명인데, 이 중 중국인 65%, 베트남인 23% ... (중략) ... △△군에는 290명의 외국인 중 중국인이 46%, 베트남인이 32%, ... (중략) ... 등으로 분포하고 있다.</p>	<p>기상청은 올해 장마가 예년 보다는 이틀 빠른 6월 21일 제주도에 상륙하여, 23일 부산을 거쳐 25일에 대전까지 북상하겠고, 서울은 27일경 장마가 시작될 것으로 예보하고 각별한 대비를 당부하였다.</p>

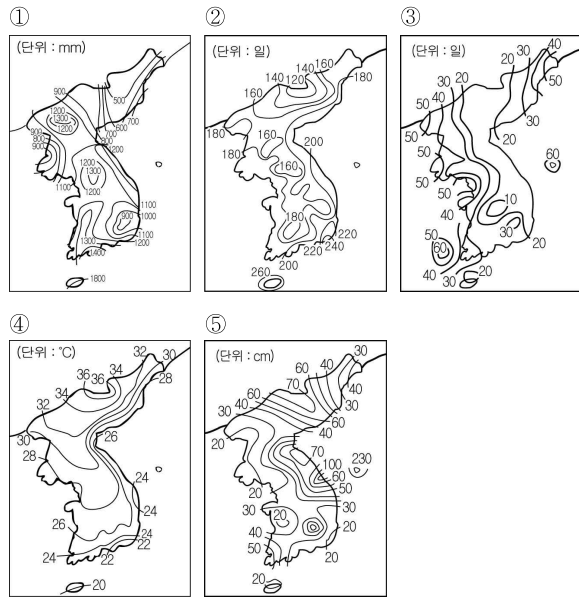


- |   |     |     |   |     |     |
|---|-----|-----|---|-----|-----|
|   | (가) | (나) |   | (가) | (나) |
| ① | ㄱ   | ㄴ   | ② | ㄱ   | ㄷ   |
| ③ | ㄴ   | ㄷ   | ④ | ㄴ   | ㄹ   |
| ⑤ | ㄷ   | ㄹ   |   |     |     |


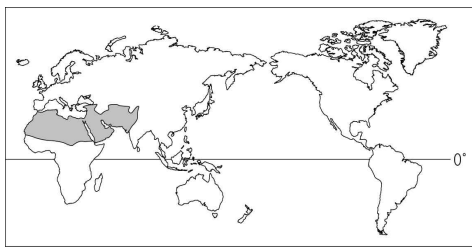


36. 다음과 같은 생활 문화의 형성과 관련 있는 자료로 가장 적절한 것은? [3점]

○ 우리 조상들은 남바위, 토시 등을 이용하여 겨울철 추위를 이겼고, 여름철에는 통풍이 잘 되는 삼베옷이나 모시옷을 입었다.  
○ 전통 한옥에서는 일반적으로 마루와 온돌이 함께 나타난다. 마루는 무덥고 습한 여름, 온돌은 추운 겨울에 대비한 시설이다.



37. 지도에 표시된 기후 지역에서 볼 수 있는 가옥으로 가장 적절한 것은?




38. 밑줄 친 ㉠~㉥의 원인으로 적절하지 않은 것은? [3점]

내일은 식목일이자 청명이지요. 쾌청한 날씨가 예상되는 가운데, ㉠**최저 기온이 0℃까지 내려가** 오전에는 쌀쌀하겠지만 낮에는 15℃까지 오르면서 따뜻해지겠습니다. ㉡**전국에 걸쳐 긴 조주의보가 내려진 만큼 산불이 자주 발생하고** 있으니 더욱더 불조심하셔야겠습니다. 한낮에는 중부 지방에 ㉢**황사가** 나타나겠고, 오후에는 북서쪽에서 구름이 다가와 ㉣**서해안 지방부터 점차 흐려지**겠습니다. 요즘 식목일이 나무 심기에 최적의 날이 아니라는 사실을 아시나요? ㉤**열었던 대지가 예년보다 일찍 녹기 때문에** 나무 심기의 적절한 시기가 3월 중순으로 앞당겨지고 있습니다.

- ① ㉠ - 시베리아 기단의 일시적 확장
- ② ㉡ - 열대성저기압의 세력 확대
- ③ ㉢ - 상층 편서풍에 의한 이동
- ④ ㉣ - 이동성 저기압의 통과
- ⑤ ㉤ - 지구 온난화의 영향

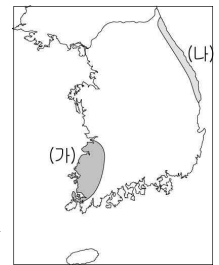
39. 사진은 하천에 건설된 시설물이다. 두 시설물의 특징으로 알맞은 것은?



- ① (가)는 재생 에너지를 생산하는 데 크게 기여한다.
- ② (나)는 조차가 큰 해안에서 바닷물의 역류를 막아준다.
- ③ (가)는 하천의 상류에 (나)는 하류에 건설된다.
- ④ (가)와 (나)의 건설을 통해 물 자원을 확보할 수 있다.
- ⑤ (가)와 (나)는 시설물의 상류 쪽 수질 개선에 기여한다.

40. (가), (나) 지역의 강설량 차이를 탐구하기 위한 조사 주제로 가장 적절한 것은?

**지금 OO지방은 '하얀 눈폭탄'**  
 폭설이 (가) 지역을 강타하고 있다. 1월 2일 현재 나흘째 폭설이 내려 누적 적설량이 50cm에 육박하고 있다. 기록적인 폭설로 비닐하우스, 축사, 벚꽃 재배 시설이 무너져 내려 농민들의 피해가 매우 큰 상태이다. 그러나 (나) 지역은 맑고 건조한 날씨가 계속되고 있다.



- ① 위도와 강설량의 관계
- ② 수륙분포와 강설량의 관계
- ③ 해발고도가 강설량에 미치는 영향
- ④ 해수온도가 강설량에 미치는 영향
- ⑤ 지형과 풍향이 강설량에 미치는 영향