

사회 · 과학탐구영역

5. 그림은 어느 집안의 족보에서 찾아볼 수 있는 이름들이다. 이에 대한 설명으로 옳은 것은?

(가)	상진	성진	병진	흥진	우진	35 세
(나)	영한	영영	영민	영범	영근	36 세
(다)	현식	경식	정식	종식	명식	37 세

※ 세(世) : 세대 구분에 사용

- ① (가)의 상진은 (나)의 영근의 조카뻘이 된다.
- ② (가)의 세대는 (나)의 세대보다 '항렬이 낮다.'라고 한다.
- ③ (가)의 '진', (나)의 '영', (다)의 '식'을 '돌림자'라고 한다.
- ④ (나)의 영한과 (다)의 현식은 서로 형제뻘이다.
- ⑤ (다)의 현식과 경식은 세대는 같으나 항렬은 다르다.

6. 문화 교류와 관련하여 다음 두 사례에서 공통으로 찾을 수 있는 특징은?

- 석굴암은 외래문화인 불교 문화에 우리 민족의 정서와 특성을 담아내어 대표적인 민족 문화 유산의 하나가 되었다.
- 중국에서 도자기 기술을 받아들인 후 우리의 독특한 상감 기법을 활용하여 세계적인 고려청자를 만들어냈다.

- ① 주체적인 문화 수용
- ② 경제적 효율성 증시
- ③ 평화 애호 정신 확립
- ④ 자민족 중심주의 고수
- ⑤ 저항적 민족 의식 고양

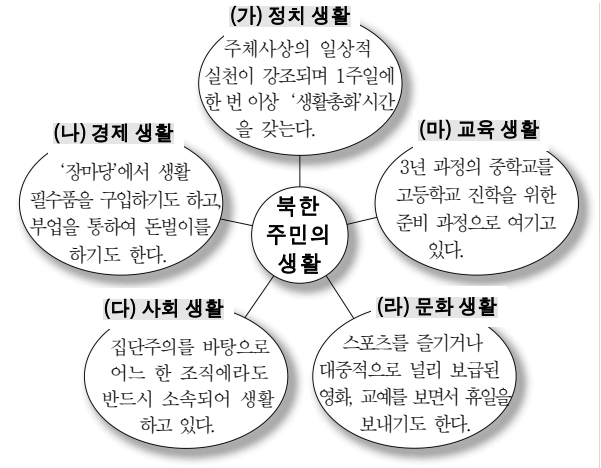
7. (가)를 주장한 사상가의 관점에서 (나)의 문제를 해결하는 방식으로 가장 적절한 것은? [3점]

(가) 천하의 모든 것은 스스로 움직이는 것도 있고, 다른 것에 의해 움직이는 것도 있다. 강한 것도 있으며 약한 것도 있다. 이처럼, 세상은 한 곳으로 나아가는 것이 아니기 때문에 억지로 하는 인위적인 행동은 받아들여지지 않는다. 도(道)의 본래 참모습은 무위(無爲)이다.

(나) 각종 폐수와 생활 쓰레기, 유독성 물질 등으로 인한 수질 오염은 생태계의 파괴와 더불어 인간의 생존까지 위협하고 있다.

- ① 환경 관련 법규를 만들어 위반자를 강력히 통제한다.
- ② 물의 자정 능력이 회복될 수 있도록 오염 물질 배출을 삼간다.
- ③ 환경 보호와 관련한 정책을 마련하여 범국가적으로 시행한다.
- ④ 환경 보호 실천 우수 시민에게 상장을 하여 시민 참여를 유도한다.
- ⑤ 과학 기술을 최대한 활용한 정수 시설을 확대 설치하여 깨끗한 물을 만들어낸다.

8. 그림은 북한 지역 여행자를 위해 만들어 본 북한 이해 교육 자료의 일부이다. 내용 중 잘못된 부분은? [3점]



- ① (가) ② (나) ③ (다) ④ (라) ⑤ (마)

9. 다음 두 사람의 행위를 가치와 관련지어 바르게 설명한 것은?

- 갑은 좋은 직장에 취직하기 위해 외국어 공부를 열심히 하였다.
- 을은 아무런 조건 없이 남몰래 불우한 이웃을 돕는 데 힘썼다.


- ① 갑은 궁극적 가치를 추구하였다.
- ② 갑은 그 자체로서 목적이 되는 가치를 추구하였다.
- ③ 을은 본래적 가치를 추구하였다.
- ④ 을은 다른 것을 위한 수단으로서의 가치를 추구하였다.
- ⑤ 갑과 을이 추구한 가치는 서열이 같다.

10. 다음은 사형제도 폐지론을 지지하는 어느 학생의 글이다. 제시한 근거로 적절하지 않은 것은? [3점]

..... 우선 아무리 범죄자라 해도 사형은 ㉠ **국가에 의한 살인이다.** 살인을 막고 또 다른 살인을 자행하는 것은 국가가 해야 할 일이 아니다. 그리고 ㉡ **국가는 범죄자를 끝까지 교화할 책임이 있다.** 사형은 교화하기를 포기하는 것으로 국가의 직무유기일 뿐이다. 또한 ㉢ **한 사회에서 일어난 범죄에 대해서는 사회 구성원들이 공동으로 책임을 져야 할 것이다.** 사회의 구조적 모순 때문에 범죄자가 생기기도 하니까 말이다. 그리고 ㉣ **일벌백계의 차원에서 범죄를 예방하는 효과도 있다.** 범죄를 줄이는 것이 사회의 안녕을 가져다주는 지름길이기 때문이다. 무엇보다 사형제도가 유효한 것은 ㉤ **정치적으로 악용될 수 있다는 것이다.** 정치적 음모로 피해를 보는 경우가 그것이다.

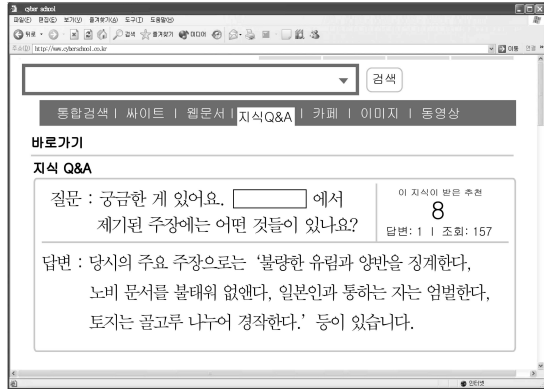
- ① ㉠ ② ㉡ ③ ㉢ ④ ㉣ ⑤ ㉤

11. 다음 유물·유적들이 만들어진 순서를 옳게 나열한 것은?



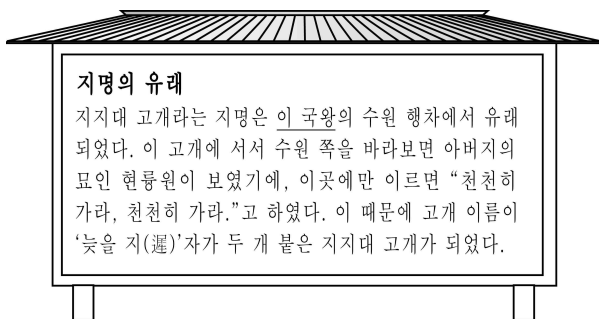
- ① (가) - (나) - (다) ② (가) - (다) - (나)
 ③ (나) - (가) - (다) ④ (나) - (다) - (가)
 ⑤ (다) - (나) - (가)

12. 다음 에 들어갈 사건으로 옳은 것은? [3점]



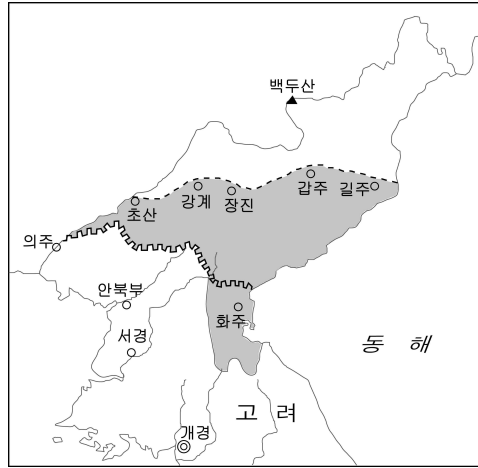
- ① 갑오개혁 ② 임오군란
 ③ 광무개혁 ④ 갑신정변
 ⑤ 동학 농민 운동

13. 밑줄 친 '이 국왕' 때 있었던 역사적 사실로 옳은 것은?



- ① 훈민정음이 창제되었다.
 ② 경국대전이 편찬되었다.
 ③ 규장각과 장용영이 설치되었다.
 ④ 서원이 철폐되고 경복궁이 중건되었다.
 ⑤ 명과 후금 사이에서 중립 외교가 추진되었다.

14. 지도에 표시된 지역이 고려의 영토로 회복될 무렵에 있었던 사실을 <보기>에서 모두 고른 것은?



- < 보 기 >
 ㄱ. 노비 안검법 실시 ㄴ. 강화도 천도
 ㄷ. 친원과 숙청 ㄹ. 정방 폐지

- ① ㄱ, ㄴ ② ㄱ, ㄷ ③ ㄴ, ㄷ ④ ㄴ, ㄹ ⑤ ㄷ, ㄹ

15. 다음 상황 이후 신라가 전개한 활동으로 옳은 것은? [3점]



- ① 고구려의 군사적 도움으로 왜구를 물리쳤다.
 ② 당과 동맹을 맺어 백제와 고구려를 공격하였다.
 ③ 백제를 공격하여 한강 하류 지역을 차지하였다.
 ④ 고구려의 남진 정책에 맞서 백제와 동맹을 맺었다.
 ⑤ 금관 가야를 정복하여 낙동강 유역으로 진출하였다.

16. 자료의 국가에 대한 설명으로 옳은 것은?

부여씨가 망하고 고씨가 망한 다음 김씨가 남방을 차지하고, 대씨가 북방을 차지하고는 (이)라 했으니, 이것을 남북국이라 한다. 저 대씨가 어떤 사람인가? 바로 고구려 사람이다. 그들이 차지하고 있던 땅은 어떤 땅인가? 바로 고구려 땅이다.

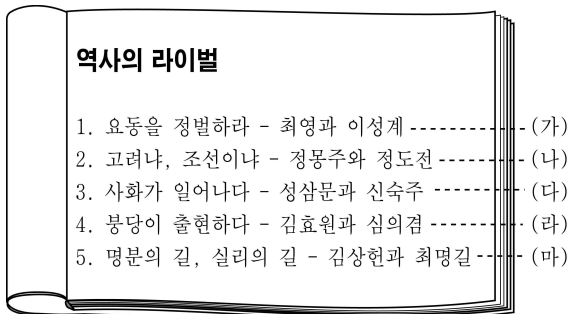
- ① 중국인들로부터 해동성국이라 불리었다.
- ② 전국을 9주로 나누고 5개의 소경을 두었다.
- ③ 제가 회의에서 나라의 중요한 일을 결정하였다.
- ④ 지방 요지에 22개의 담로를 두고 왕족을 파견하였다.
- ⑤ 골품제로 사회 활동과 정치 활동의 범위를 제한하였다.

17. 선생님의 질문에 대한 학생의 답변으로 적절하지 않은 것은? [3점]



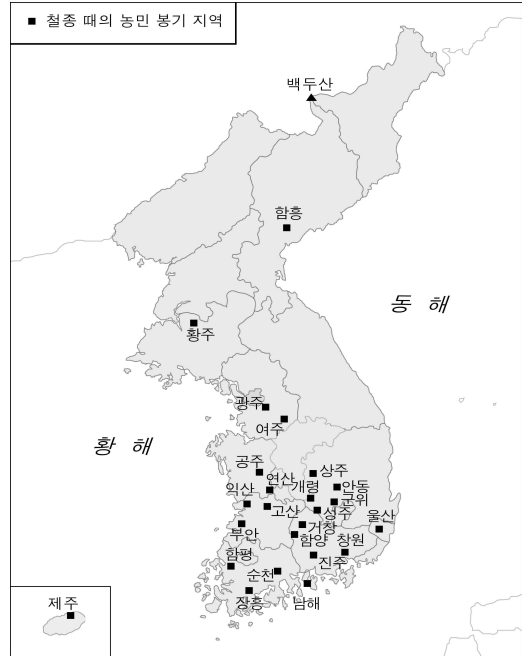
- ① 황국 신민 서사를 외도록 강요하였습니다.
- ② 헌병에게 경찰의 임무까지 담당하도록 하였습니다.
- ③ 우리 민족과 일본의 조상이 같다고 주장하였습니다.
- ④ 학교에서 우리 역사를 가르치지 못하도록 하였습니다.
- ⑤ 우리말 사용을 금지하고 일본어만 쓰도록 하였습니다.

18. 다음은 어느 역사책의 차례 부분이다. (가)~(마)의 제목 가운데 적절하지 않은 것은? [3점]



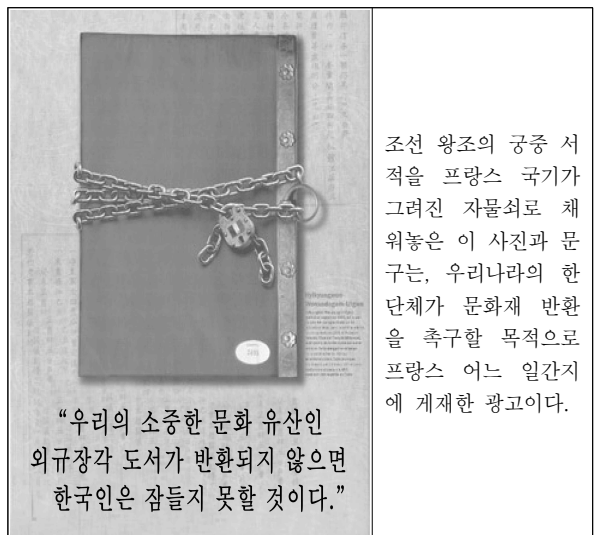
- ① (가) ② (나) ③ (다)
- ④ (라) ⑤ (마)

19. 다음 시기의 사회 모습으로 적절하지 않은 것은?



- ① 예언 사상과 미륵 신앙이 널리 유행하였다.
- ② 관직을 사고 파는 일이 빈번하게 발생하였다.
- ③ 안동 김씨 등 몇몇 세도 가문이 권력을 독점하였다.
- ④ 노비들이 전국적으로 신분 해방 운동을 전개하였다.
- ⑤ 빛에 물린 농민들이 고향을 버리고 유랑민이 되기도 하였다.

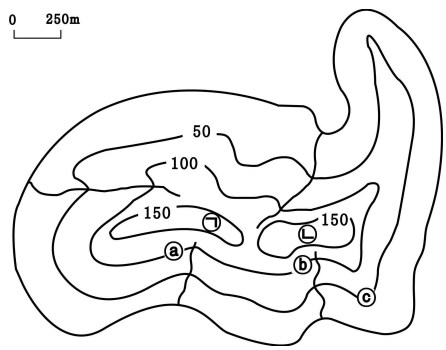
20. 자료와 관련된 탐구 활동으로 적절한 것은? [3점]



- ① 병인양요의 과정을 조사한다.
- ② 삼국 간섭의 배경을 알아본다.
- ③ 오페르트 도굴 사건의 영향을 분석한다.
- ④ 아관 파천 이후의 정세 변화를 파악한다.
- ⑤ 제너럴 셔먼 호 사건이 초래한 결과를 알아본다.

21. 밑줄 친 부분의 위치를 지도에서 찾아 순서대로 바르게 연결한 것은? [3점]

우리는 드디어 보물섬에 도착했다. 섬에는 북쪽의 큰 만으로 흘러 들어가는 개울이 있었는데, 우리는 그 개울을 따라 올라가면서 오른쪽으로 보이는 산봉우리에 주변을 관찰할 수 있는 전망대를 설치하였다.
섬을 살살이 뒤지던 어느 날, 전망대의 남동쪽에 있는 계곡을 따라 올라가다 보니 든던 대로 해수면으로부터 약 100m 높은 지점에 보물이 묻힌 곳이 있는 게 아닌가!



전망대 보물이 묻힌 곳

- | | | |
|---|---|---|
| ① | ㉠ | ㉡ |
| ② | ㉠ | ㉢ |
| ③ | ㉡ | ㉣ |
| ④ | ㉢ | ㉢ |
| ⑤ | ㉣ | ㉣ |

22. 다음은 수도권 어느 지역의 변화에 대한 자료이다. 지도의 지역에서 나타났을 변화를 <보기>에서 모두 고른 것은?

경제 개발과 산업화 과정에서 과밀화된 서울의 인구가 수도권으로 분산되면서 1990년대 이후 이 지역에도 많은 변화가 일어났다.

한 강
<1950년대의 지도>

- < 보 기 >
- ㄱ. 농업 인구의 비중이 늘어났다.
 - ㄴ. 상품 작물의 재배가 활발해졌다.
 - ㄷ. 서울로 통근하는 사람들이 늘어났다.
 - ㄹ. 한강 수운을 이용한 중화학 공업 단지가 조성되었다.

- | | | |
|--------|--------|--------|
| ① ㄱ, ㄴ | ② ㄱ, ㄷ | ③ ㄴ, ㄷ |
| ④ ㄴ, ㄹ | ⑤ ㄷ, ㄹ | |

23. 자료는 라틴아메리카를 여행하면서 쓴 여행기이다. 이 지역에 대한 설명으로 옳지 않은 것은? [3점]

7월 8일. A 마을에서...
커피 농장에서 인디오 여인들이 한창 커피를 따고 있었다. 이들은 생활이 어렵기 때문에 커피 수확기만 되면 농장에 내려와 품을 팔고 있다고 한다. 농장 주인은 꼭 필요한 경우에만 농장에 올 뿐 주로 대도시의 저택에서 지낸다고 한다.

7월 13일. B 마을에서...
여기에서는 며칠 전에 가 보았던 대규모 커피 농장과는 달리 인디오들이 좁은 경작지에 감자나 옥수수를 심어놓은 것을 볼 수 있었다. 현재 세계 곳곳에서 재배되고 있는 감자, 옥수수는 라틴아메리카에서 전파된 것이라고 한다.

- ① A 마을의 커피는 플랜테이션 형태로 재배된다.
- ② B 마을에는 연중 봄과 같은 기후가 나타난다.
- ③ B 마을의 감자와 옥수수는 주로 가축 사료용으로 재배된다.
- ④ A, B 마을의 작물 재배 차이는 기온과 관련이 깊다.
- ⑤ A 마을은 B 마을에 비해 상업적 농업의 비중이 크다.

24. 자료는 지리 수행평가 보고서의 일부이다. 지도에서 A 도시에 해당하는 곳은?

제목 : A 도시의 공업 특성

1. 입지 조건과 공업 구조의 특징
이 지역은 노동력이 풍부하고, 경부 고속 국도, 경부 철도 등으로 연결되어 교통이 편리하며, 그림과 같이 섬유 공업에 종사하는 사람들이 특히 많다.

<섬유 공업 종사자 비중(2003년)>

2. 최근의 변화
인건비 상승과 섬유 공장의 해외 이전으로 한때 지역 경제가 침체되기도 하였으나, 지금은 연구 개발 분야에 대한 투자와 제품 고급화를 통해 섬유 공업의 부활을 모색하고 있다.

- ① (가)
- ② (나)
- ③ (다)
- ④ (라)
- ⑤ (마)

31. 그림의 (가)에 들어갈 내용으로 가장 적절한 것은?



- ① 권력 분립의 실현
- ② 의회의 자율성 확대
- ③ 선거의 공정성 확보
- ④ 풀뿌리 민주주의의 정착
- ⑤ 정책 결정의 효율성 증대

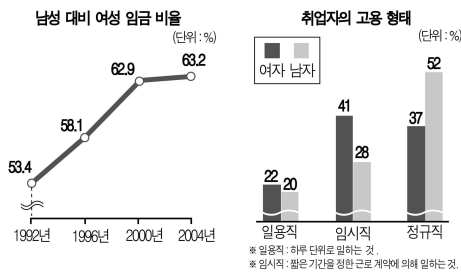
32. 다음 자료에서 설명하는 법이 속한 법 영역에 대한 옳은 설명을 <보기>에서 모두 고른 것은? [3점]

1993년에 고용 보험법이 제정되었다. 이 법은 실업 기간 중 근로자의 생활 안정과 조기 재취업을 목적으로 하고 있다. 따라서 노동자는 자신의 의지와 관계없이 일자리를 잃은 경우에 일정 기간 동안 현금을 지급 받을 수 있게 되었다.

- < 보 기 >
- ㄱ. 개인 생활에 대한 국가의 개입을 최소화한다.
 - ㄴ. 사회적 약자를 보호하기 위해 만들어진 것이다.
 - ㄷ. 소비자 기본법, 근로 기준법 등도 이에 해당한다.
 - ㄹ. 빈곤과 실업의 책임이 전적으로 개인에게 있다고 본다.

- ① ㄱ, ㄴ ② ㄱ, ㄷ ③ ㄴ, ㄷ ④ ㄴ, ㄹ ⑤ ㄷ, ㄹ

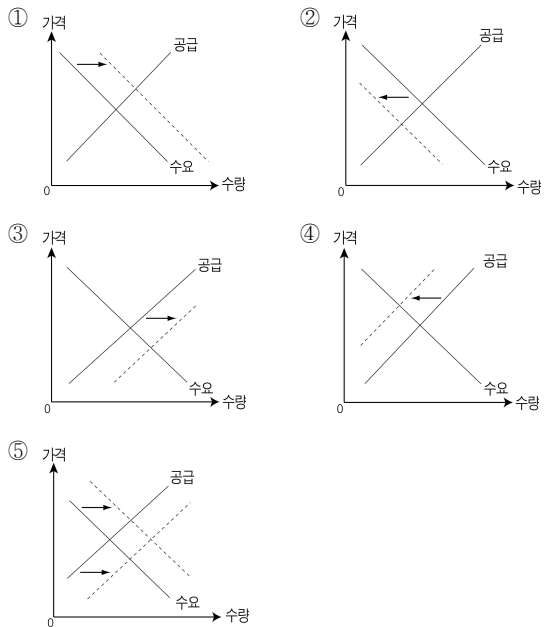

33. 그림에 대한 옳은 분석을 <보기>에서 모두 고른 것은? [3점]



- < 보 기 >
- ㄱ. 남성 취업자는 정규직의 비율이 가장 높다.
 - ㄴ. 남녀 간 임금 수준의 불평등이 완화되고 있다.
 - ㄷ. 고용 형태에서 남성의 지위가 여성보다 불안하다.
 - ㄹ. 경제 활동에 참여하는 여성들이 점차 줄어들고 있다.

- ① ㄱ, ㄴ ② ㄱ, ㄷ ③ ㄴ, ㄷ ④ ㄴ, ㄹ ⑤ ㄷ, ㄹ

34. 그림의 밑줄 친 '최고기 시장'의 변화를 그래프로 바르게 나타낸 것은? (단, 다른 조건은 일정하다고 가정한다.)



35. 다음은 수업 시간의 한 장면이다. 교사의 질문에 적절하지 않은 내용을 발표한 학생은?



- ① 갑: 고모는 환경 시민 단체에 가입하여 활동하고 있습니다.
- ② 을: 아버지는 대통령 선거에 참여하여 투표권을 행사하였습니다.
- ③ 병: 저는 입시 제도의 개선에 대한 글을 신문에 투고하였습니다.
- ④ 정: 이모는 주민 회의에서 화장장 건설에 대해 의견을 말하였습니다.
- ⑤ 무: 저는 수해로 크게 피해를 입은 지역에 봉사 활동을 다녀왔습니다.

36. 밑줄 친 ㉠ ~ ㉣에 대한 설명 중 옳지 않은 것은? [3점]

나는 올해 ㉠고등학교를 졸업하고 대학에 입학한다. 그래서 2008년은 청소년에서 성인으로 새로운 도약을 앞둔 특별한 해이다. ㉡대학생이 되면 여행, 영어 회화 공부, ㉢동아리 활동 등 하고 싶은 게 무척 많다. 작년에는 ㉣대학 입시의 압박감과 불안감 때문에 많이 힘들었지만, 이제는 최대한 자유를 누리면서도 자기 행동에 책임을 지는 사람이 되고 싶다. 스무 살이 된다는 사실이 잘 믿기지 않지만, ㉤이제 성인이 되니까 어른스럽게 행동해야겠다.

- ① ㉠은 사회화를 담당하는 기관이다.
- ② ㉡은 후천적으로 획득한 사회적 지위이다.
- ③ ㉢은 인위적으로 구성된 집단이다.
- ④ ㉣은 역할 갈등의 모습이다.
- ⑤ ㉤은 자신에게 기대되는 행동을 인정하는 것이다.

37. 그림에서 '을'의 문화 이해 태도에 대한 설명으로 옳은 것은?



- ① 다른 문화를 기준으로 자기 문화를 평가한다.
- ② 다양한 문화를 객관적으로 바라보기 어렵다.
- ③ 자기 문화에 대한 주체성이 약하다.
- ④ 문화 간의 우열은 없다고 본다.
- ⑤ 문화의 상대성을 인정한다.

38. 다음 사건을 오늘날 우리나라의 법원에서 재판한다고 할 때, 재판 상황을 바르게 제시한 것은? [3점]

송나라 때 어느 상인이 죽으면서 두 아들에게 재산을 똑같이 나누어 가지라고 유언하였다. 그런데 재산을 나누는 과정에서 형이 동생보다 값진 것을 더 많이 가져갔다. 이에 동생은 형에게 재산을 더 달라고 요구하였으나, 형은 재산을 똑같이 나누었다며 거절하였다. 그래서 동생은 이 문제를 해결해 달라며 관청에 찾아갔다.

재판의 종류	원고	피고(피고인)
① 민사 재판	동생	형
② 민사 재판	형	동생
③ 형사 재판	검사	동생
④ 형사 재판	동생	형
⑤ 헌법 재판	형	국가

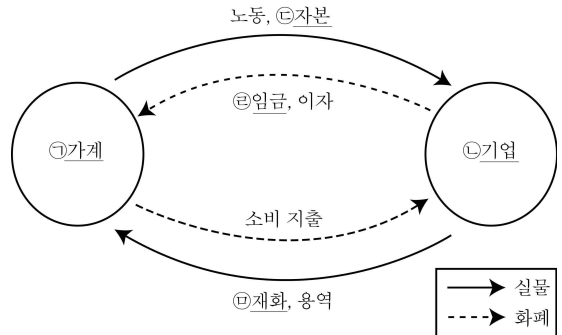
39. 다음 신문 기사에 나타난 경제 현상에 대해 바르게 설명한 학생을 <보기>에서 모두 고른 것은?



< 보기 >
 갑: 소비자의 권리가 침해될 수 있겠군.
 을: 시장 경제의 효율성을 보여주는 사례야.
 병: 그동안 해당 기업들은 큰 이익을 얻었겠군.
 정: '보이지 않는 손'에 의해서 해결될 수 있어.

- ① 갑, 을 ② 갑, 병 ③ 병, 정
- ④ 갑, 을, 병 ⑤ 을, 병, 정

40. 다음은 민간 경제의 구성과 순환을 나타낸 것이다. ㉠ ~ ㉣에 대한 설명 중 옳은 것은? [3점]



- ① ㉠은 이윤의 극대화를 추구한다.
- ② ㉡은 소비 활동의 주체이다.
- ③ ㉢은 ㉡과 달리 시장에서 거래되지 않는다.
- ④ 노동의 수요량이 노동의 공급량보다 많으면 ㉢은 오른다.
- ⑤ 의사의 진료나 교사의 수업은 ㉣에 해당한다.