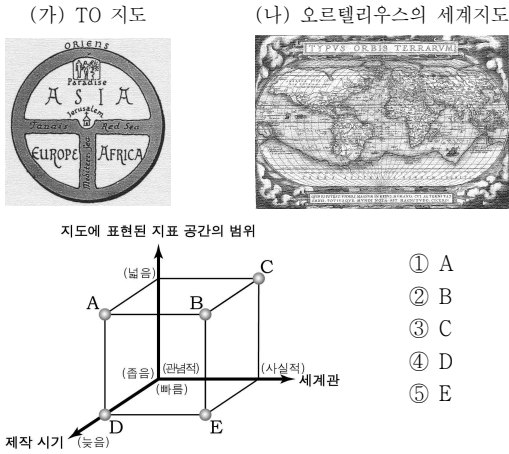


제 4 교시

사회탐구 영역(세계 지리)

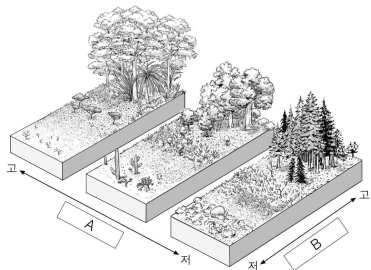
성명 수험번호 3

1. (가)와 비교한 (나)의 상대적 특징으로 옳은 것은?



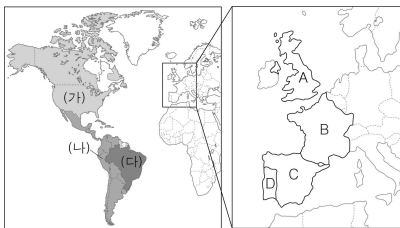
- ① A
- ② B
- ③ C
- ④ D
- ⑤ E

2. 그림은 세계의 주요 식생을 스케치한 것이다. 빈칸 A, B에 들어갈 지표로 옳은 것은? [3점]



- | | | | | | |
|---|--------|--------|---|--------|-------|
| | A | B | | A | B |
| ① | 연교차 | 연평균 기온 | ② | 연교차 | 연 강수량 |
| ③ | 연 강수량 | 연평균 기온 | ④ | 연평균 기온 | 연교차 |
| ⑤ | 연평균 기온 | 연 강수량 | | | |

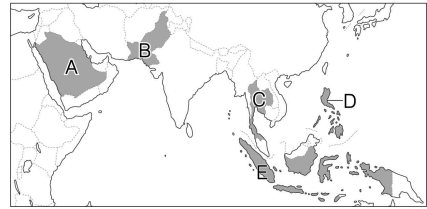
3. 지도의 (가)~(다) 언어 지역 형성에 영향을 준 유럽 국가를 A~D에서 고른 것은?



- | | | | | | | | |
|---|-----|-----|-----|---|-----|-----|-----|
| | (가) | (나) | (다) | | (가) | (나) | (다) |
| ① | A | B | C | ② | A | C | D |
| ③ | B | A | D | ④ | B | D | C |
| ⑤ | C | D | A | | | | |

4. 다음 대화 내용을 읽고, 영희가 여행하려고 하는 국가를 지도의 A~E에서 고른 것은?

영희: 여행할 때 무엇을 준비할까요?
 여행사 직원: 스콜에 대비해서 우산을 꼭 챙겨주세요. 그리고 덥고 습하기 때문에 통풍이 잘되는 시원한 옷을 준비하세요.
 영희: 첫날에는 어디에 가나요?
 여행사 직원: 국왕이 살고 있는 왕궁 주변과 '황금 사원'이라고 불리는 불교 사원을 둘러보고, 숙소로 돌아오는 길에 수상 시장에 들르겠습니다.



- ① A
- ② B
- ③ C
- ④ D
- ⑤ E

5. 다음은 학생의 필기 내용이다. ㉠~㉣ 중 옳지 않은 것은?

[빙하 지형과 주민 생활]

1. 다양한 빙하 지형

- A: 빙하 침식 작용으로 형성된 뾰족한 봉우리 ㉠
- B: 안쪽에 빙하호가 형성되기도 함 ㉡
- C: 하천이 흐르면 폭포가 발달함 ㉢
- D: V자 모양의 골짜기가 형성됨 ㉣

2. 주민 생활

- 지형을 활용하여 스키, 캠핑 등 다양한 관광·레저 산업을 육성하고 있음 ㉤

- ① ㉠
- ② ㉡
- ③ ㉢
- ④ ㉣
- ⑤ ㉤

6. 자료를 보고 옳게 추론한 학생만을 <보기>에서 있는 대로 고른 것은? [3점]

제○○○호 2011년 ○월 ○일

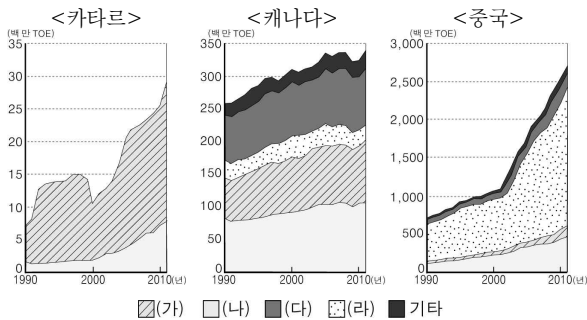
1956년 영국의 식민 지배로부터 독립한 이후, 수단에서는 아프리카계 원주민이 다수인 남부 지역과 아랍계 민족이 다수인 북부 지역 간의 갈등이 끊이지 않았다. 특히 수단 남부 지역에 주로 매장되어 있는 석유 자원의 이권 확보를 위한 각축전이 더해지면서 내전이 더욱 심화되었다. ... (중략)... 장기적인 내전 끝에 2011년 수단 남부 지역은 남수단으로 분리·독립하였다.

< 보 기 >

갑: 분쟁은 이슬람교 종파 간의 대립이었어.
 을: 분쟁은 종교 분쟁뿐 아니라 자원 분쟁이기도 해.
 병: 남수단이 석유를 수출하기 위해서는 수단과의 협력이 필요할 거야.
 정: 식민 지배 당시 종족 분포 범위를 고려하지 않고 국경을 설정한 것도 분쟁의 배경 중 하나야.

- ① 갑, 을 ② 을, 병 ③ 갑, 을, 병
 ④ 갑, 병, 정 ⑤ 을, 병, 정

7. 그래프는 국가별 1차 에너지 소비량 변화를 나타낸 것이다. (가)~(라)에 대한 옳은 설명을 <보기>에서 고른 것은? (단, (가)~(라)는 석유, 석탄, 천연가스, 수력 중 하나임.) [3점]

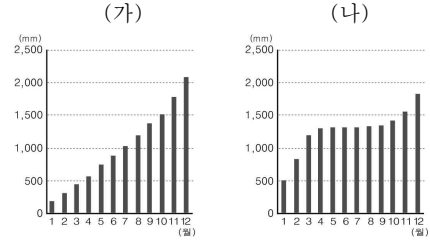


< 보 기 >

ㄱ. (가) - 풍부한 유량과 큰 낙차 조건이 필요하다.
 ㄴ. (나) - 신생대 제3기층에 주로 매장되어 있다.
 ㄷ. (다) - 자동차 및 항공기의 연료로 주로 이용된다.
 ㄹ. (라) - 철광석과 함께 산업혁명의 원동력이 되었다.

- ① ㄱ, ㄴ ② ㄱ, ㄷ ③ ㄴ, ㄷ ④ ㄴ, ㄹ ⑤ ㄷ, ㄹ

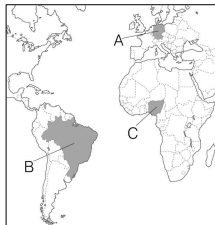
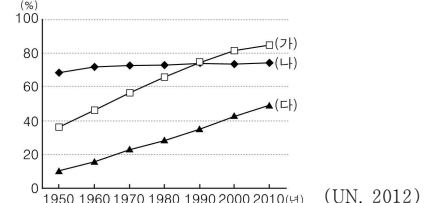
8. 그래프는 (가), (나) 열대 기후 지역의 누적 강수량을 나타낸 것이다. 이에 대한 설명으로 옳지 않은 것은? [3점]



* 누적 강수량: 해당 월 강수량에 그 이전 월까지의 강수량을 더한 값.

- ① (가)는 열대 우림 기후이다.
 ② (나)는 남반구에 위치하고 있다.
 ③ (가)는 (나)보다 연 강수량이 많다.
 ④ (가)는 (나)보다 7월 강수량이 많다.
 ⑤ (가)는 (나)보다 건기와 우기가 뚜렷하다.

9. 그래프는 세 국가의 도시화율 추이를 나타낸 것이다. (가)~(다) 국가를 지도의 A~C에서 고른 것은?



- | | | | |
|---|-----|-----|-----|
| | (가) | (나) | (다) |
| ① | A | C | B |
| ② | B | A | C |
| ③ | B | C | A |
| ④ | C | A | B |
| ⑤ | C | B | A |

10. 다음과 같은 영화를 제작하고자 할 때 선택할 수 있는 장면으로 적절하지 않은 것은?

○ 영화 제목: ○○○○



○ 줄거리: △△ 지역에 대한 지배권을 두고 여러 국가들이 서로 대립하던 시기에 주인공은 아랍 부족을 연합하여 전략적 요충지인 아카바를 탈취하고 전쟁의 영웅이 되었는데 (후략)

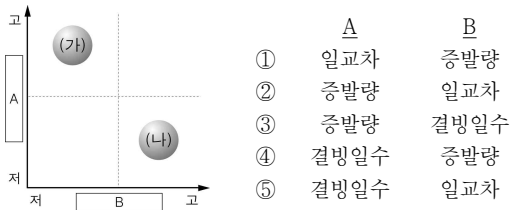
<영화 촬영지 및 이동 경로>

- ① 농민들이 카카오를 수확하는 장면
 ② 상인들이 바르한을 넘어가는 장면
 ③ 주민들이 메카를 향해 기도하는 장면
 ④ 베두인족이 낙타를 타고 이동하는 장면
 ⑤ 병사들이 오아시스에서 휴식을 취하는 장면

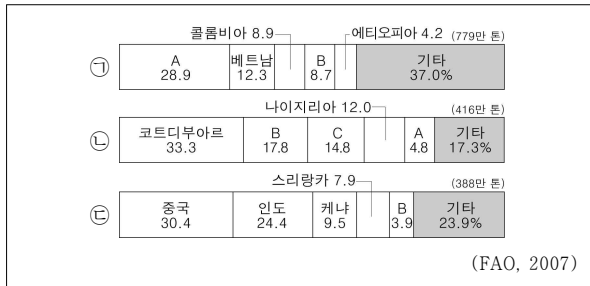
(세계 지리) 사회탐구 영역

11. (가), (나) 동물이 주로 서식하는 지역의 자연 환경을 비교할 때, A, B에 해당하는 지표로 옳은 것은?

(가)		몸의 열을 식히기 위해 귀가 크며, 물기가 없고 뜨거운 모래에 발이 빠지지 않고 화상을 입지 않도록 발바닥에도 털이 나 있다.
(나)		긴 겨울에는 눈 속에 몸을 숨기기 위해 몸의 털이 흰색으로 변하고, 짧은 여름에는 흙과 바위 틈에 숨기 위해 회갈색으로 변한다.

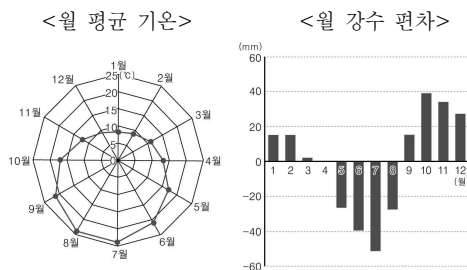


12. 그래프는 ㉠~㉣ 작물의 국가별 생산량 비중을 나타낸 것이다. A~C에 해당하는 국가로 옳은 것은? (단, ㉠~㉣ 작물은 차, 카카오, 커피 중 하나임.)



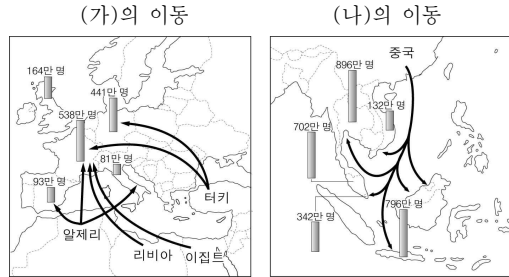
- | | | | |
|---|-------|---------|---------|
| | A | B | C |
| ① | 브라질 | 인도네시아 | 가나 |
| ② | 브라질 | 오스트레일리아 | 인도네시아 |
| ③ | 가나 | 브라질 | 오스트레일리아 |
| ④ | 인도네시아 | 오스트레일리아 | 가나 |
| ⑤ | 인도네시아 | 가나 | 브라질 |

13. 그래프는 어느 지역의 기후 자료이다. 이러한 기후가 나타나는 지역의 대표적인 농목업으로 옳은 것은? [3점]



- * 월 강수 편차 = 월 강수량 - (연 강수량 ÷ 12)
- | | | |
|---------|-------------|---------|
| ① 벼농사 | ② 혼합 농업 | ③ 수목 농업 |
| ④ 플랜테이션 | ⑤ 이동식 화전 농업 | |

14. 자료는 어느 인구 집단의 국제 이동을 나타낸 것이다. (가), (나)에 대한 옳은 설명을 <보기>에서 고른 것은? [3점]



- < 보 기 >
- ㄱ. (가)의 이동은 이동 초기에 유럽의 노동력 부족 현상을 완화시켰다.
 - ㄴ. (나)는 유입 지역에서 종교로 인해 현지인과의 마찰이 심하다.
 - ㄷ. (나)는 (가)보다 유입 지역에서 경제적 위상이 높다.
 - ㄹ. (가), (나)의 이동은 강제적 이동의 성격이 강하다.

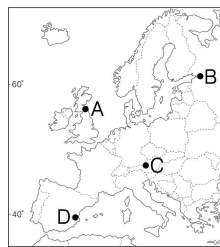
- ① ㄱ, ㄴ ② ㄱ, ㄷ ③ ㄴ, ㄷ ④ ㄴ, ㄹ ⑤ ㄷ, ㄹ

15. 자료는 유럽 축제 답사 노트의 일부이다. (가)~(다) 지역을 지도의 A~D에서 고른 것은?

(가) ... 백야 현상이 나타나는 여름이 되면 많은 사람들이 밤새도록 열리는 불꽃 축제, 음악제에 참여한다. ...

(나) ... 알프스 산맥에 위치한 모차르트의 고향에서는 세계적인 오케스트라의 연주가 열린다. ...

(다) ... 사람들이 서로에게 지역 특산품인 토마토를 던지고 으깨며 즐거워한다. ...



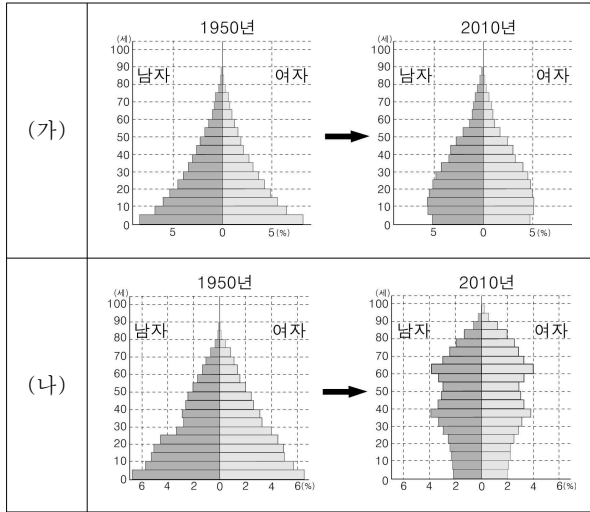
- | | | | |
|---|-----|-----|-----|
| | (가) | (나) | (다) |
| ① | A | C | B |
| ② | B | A | C |
| ③ | B | C | D |
| ④ | D | A | B |
| ⑤ | D | B | C |

16. A~D 공업 지역에 대한 설명으로 옳지 않은 것은? [3점]



- ① A는 저임금 미숙련 노동력을 바탕으로 성장하였다.
- ② D는 공업 쇠퇴에 따른 문제점이 나타난다.
- ③ B는 A보다 중화학 공업의 비중이 높다.
- ④ C는 D보다 원료의 수입과 제품의 수출에 유리하다.
- ⑤ D는 A보다 공업 지역의 형성 시기가 빠르다.

17. 그래프는 (가), (나) 국가의 인구 구조 변화를 나타낸 것이다. 이에 대한 옳은 설명만을 <보기>에서 있는 대로 고른 것은? [3점]



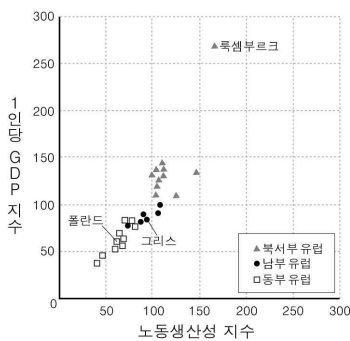
(UN, 2012)

<보기>

- ㄱ. 1950 ~ 2010년에 (가)의 유소년층 비중이 감소하였다.
- ㄴ. 1950 ~ 2010년에 (나)의 노년 부양비가 증가하였다.
- ㄷ. 현재 경제 발전 수준은 (가)보다 (나)가 높을 것이다.
- ㄹ. 현재 출산 장려 정책은 (나)보다 (가)가 더 필요할 것이다.

- ① ㄱ, ㄴ ② ㄷ, ㄹ ③ ㄱ, ㄴ, ㄷ
- ④ ㄱ, ㄴ, ㄹ ⑤ ㄴ, ㄷ, ㄹ

18. 자료는 유럽연합(EU) 국가의 1인당 GDP 지수와 노동생산성 지수를 나타낸 것이다. 이에 대한 분석으로 옳은 것은? [3점]

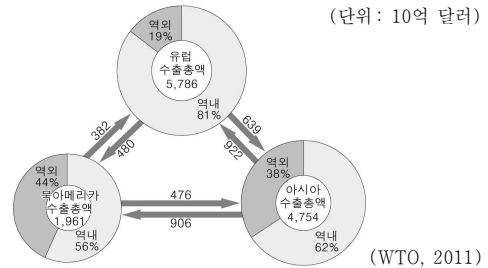


(Eurostat, 2011)

* 지수는 유럽연합 회원국의 해당 지표 평균을 100으로 한 상대 값임.

- ① 폴란드의 1인당 GDP와 노동생산성은 전체 평균보다 높다.
- ② 동부 유럽의 경제 발전 수준은 북서부 유럽보다 높은 편이다.
- ③ 남부 유럽 국가들은 북서부 유럽 국가들에 비해 1인당 GDP 지수가 높다.
- ④ 회원국 간 지수 값의 최대 차이는 노동생산성보다 1인당 GDP가 크다.
- ⑤ 그리스는 룩셈부르크보다 노동생산성 지수 대비 1인당 GDP 지수가 높다.

19. 자료는 북아메리카, 유럽, 아시아의 상품 수출 현황을 나타낸 것이다. 이에 대한 옳은 분석을 <보기>에서 고른 것은? (단, 세 지역 간의 수출만을 고려함.)



(WTO, 2011)

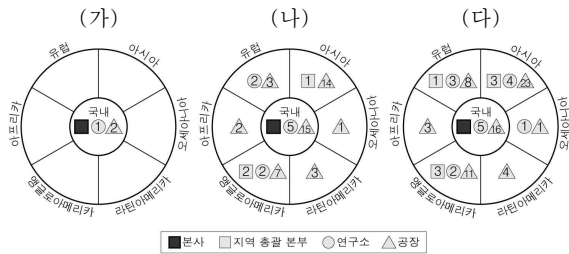
* 아시아의 수출액은 서남아시아 지역을 제외한 값임.

<보기>

- ㄱ. 역내 수출 비중은 유럽이 가장 높다.
- ㄴ. 역내 수출액은 아시아가 북아메리카보다 적다.
- ㄷ. 아시아는 북아메리카보다 유럽과의 무역 규모가 크다.
- ㄹ. 북아메리카는 유럽과의 무역 수지에서 흑자를 기록하였다.

- ① ㄱ, ㄴ ② ㄱ, ㄷ ③ ㄴ, ㄷ ④ ㄴ, ㄹ ⑤ ㄷ, ㄹ

20. 자료는 세계화 과정에서 ○○ 자동차 기업의 (가)~(다) 시기 별 성장 과정을 나타낸 것이다. 이에 대한 옳은 추론을 <보기>에서 고른 것은? [3점]



* 도형 내 숫자는 각 기능이 해당 지역에 입지한 개수를 의미함.

<보기>

- ㄱ. (나) 시기에 연구·개발 인력은 유럽보다 오세아니아에 많을 것이다.
- ㄴ. (다) 시기에 ○○ 자동차의 시장 규모는 라틴아메리카보다 앵글로아메리카가 클 것이다.
- ㄷ. 해외 생산 비율은 (가)보다 (다) 시기에 낮을 것이다.
- ㄹ. 아시아에서 ○○ 자동차의 제품 수요는 (나)보다 (다) 시기에 클 것이다.

- ① ㄱ, ㄴ ② ㄱ, ㄷ ③ ㄴ, ㄷ ④ ㄴ, ㄹ ⑤ ㄷ, ㄹ

※ 확인 사항

- 답안지의 해당란에 필요한 내용을 정확히 기입(표기)했는지 확인하십시오.