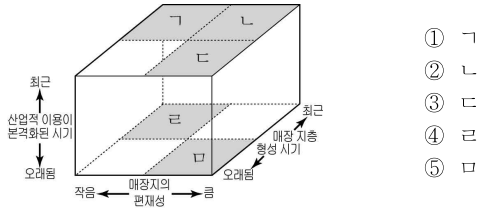
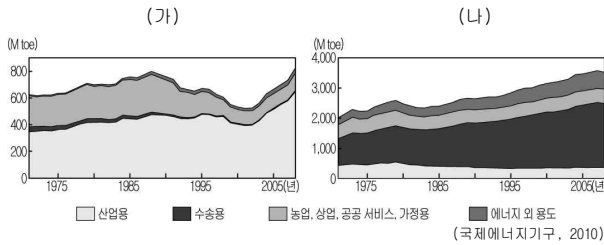


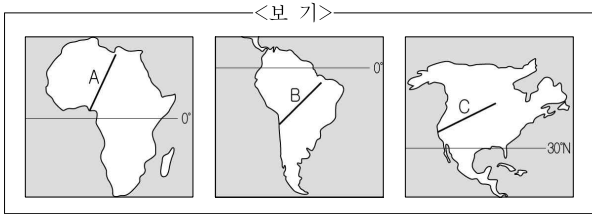
5. 그래프는 주요 화석 에너지의 용도별 소비량을 나타낸 것이다. (가)에 대한 (나)의 상대적 특징을 그림에서 고른 것은? [3점]



- ① 가
- ② 나
- ③ 다
- ④ 라
- ⑤ 모

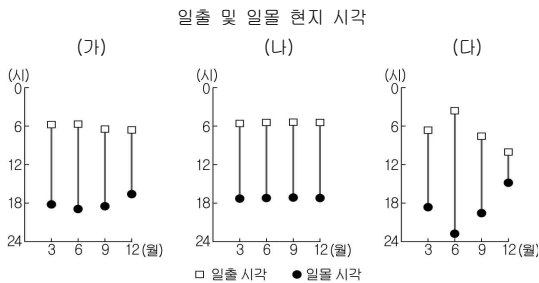
6. 자료와 같은 기후 특색이 나타나는 지역이 모두 포함된 경로를 <보기>에서 있는 대로 고른 것은? [3점]

- 뚜렷한 건기와 우기
- 연 강수량 500mm 미만
- 최한월 평균 기온 18°C 이상



- ① A ② A, B ③ A, C ④ B, C ⑤ A, B, C

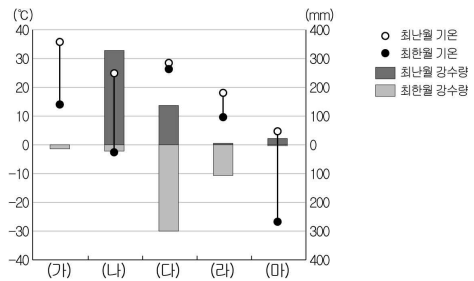
7. (가)~(다) 지역에 대한 옳은 설명을 <보기>에서 고른 것은? (단, 위도가 0°, 30°, 60°인 세 지역만을 고려함.) [3점]



- <보기>
- ㄱ. (가)는 열대수렴대에 위치하여 연중 강수가 고르다.
 - ㄴ. (가)는 남반구에, (다)는 북반구에 위치해 있다.
 - ㄷ. (나)는 (가)보다 계절별 기온 차이가 작다.
 - ㄹ. (다)는 (나)보다 고위도에 위치해 있다.

- ① ㄱ, ㄴ ② ㄱ, ㄷ ③ ㄴ, ㄷ ④ ㄴ, ㄹ ⑤ ㄷ, ㄹ

8. (가)~(마) 기후 지역의 농목업 특징으로 옳은 것은? [3점]



- ① (가)는 일사량이 많은 여름철에 포도, 올리브 등을 재배한다.
- ② (나)는 고온 다습한 여름 계절풍의 영향으로 벼를 재배한다.
- ③ (다)는 밀 재배와 가축 사육을 함께하는 혼합 농업이 이루어진다.
- ④ (라)는 불을 놓아 경지를 개간하고 비옥도가 떨어지면 이동한다.
- ⑤ (마)는 오아시스 주변에서 대추야자, 목화 등을 재배한다.

9. 자료와 같은 지형이 주로 분포하는 지역에 대한 설명으로 옳지 않은 것은?

슬로베니아 크라스(Kras) 지방에서는 지하 동굴, 지하 유로, 카렌펠트, 폴리에 등과 같은 독특한 지형을 볼 수 있다. 그래서 이곳의 지명을 지형 용어로 사용하게 되었다.

포스토이나 동굴

카렌펠트

- ① 물이 흐르지 않는 건천이 분포한다.
- ② 붉은 색 간대 토양이 주로 분포한다.
- ③ 기반암은 절리가 많은 석회암으로 이루어졌다.
- ④ 강수량이 적고 기계적 풍화 작용이 활발하다.
- ⑤ 용식 작용을 받은 웅덩이 모양의 지형이 나타난다.

10. 지형 맞히기 게임의 일부이다. (가)에 들어갈 내용으로 적절한 것은?

- 첫 번째 힌트 오래된 수평 지층이 널리 분포하는 곳에 형성됨
- 두 번째 힌트 급경사면과 완경사면이 비대칭 구조를 이룸
- 세 번째 힌트 파리, 런던, 대만정 분지 등에서 볼 수 있음
- 네 번째 힌트 _____ (가) _____ 형성됨

- ① 유동성이 큰 용암이 분출하여
- ② 포상 홍수에 의한 침식 작용으로
- ③ 암석의 경연 차에 따른 차별 침식을 받아
- ④ 대륙 빙하가 후퇴하면서 토사가 퇴적되어
- ⑤ 바람에 날린 모래가 암석의 하부를 침식하여

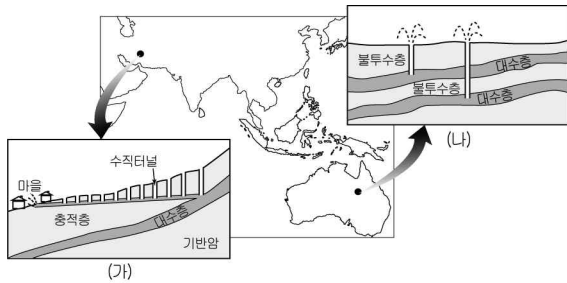
11. 자료의 A 자원에 대한 설명으로 옳은 것은?

A 자원 생산 상위 6개국			A 자원 가공 생산 상위 6개국		
(단위: 천MT)			(단위: 천MT)		
순위	국가명	생산량	순위	국가명	생산량
1	오스트레일리아	61,389	1	중국	13,200
2	중국	35,000	2	러시아	3,800
3	브라질	22,000	3	캐나다	3,120
4	인도	21,210	4	미국	2,658
5	기니	18,500	5	오스트레일리아	1,970
6	자메이카	14,000	6	브라질	1,660

(미국 지질 조사국, 2008)

- ① 반도체와 유리 공업의 원료로 이용된다.
- ② 전기 및 통신 산업의 발달로 수요가 급증하였다.
- ③ 각종 산업의 기초 소재로 '산업의 쌀'이라 불린다.
- ④ 귀금속의 원료이며 경도가 높아 공업용으로 사용된다.
- ⑤ 알루미늄의 원광으로 주로 열대 지역에 매장되어 있다.

12. 그림 (가), (나)는 물 자원의 이용 방법을 나타낸 것이다. 이에 대한 옳은 설명을 <보기>에서 고른 것은? [3점]

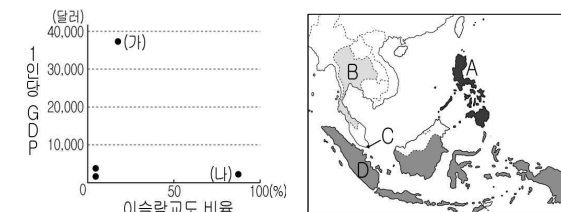


<보 기>

ㄱ. (가)로 인한 지반 침하 현상이 심각하다.
 ㄴ. (가)는 건조 지역에서 이용하는 방식이다.
 ㄷ. (나)에서 공급된 물은 주로 목축에 이용된다.
 ㄹ. (가)보다 (나)의 개발 시기가 더 빠르다.

- ① ㄱ, ㄴ ② ㄱ, ㄷ ③ ㄴ, ㄷ ④ ㄴ, ㄹ ⑤ ㄷ, ㄹ

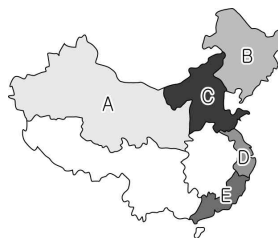
13. 그래프의 (가), (나)에 해당하는 국가를 지도에서 고른 것은? [3점]



- | | | | | | |
|---|-----|-----|---|-----|-----|
| | (가) | (나) | | (가) | (나) |
| ① | A | C | ② | B | C |
| ③ | B | D | ④ | C | D |
| ⑤ | D | A | | | |

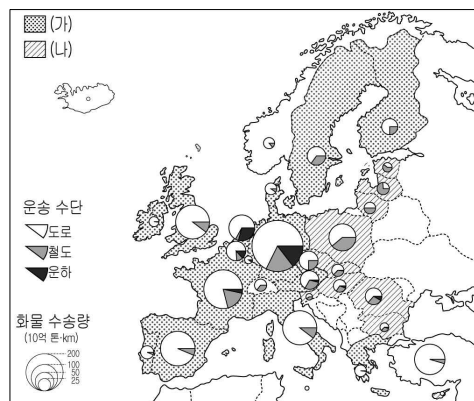
14. 자료는 중국 경제 지구별 투자 환경 안내문이다. (가), (나)에 해당하는 지역을 지도에서 고른 것은?

<p>(가)</p> <ul style="list-style-type: none"> ○ 최초의 경제 특구 신설 ○ 풍부한 시장 경제 경험 ○ IT 산업의 급속한 성장 - 인터넷, 이동 통신 사용자 중국 내 최대 ○ 활발한 대외 무역 ○ 고급 인력 확보 용이 	<p>(나)</p> <ul style="list-style-type: none"> ○ 면적에 비해 시장 규모 작음 ○ 소수 민족 거주 비율 높음 - 배타적 성향 ○ 용수 공급, 통신, 교통 등의 시설 여건 불리 ○ 풍부한 지하 자원 - 석유, 천연 가스, 석탄 등
---	---



- | | | |
|---|-----|-----|
| | (가) | (나) |
| ① | B | A |
| ② | C | B |
| ③ | D | C |
| ④ | D | E |
| ⑤ | E | A |

15. 지도는 유럽 지역 내 화물 수송량과 운송 수단별 비중을 나타낸 것이다. 이 자료에 대한 옳은 설명을 <보기>에서 고른 것은? [3점]



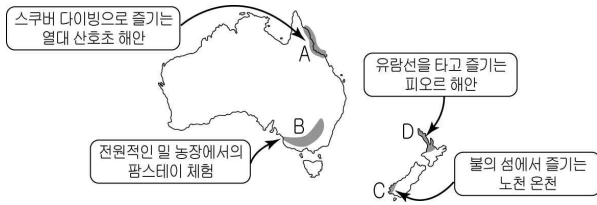
(국제연합환경계획, 2007)

<보 기>

ㄱ. (가) 국가들은 모두 도로의 수송 비중이 가장 높다.
 ㄴ. (나) 국가들은 유로화를 단일 통화로 사용하여 통합 경제권을 이루고 있다.
 ㄷ. (나) 국가들은 (가) 국가들보다 유럽연합 가입 시기가 늦으며 경제적 수준이 낮은 편이다.
 ㄹ. 화물 수송량이 가장 많은 국가는 운하를 이용한 수송 비중도 가장 높다.

- ① ㄱ, ㄴ ② ㄱ, ㄷ ③ ㄴ, ㄷ ④ ㄴ, ㄹ ⑤ ㄷ, ㄹ

16. A~D 지역의 관광 안내문 내용으로 적절한 것을 고른 것은?



- ① A, B ② A, C ③ B, C ④ B, D ⑤ C, D

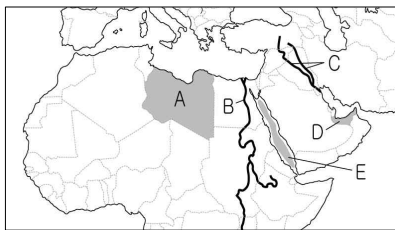
17. 교사의 질문에 대해 학생들이 대답한 내용으로 옳은 것은?

교사: 사진과 같은 경관을 볼 수 있는 A 지역에는 어떤 특징이 나타날까요?

갑: 겨울에는 백야 현상이 나타나요.
 을: 여름에는 지리류와 선태류로 이루어진 초원이 나타나요.
 병: 강수량보다 증발량이 많아 농경보다는 유목이 유리해요.
 정: 다각형 모양으로 자갈이 가지런하게 늘어서 있는 지표면을 볼 수 있어요.

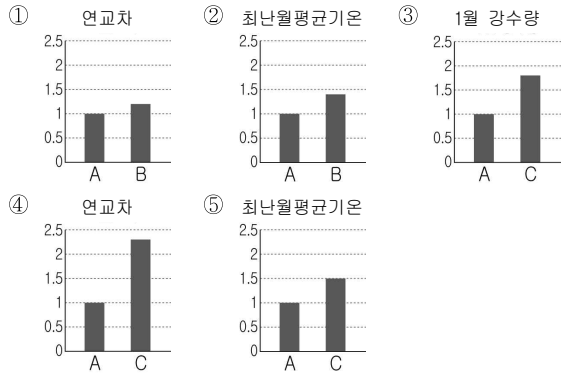
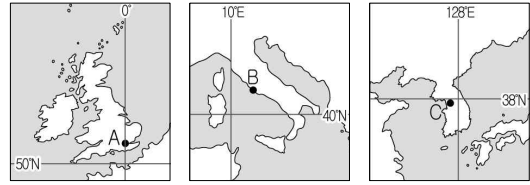
- ① 갑, 을 ② 갑, 병 ③ 을, 병 ④ 을, 정 ⑤ 병, 정

18. A~E 지역에 대한 설명으로 옳지 않은 것은? [3점]



- ① A 국가에서 내륙의 지하수를 해안으로 끌어들이는 수로 공사를 우리나라 기업이 담당하였다.
 ② B 하천의 댐 건설로 인해 고대 문화 유산이 훼손되었다.
 ③ C 하천은 상류 지역 국가의 공업화로 오염이 심화되어 유역 국가 간 분쟁이 일어나고 있다.
 ④ D 국가는 막대한 오일 달러로 발전을 이루었으며 최근 우리나라 기업이 원자력 발전소 건설을 추진하고 있다.
 ⑤ E 수역은 아시아와 유럽을 연결하는 주요 해상 수송로로 이용된다.

19. A~C 지역의 기후값을 비교한 그래프로 옳지 않은 것은? (단, 그래프의 값은 A의 값을 1로 했을 때의 값임.) [3점]



20. 그래프는 지도에 표시된 지역의 인종(민족) 구성을 나타낸 것이다. A, B에 대한 옳은 설명을 <보기>에서 고른 것은?



<보기>

- ㄱ. 최근 라틴아메리카로부터 유입이 활발하다.
 ㄴ. 면화 재배를 위해 강제 이주된 흑인의 후손이다.
 ㄷ. 몽골 인종으로 특별 보호 구역에 거주하고 있다.
 ㄹ. 개척 초기 유럽에서 종교의 자유를 찾아 이주하였다.

- ① A B ② A B
 ③ ㄱ ㄴ ④ ㄴ ㄷ
 ⑤ ㄹ ㄱ

* 확인 사항

○ 답안지의 해당란에 필요한 내용을 정확히 기입(표기)했는지 확인 하시오.