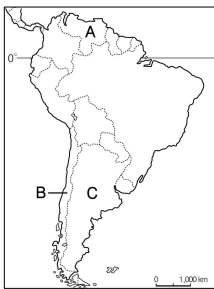
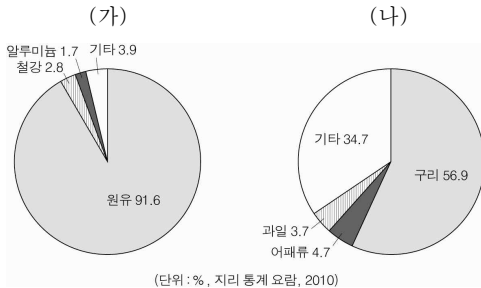


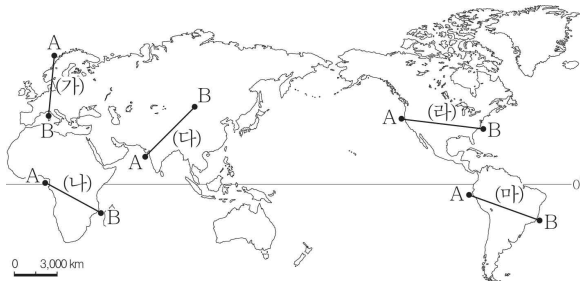

사회탐구 영역(세계 지리)

6. 그래프는 (가), (나) 국가의 주요 수출 품목 비중을 나타낸 것이다. 이에 해당되는 국가를 지도에서 고른 것은? [3점]



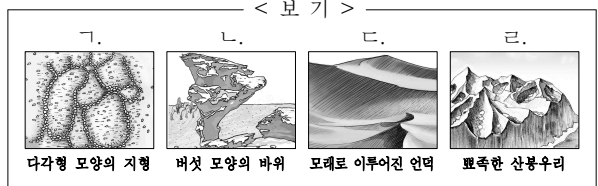
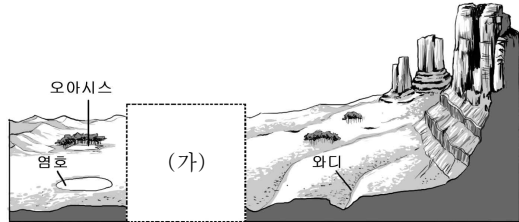
- | | (가) | (나) |
|---|-----|-----|
| ① | A | B |
| ② | A | C |
| ③ | B | A |
| ④ | B | C |
| ⑤ | C | A |

7. 자료는 '지형' 단원 수업 장면이다. 교사가 설명하는 구간을 지도의 (가)~(마)에서 고른 것은?



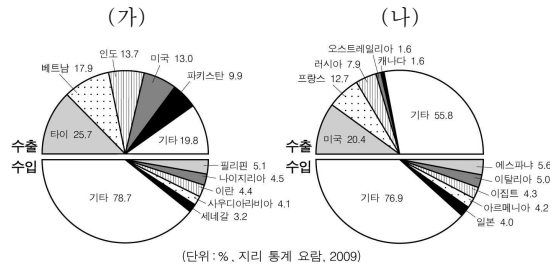
- ① (가) ② (나) ③ (다) ④ (라) ⑤ (마)

8. 그림은 어떤 지형의 모식도이다. (가)에 포함될 수 있는 적절한 지형을 <보기>에서 고른 것은? [3점]



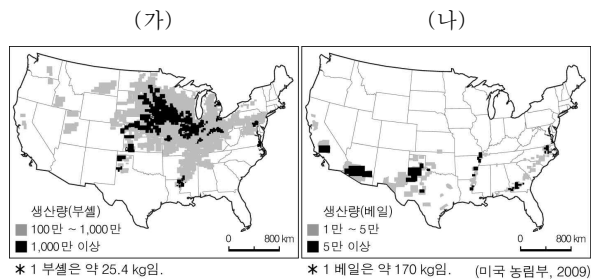
- ① 가, 나 ② 가, 다 ③ 나, 다 ④ 나, 르 ⑤ 다, 르

9. 그래프는 어떤 식량 작물의 수출·입 현황을 나타낸 것이다. (가), (나) 작물에 대한 설명으로 옳은 것은?



- ① (가)는 남아메리카가 원산지이다.
 ② (나)는 비옥한 충적지에서 주로 재배된다.
 ③ (가)는 (나)보다 기후에 대한 적응력이 크다.
 ④ (나)는 (가)보다 국제 이동량이 많다.
 ⑤ (가), (나) 모두 북반구보다 남반구에서 많이 생산된다.

10. 지도는 (가), (나) 농작물의 주요 생산 지역을 나타낸 것이다. 이에 대한 설명으로 옳은 것은? [3점]



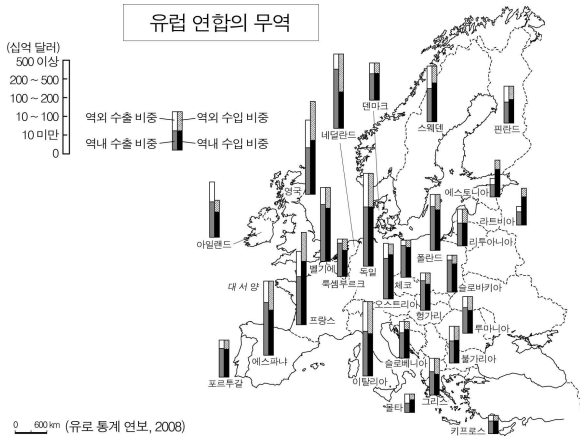
- ① (가)는 플랜테이션 작물이다.
 ② (가)는 대부분 가축 사료로 이용된다.
 ③ (나)는 내한성과 내건성이 강하다.
 ④ (나)는 기후 식품의 원료로 대부분 수출된다.
 ⑤ (나)는 상업적 혼합 농업 형태로 많이 재배된다.

사회탐구 영역(세계 지리)

세계 지리

11. 지도를 분석한 내용으로 옳은 것을 <보기>에서 고른 것은?

[3점]



< 보 기 >

- ㄱ. 영국과 프랑스는 무역 수지가 적자이다.
- ㄴ. 포르투갈은 폴란드보다 무역 규모가 크다.
- ㄷ. 네덜란드는 그리스보다 역내 수출액이 많다.
- ㄹ. 스웨덴은 역내 무역 비중이 역외 무역 비중보다 작다.

- ① ㄱ, ㄴ ② ㄱ, ㄷ ③ ㄴ, ㄷ ④ ㄴ, ㄹ ⑤ ㄷ, ㄹ

12. 자료는 어느 종교 지도자의 새해 인사말이다. (가), (나) 종교의 신자 비율이 가장 높은 국가를 지도에서 고른 것은?

(가)
은 누리에 부처님의 자비와
평화가 가득하기를 바랍니다.
새해 인사로 삼배를
올리겠습니다.

(나)
무슬림 형제 자매 여러분,
서로 새해 축하 인사를
나눔시다. 천상의 은총으로
여러분의 희망이 이루어
어질 것입니다.

- | | |
|---------|---------|
| (가) (나) | (가) (나) |
| ① A C | ② A D |
| ③ B A | ④ B C |
| ⑤ C D | |

13. 그림에서 설명하는 지역의 기후 자료로 적절한 것은? [3점]

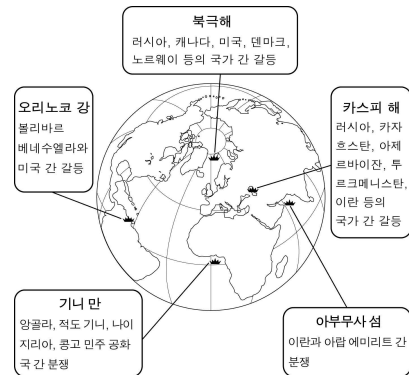
안전을 위해 지표면과 일정 간격을 유지하여 구조물을 건설함.

농업이 불가능하여 순록을 유목함.

수목의 성장이 불리하며, 짧은 여름철에 지의류와 선대류가 자람.

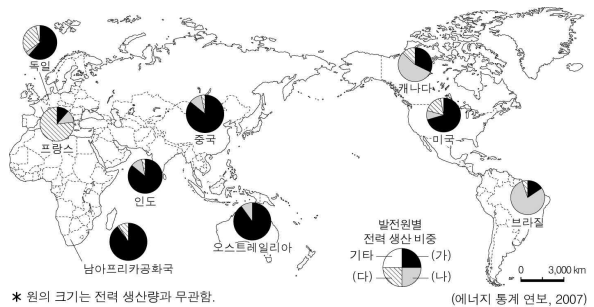
	최난월 평균기온(°C)	기온의 연교차(°C)	연 강수량(mm)
①	10.4	4.0	816.5
②	28.0	13.9	26.7
③	17.1	13.3	750.6
④	25.2	1.5	1,803.7
⑤	4.7	31.4	106.3

14. 지도에 표시된 지역에서 발생하는 갈등의 공통적인 원인으로 옳은 것은? [3점]



- ① 문화적 차이
- ② 수산 자원의 확보
- ③ 에너지 자원의 확보
- ④ 새로운 무역 항로의 개척
- ⑤ 오염 물질의 국가 간 이동

15. 지도는 주요 국가의 발전원별 전력 생산 비중을 나타낸 것이다. (가)~(다)에 해당되는 것은?



- | | | |
|-------------|-------------|-------------|
| (가) (나) (다) | (가) (나) (다) | (가) (나) (다) |
| ① 화력 수력 원자력 | ② 화력 원자력 수력 | |
| ③ 수력 화력 원자력 | ④ 원자력 수력 화력 | |
| ⑤ 원자력 화력 수력 | | |

사회탐구 영역(세계 지리)

16. 표는 대륙별 통계 자료이다. (가)~(다)에 들어갈 대륙으로 옳은 것은?

대륙	면적 (만 km ²)	나라 수	인구(백만 명)			기대 수명(2008)	
			1950	2008	2050*	남	여
(가)	3,200	47	1,402	4,092	5,266	67.3	71.2
유럽	2,302	45	547	732	664	70.6	78.9
(나)	3,032	53	221	987	1,998	51.9	53.9
오세아니아	852	14	13	34	49	72.8	78.0
(다)	1,961	2	172	342	445	75.9	81.1

* 2050년 인구는 추정치임. (지리 통계 요람, 2009)

- (가) (나) (다)
- ① 아시아 아프리카 북아메리카
 - ② 아시아 북아메리카 아프리카
 - ③ 아프리카 아시아 북아메리카
 - ④ 아프리카 북아메리카 아시아
 - ⑤ 북아메리카 아프리카 아시아

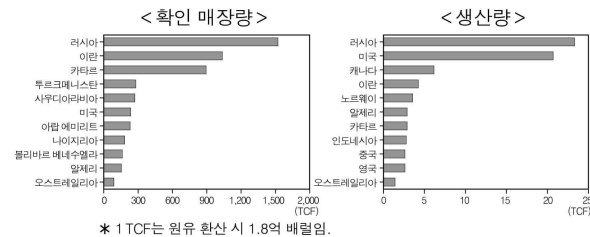
17. 자료는 아프리카의 어느 국가에 관한 정보이다. ㉠~㉣에 대한 옳은 설명을 <보기>에서 고른 것은? [3점]

4°N~4°S, 34°~41°E에 위치하고, ㉠45°E가 표준 경선인 이 나라는 ㉡마사이족·루오족 등 약 43개 부족으로 이루어져 있다. 또한 ㉢관목과 긴 풀로 이루어진 초원에서 뛰어노는 야생 동물이 장관을 이루는 국립공원이 있어 '사파리의 나라'라는 명성을 가지고 있기도 하다. ㉣이 나라를 관통하는 지구대는 오랜 기간 동안 주요 교통로 역할을 해왔다.

- < 보 기 >
- ㉠ - 세계 표준시(GMT)보다 3시간이 느리다.
 - ㉡ - 태양신을 숭배하는 잉카 문명을 발달시켰다.
 - ㉢ - 건기에는 아열대 고압대의 영향을 받는다.
 - ㉣ - 단층과 침강이 지금도 진행되고 있다.

- ① 가, 나 ② 가, 다 ③ 나, 다 ④ 나, 라 ⑤ 다, 라

18. 그래프는 어떤 에너지 자원의 현황을 나타낸 것이다. 이 자원에 대한 설명으로 옳은 것은?



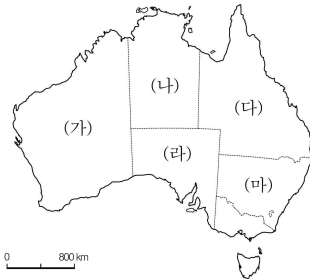
- ① 고생대 지층에 주로 매장되어 있다.
- ② 산업 혁명 이후 증기 기관의 연료로 사용되었다.
- ③ 세계 에너지 소비에서 차지하는 비중이 가장 크다.
- ④ 액화 저장 기술의 개발 이후 사용량이 급증하였다.
- ⑤ 에너지 자원 중 대기 오염 물질을 가장 많이 배출한다.

19. 자료의 '○○ 지역'을 지도에서 고른 것은?

[오스트레일리아의 ○○ 지역]

- 산맥이 남북으로 뻗어 있고, 해안에 대보초가 발달해 있다.
- 북동부는 열대 기후가 나타나고, 연강수량이 많다.
- 오스트레일리아 내 사탕수수 생산량의 약 70%를 차지한다.

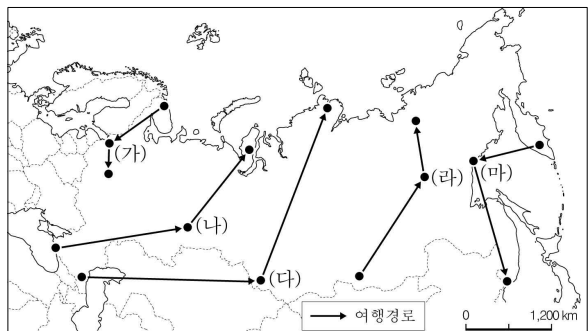
○○ 지역은 다음과 같은 특징이 있습니다.



- ① (가) ② (나) ③ (다) ④ (라) ⑤ (마)

20. 자료의 A→B→C 순서대로 여행했을 때, 그 경로로 옳은 것은? [3점]

A	B	C
<ul style="list-style-type: none"> ○ 러시아에서 겨울이 비교적 온화한 지역이며, 휴양지로 유명함. ○ 2014년 동계 올림픽 개최지로 선정되어 관련 시설들이 건설되고 있었음. 	<ul style="list-style-type: none"> ○ 광활한 침엽수림 지대 인근에 있는 제지·펄프 공장을 견학함. ○ 공업 원료를 싣고 시베리아 횡단 철도를 달리는 기차를 보았음. 	<ul style="list-style-type: none"> ○ 유목민을 만나 전통 생활 방식에 대한 이야기를 들음. ○ 자동차를 타고 얼어붙은 강 위를 달려 숙소로 들어옴.



- ① (가) ② (나) ③ (다) ④ (라) ⑤ (마)

※ 확인 사항

- 답안지의 해당란에 필요한 내용을 정확히 기입(표기)했는지 확인하십시오.