

5. 사회 계층화 현상을 바라보는 갑, 을의 관점에 대한 설명으로 옳은 것은?

갑: 사회의 중요한 자리에 유능한 인재를 충원하기 위해서는 사람들로 하여금 각종 손실이나 희생을 무릅쓰고 교육, 수련을 받을 수 있게 하는 모종의 장치가 필요해. 그것은 바로 그들이 획득하게 될 자리에 사회적 희소 가치를 많이 배정하는 것이지.

을: 너의 주장은 특권층이 자신들의 지위를 정당화하려는 구실에 지나지 않아. 그리고 교육, 수련 과정에서 겪는다는 손실이나 희생의 예로 흔히 드는 교육비의 경우에도 실제로 당사자가 아닌 부모가 부담하잖아.

- ① 갑은 미시적 관점에서 사회 계층화 현상을 설명한다.
- ② 갑은 차등 보상을 통한 성취 동기의 자극을 강조한다.
- ③ 을은 사회 계층화 현상의 보편성과 불가피성을 강조한다.
- ④ 을은 사회 계층화 현상을 사회 분화에 따른 합리적 결과라고 본다.
- ⑤ 갑에 비해 을은 세대 간 이동의 가능성을 높게 본다.

6. 갑~병의 자료 수집 방법에 대한 설명으로 옳은 것은? [3점]

고등학교생 갑, 을, 병은 지역 사회 공공 기관의 실태 연구를 위해 지역 주민 자치 센터를 연구 대상으로 결정했다. 갑은 주민 자치 센터의 기능과 변천사를, 을은 지역 주민들의 주민 자치 센터에 대한 인식을, 병은 주민 자치 센터 공무원의 의식과 태도를 조사하기로 하였다. 갑은 정부 간행물을 조사하였고, 을은 설문지를 배포하여 조사하였고, 병은 주민 자치 센터 공무원들을 인터뷰하여 조사하였다.

- ① 갑의 방법으로 수집한 자료는 1차 자료에 해당한다.
- ② 병과 달리 을의 방법에서는 연구자와 연구 대상자 간의 신뢰 형성이 중요하다.
- ③ 갑에 비해 병의 방법은 시간과 비용이 적게 든다.
- ④ 을에 비해 병의 방법은 조사자의 주관적 가치가 개입될 가능성이 크다.
- ⑤ 을의 방법은 질적 연구에, 병의 방법은 양적 연구에 주로 사용된다.

7. 밑줄 친 사회 보장 제도 ㉠, ㉡에 대한 설명으로 옳은 것은?

○ 갑은 3년간 다니던 회사에서 해고된 후 ㉠ 고용 보험 덕분에 실업 급여를 받으며 새로운 일자리를 찾고 있다.
○ 을은 ㉡ 기초 생활 보장 제도의 수혜 대상자로 선정되어 생계 급여와 주거 급여 등을 받아 생활하고 있다.

- ① ㉠은 강제 가입을 원칙으로 한다.
- ② ㉡은 수혜자 부담의 원칙이 적용된다.
- ③ ㉠에 비해 ㉡은 상호 부조의 성격이 강하다.
- ④ ㉠과 달리 ㉡은 사전 예방적 성격을 갖는다.
- ⑤ ㉡과 달리 ㉠은 소득 재분배 효과가 있다.

8. 그림에서 사회 변동을 바라보는 갑, 을의 관점에 대한 옳은 설명을 <보기>에서 고른 것은?

사회 변동에는 일정한 주기가 있어. 상승 국면이 끝나면 반드시 하강 국면을 맞게 되지.

사회가 변동한다는 것은 항상 이전보다 더 나은 사회로 변화해 나아가는 거야.



< 보기 >

- ㄱ. 갑은 인간의 의지로 사회 진보를 지속할 수 있다고 본다.
- ㄴ. 을은 서구 중심적 사고에 바탕을 두고 있다.
- ㄷ. 갑과 달리 을은 사회 변동에 대해 부정적 입장을 취하고 있다.
- ㄹ. 갑의 관점은 순환론에, 을의 관점은 진화론에 해당한다.

- ① ㄱ, ㄴ ② ㄱ, ㄷ ③ ㄴ, ㄷ ④ ㄴ, ㄹ ⑤ ㄷ, ㄹ

9. 밑줄 친 ㉠~㉣에 대한 옳은 설명을 <보기>에서 고른 것은? [3점]

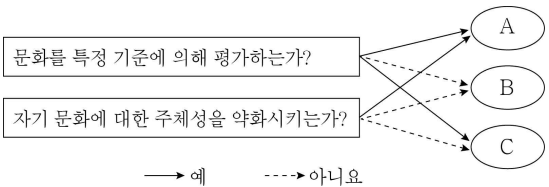
한 회사의 임직원들이 입사 전에 가입한 ㉠ 프로 야구 팬 클럽이나 지지하는 ㉡ 정당은 다를 수 있지만 서로 협력하며 업무를 수행한다. 하지만 ㉢ 야구 시합이나 선거와 같은 상황이 되면 ㉣ 다른 모습이 연출되기도 한다. 사람들은 자신이 좋아하는 프로 야구팀이나 정당에 강한 애착을 보이면서 집단 편향에 따라 행동하는 모습을 보이기도 한다.

< 보기 >

- ㄱ. ㉠은 자발적 결사체이며 비공식 조직이다.
- ㄴ. ㉡은 2차 집단이며 공식 조직이다.
- ㄷ. ㉢은 소속 집단과 준거 집단의 불일치로 인해 나타난다.
- ㄹ. ㉣은 ㉠의 구성원들의 내집단 의식을 강화시킨다.

- ① ㄱ, ㄴ ② ㄱ, ㄷ ③ ㄴ, ㄷ ④ ㄴ, ㄹ ⑤ ㄷ, ㄹ

10. 그림은 문화 이해의 태도를 나타낸 것이다. A~C에 대한 설명으로 옳은 것은? (단, A~C는 각각 자문화 중심주의, 문화 상대주의, 문화 상대주의 중 하나이다.)



- ① A는 문화의 다양성 보존에 기여한다.
- ② B는 문화의 다양성을 발전 수준의 차이로 인식한다.
- ③ C는 집단 내의 일체감과 자부심을 약화시킨다.
- ④ A와 달리 B는 환경과 맥락을 고려한 문화 이해를 강조한다.
- ⑤ C는 A에 비해 타문화 수용에 적극적이다.

11. 개인과 사회의 관계를 바라보는 갑, 을의 관점에 대한 설명이 옳은 것은?

사회자 : 명문 학교는 어떻게 만들어질까요?
 갑 : 훌륭한 인재가 모인 학교가 명문 학교입니다. 다양한 입학 전형을 통해 우수한 학생들을 선발하는 것이 중요합니다.
 을 : 전통과 학풍의 형성이 중요합니다. 좋은 전통과 학풍이 학생들을 우수한 인재로 만듭니다.

- ① 갑은 사회가 발전해야 개인도 발전한다고 본다.
- ② 을은 개인의 행동이 사회에 의해 구조화된다고 본다.
- ③ 을은 사회가 그 자체를 구성하고 있는 부분 요소로 환원될 수 있다고 본다.
- ④ 갑과 달리 을은 개인의 주체적·능동적 측면을 중시한다.
- ⑤ 갑, 을 모두 사회를 개인의 외부에 실재하는 것으로 본다.

12. 다음 두 사례에 대한 설명으로 옳은 것은? [3점]

- 갑은 남들처럼 부자가 되고 싶지만 배움도 없고 부모로부터 물려받은 재산도 없다. 가난에서 벗어나기 어려웠던 갑은 공사 현장에서 건축 자재를 빼돌려 팔았다.
- 을은 불량한 친구들과 어울리면서 친구들의 비행에 자주 가담하였다. 이후 을은 혼자서도 비행을 저지르고 친구들에게 자랑삼아 이야기하게 되었다.

- ① 갑의 일탈 행동은 문화적 목표와 제도적 수단 간의 괴리로 설명할 수 있다.
- ② 갑의 일탈 행동을 설명하는 데 유용한 말로 “까마귀 노는 곳에 백로야 가지 마라.”를 들 수 있다.
- ③ 을은 낙인으로 인해 부정적 자아가 형성되었다.
- ④ 을의 일탈 행동은 급속한 사회 변동으로 인한 규범의 부재로 설명할 수 있다.
- ⑤ 을과 달리 갑은 다른 사람과의 상호 작용 과정에서 일탈 행동을 학습하였다.

13. 밑줄 친 ㉠~㉣에 대한 옳은 설명을 <보기>에서 고른 것은? [3점]

집안의 ㉠장남인 갑은 대학 졸업 후 ㉡취업을 할지 창업할지 고민하였다. 갑은 창업을 결심하고 직접 메뉴를 개발하여 포장마차를 시작하였는데 기대 이상의 큰 성공을 거두었다. 이를 계기로 갑은 요식업에 본격적으로 뛰어들어 ㉢유명한 프랜차이즈 사업가가 되었다. 이후 갑은 ㉣공중과 TV 방송에도 출연하여 요리 연구가로 유명세를 타고 있다.

< 보 기 >

ㄱ. ㉡은 갑의 역할 갈등에 해당한다.
 ㄴ. ㉢은 비공식적 사회화 기관에 해당한다.
 ㄷ. ㉣은 ㉠으로서 갑의 역할 수행에 대한 보상이다.
 ㄹ. ㉠은 귀속 지위, ㉣은 성취 지위에 해당한다.

- ① ㄱ, ㄴ ② ㄱ, ㄷ ③ ㄴ, ㄷ ④ ㄴ, ㄹ ⑤ ㄷ, ㄹ

14. 표는 A국의 인구 부양비 변화를 나타낸 것이다. 이에 대한 분석으로 옳은 것은? [3점]

(단위 : %)

구분	1990년	2000년	2010년
유소년 부양비	40	33	20
노년 부양비	10	12	20

* 유소년 부양비(%) = $\frac{0 \sim 14\text{세 인구}}{15 \sim 64\text{세 인구}} \times 100$

** 노년 부양비(%) = $\frac{65\text{세 이상 인구}}{15 \sim 64\text{세 인구}} \times 100$

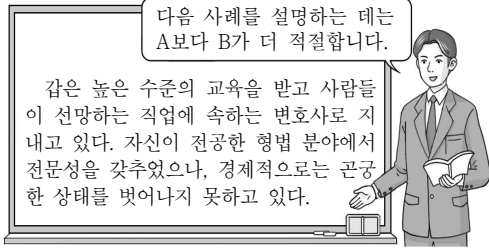
- ① 1990년에는 총인구 중 0~14세 인구나 65세 이상 인구가 차지하는 비율이 50%이다.
- ② 2000년에는 0~14세 인구 100명을 부양하는 데 15~64세 인구는 33명이 필요하다.
- ③ 0~14세 인구 대비 65세 이상 인구 비율은 1990년이 2010년보다 높다.
- ④ 총인구 중 15~64세 인구가 차지하는 비율은 2000년이 2010년보다 높다.
- ⑤ 총인구 중 65세 이상 인구가 차지하는 비율은 2010년이 1990년의 2배보다 크다.

15. 표는 문화의 속성과 그것이 부각된 사례이다. (가)~(다)에 기초한 진술로 옳지 않은 것은? (단, (가)~(다)는 각각 학습성, 공유성, 총체성 중 하나이다.) [3점]

속성	사례
(가)	베트남 사람들은 다른 사람의 집을 방문할 때 맨 발로 집에 들어가야 한다고 생각한다. 양말을 신으면 그 집이 불결하다는 의미로 이해되기 때문이다.
(나)	우리나라에서 주 5일 근무제가 정착되면서 직장인들의 회식 풍속, 대중의 취미 및 여가 생활 방식, 가족 구성원 간의 관계 등도 변화하였다.
(다)	우리나라에서는 어린 아이들이 4~5세가 될 때 짬 가정에서는 젓가락질을 집중적으로 연습시켜 아이들이 젓가락 사용에 익숙해지도록 가르친다.

- ① (가) - 구성원의 사고와 행동을 구속한다.
- ② (가) - 원활한 사회적 상호 작용의 토대가 된다.
- ③ (나) - 서로 다른 문화 체계를 구분하는 기준이 된다.
- ④ (나) - 부분들이 모여 전체로서 하나의 체계를 이룬다.
- ⑤ (다) - 사회적 행동 양식은 후천적으로 습득된다.

16 사회 계층화 현상을 설명하는 이론 A, B에 대한 진술로 옳은 것은? (단, A와 B는 각각 계급 이론과 계층 이론 중 하나이다.)



- ① A는 사회 계층 구조를 연속선상에 서열화 된 상태로 본다.
- ② A는 사회 계층화 현상을 다원론적 관점에서 접근한다.
- ③ B는 내부 구성원 간의 강한 귀속 의식을 강조한다.
- ④ A와 달리 B는 정치적 불평등이 경제적 불평등에 종속된다고 본다.
- ⑤ A와 B는 모두 사회 계층화 현상을 경제적 요인과 관련지어 파악한다.

17 표는 대중 매체 A~C의 특징을 비교한 것이다. 이에 대한 설명으로 옳은 것은? (단, A~C는 각각 SNS, 공중파 TV, 인쇄매체 중 하나이다.)

구분	A	B	C
정보 전달의 신속성	++	+++	+
정보 전달의 양방향성	+	+++	+
심층 분석적인 정보 전달의 용이성	++	+	+++

- *+의 개수가 많을수록 강함 내지 높음을 나타냄.
- ① B와 달리 A는 시청각 정보의 전달이 가능하다.
 - ② A는 C에 비해 수용자별 정보 획득의 동시성이 낮다.
 - ③ B는 C에 비해 정보의 복제와 재가공이 쉽다.
 - ④ C는 B에 비해 정보 확산의 시공간적 제약이 적다.
 - ⑤ B는 A, C에 비해 정보 수용자와 생산자의 구분이 명확하다.

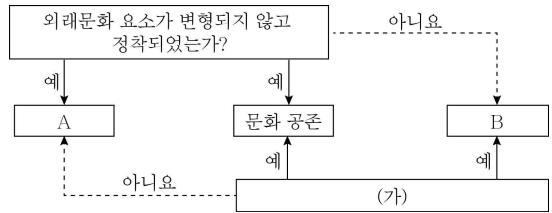
18 밑줄 친 ㉠~㉣에 대한 옳은 설명만을 <보기>에서 있는 대로 고른 것은?

㉠ 초장기 록(Rock) 음악은 미국 젊은이들의 전유물이었다. 젊은이들은 ㉡ 기성세대의 물질주의와 전통적 가치관에 저항하는 록 음악을 만들어 불렀다. 록 음악 공연 중 젊은이들은 춤추며 소리를 질렀고, 당시의 ㉢ 기성세대들은 이러한 젊은이들의 행동을 이해할 수 없었다. 그러나 대중 매체를 통해 상업적으로 성공하면서 ㉣ 록 음악은 점차 대중음악의 한 장르로 자리 잡게 되었다.

< 보 기 >
 가. ㉠은 미국 사회의 하위 문화였다.
 나. ㉡은 문화 지체 현상에 해당한다.
 다. ㉢은 대중 매체를 통한 문화의 획일화를 보여주는 사례이다.
 라. ㉣은 ㉠의 반문화적 성격을 보여준다.

- ① 가, 나 ② 가, 라 ③ 다, 라
- ④ 가, 나, 다 ⑤ 나, 다, 라

19 그림은 문화 접변의 결과를 도식화한 것이다. 이에 대한 옳은 설명만을 <보기>에서 있는 대로 고른 것은? (단, A와 B는 각각 문화 융합, 문화 동화 중 하나이다.) [3점]



< 보 기 >
 가. A는 기존의 문화가 외래문화에 흡수되어 나타난 결과이다.
 나. A와 달리 B는 문화 다양성의 유지에 기여한다.
 다. A와 B는 모두 구성원의 자발성에 기초한 문화 접변의 결과이다.
 라. (가)에는 “자기 문화의 정체성을 상실하였는가?”가 들어갈 수 있다.

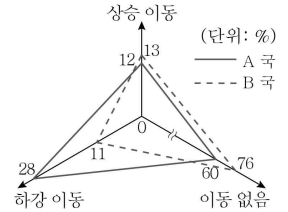
- ① 가, 나 ② 가, 라 ③ 나, 다
- ④ 가, 다, 라 ⑤ 나, 다, 라

20 (가), (나)를 토대로 한 A, B국의 자녀 세대에 대한 분석으로 옳지 않은 것은? [3점]

(가) 자녀 세대의 계층 구성 현황 (나) 자녀 세대의 세대 간 이동 현황

(단위: %)

구분	A 국	B 국
상층 비율 + 하층 비율	50	70
중층 비율 + 하층 비율	70	80



* 자녀 세대 인구수는 A국이 B국의 2배임.

- ① A국 상층 중 부모 세대와 계층이 일치하는 사람의 비율은 40% 이하이다.
- ② B국 중층 중 세대 간 이동을 경험한 사람의 비율은 80% 이하이다.
- ③ 하층 인구수는 B국이 A국보다 많다.
- ④ 계층 구조는 A국이 B국보다 사회 안정에 유리하다.
- ⑤ 부모 세대와 계층이 일치하는 사람의 수는 A국이 B국보다 많다.

※ 확인 사항
 ○ 답안지의 해당란에 필요한 내용을 정확히 기입(표기)했는지 확인하십시오.