
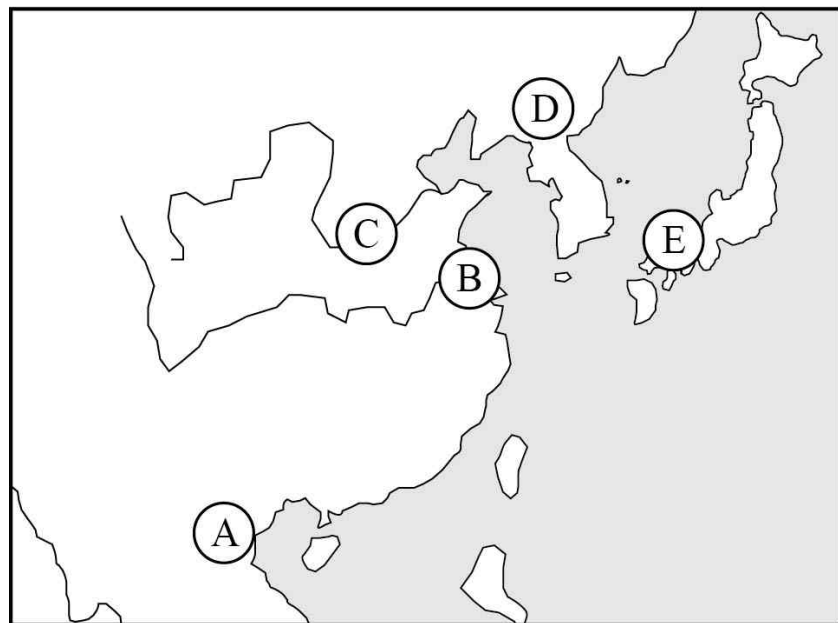


제 4 교시

사회탐구 영역 (동아시아사)

1. (가) 지역을 지도에서 옳게 고른 것은?

지식검색 :
Q (가) 지역의 청동기 문화에 대해 알려 주세요.
A 이 지역의 청동기 문화는 상 왕조에서 본격적으로 꽃피었습니다. 대표적인 유물로는 청동 제기가 있으며, 크기와 용도가 다양한 술, 술잔, 그릇 등이 만들어졌습니다.

- ① A ② B ③ C ④ D ⑤ E

2. 밑줄 친 부분을 탐구하기 위한 활동으로 가장 적절한 것은?

일본에서는 다이카 개신 이후 8세기 초반에 이르러 천황을 중심으로 한 국가 권력이 확립되었다. 이를 제도적으로 뒷받침한 것은 율령에 의한 통치 체제였다. 당으로부터 받아들인 통치 체제는 일본의 실정에 맞게 변형되어 발전하였다.

- ① 2관 8성제를 마련한 과정을 알아본다.
 ② 독서삼품과를 실시한 배경을 분석한다.
 ③ 중서 문하성이 설치된 배경을 조사한다.
 ④ 도병마사와 식목도감을 설치한 목적을 살펴본다.
 ⑤ 유교의 덕목을 6부 명칭에 사용한 이유를 확인한다.

3. 다음은 어느 인물 평전의 차례이다. (가)~(라)에 포함될 내용으로 옳은 것을 <보기>에서 고른 것은? [3점]

차 례

- 태양을 품고 황제가 되다.
- 동중서의 건의를 수용하다. (가)
- 재정 위기를 극복하다. (나)
- 이민족을 침략하여 영토를 확장하다. (다)
- 정치를 개혁하여 중앙 집권을 강화하다. (라)

— <보 기> —

ㄱ. (가) - 태학을 설립하고 오경 박사를 두었다.
 ㄴ. (나) - 일조편법을 전국적으로 시행하였다.
 ㄷ. (다) - 남비엣(남월)을 멸망시키고 9군을 설치하였다.
 ㄹ. (라) - 중앙에 3성 6부, 지방에 주와 현을 설치하였다.

- ① ㄱ, ㄴ ② ㄱ, ㄷ ③ ㄴ, ㄷ ④ ㄴ, ㄹ ⑤ ㄷ, ㄹ

4. (가) 왕조 시기에 나타난 동아시아의 경제 상황으로 옳은 것은?

제○○호 역 사 신 문 ○○○○년 ○월 ○일

국제 무역과 화폐 유통이 활발해지다

(가) 은/는 명저우를 비롯한 항구에 시박사를 설치하여 무역을 진흥하였다. 특히 징더전에서 생산된 도자기는 취안저우를 통해 고려와 일본, 동남아시아에 수출되었다.

또한 상업이 발전함에 따라 화폐가 광범위하게 유통되어 연호를 바꿀 때마다 다량의 화폐를 주조하였다. 상거래가 활성화되면서 무거운 동전으로 인한 불편을 해소하기 위해 교자, 회자 등의 지폐를 발행하기도 하였다.

- ① 중국 - 은의 길을 통해 일본의 은이 유입되었다.
 ② 일본 - 중국으로부터 많은 양의 동전을 수입하였다.
 ③ 일본 - 막부가 슈인장을 발급하여 교역을 통제하였다.
 ④ 한국 - 3포를 개항하고 무역선의 수를 제한하였다.
 ⑤ 한국 - 대동법이 시행되어 세금을 동전으로 납부하였다.

5. (가)에 들어갈 내용으로 옳은 것을 <보기>에서 고른 것은?

명은 농촌의 안정을 중시하여 상품 생산과 화폐 유통을 제한하고, 그와 동시에 민간인이 국외로 건너가 무역하는 것을 금지한 해금 정책을 단행하였다. 그래서 해외 교역은 명 황제로부터 책봉된 나라들의 공식 사절을 통한 조공 형식으로만 이루어졌다. 이러한 상황에서 [가]

- <보 기>
- ㄱ. 조선은 연행사를 파견하였다.
 - ㄴ. 일본은 쇄국 정책을 실시하였다.
 - ㄷ. 류큐는 중계 무역으로 번성하였다.
 - ㄹ. 명은 무역 허가증인 감합을 발급하였다.

- ① ㄱ, ㄴ ② ㄱ, ㄷ ③ ㄴ, ㄷ ④ ㄴ, ㄹ ⑤ ㄷ, ㄹ

6. 다음 학술 발표회의 발표 주제로 적절하지 않은 것은?

동아시아사학회 하계 학술 발표회

주제: 동아시아의 불교 문화

- 제1발표: 동아시아 불교의 교류와 소통
 - 불교 종파의 발전
 - 승려들의 국제적 활동
- 제2발표: 동아시아 불교 문화의 공통성
 - 문묘의 설립 (가)
 - 화장(火葬) 문화의 보급 (나)
- 제3발표: 동아시아 불교 문화의 지역별 특수성
 - 중국: 전탑의 유행 (다)
 - 한국: 산신, 용신 등 전통 신앙과의 융합 (라)
 - 일본: 신불습합 사상의 발전 (마)

- ① (가) ② (나) ③ (다) ④ (라) ⑤ (마)

7. 밑줄 친 '이 도시'에 대한 설명으로 옳은 것은? [3점]

가장 큰 조카마치였던 이 도시는 막부의 관료 외에도 산킨 고타이를 위한 다이묘와 그 가족들, 그리고 그들에게 물품을 조달하는 조닌들이 모여들면서 나날이 번창하였다. 18세기 전반에 인구는 100만 명을 넘었는데, 비슷한 시기 유럽의 중심 도시였던 런던과 파리의 인구가 50만 명 정도였다는 사실과 비교하면 도시 규모를 짐작할 수 있다.

- ① 네덜란드 상관이 설치된 곳이다.
- ② 일본 최초의 일간지가 발행된 곳이다.
- ③ 미·일 화친 조약에 의해 개항된 곳이다.
- ④ 도쿠가와 이에야스가 막부를 수립한 곳이다.
- ⑤ 제2차 세계 대전 때 원자폭탄이 투하된 곳이다.

8. (가)~(마)에 포함될 내용으로 옳지 않은 것은? [3점]

특집 다큐멘터리

바람의 제국을 가다

- 제1부: 말 위에서 태어나고 죽다, 흉노 (가)
- 제2부: 초원의 늑대, 대륙을 품다, 북위 (나)
- 제3부: 정복과 관용의 두 얼굴, 요 (다)
- 제4부: 칸의 제국, 팍스 몽골리카, 원 (라)
- 제5부: 북방의 후예, 중원을 장악하다, 청 (마)

- ① (가) - 최고 통치자를 선우라고 하였다.
- ② (나) - 균전제를 실시하였다.
- ③ (다) - 맹안·모극제를 실시하였다.
- ④ (라) - 색목인을 재정 관료로 등용하였다.
- ⑤ (마) - 한족에게 변발을 강요하였다.

9. (가), (나)에 대한 설명으로 옳은 것은?

위·진 남북조 시대부터 수·당 시대까지는 대체로 문벌 귀족이 사회의 지배층이었다. 이들은 혈연 관계를 토대로 자신들의 세습적인 지위를 유지했다. 송 대의 지배층인 [가]은/는 문학적 소양을 갖추고 과거 제도를 통해 관료가 된 사람들이었다. 명·청 시대의 지배층인 [나]은/는 학위 소지자 및 전·현직 관리들이었다.

- ① (가) - 안·사의 난을 계기로 몰락하였다.
- ② (가) - 봉건제에 의해 토지를 지급받았다.
- ③ (나) - 분서갱유의 탄압을 받았다.
- ④ (나) - 지방 사회의 유력자로 요역을 면제받았다.
- ⑤ (가), (나) - 변방을 다스리던 최고 사령관이었다.

10. 다음 사상에 대한 설명으로 옳은 것은?

내가 말하는 치지격물(致知格物)은 내 마음의 양지(良知)를 사물에 이르게 하는 것이다. 내 마음의 양지는 천리(天理)이다. 내 마음의 양지의 천리를 사물에 이르게 하면 사물이 모두 그 이치를 얻게 된다. 결국 나의 입장은 심(心)과 이(理)를 합쳐 하나로 하는 것에 불과하다.

-『전습록』-

- ① 지행합일의 구체적인 실천을 중시하였다.
- ② 고려 말 신진 사대부의 사상적 기반이 되었다.
- ③ 명·청 대를 거치며 관학의 지위를 유지하였다.
- ④ 레 왕조에서는 성종이 보급을 위해 노력하였다.
- ⑤ 일본에서는 후지와라 세이카에 의해 이론적으로 심화되었다.

11. (가), (나) 사이의 시기에 일어난 사실로 옳지 않은 것은? [3점]

(가) 일본이 아산만 앞바다에 주둔하던 청 군대를 습격함으로써 전쟁이 발발하였다.

(나) 일본과 러시아는 미국 루스벨트 대통령의 중재를 받아들여 미국 포츠머스에서 강화 조약을 조인하였다.

- ① 청은 공행을 폐지하였다.
- ② 일본은 경부선을 완공하였다.
- ③ 조선은 국외 중립을 선언하였다.
- ④ 러시아는 삼국 간섭을 주도하였다.
- ⑤ 미국은 일본의 한반도 지배를 인정하였다.

12. (가)에 들어갈 내용으로 옳은 것을 <보기>에서 고른 것은? [3점]

학습 주제: 17세기 이후 동아시아의 인구 증가



<보 기>

ㄱ. 소농 경영이 시작되었기 때문이야.

ㄴ. 점성도(조생종 벼)가 전래되었기 때문이야.

ㄷ. 양쯔 강 상류 지역이 개발되었기 때문이야.

ㄹ. 옥수수, 감자 등의 구황 작물이 재배되었기 때문이야.

- ① ㄱ, ㄴ ② ㄱ, ㄷ ③ ㄴ, ㄷ ④ ㄴ, ㄹ ⑤ ㄷ, ㄹ


13. 다음 선언문을 발표하게 된 배경으로 옳은 것은?

칭다오를 돌려주고 중국과 일본 사이의 밀약 및 군사 협정뿐만 아니라 기타 불평등 조약까지 취소하는 것이 바로 공리이고 정의입니다. 공리를 어기고 강권을 강요하여 우리의 토지를 다섯 나라가 공동 관리하여 우리를 독일이나 오스트리아와 같은 패전국 대열로 치부하는 것은 공리가 아니며 정의도 아닙니다. ... (중략) ... 산둥이 망하면 중국도 망합니다.

-베이징 학생계 선언-

- ① 일본군이 난징에서 대학살을 자행하였다.
- ② 일본이 만주사변을 일으켜 만주국을 수립하였다.
- ③ 소련의 지원 아래 제1차 국·공 합작이 이루어졌다.
- ④ 미국 등 9개국이 참가한 워싱턴 회의가 개최되었다.
- ⑤ 파리 강화 회의에서 열강은 일본의 권익을 인정하였다.

14. 교사의 질문에 대한 학생의 답변으로 옳은 것을 <보기>에서 고른 것은?



<보 기>

ㄱ. 갑 - 청은 천계령을 선포하였어요.

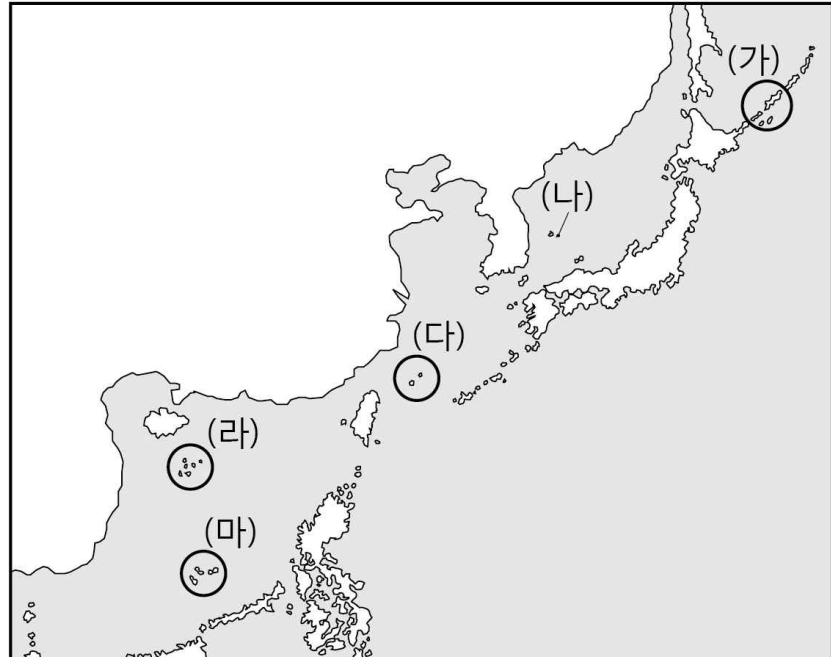
ㄴ. 을 - 청에서는 삼변의 난이 일어났어요.

ㄷ. 병 - 조선은 청과 군신 관계를 맺었어요.

ㄹ. 정 - 조선에서는 북벌론이 대두되었어요.

- ① ㄱ, ㄴ ② ㄱ, ㄷ ③ ㄴ, ㄷ ④ ㄴ, ㄹ ⑤ ㄷ, ㄹ

15. (가) ~ (마) 지역에 대한 설명으로 옳은 것은? [3점]



- ① (가) - 제2차 세계 대전 후 일본이 지배하고 있다.
- ② (나) - 일본이 부당하게 영유권을 주장하고 있다.
- ③ (다) - 영유권을 두고 중국과 베트남이 무력 충돌하였다.
- ④ (라) - 중국과 일본이 각기 영유권을 주장하고 있다.
- ⑤ (마) - 청·일 전쟁의 결과 일본의 영토로 편입되었다.

16. 밑줄 친 '개혁'의 공통점으로 옳은 것은?

- 메이지 천황은 5개조의 서문을 국시로 반포하고 개혁에 착수하였다.
- 이홍장, 중국번 등은 태평천국 운동을 진압하고, 부국강병을 목표로 개혁에 착수하였다.
- 고종은 외교와 군사, 산업, 병기 제조, 외국어 교육 등을 담당하는 통리기무아문을 설치하여 개혁에 착수하였다.

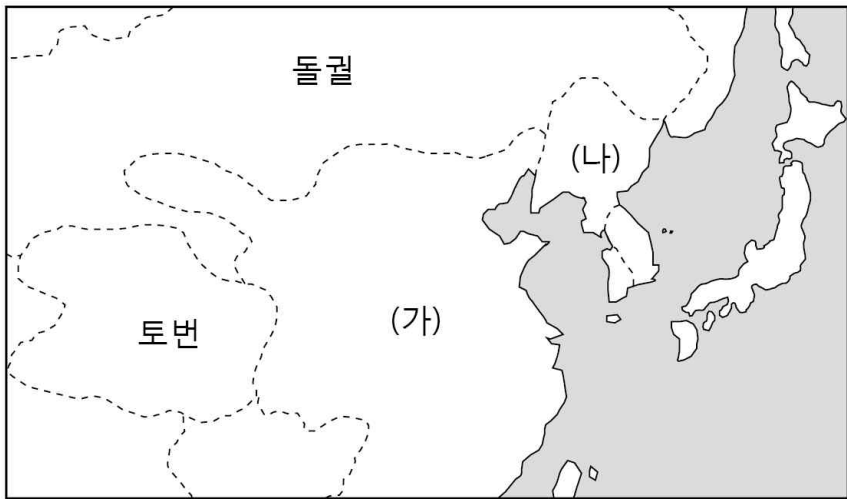
- ① 신분제를 폐지하였다.
- ② 토지 제도를 개혁하였다.
- ③ 내각제 실시를 표명하였다.
- ④ 보수파의 반대로 실패하였다.
- ⑤ 서양 과학 기술의 도입을 추진하였다.

17. (가), (나) 인물에 대한 설명으로 옳지 않은 것은? [3점]

(가)	(나)
◦ 1887년 출생	◦ 1890년 출생
◦ 1926년 국민 혁명군 총사령관 취임	◦ 1925년 베트남 청년 혁명 동지회 결성
◦ 1936년 시안에서 장쉐량에 의해 감금당함	◦ 1930년 베트남 공산당 결성
◦ 1949년 타이완 총통 취임	◦ 1941년 베트남 독립 동맹(베트민) 결성
◦ 1975년 사망	◦ 1969년 사망

- ① (가) - 문화 대혁명을 주도하였다.
- ② (가) - 북벌을 추진하여 중국을 통일하였다.
- ③ (나) - 남베트남 민족 해방 전선을 지원하였다.
- ④ (나) - 베트남 민주 공화국의 독립을 선언하였다.
- ⑤ (가), (나) - 좌우 합작을 추진하였다.

18. (가), (나) 국가에 대한 설명으로 옳은 것은? [3점]



<(가) 국가 초기의 형세>

- ① (가)는 두 차례 일본 원정을 단행하였다.
- ② (나)는 연운 16주를 획득하였다.
- ③ (가)는 신라와 연합하여 (나)를 침략하였다.
- ④ (가)는 (나)의 침입에 대비해 만리장성을 축조하였다.
- ⑤ (나)는 건국 초기에 (가)의 산둥 반도를 공격하였다.

19. (가), (나) 운동에 대한 설명으로 옳은 것을 <보기>에서 고른 것은? [3점]

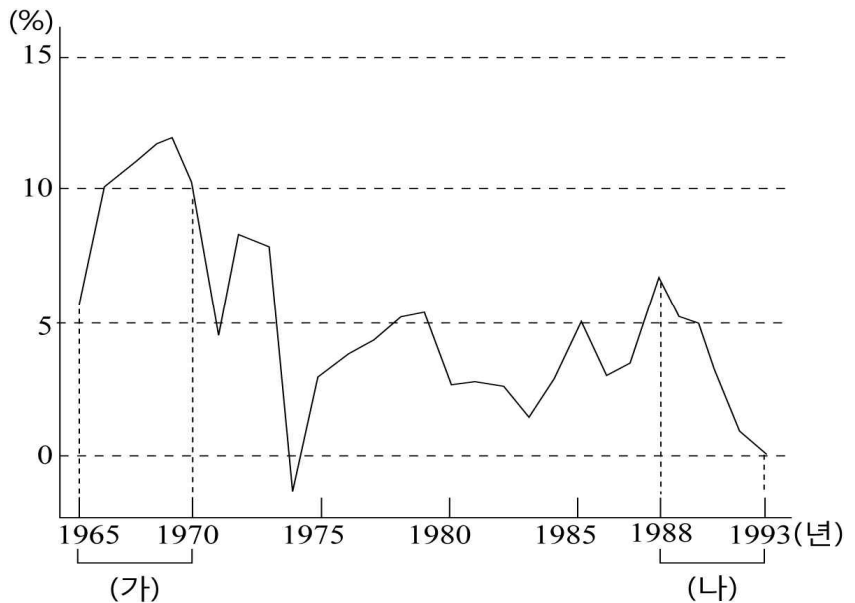
(가) 1989년 베이징 대학교 학생들은 톈안먼 광장에서 공산당 독재 타도와 민주화를 요구하였다. 이에 일반 시민이 가세하여 5·4 운동 기념일에는 전국 각지에서 시위가 연달아 일어났다.

(나) 1987년 전두환 정부의 권위주의적 통치에 반발하여 시위가 일어났다. 언론 통제와 억압에도 불구하고 각계각층에서는 정부를 규탄하는 성명을 발표하였으며, 6월 10일 호헌 철폐 국민 대회를 열었다.

- <보 기>
- ㄱ. (가) - 학생들을 중심으로 홍위병이 조직되었다.
 - ㄴ. (가) - 후 야오방 총서기의 사망이 도화선이 되었다.
 - ㄷ. (나) - 5·18 민주화 운동으로 이어졌다.
 - ㄹ. (나) - 대통령 직선제를 실시하는 계기가 되었다.

- ① ㄱ, ㄴ ② ㄱ, ㄷ ③ ㄴ, ㄷ ④ ㄴ, ㄹ ⑤ ㄷ, ㄹ

20. (가), (나) 시기 일본의 경제 상황으로 옳은 것을 <보기>에서 고른 것은? [3점]



<일본의 경제 성장을 추이>

- <보 기>
- ㄱ. (가) - 신자유주의 정책이 도입되었다.
 - ㄴ. (가) - 베트남 전쟁 특수로 고도성장하였다.
 - ㄷ. (나) - 제2차 석유 파동을 겪었다.
 - ㄹ. (나) - 주가와 부동산의 가격이 폭락하였다.

- ① ㄱ, ㄴ ② ㄱ, ㄷ ③ ㄴ, ㄷ ④ ㄴ, ㄹ ⑤ ㄷ, ㄹ

※ 확인 사항
 답안지의 해당란에 필요한 내용을 정확히 기입(표기)했는지 확인하십시오.