

6. 밑줄 친 '이 혁명'에 대한 설명으로 옳은 것은?

초 청 장

동아시아 사학회에서는 '동아시아 역사 속의 혁명'을 주제로 국제 학술 대회를 개최하고자 합니다. 이번에는 우창 봉기를 시작으로 전개되어 청을 무너뜨리는 계기가 되었던 이 혁명을 동아시아의 관점에서 논의하고자 하오니 참석해 주시기 바랍니다.

- 일시: 2014년 4월 △일 △시
- 장소: ○○ 대학교 대강당
- 발표 내용
 - 반만(反滿) 민족주의
 - 베트남 광복회에 끼친 영향
 - 외몽골의 독립 선언에 끼친 영향

- ① 조선의 갑신정변에 영향을 주었다.
- ② 베트남의 동유 운동을 촉발하였다.
- ③ 일본의 21개조 요구 철폐를 주장하였다.
- ④ 민족 자결주의의 영향을 받아 시작되었다.
- ⑤ 중국에서 공화정체의 국가가 수립되는 계기가 되었다.

7. 다음은 16~17세기 동아시아의 은 유통 과정을 정리한 것이다. 이 시기에 나타난 경제 상황으로 옳지 않은 것은? [3점]

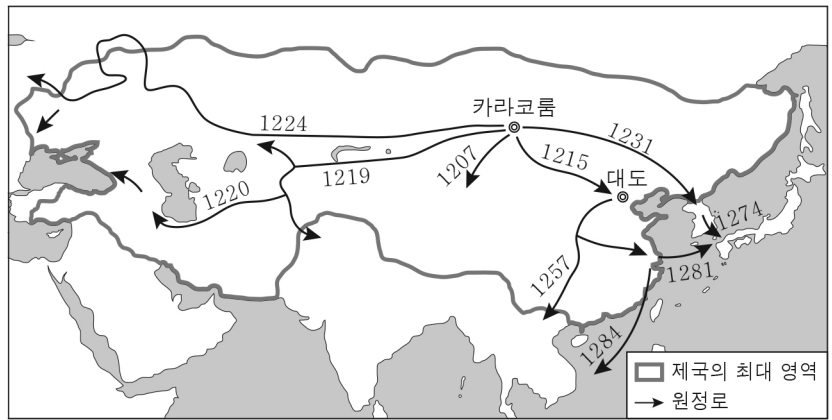
◎ 주 제: 동아시아 은 유통망 확대

1. 배경 - 중국에서 은의 가치 급등
 - 무역 결제 수단으로 은 사용
 - 유럽에서 중국의 차, 도자기 등에 대한 수요 증가

2. 16~17세기 은의 이동 경로

- ① 중국에서는 외국 은에 대한 의존도가 높아졌다.
- ② 동아시아 교역망이 은을 매개로 하여 세계로 연결되었다.
- ③ 중국에서는 은이 유통 수단으로 보편화되면서 일조편법이 시행되었다.
- ④ 일본에서는 조선으로부터 회취법이 도입되어 은 생산량이 증가하였다.
- ⑤ 영국은 은이 부족한 상황을 타개하고자 인도산 아편을 중국에 수출하였다.

8. 지도는 어떤 제국의 정복 과정을 나타낸 것이다. 이 과정에서 일어난 동아시아 각국의 대응으로 옳은 것을 <보기>에서 고른 것은? [3점]

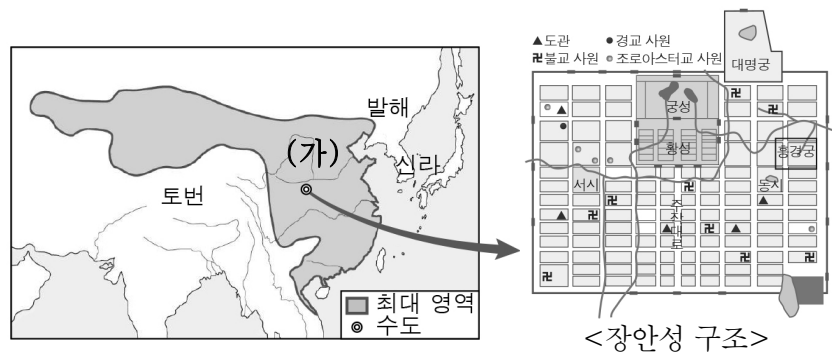


< 보 기 >

㉠. 고려는 항전을 위해 강화도로 수도를 옮겼다.
 ㉡. 송은 연운 16주의 회복을 위해 금과 연합하였다.
 ㉢. 대월의 전흥다오는 바익당 강 전투에서 이들을 물리쳤다.
 ㉣. 일본은 군대를 파견하여 백강 입구에서 전투를 벌였다.

- ① ㉠, ㉡ ② ㉠, ㉢ ③ ㉡, ㉣
- ④ ㉡, ㉣ ⑤ ㉢, ㉣

9. (가) 왕조에 대한 설명으로 옳은 것은?



- ① 호라즘을 정복하였다.
- ② 사교전서를 편찬하였다.
- ③ 과거제에 전시를 도입하였다.
- ④ 조·용·조의 조세 제도를 실시하였다.
- ⑤ 남북조를 통일하고 대운하를 건설하였다.

10. (가)에 해당하는 국가에 대한 설명으로 옳은 것은?

하늘이 세워 준 **[가]**의 대선우가 삼가 한나라의 황제에게 무고하신이 안부를 묻소. 예전에 귀국과 화친을 맺었으나 귀국의 관리가 침범해 왔고, 우현왕도 나의 허락 없이 이에 맞서 싸웠소. 그래서 나는 화친의 약속을 깨뜨린 우현왕에게 그 벌로 서쪽의 월지를 치게 했소. 이제는 다시 예전의 관계를 회복하고 싶은데 황제의 의중을 알 수가 없어 사신으로 하여금 이 편지를 올리게 하오.

- ① 남비엣을 정복하였다.
- ② 삼번의 난을 진압하였다.
- ③ 맹안·모극제를 실시하였다.
- ④ 북주와 북제 등으로부터 조공을 받았다.
- ⑤ 만리장성 이북의 초원 지대를 통합하였다.

11. 밑줄 친 '이 막부'에 대한 옳은 설명을 <보기>에서 고른 것은? [3점]



나가사키의 데지마는 바다를 매립하여 만든 인공섬이다. 이곳은 크리스티교포교 금지와 쇄국 정책을 실시했던 이 막부가 제한적으로 외부 문물의 유입을 허용한 대외 교역 장소였다. 데지마를 통하여 들어온 서양 문물로 인해 난학이 발전하게 되었다.

< 보기 >

- ㄱ. 류큐를 병합하여 오키나와 현을 설치하였다.
- ㄴ. 중국과 조공·책봉 관계를 맺어 문물을 수용하였다.
- ㄷ. 산킨고타이 제도를 통해 전국의 다이묘를 통제하였다.
- ㄹ. 조선과의 우호 관계를 회복하고 통신사 파견을 요청하였다.


- ① ㄱ, ㄴ ② ㄱ, ㄷ ③ ㄴ, ㄷ
- ④ ㄴ, ㄹ ⑤ ㄷ, ㄹ

12. 자료는 어떤 왕조의 경제를 주제로 한 가상 잡지이다. 이 왕조의 국제 교류에 대한 설명으로 옳은 것은?

특집 기획

도시의 발달로 보는 왕조의 경제

이 왕조 시기에는 점성도가 도입되고 이모작의 발달로 인해 농업 생산력이 증대되었으며, 상공업이 발달하여 교자, 화자 등의 지폐가 유통되었다. 이 과정에서 경제 중심지로 성장한 대표적인 도시를 통해 당시의 경제를 조명하고자 한다.



< 청명상하도 >

- 특집1 상업의 중심지, 카이펑
- 특집2 도자기 제조의 중심지, 징더전

- ① 일본에 동전을 수출하였다.
- ② 청해진을 통해 주변국과 교류하였다.
- ③ 감합이라는 무역 허가증을 발행하였다.
- ④ 비단길을 장악하여 교역로로 활용하였다.
- ⑤ 정화의 원정을 통해 조공 무역을 확대하였다.

13. 다음 상황이 나타난 시기를 연표에서 옳게 고른 것은? [3점]

마오쩌둥은 중국이 직면한 공업과 농업의 문제를 한꺼번에 해결하고자 '대약진 운동'을 제창하였다. 이에 따라 공업 부문에서는 각지에 소형 용광로를 만들어 철강 증산을 꾀하였고, 농업 부문에서는 농민을 인민공사로 조직화하여 농업 집단화를 통한 생산력 증대를 도모하였다. 하지만 철강의 품질이 좋지 않아 쓸모가 없었고, 자연 재해가 겹쳐 농업 생산량도 급감하여 실패로 끝났다.

	(가)	(나)	(다)	(라)	(마)
공산당 창당	제1차 국공합작	제2차 국공합작	국공내전 발발	문화 대혁명	텐안먼 사건
① (가)	② (나)	③ (다)	④ (라)	⑤ (마)	

14. (가)에 들어갈 내용으로 적절하지 않은 것은?

다큐멘터리 제목: 새로운 문화가 등장하다

■ 기획 의도

17~19세기 상품 화폐 경제의 성장 등 서민 문화의 발달 배경을 알아보고, 동아시아에서 이러한 문화가 나타난 각국의 사례에 대해 보여주고자 한다.

■ 구성

- 1부: 문화 발달의 배경
 - 경지 면적의 확대와 농업 생산력의 향상
 - 시진, 장시, 조카마치의 발달
- 2부: 동아시아 각국의 사례

(가)

- ① 홍루몽 저술 ② 가부키 공연
- ③ 대월사기 편찬 ④ 우키요에 제작
- ⑤ 판소리 춘향가 공연

15. (가), (나) 조약에 대한 설명으로 옳지 않은 것은? [3점]

(가) 제2조 영국인이 가족이나 하인을 데리고 광저우, 아모이, 푸저우, 닝보, 상하이에서 박해나 구속을 받지 않고 상업에 종사하기 위해 자유롭게 거주하는 것을 보장한다.

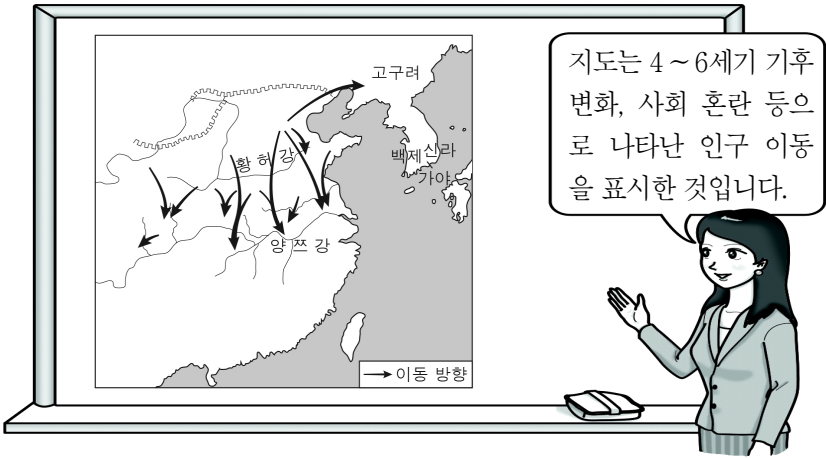
제3조 청은 영국에 홍콩을 할양하고, 영국은 적당하다고 인정하는 법률로 통치한다.

(나) 제3조 시모다 항구 외에 다음 장소를 아래의 기한에 개항할 것. 가나가와, 나가사키, 니가타, 효고 등

제6조 일본에 대해 범죄를 저지른 미국인은 미국 영사 재판소에서 조사하여 미국의 법으로 처벌한다.

- ① (가)로 청의 공행 무역이 폐지되었다.
- ② (가)로 인해 청은 관세 자주권을 상실하였다.
- ③ (나)는 메이지 정부 시기에 체결된 것이다.
- ④ (나)는 미국이 화친 조약 체결 후 자유 무역을 요구함으로써 맺어졌다.
- ⑤ (가), (나)는 불평등한 조약이다.

16. 다음 인구 이동의 결과 나타난 사실로 옳은 것은?



- ① 한반도에 목화가 전파되었다.
- ② 옥수수, 고구마의 재배 지역이 확대되었다.
- ③ 화북 지역에 철제 농기구와 우경이 도입되었다.
- ④ 중원 지역의 농업 기술이 강남 지역에 전파되었다.
- ⑤ 양쯔 강 중·상류 지역이 쌀 생산의 중심지가 되었다.

17. 다음을 통해 알 수 있는 시기에 동아시아에서 볼 수 있는 모습으로 적절하지 않은 것은? [3점]

<금별리(今別離)>

옛날에도 산천은 있었고,
수레와 배가 있었지.
수레와 배는 이별을 싣고,
마음대로 가다 멈추었네.
이제는 화륜선과 기차가
함께 이별의 슬픔을 만들지.
짧은 순간임을 알지만 연연
하도록 허락지 않네.
시계 소리 울리면 잠시도
머물지 않는다네.

- 작품 해설 -

황준셴이 지은 이 시는 화륜선, 기차, 시계 등의 서양 문물을 소재로 하여 이별을 노래하고 있다. 작자가 활동하던 당시 중국은 조계지를 통해 서구 문물이 유입되면서 사회 전반에 걸쳐 변화가 나타났다.

- ① 신문 광고를 읽고 있는 상인
- ② 만민 공동회에 참여하는 청년
- ③ 관여만국전도를 제작하는 학자
- ④ 근대식 학교에서 수업을 받는 여학생
- ⑤ 사회진화론의 수용을 주장하는 지식인

18. 다음을 통해 알 수 있는 전쟁이 동아시아 각국에 끼친 영향으로 옳은 것은?

청군은 인조에게 남한산성에서 나올 것을 독촉하였다. 홍서봉 등이 적진을 왕복하며 화의 조건을 교섭하고, 청 진영에서도 사신을 보내 조건을 제시하였다. 이러한 상황에서 인조는 청과 군신의 의를 맺을 것, 명의 연호를 버리고 명과의 국교를 끊을 것, 명으로부터 받은 고명(誥命)과 책인(冊印)을 청에 바칠 것, 매년 한 차례 조공을 바칠 것 등에 합의하였다.

- ① 일본에 조총이 전래되었다.
- ② 조선에서는 효종이 복벌을 계획하였다.
- ③ 베트남에서는 쩌 왕조가 멸망하고 레 왕조가 개창되었다.
- ④ 일본에서는 도요토미 히데요시가 전국 시대를 통일하였다.
- ⑤ 중국에서는 누르하치가 라오둥을 제외한 만주 전역을 지배하였다.

19. 다음은 어떤 나라의 불교를 주제로 한 학습지이다. (가)에 들어갈 내용으로 적절한 것은? [3점]

동아시아사 학습지

학년 반 번 이름

□ 불교의 특징

1. 전통 신앙과 불교의 융합

하지만 신궁에 최승왕경(最勝王經), 법화경(法華經) 각 1부를 바쳤다. 그리고 삼층탑 1기를 만들고 예배하였다.

⇒ 해설: 자료는 신도의 신인 하치만에게 불경과 탑을 바치는 내용이다. 이는 불교가 수용되어 신도와 융합되는 사례 중의 하나이다.

2. 지역적 특성이 반영된 불교 조형 미술

⇒ 사례: _____ (가)

- ① 반구형 모양의 산치 대탑을 건축하였다.
- ② 나무를 이용하여 호류사 5층탑을 만들었다.
- ③ 황제의 모습을 형상화한 원강 석불을 조성하였다.
- ④ 화강암을 이용하여 목탑 양식인 미륵사지탑을 만들었다.
- ⑤ 불경과 불상을 보존하기 위해 벽돌로 대안탑을 건축하였다.

20. 자료의 헌법 조항이 제정된 배경으로 가장 적절한 것은? [3점]

○ ○ 신 문 ○ ○ ○ ○ ○ ○ ○ ○ ○ ○

평화 헌법의 정신을 유지하기 희망한다

<제9조>

일본 국민은 ... (중략) ... 전쟁과 무력을 통한 위협과 무력의 행사를 국제 분쟁을 해결하기 위한 수단으로서는 영구히 포기한다. 이와 같은 목적을 달성하기 위해 육·해·공군 및 기타의 전력을 보유하지 않는다.

최근 일본에서는 집단적 자위권 행사의 해석에 대한 논란이 일어나고 있다. 일본국 헌법의 제9조에서는 군사력을 보유하지 않을 것과 전쟁 포기를 규정하고 있다. 따라서 이 조항을 확대 해석하여 다른 나라를 지키기 위해 집단적 자위권을 행사할 수 있다고 하는 것은 헌법의 정신을 위배하는 위험한 발상이다.

- ① 제2차 세계 대전에서 일본이 패배하였다.
- ② 하급 무사들이 존왕양이 운동을 일으켰다.
- ③ 사회주의 국가의 몰락으로 냉전 체제가 붕괴되었다.
- ④ 워싱턴 회의가 개최되어 일본의 군함 보유량이 제한되었다.
- ⑤ 서양식 입헌 제도 도입을 요구하는 자유 민권 운동이 일어났다.

※ 확인사항
문제지와 답안지의 해당란을 정확히 기입(표기)했는지 확인하십시오.