
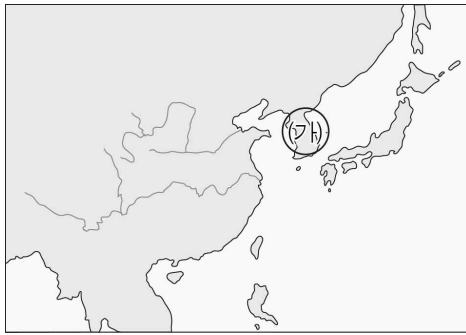


제 4 교시

사회탐구 영역(동아시아사)

성명 수험번호 2

1. (가) 지역에서 선사 시대에 주로 사용되던 토기로 옳은 것은?



2. (가) 국가에 대한 설명으로 옳은 것은? [3점]

- 화친 협약 -

- 한의 공주를 (가)의 선우에게 의무적으로 출가시킨다.
- 한은 매년 술, 비단, 곡물을 포함한 일정량의 공물을 (가)에 바친다.
- 양국은 형제의 맹약을 맺는다.
- 만리장성을 경계로 양국이 서로 상대의 영토를 침범하지 않는다.

- ① 풍응우연 문화를 발전시켰다.
- ② 만주 송화 강 일대에서 건국되었다.
- ③ 야마타이 국에 철기 문화를 전파하였다.
- ④ 고조선을 무너뜨리고 군현을 설치하였다.
- ⑤ 기마 전술을 앞세워 초원 지대를 통일하였다.

3. 선생님의 질문에 대한 학생들의 답변으로 적절한 것은?



- ① 베트남 지역에서 발굴되었습니다.
- ② 종 모양의 동탁과 함께 발견되었습니다.
- ③ 고인돌 유적에서 겨문거리로 나왔습니다.
- ④ 유목 민족이 전투용으로 사용하였습니다.
- ⑤ 야요이 문화의 영향을 받아 만들어졌습니다.

4. 다음 자료에 대한 학생들의 발표 내용으로 적절한 것을 <보기>에서 고른 것은? [3점]

○ 주인이 부곡*을 구타하여 죽였다면 도형 1년에 처한다. 고의로 죽였다면 한 단계 높여 처벌한다.

○ 부곡이나 노비가 과실로 주인을 죽였다면 교수형에 처한다. 과실로 상처를 입혔거나 욕하였다면 유형에 처한다.

○ 조부모나 부모에게 욕하였다면 교수형에 처한다. 구타하였다면 참수형에 처한다. 과실로 죽였다면 유형 3천 리에 처한다.

- 『당률소』 -

* 부곡: 양민과 노비 사이에 있는 상급 천민

< 보 기 >

갑: 율령 중 영(令)에 해당되는 것이에요.

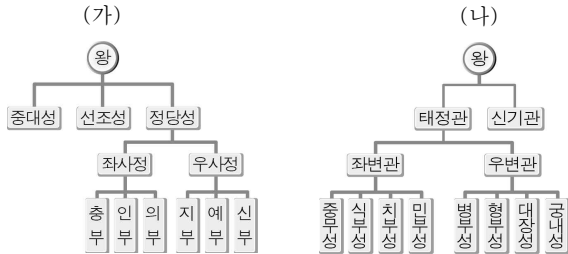
을: 동일한 범죄라도 주인과 노비에 대한 형량이 달랐어요.

병: 유교 윤리를 위반한 범죄자는 더 엄격히 처벌하였어요.

정: 고의와 과실에 의한 범죄를 구분하지 않고 처벌하였어요.

- ① 갑, 을 ② 갑, 병 ③ 을, 병
- ④ 을, 정 ⑤ 병, 정

5. (가), (나) 관제에 대한 설명으로 옳은 것은?



- ① (가) - 도가 사상의 이상을 구현하였다.
- ② (가) - 다이호 율령에 따라 정비되었다.
- ③ (나) - 헤이안 시대에 도입되었다.
- ④ (나) - 고려의 중앙 관제에 영향을 주었다.
- ⑤ (가), (나) - 당의 관제를 수용했으나 자국의 독자성을 보였다.

6. (가) 학문에 대한 옳은 설명을 <보기>에서 고른 것은? [3점]

성균관을 증수하고 이색을 판개성부사 겸 성균관 대사성으로 임명하였으며, 생원을 증원하고 경학(經學) 학자인 김구용, 정몽주 등을 선발해 교관을 겸임하게 하였다. 이색은 학칙을 변경하여 매일 명륜당에서 경서를 나누어 수업하고, 강의를 마친 후에 학생들과 더불어 토론하였다. **[가]**은/는 이때부터 흥기하였다.

- 『고려사』 -

- < 보 기 >
- ㄱ. 나라 시대에 일본에 도입되었다.
 - ㄴ. 송 대 중화사상 강화에 기여하였다.
 - ㄷ. 조선 양반층의 생활 윤리로 자리 잡았다.
 - ㄹ. 명 때에는 지행합일의 구체적인 실천을 중시하였다.

- ① ㄱ, ㄴ ② ㄱ, ㄷ ③ ㄴ, ㄷ ④ ㄴ, ㄹ ⑤ ㄷ, ㄹ

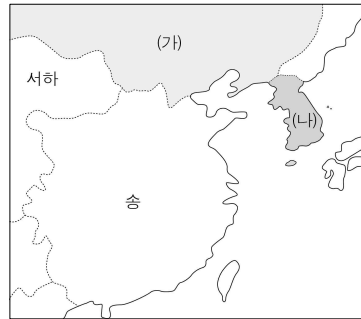
7. 다음 자료에 나타난 인구 이동의 결과로 옳은 것은?

○ 진(晉)이 혼란에 빠졌을 때 원제를 따라서 양쯔 강을 건너 낙양(洛陽) 사람들이 천여 호였다.

○ 진(晉) 영가 연간에 사회가 크게 어지러워져 ... (중략) ... 회수(淮水) 이북 유민(流民)들이 강을 건너고, 또한 양쯔 강을 건너서 진릉군의 경계에 머무는 자들이 있었다.

- ① 돌궐이 당에 복속되었다.
- ② 가마쿠라 막부가 무너졌다.
- ③ 주의 봉건제가 붕괴되기 시작하였다.
- ④ 부여족의 일부가 남하하여 고구려를 세웠다.
- ⑤ 중원 지역의 농업 기술이 강남 지역에 전파되었다.

8. (가), (나) 국가에 대한 설명으로 옳은 것은? [3점]



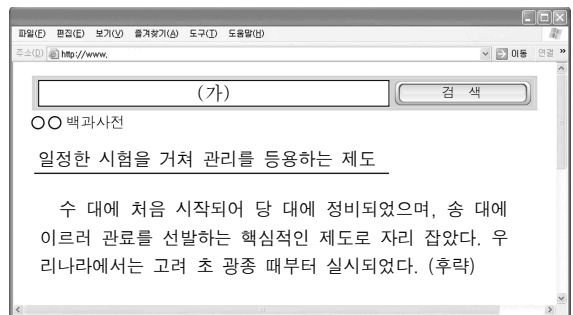
- ① (가) - 송을 멸망시켰다.
- ② (가) - 맹안·모극제를 실시하였다.
- ③ (가) - (나)를 여러 차례 침공하였다.
- ④ (나) - 랴오둥 지역을 차지하였다.
- ⑤ (나) - 송과 연합하여 (가)를 공격하였다.

9. 다음 전투가 일어난 배경으로 옳은 것은?

당의 장수가 170척의 전함을 이끌고 백강에 진을 쳤다. ... (중략) ... 백제의 부여 풍과 왜의 장수가 기상을 살피지 않고 “우리가 선제 공격을 하면 당군이 물러날 것이다.”라고 말하였다. 이후 전열을 가다듬지 않은 채 당군을 공격하였으나, 당군의 포위 공격을 받아 눈 깜짝할 사이에 패하고 말았다. ... (중략) ... 부여 풍은 몇 사람과 배를 타고 고구려로 도망갔다.

- ① 일본에서 헤이조쿄가 건설되었다.
- ② 고구려가 한강 유역을 차지하였다.
- ③ 나·당 연합군이 백제를 멸망시켰다.
- ④ 당이 주변 국가에 화번 공주를 보냈다.
- ⑤ 신라가 고구려 유민과 함께 당에 맞서 싸웠다.

10. (가) 제도에 대한 설명으로 옳지 않은 것은? [3점]



- ① 조선에서는 관직 진출의 주요 통로였다.
- ② 송의 사대부 계층 성장에 영향을 주었다.
- ③ 리 왕조의 교육 기관 확대에 공헌하였다.
- ④ 예도 막부 시기의 주된 인재 등용 제도였다.
- ⑤ 동아시아 사회의 독서인층 증가에 기여하였다.

[동아시아사] 사회탐구 영역

3

11. (가)~(다) 시기 동아시아 삼국에서 공통적으로 나타난 사실로 옳은 것은?

<동아시아 삼국의 역사 연표>



- ① 이앙법으로 벼농사를 지었다.
- ② 지주 전호제가 일반화되었다.
- ③ 목화 재배가 전국적으로 확대되었다.
- ④ 철제 농기구를 사용하기 시작하였다.
- ⑤ 우경이 시작되어 생산력이 증가하였다.

12. (가)에 들어갈 내용으로 가장 적절한 것은?

왕실에 불교가 전해졌지만 곧바로 공식적으로 수용된 것은 아니었다. 기존 토착 신앙을 중시하는 일부 귀족들이 불교의 수용을 거부하였기 때문이었다. 처음에는 한반도 등에서 건너온 사람들을 중심으로 개인적 차원에서 불교를 믿었으나, 점차 불교를 믿는 사람들이 늘어났다. 특히 한반도 출신의 도왜인(도래인)들과 긴밀한 관계를 맺고 있던 소가 [蘇我] 씨가 불교를 적극적으로 후원하고, 왕실도 불교에 우호적인 태도를 보였다. 그리하여 (가)

- ① 벽돌을 사용한 탑이 주로 만들어졌다.
- ② 아스카 지역에 많은 사찰이 세워졌다.
- ③ 둔황·원강 석굴 사원 등이 만들어졌다.
- ④ 원효의 노력에 힘입어 불교가 대중화되었다.
- ⑤ 불교가 산신, 칠성 등의 토착 신앙과 융합되었다.

13. (가) 제국에서 있었던 동서 교류에 대한 탐구 활동으로 가장 적절한 것은? [3점]



- ① 혜초가 쓴 기행문을 살펴본다.
- ② 장보고의 해상 활동을 조사한다.
- ③ 현장의 인도 순례 경로를 찾아본다.
- ④ 마르코 폴로의 『동방견문록』을 분석한다.
- ⑤ 정화의 남해 항해가 추진된 배경을 파악한다.

14. 다음 연보의 인물이 활동하던 시기의 동아시아 정세에 대한 옳은 설명을 <보기>에서 고른 것은? [3점]

- 1세 : 이찬 김용춘의 아들로 태어남
- 40세 : 대야성 전투 이후 고구려에 동맹을 요청하려 함
- 45세 : 왜에 건너가 외교 관계를 모색함
- 46세 : 당에 건너가 태종으로부터 군사 원조를 약속 받음
- 52세 : 상대등 알천 등의 추대로 왕위에 오름
- 58세 : 당과 연합하여 백제를 멸망시킴
- 59세 : 고구려 정벌을 독려하던 중 죽음

< 보 기 >

- ㄱ. 왜 - 야마토 정권이 성립되었다.
- ㄴ. 고구려 - 당의 침입을 여러 차례 물리쳤다.
- ㄷ. 당 - 주변국에 조공·책봉 관계를 요구하였다.
- ㄹ. 신라 - 고구려의 지원을 받아 가야·왜 연합군을 물리쳤다.

- ① ㄱ, ㄴ ② ㄱ, ㄷ ③ ㄴ, ㄷ ④ ㄴ, ㄹ ⑤ ㄷ, ㄹ

15. 다음 황제의 대외 활동으로 옳은 것은?



- ① 흉노를 공격하여 북쪽으로 몰아냈다.
- ② 요와 맹약을 맺고 막대한 세폐를 바쳤다.
- ③ 쑥궤·쑥니 자매의 독립운동을 진압하였다.
- ④ 유목 민족의 침입에 대비해 만리장성을 축조하였다.
- ⑤ 반랑 국을 공략하여 베트남 북부까지 영토를 확장하였다.

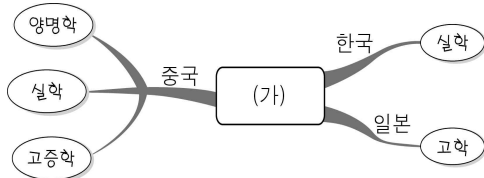
16. 밑줄 친 '그'의 집권 시기 동아시아의 상황으로 옳은 것은? [3점]

○ 그는 오랑캐의 복장을 하고 동쪽으로 패수를 건너 망명하여 준왕에게 항복하였다. ...**(중략)**... 준왕은 백 리의 땅을 주어 서쪽 변경을 지키게 하였다. ...**(중략)**... 오히려 준왕을 공격하였다. 준왕은 **그**와 싸웠으나 상대가 되지 못하였다. - 『삼국지』 -

○ 그가 왕이 되어 왕검성에 도움하였을 때는 마침 천하가 안정된 무렵이었다. ...**(중략)**... 그는 왕위를 아들에게 전하였고 손자 우거에게까지 전해졌다. ...**(중략)**... 진국(辰國)이 글을 올려 천자를 보고자 해도 가로막아 통하지 못하게 하였다. - 『사기』 -

- ① 왜가 다이카 개신을 추진하였다.
- ② 고구려가 수의 침략을 물리쳤다.
- ③ 주가 이민족의 침입을 받아 수도를 옮겼다.
- ④ 베트남의 응오 왕조가 당의 지배에서 벗어나 독립하였다.
- ⑤ 고조선이 한과 한반도 남부 사이에서 중계 무역을 하였다.

17. 다음은 동아시아사 수업 시간에 작성한 마인드맵이다. (가)에 들어갈 내용으로 가장 적절한 것은?



- ① 불교의 장려
- ② 훈고학의 확산
- ③ 법가 사상의 채택
- ④ 청담 사상의 유행
- ⑤ 성리학에 대한 비판

18. (가) 왕조 시기의 동아시아 교류 상황에 대한 탐구 활동으로 적절한 것을 <보기>에서 고른 것은? [3점]

당시 아시아의 여러 나라에서 시작된 길은 **(가)**의 수도 장안으로 향하고 있었다. 5m 이상의 높은 성벽으로 둘러싸인 장안성은 남북 11개, 동서 14개의 도로에 의해 110개의 방(坊)으로 나누어졌다. 황제가 거주하는 황성 앞에는 폭 147m의 주작 대로가 있었다. 한편 **(가)**에서는 이슬람교, 마니교, 경교, 조로아스터교 등의 다양한 종교가 유행하였다.

< 보 기 >

ㄱ. 무령왕릉의 무덤 양식을 알아본다.
 ㄴ. 엔닌이 저술한 여행기를 살펴본다.
 ㄷ. 일본에 벼농사가 도입된 경로를 파악한다.
 ㄹ. 빈공과에 합격한 사람들의 국적을 조사한다.

- ① ㄱ, ㄴ ② ㄱ, ㄷ ③ ㄴ, ㄷ ④ ㄴ, ㄹ ⑤ ㄷ, ㄹ

19. (가) 국가의 국제 교류에 대한 설명으로 옳은 것은? [3점]



- ① 일본에 동전을 수출하였다.
- ② 청해진을 통해 주변국과 교류하였다.
- ③ 감합이라는 무역 허가증을 발행하였다.
- ④ 비단길을 장악하여 교역로로 활용하였다.
- ⑤ 왜구의 노략질이 심해지자 대외 무역을 통제하였다.

20. (가), (나) 세력에 대한 옳은 설명을 <보기>에서 고른 것은?

○ 정중부 등이 차별 대우에 불만을 품고 정변을 일으켜 권력을 잡았다. 이로부터 고려 조정이 개경으로 환도할 때까지의 100여 년 동안 **(가)**이 정권을 장악하였다.

○ 미나모토노 요리토모가 막부를 세우고 정이대장군의 직함을 받았다. 이때부터 **(나)**이 19세기 중반까지 지배층으로서의 역할을 하였다.

< 보 기 >

ㄱ. (가) - 몽골의 침략에 맞서 항쟁을 주도하였다.
 ㄴ. (나) - 절도사가 되어 변경 방어를 담당하였다.
 ㄷ. (가), (나) - 실질적인 최고 통치자를 배출하였다.
 ㄹ. (가), (나) - 문치주의 정책의 실시로 세력이 강화되었다.

- ① ㄱ, ㄴ ② ㄱ, ㄷ ③ ㄴ, ㄷ ④ ㄴ, ㄹ ⑤ ㄷ, ㄹ

※ 확인 사항

○ 답안지의 해당란에 필요한 내용을 정확히 기입(표기)했는지 확인하십시오.