



6. 다음을 통해 알 수 있는 왕조의 경제 상황으로 옳지 않은 것은?

○ 하늘에는 천당이 있고, 땅 아래에는 쭈저우와 항저우가 있네.  
쭈저우와 후저우에 곡식이 여물면, 천하를 배부르게 할 수 있  
다네. - 『오군지』 -

○ 변경 지역에 유통되는 화폐가 없어 상인들은 식량과 약초를 가  
지고 들어가 유향과 소금으로 교환하였다. 그러나 교자의 도입  
으로 반드시 식량과 약초를 가지고 들어갈 필요가 없어졌다. - 『속자치통감장편』 -

- ① 감자, 고구마, 옥수수 등의 작물이 재배되었다.
- ② 점성도(조생종 벼)가 도입되고 이모작이 발달하였다.
- ③ 양쯔 강 하류 지역이 개간되어 농업 중심지로 성장하였다.
- ④ 징더전에서 생산된 도자기가 고려, 일본 등지로 수출되었다.
- ⑤ 구리 가격이 상대적으로 낮아 동전이 동아시아 국가에 유통되었다.

7. 다음 편지가 작성된 당시의 동아시아 문화에 대한 설명으로 옳은 것은? [3점]

따사로운 봄이 한창입니다. 앞드려 바라옵건대 청해진에 계신 장  
보고 대사님의 심신에 복이 깃들기를 비웁니다. 덕분에 부족한 이  
사람은 대사님께서 세우신 적산 법화원에 무사히 도착하여 잘  
머물고 있습니다. 감사하고 즐겁다는 말 이외에 달리 표현할 만  
한 말이 없습니다.

일본국 전등법사위 엔닌 올림

- ① 당에서 외래 종교가 유행하였다.
- ② 호류 사 5층 목탑이 건립되었다.
- ③ 백제에서 무령왕릉이 축조되었다.
- ④ 베트남에서 대월사기가 편찬되었다.
- ⑤ 북위에서 한족의 문화를 수용하였다.

8. (가), (나) 근대화 운동에 대한 설명으로 옳지 않은 것은? [3점]

(가) 김옥균, 박영효 등은 정부의 개화 정책이 후퇴하자 이에 불만을 품고 정변을 일으켰다. 이들은 청과 연결되어 있던 집권 세력을 제거하고 능력에 따른 인재 등용, 조세 제도의 개혁 등을 모색하였으나 3일 만에 실패하였다.

(나) Kang 유웨이, 량 치차오 등은 중국의 현실에 위기를 느끼며 전면적인 개혁을 주장하였다. 광서제에 의해 관직에 등용된 이들은 정치, 경제, 군사, 문화, 교육 등 여러 분야에서 개혁을 추진하였으나 결국 100여 일 만에 막을 내려야 했다.

- ① (가) - 텐진 조약 체결의 계기가 되었다.
- ② (가) - 청·프 전쟁을 배경으로 일어났다.
- ③ (나) - 보수파 관료의 반발을 초래하였다.
- ④ (나) - 잡지 신청년을 통해 유교를 비판하였다.
- ⑤ (가), (나) - 메이지 유신을 근대화의 모델로 삼았다.

9. 자료의 (가), (나) 두 사절단의 공통점으로 옳은 것은?

사진과 그림으로 보는 동아시아사

(가)



일본은 이와쿠라 도모미를 특명 전권 대사로 임명하여 1871년에 사절단을 파견하였다. 총 인원 48명으로 메이지 정부의 주요 인사들이 포함되었다.

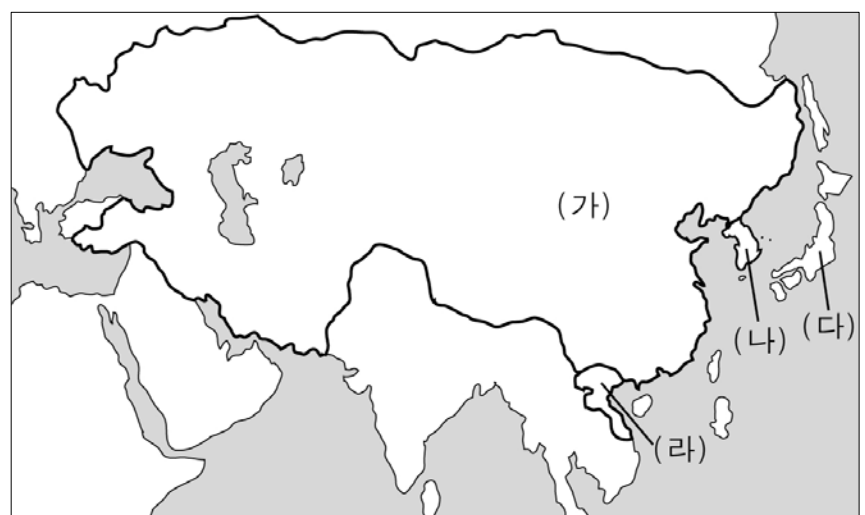
(나)



조선은 김기수를 수신정사로 임명하여 1876년에 1차로 사절단을 파견하였다. 1880년에 김홍집을 2차 사절단으로 파견하였다.

- ① 중국에 파견되었다.
- ② 정기적으로 파견되었다.
- ③ 근대 문물을 시찰하였다.
- ④ 상대국과 통상 조약을 체결하였다.
- ⑤ 동유 운동의 과정에서 파견되었다.

10. 지도는 13세기 동아시아의 형세를 나타낸 것이다. (가) ~ (라) 국가에 대한 옳은 설명을 <보기>에서 고른 것은? [3점]



〈 보 기 〉

ㄱ. (가)는 발해를 멸망시키고, 연운 16주를 차지하였다.  
 ㄴ. (나)는 (가)로부터 강동 6주를 확보하였다.  
 ㄷ. (다)는 (가), (나) 연합군의 침략을 막아냈다.  
 ㄹ. (라)는 쩌 흥 다오의 활약으로 (가)의 침략을 물리쳤다.

- ① ㄱ, ㄴ
- ② ㄱ, ㄷ
- ③ ㄴ, ㄷ
- ④ ㄴ, ㄹ
- ⑤ ㄷ, ㄹ

11. (가) 국가에 대한 설명으로 옳은 것은? [3점]

**오르도스 지역 유물 특별전**



<황금 머리 장식>

○○ 박물관

이 황금 머리 장식은 1972년 오르도스 지역에서 발굴된 (가)의 유물로, 맹수와 독수리가 표현되어 있어 북방민족의 역동성을 느낄 수 있습니다. 이번 전시회는 만리장성이북의 초원 지대를 통합하고 한 고조와의 전투에서 승리할 정도로 강성했던 이들의 문화를 체험할 수 있는 기회가 될 것입니다.

- ① 짜에우 다에 의해 건국되었다.
- ② 균전제와 부병제를 실시하였다.
- ③ 반량전으로 화폐를 통일하였다.
- ④ 장건을 파견하여 비단길을 개척하였다.
- ⑤ 최고 통치자를 천자라는 뜻의 선우라고 불렀다.

12. 다음을 통해 알 수 있는 사상에 대한 설명으로 옳지 않은 것은?

세계에는 이(理)와 기(氣)가 있다. 이(理)는 형이상의 도(道)로서 물(物)을 낳는 근본이다. 기(氣)는 형이하의 기(器)로서 물(物)을 낳는 재료이다. 따라서 사람이나 물이 탄생될 때 이(理)를 받으므로 성(性)을 갖추고, 기(氣)를 받으므로 형(形)을 갖추는 것이다. - 『주자대전』 -

- ① 명에서 관학으로 수용되었다.
- ② 심즉리와 지행합일을 주장하였다.
- ③ 대의명분론과 화이관을 강조하였다.
- ④ 에도 막부의 제도 정비에 영향을 주었다.
- ⑤ 조선에서는 서원과 향약의 보급으로 더욱 확산되었다.

13. 그림의 대화를 통해 알 수 있는 전쟁의 결과로 옳은 것은?



- ① 만주국이 수립되었다.
- ② 일본이 타이완을 차지하였다.
- ③ 일본이 한국의 외교권을 박탈하였다.
- ④ 외국 군대의 베이징 주둔을 인정하였다.
- ⑤ 난징에서 일본군에 의해 대학살이 일어났다.

14. 다음을 바탕으로 당시 사회 상황을 적절하게 파악한 것을 <보기>에서 고른 것은?

- 양민이 타인의 부곡\*을 때려 상처를 입히거나 죽였다면 양민에게 죄를 지은 경우보다 한 단계를 낮추어 처벌한다. 노비에게 죄를 지으면 다시 한 단계를 낮춘다.
- 처를 때려 상처를 입혔다면 양민을 때린 죄보다 두 단계를 낮추어 처벌한다. 첩을 때려 상처를 입혔다면 처의 경우보다 두 단계를 낮춘다.
- 조부모나 부모에게 욕하였다면 교수형에 처하고, 구타하였다면 참수형에 처한다. 조부모나 부모가 가르침이나 명령을 위반한 자손을 구타하여 죽였다면 도형 1년 반에 처한다.

- 『당률소의』 -

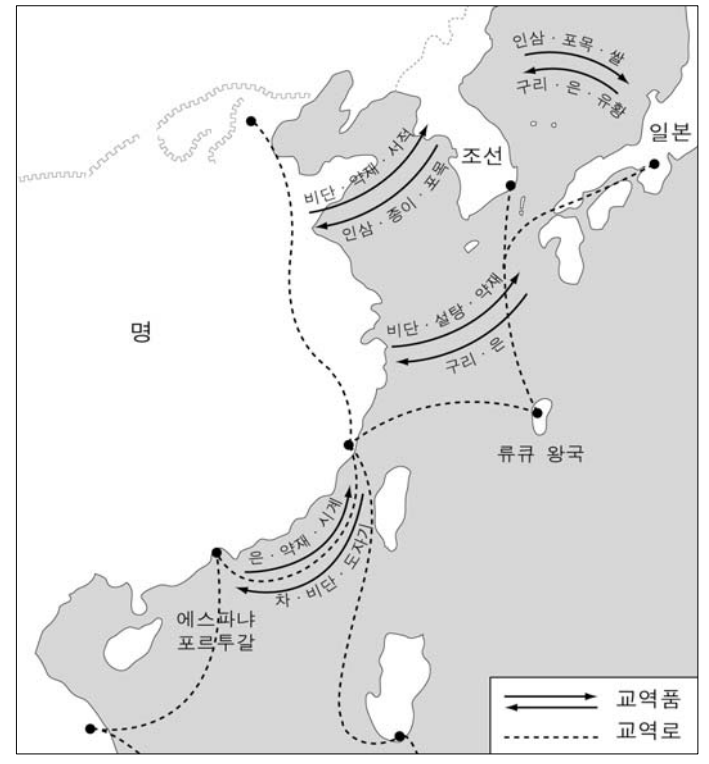
\* 부곡: 양민과 노비 사이에 있는 상급 천민

< 보기 >

- ㄱ. 모계 중심의 사회였다.
- ㄴ. 신분에 따른 차별이 존재하였다.
- ㄷ. 유교적 가족 윤리가 강조되었다.
- ㄹ. 남녀의 사회적 지위가 동등하였다.

- ① ㄱ, ㄴ                      ② ㄱ, ㄷ                      ③ ㄴ, ㄷ
- ④ ㄴ, ㄹ                      ⑤ ㄷ, ㄹ

15. 지도는 어느 시기 동아시아의 교역망을 나타낸 것이다. 이 시기의 동아시아 경제에 대한 설명으로 옳지 않은 것은? [3점]



- ① 일본에서는 은광 개발이 성행하였다.
- ② 류큐는 명과 일본 사이에서 중계 무역을 실시하였다.
- ③ 명에서는 다량의 은이 유입되어 화폐처럼 사용되었다.
- ④ 조선은 명과 조공 무역을 통해 인삼, 종이 등을 수출하였다.
- ⑤ 유럽 상인들이 판매하는 아편이 중국에 대량으로 유입되었다.

16. (가) 제도에 대한 옳은 설명을 <보기>에서 고른 것은? [3점]

강남 지역의 노현(路縣)에 각기 행정 기관에서 관리하는 토지와 곡식, 돈이 있었다. 여기에서 얻어지는 수입은 삼년에 한 번씩 실시하는 □(가)의 향시에 합격한 사람들이 다음 단계에 응시하는 데에 쓰이는 비용으로 사용되었다. - 「묘학전례」 -

< 보기 >

- ㄱ. 일본에서 사서집주가 보급되는 계기가 되었다.
- ㄴ. 베트남에서는 리 왕조 때에 처음으로 시행되었다.
- ㄷ. 송의 사대부들이 중앙 관직으로 진출하는 수단이었다.
- ㄹ. 고려에서 5품 이상 관리들의 자제들로 자격이 제한되었다.

- ① ㄱ, ㄴ                      ② ㄱ, ㄷ                      ③ ㄴ, ㄷ
- ④ ㄴ, ㄹ                      ⑤ ㄷ, ㄹ

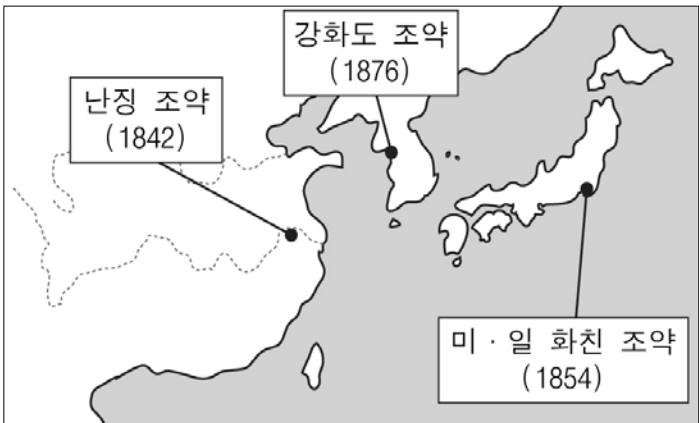
17. 다음 두 자료를 활용한 수업 주제로 가장 적절한 것은?

○ 일본은 이번 중국에 대한 전쟁을 동아시아 평화를 위해서라고 한다. 그러나 비행기와 대포로 중국 인민을 죽이고 중국 땅을 침범하고서 어떻게 그 목적을 실현할 수 있겠는가. 또한 일본의 수십 만 젊은 청년들을 희생시키는 것은 평화를 위한 일이 아니다.

○ 중·일 전쟁은 일본의 군부와 대자본가가 일으킨 정의롭지 못한 침략 전쟁이며, 우리 일본 병사의 목숨을 희생으로 하여 일본 인민의 생활을 위협하는 전쟁이다. 따라서 우리는 이 전쟁에 반대하며 일본군을 전 점령지에서 철퇴시키기 위해 노력할 것이다.

- ① 반전 사상의 확산                      ② 개화 정책의 추진
- ③ 존왕양이 운동의 전개                      ④ 전통 체제에 대한 반발
- ⑤ 민족 자결주의의 등장 배경

18. 지도에 표시된 조약의 공통점으로 옳은 것을 <보기>에서 고른 것은?



< 보기 >

- ㄱ. 불평등한 성격을 갖는다.
- ㄴ. 항구의 개항을 명시하였다.
- ㄷ. 배상금 지불을 규정하였다.
- ㄹ. 각국이 서양과 맺은 최초의 근대적 조약이다.

- ① ㄱ, ㄴ                      ② ㄱ, ㄷ                      ③ ㄴ, ㄷ
- ④ ㄴ, ㄹ                      ⑤ ㄷ, ㄹ

19. 다음을 통해 알 수 있는 시기에 나타난 동아시아의 경제 상황으로 옳지 않은 것은? [3점]

**동아시아사 신문** 00년 00월 00일

**동아시아에서 도시화가 진전되다**

활기찬 동아시아, 그 현장 취재!

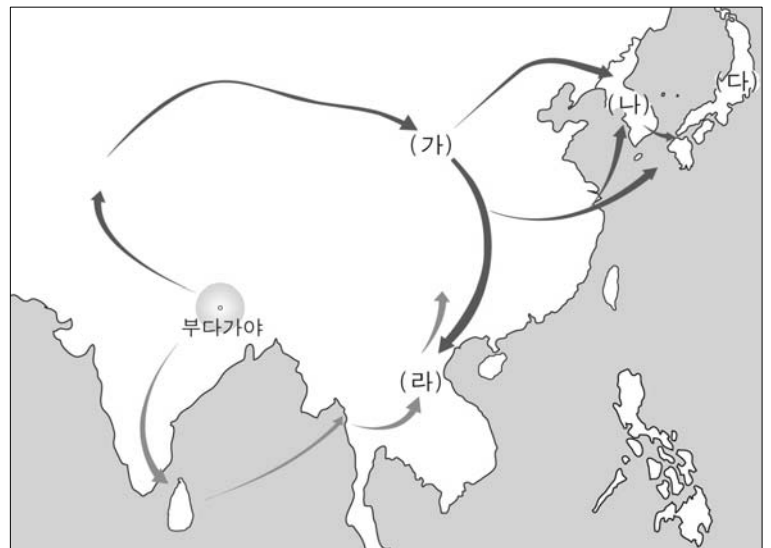


이 시기 동아시아는 인구의 급격한 증가와 상업의 발달로 도시에 많은 사람들이 모여들었다. 두 차례 전쟁의 폐허를 딛고 일어난 조선은 이양법의 확산 등 농업 기술이 발전하면서 인구가 급증하였고, 수도인 한양에는 많은 사람들이 모여들었다. 중국의 경우 강남에서 생산된 곡물과 물자들이 베이징으로 끊임없이 운반되었고, 일본에서는 에도 막부가 들어서면서 조카마치를 중심으로 도시화가 급속하게 진행되었다. 베트남에서도 인구가 증가하며 도시가 발달하였다.

<조선의 장시>

- ① 조선에서는 대동법의 확산으로 상업이 발전하였다.
- ② 베트남에서는 호이 안에 여러 나라의 상인들이 모여들었다.
- ③ 중국에서는 화북과 강남을 연결하는 대운하가 건설되었다.
- ④ 조선, 중국, 일본에서는 상인들이 전국을 무대로 활약하였다.
- ⑤ 일본에서는 산킨고타이 제도로 인해 상업 유통망이 발달하였다.

20. 지도는 어느 종교의 동아시아 전파 경로를 나타낸 것이다. 이 종교가 전파되어 (가)~(라) 지역에서 나타난 사실로 옳은 것을 <보기>에서 고른 것은? [3점]



< 보기 >

- ㄱ. (가) - 원강, 룡먼 등지에 거대한 석굴 사원이 만들어졌다.
- ㄴ. (나) - 현장이 인도를 다녀와 대당서역기를 남겼다.
- ㄷ. (다) - 신도(신토)와 결합되어 신불습합 사상으로 발전하였다.
- ㄹ. (라) - 국가의 번영을 기원하며 도다이 사를 건립하였다.

- ① ㄱ, ㄴ                      ② ㄱ, ㄷ                      ③ ㄴ, ㄷ
- ④ ㄴ, ㄹ                      ⑤ ㄷ, ㄹ

**※ 확인사항**  
문제지와 답안지의 해당란을 정확히 기입(표기)했는지 확인하십시오.